


LYS 4

BRANŐ DENEMELERİ

TARİH - COĖRAFYA
PSİKOLOJİ - SOSYOLOJİ - MANTIK



körfez
YAYINLARI

İÇİNDEKİLER

Tarih Denemeleri

Tarih Deneme-1	7
Tarih Deneme-2	13
Tarih Deneme-3	19
Tarih Deneme-4	25
Tarih Deneme-5	31
Tarih Deneme-6	37
Tarih Deneme-7	43
Tarih Deneme-8	49
Tarih Deneme-9	55
Tarih Deneme-10	61
Tarih Deneme-11	67
Tarih Deneme-12	73


Coğrafya-2 Denemeleri

Coğrafya-2 Deneme-1	83
Geometri Deneme-2	87
Geometri Deneme-3	91
Geometri Deneme-4	95
Geometri Deneme-5	99
Geometri Deneme-6	103
Geometri Deneme-7	107
Geometri Deneme-8	111
Geometri Deneme-9	115
Geometri Deneme-10	119
Geometri Deneme-11	123
Geometri Deneme-12	127

Felsefe Grubu Denemeleri

Felsefe Deneme-1	133
Felsefe Deneme-2	139
Felsefe Deneme-3	145
Felsefe Deneme-4	151
Felsefe Deneme-5	157
Felsefe Deneme-6	163
Felsefe Deneme-7	169
Felsefe Deneme-8	175
Felsefe Deneme-9	181
Felsefe Deneme-10	187
Felsefe Deneme-11	193
Felsefe Deneme-12	199
Cevap Anahtarı	205

TARİH



LYS-4 TARİH BRANŞ DENEMESİ-1

Bu Testte;

Toplam 44 adet soru bulunmaktadır. Cevaplama Süresi 65 dakikadır.

1. Türklerin Anadolu'ya göç etmesinin sonuçları arasında,

- I. Türklerde denizcilik faaliyetlerinin başlaması,
- II. Türkler arasında yerleşik hayatın yaygınlaşması,
- III. Anadolu'da yeni devletlerin kurulması

gelişmelerinden hangileri yer alır?

- A) Yalnız I B) Yalnız II C) Yalnız III
D) I ve II E) I, II ve III

2. İtalya, Üçlü İttifak Grubu'na dahil olduğu halde Balkanlar ve Adriyatik Denizin'deki sorunlarından dolayı Avusturya ile karşı karşıya gelmiştir.

Bu durum I. Dünya Savaşı'nda aşağıdakilerden hangisine neden olmuştur?

- A) Avusturya'nın savaşta tarafsız kalmasına
B) Osmanlı Devleti'nin savaşa girmesine
C) Almanya'nın Fransa ile mücadeleye girmesine
D) İtalya'nın İtilaf devletleri yanında savaşa girmesine
E) Osmanlı Devleti'nin sınırları dışında savaşmasına

3. Osmanlı İmparatorluğu'nda,

- I. Sekban-ı Cedit ve Eşkinç ordularının düzenlenmesi
- II. Asakir-i Mansure-i Muhammediye ordusunun kurulması,
- III. Yaya ve Müsellem Ordusu'nun kurulması

gelişmelerinden hangileri Avrupa tarzında bir ordu kurmak amacını taşımaktadır?

- A) Yalnız I B) Yalnız II C) Yalnız III
D) I ve II E) I, II ve III

4. 13. yüzyılda Moğol istilasından kaçan Türkmenlerin birçoğu Anadolu'nun Türkleşmesinde etkili olmuştur.

Buna göre,

- I. Konya ve çevresinde kurulan Karamanoğulları
 - II. İzmir ve çevresinde kurulan Aydınöğulları
 - III. Kütahya ve çevresinde kurulan Germiyanoğulları
- beyliklerinden hangileri yukarıdaki yargıya örnek olarak gösterilebilir?**

- A) Yalnız I B) Yalnız II C) Yalnız III
D) I ve III E) I, II ve III

5. Büyük Selçuklularda "ikta" adıyla bilinen toprak sisteminin Osmanlı Devleti'ndeki karşılığı aşağıdakilerden hangisidir?

- A) Mülk Arazi B) Miri Arazi C) Dirlık
D) Ocaklık E) Paşmaklık

6. XVIII. yüzyılda Osmanlı Devleti,

- I. Kaybettiği yerleri geri alma
- II. Elinde bulunan toprakları koruma politikalarını uygulamıştır.

Bu politikaların oluşmasını sağlayan siyasi olayların doğru sıralaması aşağıdakilerden hangisinde verilmiştir?

- | | I | II |
|----|-----------|-----------|
| A) | Prut | Pasarofça |
| B) | Pasarofça | Belgrat |
| C) | Karlofça | Pasarofça |
| D) | Prut | Pasarofça |
| E) | Karlofça | Belgrat |

7. 5 Temmuz 1974'te Türkiye, Yunanistan ve İngiltere'nin katılımıyla Kıbrıs'ta barışın sağlanması, güvenlik bölgesinin kurulması ve iki otonom idarenin kabul edilmesi hangi gelişme ile sağlanmıştır?

- A) Londra Konferansı
B) Paris Antlaşması
C) Cenevre Konferansı
D) Zürih Antlaşması
E) Atina Antlaşması

8. Aşağıdakilerden hangisi İslam öncesi Türk devletlerinde devletin başında bulunan kişiye verilen ünvanlardan değildir?

- A) Kam
B) İdikut
C) Kağan
D) Han
E) Hakan

9. I. Müsadere usulünün kaldırılması
II. Resmi gazetenin çıkarılması
III. Yeniçeri Ocağı'nın kaldırılması

Yukarıda verilen II. Mahmut dönemi ıslahatlarından hangileri ile merkezi otoritenin artırılması amaçlanmıştır?

- A) Yalnız I
B) Yalnız II
C) Yalnız III
D) I ve II
E) II ve III

10. I. Toprağın mülkiyeti sipahiye aittir.
II. Toprağın ekilip biçilmesi köylünün sorumluluğundadır.
III. Sipahi köylünün güvenliğini ve düzeni sağlamalıdır.

Yukarıdakilerden hangisi Osmanlı Devleti'nde uygulanan Tımar sisteminin özelliklerindedir?

- A) Yalnız I
B) Yalnız II
C) Yalnız III
D) I ve III
E) II ve III

11. I. Koçi Bey Raporu'nun hazırlanması
II. İran'la Kasr-ı Şirin Antlaşması'nın imzalanması
III. İlk modern bütçenin hazırlanması

Yukarıdakilerden hangileri IV. Murat dönemi çalışmalarıdır?

- A) Yalnız I
B) Yalnız II
C) Yalnız III
D) I ve II
E) II ve III

12. Türk Tarihi'nde ilk medrese aşağıdakilerden hangisinin döneminde açılmıştır?

- A) Gazneliler
B) Memlükler
C) Karahanlılar
D) Büyük Selçuklular
E) Türkiye Selçukluları

13. 15. yüzyıldan itibaren kurulan Orta Asya Türk hanlıklarının ekonomik yönden zayıflamasının en önemli nedeni aşağıdakilerden hangisidir?

- A) Hanlıkların aralarındaki çekişmeler
B) İpek yolunun işlevini kaybetmesi
C) Osmanlı Devleti'nin zayıflaması
D) Rönesans hareketleri
E) Rusya'nın baskısı

14. Aşağıdakilerden hangisi, Haçlıların Türkleri Balkanlardan atmak amacı ile yaptığı mücadelelerden değildir?

- A) Sırpıncı Savaşı
B) I. Kosova Savaşı
C) Niğbolu Savaşı
D) Mohaç Savaşı
E) Varna Savaşı

15. Aşağıdakilerden hangisi Osmanlı Devleti'nin yıkılışı süreci olayları arasında gösterilemez?

- A) Mondros Mütarekesi
B) Mudanya Mütarekesi
C) Halifeliğin kaldırılması
D) Saltanatın kaldırılması
E) İstanbul'un resmen işgali

16. 20 Temmuz 1974 tarihinde Türkiye'nin gerçekleştirdiği Kıbrıs askeri harekati aşağıdaki hangi antlaşmaya dayandırılmıştır?

- A) Lozan Antlaşması
B) Garanti Antlaşması
C) Atina Antlaşması
D) Bükreş Antlaşması
E) Sevr Antlaşması

17. Osmanlı hükümdarı III. Selim,

- Fransa'dan yabancı uzmanlar getirmiş,
- Nizam-ı Cedid ordusunu kurmuş,
- Yerli malların kullanımını teşvik etmiştir.

Buna göre,

- I. Yerli sanayi korunmak istenmiştir.
II. Avrupa'nın bilim ve teknikte ilerlediği kabul edilmiştir.
III. Egemenlik anlayışının değiştirilmesi amaçlanmıştır.

yargılarından hangilerine ulaşamaz?

- A) Yalnız I
B) Yalnız II
C) Yalnız III
D) I ve II
E) I, II ve III

18. - Magna Charta
- Sened-i İttifak

Yukarıda yazılı olan, farklı zamanlarda meydana gelmiş olayların ortak özelliği aşağıdakilerden hangisidir?

- A) İlk kez hükümdarların yetkilerini kısıtlaması
B) Yöneticilerin seçimle işbaşına gelmesi
C) Cumhuriyetçi bir yönetime geçilmesi
D) Kanun üstünlüğünün benimsenmesi
E) Halkın ilk kez yönetime katılımı

19. Osmanlı tarihinin farklı devirlerinde meydana gelen aşağıdaki olaylardan hangisi uluslararası bir dış sorun haline gelmemiştir?

- A) Kavalalı Mehmet Ali Paşa Olayı
B) Kabakçı Mustafa İsyanı
C) Ege Adaları Sorunu
D) Cem Sultan Olayı
E) Boğazlar Sorunu

20. Aşağıdaki Türk boylarından hangisinde Musevilik inancı görülmüştür?

- A) Hunlar
B) Hazarlar
C) Kıpçaklar
D) Avarlar
E) Peçenekler

21. Osmanlı Devleti'nde maaş ve toprak gelirleriyle geçimini sağlayan askeri gruplar aşağıdakilerden hangisinde verilmiştir?

- | Maaş | Toprak Geliri |
|----------------|---------------|
| A) Yeniçeriler | Cebeciler |
| B) Topçular | Ulufeciler |
| C) Yeniçeriler | Akıncılar |
| D) Ulufeciler | Cebeciler |
| E) Topçular | Yeniçeriler |

22. Aşağıdakilerden hangisi Osmanlı'da gerileme döneminin en kazançlı antlaşmasıdır?

- A) Belgrat Antlaşması
B) Pasarofça Antlaşması
C) Prut Antlaşması
D) Kasrı Şirin Antlaşması
E) Küçük Kaynarca Antlaşması

23. Rusya'ya kapitülasyonların verilmesi ve kaldırılması aşağıdaki antlaşmalardan hangileri ile olmuştur?

- A) Küçük Kaynarca - Moskova
B) Küçük Kaynarca - Lozan
C) İstanbul - Moskova
D) Prut - Küçük Kaynarca
E) Yaş - Lozan

24. Aşağıdakilerden hangisi II. Dünya Savaşı'nın sonuçları arasında gösterilemez?

- A) Sömürgecilik büyük ölçüde sona erdi.
B) Milletler Cemiyeti kuruldu.
C) Varşova Paktı kuruldu.
D) Almanya ikiye ayrıldı.
E) İsrail Devleti kuruldu.

25. I. Avrupa'nın teknik gelişiminin başlaması

- II. Avrupa'da millî devletlerin kurulması
III. Derebeylik rejiminin zayıflaması

Yukarıdaki gelişmelerden hangilerinde Haçlı Seferleri'nin etkisinden söz edilebilir?

- A) Yalnız I B) Yalnız II C) Yalnız III
D) I ve II E) I ve III

26. XVII. yüzyılda toprakların ayan ve eşraf denilen kişilerin eline geçmesinin öncelikli nedeni aşağıdakilerden hangisidir?

- A) Devletin toprakları ayanlara satması
B) Tımar sisteminin bozulması
C) Halkın ayan ve eşraflarla işbirliği yapması
D) Ayanların devlet kademelerine yükselmesi
E) Sened-i İttifak'ın imzalanmış olması

27. I. Külliye
II. Kümbetler
III. Kervansaraylar

Yukarıdakilerden hangilerinin yapımı ticaretin geliştirilmesiyle ilgilidir?

- A) Yalnız I B) Yalnız II C) Yalnız III
D) I ve II E) II ve III

28. XIII. yüzyıl sonlarına doğru Anadolu'da Moğol baskısının zayıflaması üzerine sınırlara yerleştirilmiş Türkmen beyleri ve halk üzerindeki Selçuklu otoritesi de zayıflamıştır.

Bu durum,

- I. beyliklerin ortaya çıkmasına,
II. Anadolu'da Bizans hakimiyetinin sona ermesine,
III. Anadolu'da nüfusun azalmasına

gelişmelerinden hangisine neden olmuştur?

- A) Yalnız I B) Yalnız II C) Yalnız III
D) I ve II E) II ve III

29. İtilaf devletlerinin I. Dünya Savaşı sırasında gizli antlaşmalar yapmalarının nedenleri arasında aşağıdakilerden hangisi gösterilemez?

- A) Savaş sonrasında anlaşmazlık yaşamamak
B) Wilson Prensipleri'ne ters düşmemek
C) Savaşı dengeli bir şekilde sürdürmek
D) Savaşa yeni devletler katabilmek
E) Savaştan çekilmeleri önlemek

30. Aşağıdaki Duraklama dönemi devlet adamlarından hangisinin ıslahat ile ilgili belirli bir etkinliği görülmez?

- A) I. Ahmet
B) II. Osman
C) IV. Murat
D) II. Mustafa
E) Tarhuncu Ahmet Paşa

31. Osmanlı Devleti'nde Sırlara imtiyazlar veren ve bağımsızlıklarını kazanmalarını sağlayan antlaşmalar aşağıdakilerden hangisinde birlikte verilmiştir?

- A) Bükreş - Edirne
B) Edirne - Paris
C) Bükreş - Paris
D) Paris - Berlin
E) Bükreş - Berlin

32. Aşağıdakilerden hangisi Kavimler Göçü'nü başlatan en önemli nedendir?

- A) Çin baskısı
B) Nüfusun artması
C) İklimin kuraklaşması
D) Boylar arası mücadeleler
E) Cihan hakimiyeti düşüncesi

33. İngiltere'nin Osmanlı toprak bütünlüğünü savmaktan vazgeçip paylaşma projeleri içerisinde yer almaya başlaması aşağıdaki hangi olaydan sonra meydana gelmiştir?

- A) İngiltere'nin Mısır'ı işgal etmesi
B) Fransa'nın Cezayir'i işgal etmesi
C) Almanya'nın siyasi birliğini kurması
D) Düyun-ı Umumiye İdaresi'nin kurulması
E) Bosna - Hersek'in yönetiminin geçici olarak Avusturya'ya bırakılması

34. I. Adana Konferansı (1941)
II. Kahire Konferansı (1941)
III. Moskova Konferansı (1939)

Yukarıda verilen konferanslardan hangileri Türkiye'nin II. Dünya Savaşı'na katılması için düzenlenmiştir?

- A) Yalnız I B) Yalnız II C) Yalnız III
D) I ve II E) I, II ve III

35. 1945 Yalta Konferansı'ndan en kazançlı çıkan devlet aşağıdakilerden hangisidir?

- A) ABD B) İngiltere C) Fransa
D) SSCB E) Çin

36. II. Dünya Savaşı'nın bitişiyle bozulan düzeni yeniden sağlamak, devletlerin durumunu görüşmek için toplanan konferans aşağıdakilerden hangisidir?

- A) Yalta Konferansı B) Moskova Konferansı
C) Kahire Konferansı D) Tahran Konferansı
E) Potsdam Konferansı

37. Aşağıdakilerden hangisi Türkiye'de 1961 Anayasası ile oluşturulan bir kurumdur?

- A) YÖK
B) Anayasa Mahkemesi
C) Sivil Savunma Teşkilatı
D) Jandarma Teşkilatı
E) Köy Enstitüsü

38. I. Ulusal bağımsızlığın sağlanması
II. Siyasi partilerin kurulması
III. Bütün vatandaşlara oy kullanma hakkının tanınması

Bir ülkede demokratik bir yönetimin kurulabilmesi için yukarıdakilerden hangilerinin olması zorunludur?

- A) Yalnız I B) Yalnız II C) I ve III
D) II ve III E) I, II ve III

39. I. Helsinki Konferansı
II. Vietnam Savaşı
III. Kore Savaşı
IV. NATO'nun kuruluşu

Yukarıdaki olayların oluş sıralaması aşağıdakilerden hangisinde verilmiştir?

- A) IV-III-I-II B) IV-I-III-II
C) IV-III-II-I D) III-IV-I-II
E) III-IV-II-I

40. I. Yugoslavya
II. Afganistan
III. İran

Yukarıdakilerden hangileri Sadabat Pakti'nda yer alan devletlerdendir?

- A) Yalnız I B) Yalnız II C) Yalnız III
D) II ve III E) I, II ve III

41. Aşağıdaki devletlerden hangisi NATO'yu kuran ülkeler arasında yer almaz?

- A) Türkiye B) Danimarka C) İzlanda
D) Kanada E) İngiltere

42. Aşağıdakilerden hangisi II. Dünya Savaşı'nın siyasi sonuçları arasında gösterilemez?

- A) Emperyalist devletlerin sömürgeleri üzerindeki etkileri azaldı.
B) Japonya, ABD orduları tarafından işgal edildi.
C) Mağlup devletlerden İtalya ve Almanya'nın toprakları işgal edildi.
D) Birleşmiş Milletler Teşkilatı'nın temeli atıldı.
E) Dolar altın yerine kullanılabilen uluslararası para birimi oldu.

43. SSCB, egemenliği altındaki Türk milletleri üzerinde asimile siyaseti izlemiştir.

Aşağıdakilerden hangisi SSCB'nin asimile siyaseti ile ilgili bir gelişme değildir?

- A) Kitaplarda "Türkistan" isminin kullanılmasının yasaklanması
B) Türklerin Hıristiyanlaştırılmaya çalışması
C) Türkistan'ın beş ayrı parçaya bölünmesi
D) Türk toplulukları arasında boy duygularının öne çıkarılmaya çalışılması
E) Farklı lehçelerin kullanılmasının yaygınlaştırılması

44. Aşağıdakilerden hangisi Soğuk Savaş dönemi gelişmelerinden biri değildir?

- A) ABD ve Rusya'nın iki süper güç olması
B) Türkiye'nin Rusya tarafında yer alması
C) Dünya da politika alanının genişlemesi
D) Ekonominin uluslararası ilişkide temel unsur olması
E) İlk kez uluslararası politikaya ideoloji unsurunun girmesi

LYS-4 TARİH BRANŞ DENEMESİ-2

Bu Testte;

Toplam 44 adet soru bulunmaktadır. Cevaplama Süresi 65 dakikadır.

1. Moğol istilasının hızlanması ve Anadolu Selçuklu Devleti ile Moğolların karşı karşıya gelmesi hangi olay sonucunda gerçekleşmiştir?

- A) Pasinler Savaşı
B) Köseadağ Savaşı
C) Malazgirt Savaşı
D) Yassıçemen Savaşı
E) Dandanakan Savaşı

2. Birleşmiş Milletler Eğitim Bilim ve Kültür Örgütü hangisidir?

- A) FAO B) OIHP C) UNESCO
D) NATO E) ECO

3. Almanların Osmanlı Devleti'ni kendi yanlarında savaşa çekme nedenleri arasında,

- I. Halifeliğin gücünden yararlanmak,
II. savaşı daha geniş alanlara yaymak,
III. Osmanlı Devleti'nin teknolojik gücünden yararlanmak

amaçlarından hangileri gösterilebilir?

- A) Yalnız I B) Yalnız II C) Yalnız III
D) I ve II E) I, II ve III

4. - Sazlıdere Savaşı
- Malazgirt Savaşı

Yukarıdaki olayların ortak özelliği hangi seçenekte verilmiştir?

- A) Haçlı Seferleri'ne neden olmuştur.
B) Anadolu'da beyliklerin kurulmasını sağlamıştır.
C) Osmanlı Devleti döneminde meydana gelmiştir.
D) Türklerle Bulgarlar arasında meydana gelmiştir.
E) Rumeli'de fetihlerin başlamasına neden olmuştur.

5. Büyük Selçuklularda fethedilen ülkelerin bir kısmı, "ik-ta" adıyla gelirlerine göre ayrılarak hizmet karşılığı emir ve askerlere verildi.

Bu uygulama ile,

- I. ülke topraklarının işletilmesini sağlamak,
II. devlet otoritesinin en uzak yerlere ulaşmasını sağlamak,
III. ülkeyi bölgelere ayırarak yönetimi kolaylaştırmak durumlarından hangileri amaçlanmıştır?

- A) Yalnız I B) Yalnız II C) Yalnız III
D) I ve II E) I, II ve III

6. Aşağıdakilerden hangisi Yavuz Sultan Selim zamanında gerçekleşen Mısır'ın fethinin sonuçları arasında gösterilemez?

- A) Osmanlı Devleti teokratik bir karakter kazandı.
B) Suriye, Filistin ve Mısır Osmanlı topraklarına katıldı.
C) Osmanlı Devleti Mısır hazinesine sahip oldu.
D) Kuzey Afrika'da ilk fetihler başladı.
E) Venedik Kıbrıs'ı Osmanlı Devleti'ne bıraktı.

7. 18. ve 19. yüzyıllarda Osmanlı - Rus ilişkileri üzerinde aşağıdakilerden hangisi önemli bir etkiye sahip olmamıştır?

- A) Kutsal yerler sorunu
B) Rusya'nın Kuzey Sibirya'da hakimiyet sağlaması
C) Rusya'nın Balkanlarda yayılma ve Slavlaştırma hareketleri
D) Rusya'nın Boğazlar üzerinde hakimiyet kurma isteği
E) Rusya'nın Osmanlı ülkesindeki Ortodoksları koruma isteği

8. Osmanlı Devleti'nde merkez yönetiminin en önemli teşkilatlarından olan Divan-ı Hümayun, aşağıdaki özelliklerden hangisine sahip değildir?

- A) Hükümdarın kontrolündeki yürütme organıdır.
B) Padişahın yargı gücünü temsil eder.
C) Devlet ve millet sorunları görüşülür.
D) Danışma meclisi niteliğindedir.
E) Meşveret usulüne dayanır.

9. I. İmparatorluğun bütünlüğünü korumak
II. Avrupalı devletlerin Osmanlı Devleti işlerine müdahalesini önlemek
III. Balkanlardaki milliyetçilik fikrini zayıflatmak
Yukarıdakilerden hangileri Mebuslar Meclisi'nin açılmasının nedenleri arasında gösterilebilir?

- A) Yalnız I B) Yalnız II C) Yalnız III
D) I ve II E) I, II ve III

10. Genel Borçlar İdaresi (Düyun-ı Umumiye) aşağıdaki hangi gelişmenin sonucunda oluşturulmuştur?

- A) Azınlıklar sorununun çözülememesi
B) Kapitülasyonların yaygınlaşması
C) Osmanlı Devleti'nin dış borçlarını ödeyememesi
D) Ermeni yurdu ile ilgili anlaşmazlıkların sürmesi
E) Balkan uluslarının reformlarının desteklenmemesi

11. I. Türkleri bir bayrak altında toplamışlardır.

- II. Orduyu onluk sisteme göre ilk kez düzenlemişlerdir.
III. Türk şehirciliği ve mimarisine ait ilk eserleri meydana getirmişlerdir.

Yukarıdaki bilgilerden hangileri Göktürklerle ait özelliklerdendir?

- A) Yalnız I B) Yalnız II C) Yalnız III
D) I ve II E) I ve III

12. Eski Türk kanunlarının en önemli özelliği aşağıdakilerden hangisidir?

- A) Fidyeye esasına dayanması
B) Aile hukukuna yer vermesi
C) Kardeş katlini serbest bırakması
D) Hayvancılığa ait özel hükümler yer alması
E) Yazılı olmayıp gelenek ve göreneklerden oluşması

13. Toplum sağlığıyla ilgili uluslararası çalışmalar yapan Dünya Sağlık Örgütü aşağıdaki hangi kuruluşla bağlı olarak görev yapmaktadır?

- A) Birleşmiş Milletler
B) Avrupa Birliği
C) NATO
D) Batı Avrupa Birliği
E) Avrupa Konseyi

14. Tımar sisteminde toprağın mülkiyeti devlete, işleme hakkı köylüye, vergisini toplama yetkisi ise tımar sahibine aittir.

Aşağıdakilerden hangisi tımar sisteminin faydaları arasında gösterilemez?

- A) Üretim denetimini, sürekliliği ve artışı sağlamıştır.
B) Ülkenin her yerinde devlet otoritesi kurulmuştur.
C) Yerel idare ve güvenlik temin edilmiştir.
D) Hazineye para harcamadan büyük ordular oluşturulmuştur.
E) Özel mülkiyetin gelişmesini sağlamıştır.

15. Mondros Ateşkes Antlaşması'nda yer alan, "İtilaf devletleri güvenliklerini tehlikede gördükleri yerleri işgal edebilirler." maddesi aşağıdaki belgelerden hangisine karşı bir tepkidir?

- A) Versay Antlaşması
B) Amiral Bristol Raporu
C) Brest-Litovsk Antlaşması
D) Wilson İlkeleri
E) Sevr Barış Antlaşması

16. II. Osman Hotin Seferi'nden sonra (1621) Yeniçeri Ocağı'nı kaldırmayı düşünmüştür.

Bu durumun oluşmasında,

- I. Hotin Seferi'nde Yeniçeriler'in yetersizliğinin görülmesi,
II. Yeniçeri Ocağı'nda askeri disiplinin bozulması,
III. Yunan isyanının bastırılmasında yeniçerilerin başarısız olması

maddelerinden hangileri etkili olmamıştır?

- A) Yalnız I B) Yalnız III C) I ve II
D) II ve III E) I, II ve III

17. Osmanlı tarihinde gerçekleşen olaylardan bazıları ilk olması yönüyle önem taşır.

Aşağıdaki verilen olaylardan hangisi bu bağlamda değerlendirilemez?

- A) Osman Gazi döneminde Bizans ile Koyunhisar Savaşı'nın yapılması
B) I. Mehmet döneminde Venedik ile yapılan deniz savaşı
C) I. Kosova Savaşı'nda haçlılara karşı topun kullanılması
D) Avusturya ile 1533 İstanbul Antlaşması'nın yapılması
E) II. Murat döneminde İstanbul'un kuşatılması

18. Osmanlı Devleti'nin ittifak devletleri yanında I. Dünya Savaşı'na katılmasının nedeni aşağıdakilerden hangisidir?

- A) Almanya'nın sömürgelerinden faydalanmak
B) Hindistan'daki İngiliz sömürgelerini ele geçirmek
C) Almanlara duyulan yakınlık
D) Hindistan'daki Müslümanların İngilizlerle dost olmasını sağlamak
E) Almanya ve İngiltere arasındaki anlaşmazlığı gidermek

19. Ülke topraklarının hanedanın ortak malıdır anlayışına veraset sistemi denir.

Aşağıdaki padişahlardan hangileri veraset sisteminde değişiklik yapmıştır?

- A) I. Murat - II. Mehmet
B) I. Mehmet - II. Murat
C) I. Bayezid - II. Bayezid
D) I. Murat - I. Selim
E) II. Murat - II. Selim

20. Aşağıdakilerin hangisi Osmanlı Devleti'nin duraklamasının iç ve ekonomik nedenidir?

- A) Eğitim sisteminin bozulması
B) Coğrafi Keşifler'in yapılması
C) Sanayi Devrimi'nin gerçekleşmesi
D) Tımar sisteminin bozulması
E) Osmanlı parasının değerinin düşmesi

21. Anadolu'da ilk Türk beyliklerinin kurulması aşağıdaki olaylardan hangisiyle ilgili olarak ortaya çıkmıştır?

- A) Miryokefalon Savaşı
B) Kösedag Savaşı
C) Malazgirt Savaşı
D) Ankara Savaşı
E) Talas Savaşı

22. XVIII. yüzyıl ıslahat hareketlerinin özellikleri için aşağıda verilenlerden hangisi söylenemez?

- A) Yenilikler padişah ve üst düzey yöneticiler tarafından planlanmış, halka mal edilememiştir.
B) Askeri alanda ıslahatlara ağırlık verilmiştir.
C) XVII. yüzyıl ıslahatlarından daha sistemli ve kapsamlıdır.
D) ıslahatlar daha çok ekonomik ve kültürel alanda yapılmıştır.
E) Gerilemeyi önleyememiştir.

23. II. Dünya Savaşı sonrasında 1948-1951 yılları arasında yürürlüğe konan ABD kaynaklı ekonomik yardım paketine ne ad verilmiştir?

- A) Marshall Planı
B) Monroe Doktrini
C) Sadabat Paketi
D) Molotof Planı
E) Varşova Paketi

24. 9. yüzyılın ikinci yarısından itibaren Abbasi halifesinin otoritesinin zayıflamasıyla "Emir'ül Ümeralar" bağımsızlıklarını ilan etmişlerdir.

Aşağıdaki devletlerden hangisi Emir'ül Ümeralar tarafından kurulmamıştır?

- A) Samanoğulları B) Tolunoğulları
C) Büveyhoğulları D) İhşitler
E) Harzemşahlar

25. Türk Lonca teşkilatının giderek önemini yitirmesinde,

- I. el tezgahlarının fabrikalarla rekabet edememesi,
II. sanatın babadan oğula geçmesi,
III. Osmanlı Devleti'nin devamlı savaflara girmesi durumlarından hangilerinin doğrudan etkili olduğu söylenemez?

- A) Yalnız I B) Yalnız II C) Yalnız III
D) I ve III E) II ve III

26. Aşağıdakilerden hangisi Osmanlı Devleti'nde Duraklama Devri'nde merkezi otoritenin bozulmasının nedenlerinden birisi değildir?

- A) Sancağa çıkma usulünün kaldırılması
B) Yönetici kadrolarda sık değişiklikler
C) Çocuk yaştaki padişahların tahta çıkması
D) Saray kadınlarının yönetimdeki etkisi
E) Milliyetçilik isyanları

27. Göktürklerle ilgili aşağıdaki bilgilerden hangisi yanlıştır?

- A) Yarı göçebe yaşamışlardır.
B) Çifte hükümdarlık sistemi görmüştür.
C) İlk defa 38 harfli Türk alfabesini kullanmışlardır.
D) Akhunlar ile anlaşılıp Sasaniler'i zayıflatmışlardır.
E) Sanatlarında çadır ve hayvan unsurları hakim olmuştur.

28. I. Anadolu'da mal ve can güvenliği bozuldu.
II. Anadolu beylikleri kuruldu.
III. Anadolu'nun Türkleşmesi sağlandı.

Yukarıdakilerden hangileri Moğolların ve Timur'un Anadolu'yu işgallerinin ortak sonuçları arasında yer alır?

- A) Yalnız I B) Yalnız II C) I ve II
D) II ve III E) I, II ve III

29. Osmanlı Devleti'nde aşağıdakilerden hangisi geliri sosyal kurumlara aktarılan topraklardır?

- A) Tımar
B) Yurtluk
C) Vakıf
D) Ocaklık
E) Zeamet

30. Osmanlı Devleti'nde hukuk ve eğitim sistemlerinin temeli hangi padişah zamanında atılmıştır?

- A) I. Murat
B) Orhan Bey
C) II. Murat
D) II. Mehmet
E) I. Süleyman

31. Sanayi İnkılabı Osmanlı Devleti'nde,

- I. yönetimde yabancı unsurların artması,
II. azınlıklara kapitülasyonlar verilmesi,
III. sanayi hammaddesi olan tarım ürünlerinin önem kazanması

sonuçlarından hangilerine neden olmuştur?

- A) Yalnız I B) Yalnız II C) Yalnız III
D) I ve II E) I ve III

32. I. Paris Antlaşması
II. Küçük Kaynarca Antlaşması
III. Hünkâr İskelesi Antlaşması

Osmanlı Devleti ile Rusya arasında yapılan yukarıdaki antlaşmalardan hangilerinde Müslüman olmayan Osmanlı halkının hakları veya bağımsızlıkları ile ilgili bir madde vardır?

- A) Yalnız I B) Yalnız II C) Yalnız III
D) I ve II E) II ve III

33. 1917'de Rusya'da Bolşevik ihtilali çıkmış ve Rusya Brest-Litovsk Antlaşması ile I. Dünya Savaşı'ndan çekilmiştir.

Rusya'da çıkan ihtilalin Osmanlı Devleti'ni ilgilendiren en önemli yönü aşağıdakilerden hangisidir?

- A) Rusya'nın savaştan çekilmesiyle Osmanlı Devleti'nin yükünün hafiflemesi
B) 1878'de Berlin Antlaşması ile kaybedilen Kars, Ardahan ve Batum'un geri alınması
C) Osmanlı Devleti'nin savaşı kazanma ümidinin artması
D) Rusya'nın savaştan çekilmesiyle İtilaf devletlerinin gücünün kırılması
E) Rusya'nın savaştan çekilmesiyle Kafkas Cephesi'nin kapanması

34. Aşağıdakilerden hangisi Birleşmiş Milletler Teşkilatı'ndaki üye sürekliliği ve veto haklarının varlığı kabul edilen devletlerden biri değildir?

- A) ABD
B) SSCB
C) İngiltere
D) Japonya
E) Çin

35. Avrupa'daki gelişmelerle ilgili olarak Atatürk, Versay Antlaşması'nın I. Dünya Savaşı'nın sebeplerini yoketmediğini aksine düşmanlıkları daha da artırdığını düşünüyordu. Ona göre yenen devletler, yenilenlere barış şartlarını zorla kabul ettirirken bu ülkelerin etnik, jeopolitik ve ekonomik özelliklerini gözönüne almamışlardı.

Bu gelişmenin en önemli sonucu aşağıdakilerden hangisidir?

- A) Devletler arasında yeni sorunlar yaşanması
B) Milliyetçilik hareketlerinin ortadan kalkması
C) Sömürge altındaki milletlerde bağımsızlık hareketlerinin yaygınlaşması
D) Yeni rejimlerin ortaya çıkması
E) Türkiye Cumhuriyeti'nin kurulması

36. I. Dünya Savaşı sonunda Almanya ve İtalya'da ortaya çıkan totaliter ve baskıcı politikalar yeni gelişmelere zemin hazırlamıştır.

Aşağıdakilerden hangisi bu gelişmeler arasında yer almaz?

- A) Sadabat Paketi'nin kurulması
B) Balkan Antantı'nın yapılması
C) II. Dünya Savaşı'nın çıkması
D) Birleşmiş Milletler'in kurulması
E) Montrö Boğazlar Sözleşmesi'nin imzalanması

37. I. Gelirin büyük kısmının savunmaya ayrılması
II. İş gücünün azalması
III. Varlık Vergisi'nin konulması
IV. İthalatın artması

Yukarıdaki bilgilerden hangisi Türkiye'de II. Dünya Savaşı'nın ekonomik sonuçları arasında yer alır?

- A) Yalnız I B) I, II, III C) III, IV
D) II, IV E) I, II, III, IV

38. Aşağıdakilerden hangisi Türkiye'nin AB'ye katılımını geciktiren nedenlerden biri olabilir?

- A) Türkiye nüfusunun fazla olması.
B) Türkiye'nin coğrafi konumunun uygun olmaması.
C) Türkiye ile ABD arasındaki gerginlikler.
D) Türkiye'nin izlediği savaş yanlısı politika.
E) Yunanistan'la aramızdaki meseleler.

39. Avrupa Birliği ve işleyişi ile ilgili aşağıda verilen bilgilerden hangisi yanlıştır?

- A) Sayıştay - Güvenlikle ilgili konulara bakar.
B) Avrupa Parlamentosu - Üye ülkelerden parlamenterler seçilerek oluşur.
C) Adalet Divanı - Nihai yargı organıdır ve kararların temyizi yoktur.
D) Avrupa Konseyi - Birliğin karar alma ve yazma organıdır.
E) Avrupa Birliği Komisyonu - Alınan kararların uygulanıp uygulanmadığına bakar.

40. 1970'li yılların başlarından itibaren Türkiye'nin Güneydoğu Anadolu Projesi'ni uygulamak üzere çalışmalara başlaması, Dicle ve Fırat Nehirleri'nden yararlanılan hangi devletlerin tepkisine neden olmuştur?

- A) İran - Irak
B) İran - Suriye
C) Suriye - Irak
D) Suriye - Ürdün
E) Suriye - İsrail

41. Aşağıdakilerden hangisi II. Dünya Savaşı'ndan sonra kurulmamıştır?

- A) Avrupa Konseyi
B) Milletler Cemiyeti
C) İsrail Devleti
D) SEATO
E) NATO

42. Sovyetler Birliği'nin kurulduğu dönemdeki karışıklıktan yararlanan Türkler, buldukları bölgelerde bağımsız devletler kurmaya başladı.

Aşağıdakilerden hangisi kurulan devletler arasında yer almaz?

- A) Çin Halk Cumhuriyeti
B) Harezmi Halk Cumhuriyeti
C) Türkistan Muhtar Cumhuriyeti
D) Kırgız Muhtar Cumhuriyeti
E) Başkurdistan Sovyet Cumhuriyeti

43. I. Dünya Savaşı sırasında Şerif Hüseyin'in İngiltere'yle işbirliği yapması;

- I. Osmanlı'nın Arap yarımadasından çekilmesi
II. Arap yarımadasında manda yönetiminin kurulması
III. Avrupa devletlerinin bölgeye yerleşmesi
IV. Kafkas Cephesi'nin açılması

gelişmelerinden hangilerine ortam hazırlamıştır?

- A) Yalnız I B) Yalnız II C) I ve II
D) I, II ve III E) II, III, IV

44. Sadabat Paktı, Türkiye açısından Atatürk'ün barışçı dış politikasını ve ülkenin etrafını dostluk çemberiyle kuşatma isteğini yansıtıyordu. İçerikleri farklı da olsa Balkan Paktı ile Sadabat Paktı Türkiye'nin Batı ile Doğu arasında bir barış köprüsü olmak isteğinin de ilk somut göstergesiydi.

Aşağıdakilerden hangisi bu paktların kurulmasında etkili nedenlerden biridir?

- A) ABD ve Rusya arasında yaşanan soğuk savaş.
B) İtalya ve Almanya'nın Ortadoğu üzerindeki yayılmacı politikaları.
C) İngiltere'nin Ortadoğu üzerindeki çıkarları.
D) İtalya ve Almanya'nın Balkanlar'da üstünlük mücadelesi
E) İtalya'nın Balkanlar ve Ortadoğu'da yayılmacı politika izlemesi.

LYS-4 TARİH BRANŞ DENEMESİ-3

Bu Testte;

Toplam 44 adet soru bulunmaktadır. Cevaplama Süresi 65 dakikadır.

1. Aşağıdakilerden hangisi Lale Devri ıslahatlarından değildir?

- A) Matbaanın kurulması
B) Çiçek aşısının bulunması
C) Kağıt ve kumaş fabrikalarının kurulması
D) Geçici elçiliklerin açılması
E) Avrupa'ya öğrenci gönderilmesi

2. Anadolu Selçukluları sınırlarda düzenli bir uç teşkilatı kurmuş, bu sayede sınır güvenliğini sağladığı gibi fetihlerin sürekliliği de gerçekleşmiştir. Fakat merkezi otorite zayıflayınca bunlar bağımsız birer beylik haline gelmişlerdir.

Anadolu Selçuklu Devleti'nin merkezi otoritesinin sarsılmasına ve beyliklerin kurulmasına neden olan olay aşağıdakilerden hangisidir?

- A) Yassı Çemen Savaşı
B) Miryokefalon Savaşı
C) Malazgirt Savaşı
D) Köseadağ Savaşı
E) Babailer İsyanı

3. Emeviler'in Orta Asya'ya hakim olmalarına en fazla direnen devlet aşağıdakilerden hangisidir?

- A) Uzlar B) Sabirler C) Hazarlar
D) Akhunlar E) Türgişler

4. 1815 - 1827 yılları arasında Viyana Kongresi ile ortaya çıkan Restorasyon Devri'nde İngiltere, Rusya, Prusya ve Avusturya'nın mutlakiyeti korumalarında,

- I. Osmanlı Devleti'ni engelleme,
II. monarşi ile yönetilme,
III. feodal düzene geçme

özelliklerinden hangileri etkili olmuştur?

- A) Yalnız I B) Yalnız II C) Yalnız III
D) I ve II E) II ve III

5. I. Dünya Savaşı'ndan mağlup çıkan Türkler II. Dünya Savaşı'nda tarafsız kalmaya çalışmıştır. Fakat yine de savaşın olumsuz etkilerinden kendisini kurtaramamıştır.

Bu etki daha çok aşağıdaki alanlardan hangisinde kendisini göstermiştir?

- A) Sosyal B) Kültürel C) Askeri
D) Hukuki E) Ekonomik

6. Karadeniz ticaret yollarının ele geçirilmesiyle doğudan gelen mallar Osmanlı Devleti'nde birikmeye başlamıştır.

Bu malların Avrupa'ya aktarılması için ilk kez aşağıdaki hangi hükümdar tarafından Venedikliler'e ticari ayrıcalıklar verilmiştir?

- A) II. Mehmet B) I. Selim C) II. Selim
D) I. Süleyman E) II. Bayezid

7. Osmanlı Devleti'nin yönetim mekanizmasında başkentinin yeri ayrı ele alınmıştır. Adli işlerden sorumlu kadıya da "Taht Kadısı" ünvanı verilmiştir. Bunun dışındaki yerlerde yargı işlerini kadılar yürütürken, Edirne ve Bursa'dakilere de "Taht Kadısı" denilmesinin nedeni aşağıdakilerden hangisidir?

- A) Ticari merkez olmaları
B) Kültür merkezi olmaları
C) İstanbul'dan önceki başkentler olmaları
D) Seferler için üs olmaları
E) Eğitim merkezi olmaları

8. Osmanlı İmparatorluğu'nun değişik dönemlerinde meydana gelen aşağıdaki olayların hangisinde dış güçlerin etkisi vardır?

- A) Vaka-yı Hayriye
B) 31 Mart Vakası
C) Navarin Olayı
D) Patrona Halil İsyanı
E) Kabakçı Mustafa İsyanı

9. I. Heykelcilik
II. Minyatür
III. Oymacılık
- Yukarıdakilerden hangileri Osmanlı Devleti'nde kuruluştan beri gelişme gösteren sanat dallarından **değildir**?
- A) Yalnız I B) Yalnız II C) Yalnız III
D) I ve II E) II ve III
10. - Mısır Meselesi
- Balta Limanı Antlaşması
- Süveyş Kanalı'nın Açılması
- Yukarıdaki olaylardan **en fazla** yararlanan devlet hangisidir?
- A) Fransa B) Almanya C) İtalya
D) Rusya E) İngiltere
11. I. Avusturya'nın Bosna-Hersek'i ilhak etmesi
II. 31 Mart Olayı'nın çıkması
III. Sırlara bağımsızlık verilmesi
- Yukarıdaki olaylardan hangileri 1908'de Meşrutiyet'in yeniden ilanından sonra ortaya çıkan gelişmeler arasında **gösterilemez**?
- A) Yalnız I B) Yalnız II C) Yalnız III
D) I ve III E) II ve III
12. I. Islahat Fermanı
II. Tanzimat Fermanı
III. I. Meşrutiyet
- Osmanlı Devleti, yukarıdaki gelişmelerden hangileriyle anayasacılığın ilk aşamasını gerçekleştirmiş ve azınlıklara askeri yükümlülükler getirmiştir?
- A) Yalnız I B) Yalnız II C) Yalnız III
D) I ve II E) I, II ve III

13. Yunan İsyanı ve Mısır Sorunu'nun ortak yönü aşağıdakilerden hangisidir?
- A) Osmanlı Devleti'nin iç meselesi iken dış sorun haline gelmeleri
B) Milliyetçi ayaklanma olmaları
C) Rejime tepki olarak ortaya çıkmaları
D) Islahatların yetersizliği ile ortaya çıkmaları
E) Avrupalı devletlerin isyanları bastırmada Osmanlı Devleti'ne yardım etmeleri
14. Aşağıdakilerden hangisi Anadolu toprakları için yapılan savaşlardan **değildir**?
- A) Malazgirt Savaşı
B) Pasinler Savaşı
C) Miryokefalon Savaşı
D) Varna Savaşı
E) Koyunhisar Savaşı
15. Osmanlı Devleti'nin gerileme ve dağılma dönemleri ile ilgili aşağıda verilenlerden hangisinde I. olay II. olaya zemin **hazırlamamıştır**?
- | I | II |
|-------------------------|--|
| A) Yaş Antlaşması | III. Selim Dönemi ıslahatları |
| B) Belgrat Antlaşması | Kapitülasyonların daimi hale getirilmesi |
| C) Pasarofça Antlaşması | Lale Devri |
| D) Mısır Sorunu | Tanzimat Fermanı |
| E) Balkan Bunalımı | Islahat Fermanı |
16. Aşağıdakilerden hangisi Orhan Bey dönemi teşkilatlanma faaliyetlerinden **değildir**?
- A) Yaya ve müselleme adlı düzenli ordunun kurulması
B) Divan teşkilatının kurulması
C) İllere kadı ve subaşılardan gönderilmesi
D) Medreselerin açılması
E) Enderun okulunun açılması

KÖRFEZ YAYINLARI

17. Türklerin yerleşik hayata geç başlamasında aşağıdakilerden hangisi etkili olmuştur?
- A) Kavimler göçünün başlaması
B) Dini inançlar
C) Coğrafi şartlar
D) Yeni yerler fethetme isteği
E) Türklerin savaşçı özelliklerini kaybetmeme isteği
18. Karahanlılar döneminde başlayan Türk-İslam kültür ve sanatının gelişimi Osmanlı İmparatorluğu döneminde en yüksek seviyeye ulaşmıştır.
- Bu gelişim özellikle aşağıdaki alanlardan hangisinde **daha açık** görülmektedir?
- A) Kağıt yapımı ve matbaacılıkta
B) İpek dokuma imalatında
C) Ağaç işlemeciliğinde
D) Mimari eserlerde
E) Kaya oymacılığı ve işçiliğinde
19. Aşağıdakilerden hangisi Fatih Sultan Mehmet dönemine ait bir gelişme **değildir**?
- A) İstanbul'un fethi
B) Sinop'un fethi
C) Kırım'ın fethi
D) Rodos'un fethi
E) Otlukbeli Savaşı
20. XVII. yüzyılda Osmanlı Devleti'nde hazinedeki açığı kapatmak için bir sonraki yılın vergi toplama hakkı açık artırma ile satılırdı. Bu işleme Osmanlı Devleti'nde verilen isim aşağıdakilerden hangisidir?
- A) İltizam usulü
B) Pençik sistemi
C) Müsadere usulü
D) Kafes usulü
E) Devşirme sistemi
21. Duraklama Devri'nde çıkan iç isyanların nedenleri arasında,
- I. Padişahların yönetimde başarısız olması
II. Devlet dairelerinde rüşvet ve haksızlıkların yaygınlaşması
III. Uzun süren ve başarısızlıkla sonuçlanan savaşlara girilmesi
- durumlarından hangileri **gösterilebilir**?
- A) Yalnız I B) Yalnız II C) I ve II
D) I ve III E) I, II ve III
22. Osmanlı Devleti, duraklama devrinden itibaren ağır şartlar içeren antlaşmalar imzalamıştır.
- Osmanlı Devleti'nin XVIII. yüzyılda imzaladığı en ağır antlaşma aşağıdakilerden hangisinde **verilmiştir**?
- A) Karlofça Antlaşması
B) Berlin Antlaşması
C) Küçük Kaynarca Antlaşması
D) Mondros Ateşkes Antlaşması
E) Bükreş Antlaşması
23. Aşağıdaki olaylardan hangisinin milliyetçilik düşüncesiyle ortaya çıktığı savunulabilir?
- A) İtalya'nın Trablusgarb'i işgali
B) Kırım'ın Rusya tarafından işgali
C) Osmanlı Devleti'nin bir Avrupa devleti sayılması
D) Yunan isyanının çıkması
E) Duraklama devrindeki eyalet isyan
24. Aşağıdakilerden hangisi Osmanlı Devleti Kuruluş Dönemi kültürel ve askeri gelişmelerinden **değildir**?
- A) Kapıkulu örgütünün kurulması
B) Divan örgütünün kurulması
C) İlk medreselerin açılması
D) Gelibolu tersanesinin kurulması
E) Devşirme sisteminin kurulması

KÖRFEZ YAYINLARI

25. Tanzimat Fermanı'yla Osmanlı halkının güvenliğine, yasalar güvence olarak gösterilmiştir. Böylece aşağıdakilerden hangisi gerçekleştirilmiştir?

- A) Parlamenter devlet
B) Hukuk devleti
C) Laik devlet
D) Teokratik devlet
E) Monarşik devlet

26. I. Osmanlı Devleti'nin Trablusgarp Savaşı'nda yenilmesi

- II. Ege Adaları'nın Yunanistan'a verilmesi
III. Balkan devletlerinin sınırlarını genişletmek istemeleri

Yukarıda verilenlerden hangileri I. Balkan Savaşı'nın nedenleri arasında gösterilebilir?

- A) Yalnız I B) Yalnız II C) Yalnız III
D) I ve III E) II ve III

27. Aşağıdakilerden hangisi 13. yüzyılda gerçekleşen Moğol akınlarının Türk-İslam tarihi açısından olumlu sonuçları arasında gösterilemez?

- A) Anadolu'nun Türkleşmesi
B) Batı Anadolu'da Türk beyliklerinin kurulması
C) Batı Anadolu'da Bizans etkisinin azalması
D) Bizans sınırında Osmanlı Beyliği'nin kurulması
E) Anadolu'nun Moğol egemenliğine girmesi

28. 18. yüzyılda,

- Osmanlı Devleti'nin içişlerine ilk defa karışılması,
– Devletin ilk defa savaş tazminatı ödemesi

durumlarına neden olan antlaşma aşağıdakilerden hangisidir?

- A) Yaş B) Belgrad C) Prut
D) Pasarofça E) Küçük Kaynarca

29. I. Köseadağ Savaşı
II. Ayn Calut Savaşı
III. Yassı Çemen Savaşı
IV. Miryokefalon Savaşı

Yukarıdaki savaşların kronolojik sırası aşağıdakilerden hangisinde doğru olarak verilmiştir?

- A) I, II, III, IV B) I, IV, III, II
C) III, IV, I, II D) IV, I, II, III
E) IV, III, I, II

30. Osmanlı Devleti'nin ilk anayasası olan Kanun-ı Esasi'de yürütme görevi Heyet-i Vükela'ya (Bakanlar Kurulu), yasama görevi ise Ayan ve Mebuslar Meclisine verilmiştir.

Günümüzde bu yetkiler hangi kurumlar tarafından temsil edilmektedir?

Yasama	Yürütme
A) TBMM	Hükümet
B) Hükümet	TBMM
C) TBMM	Mahkemeler
D) Milli Güvenlik Kurulu	Bakanlar Kurulu
E) Mahkemeler	Bakanlar Kurulu

31. 1913 yılında Londra Konferansı sürerken İttihat ve Terakki yöneticileri İstanbul'da darbe düzenleyerek hükümeti ele geçirmişlerdir.

Türk tarihinde bu olaya verilen ad aşağıdakilerden hangisidir?

- A) Babı Ali Baskını
B) Vakayı Hayriye
C) 31 Mart Olayı
D) Dar'üş-Şurayı Babı Ali
E) Meclisi Mebusan

32. Aşağıdakilerden hangisi Osmanlı Devleti'nin XVIII. yüzyılda kaybettiği yerleri geri almak amacıyla yaptığı antlaşmalardandır?

- A) Prut Antlaşması
B) Kermen Antlaşması
C) Karlofça Antlaşması
D) Edirne Antlaşması
E) Berlin Antlaşması

33. Osmanlı İmparatorluğu İstanbul ve Karlofça Antlaşmalarıyla kaybettiği toprakları geri almak için,

- I. Rusya
II. İngiltere
III. Venedik
IV. Fransa

devletlerinden hangileriyle savaşlar yapmıştır?

- A) I ve II B) I ve III C) II ve III
D) II ve IV E) III ve IV

34. I. Dünya Savaşı sonunda Hitler'le birlikte Alman dış politikası yeniden şekillendi. Bu politikanın ilk hedefi Versay Antlaşması'nın maddelerinden kurtulmaktır. İkinci hedefi Almanya dışındaki Almanların yaşadıkları toprakları almak ve topraklarını sınır tanımadan genişletmektir.

Almanya'nın izlediği bu politikanın en belirgin sonucu hangi seçenekte doğru olarak verilmiştir?

- A) II. Dünya Savaşı'nın çıkması
B) Milletler Cemiyeti'nin kurulması
C) Milliyetçiliğin güç kazanması
D) Silahlanma yarışının engellenmesi
E) Almanya'da rejimin değişmesi

35. I. Dünya Savaşı sonunda galip devletlerin barışı düşünmek yerine barış düzeni içerisinde kendi çıkarlarını gerçekleştirme yollarını araması yenilen devletlerin siyasi, ekonomik ve askeri kısıtlamalar ve ağır yükümlülükler getiren antlaşmalar imzalanmasına sebep oldu.

Yukarıdaki bilgilere göre galip devletlerin bu uygulamada ulaşmak istediği en önemli amaç aşağıdakilerden hangisidir?

- A) Yenik devletlerin yeniden yapılanmalarını sağlama.
B) Yenik devletlerin kendileri açısından tehlike olmalarına engel olma.
C) Yeni ittifakların kurulmasına engel olma.
D) Dünya barışını sağlama.
E) Dünya'yı soğuk savaş ortamından kurtarma

36. SSCB döneminde Rus harita ve kitaplarından Türkistan ismi çıkarıldı. Türkistan, cumhuriyetlere bölündü, Türkler arasında farklı lehçelerin kullanılması yaygınlaştırdı.

Yukarıdaki bilgilere göre Rusya'nın, Türklere karşı;

- I. benliğini kaybettirme
II. birlik ve beraberliği bozma
III. milli duyguları yok etme

politikalarından hangilerini uyguladığı söylenebilir?

- A) Yalnız I B) Yalnız II C) Yalnız III
D) I ve II E) I, II ve III

37. Aşağıdakilerden hangisi II. Dünya Savaşı'nın sonuçları arasında gösterilemez?

- A) Nazizm, Faşizm etkinliğini kaybetti.
B) Sömürge altındaki toplumlar bağımsız devletler kurdular.
C) Almanya ikiye ayrıldı.
D) ABD dünya siyasetinde etkin konuma geldi.
E) Dünya barışını koruma adına Milletler Cemiyeti kuruldu.

38. Avrupa'da Napolyon savaşlarının getirmiş olduğu karışıklık Viyana kongresi ile çözülmeye çalışıldı. Ancak sınırların çizilmesinde milliyetçilik unsuru dikkate alınmadığı için sorunlar ortaya çıktı. I. Dünya Savaşı'ndan sonra düzenlenen kongrelerde ise milliyetçilik unsuru dikkate alındı.

I. Dünya Savaşı'ndan sonra düzenlenen aşağıdaki kongrelerden hangisinde milliyetçilik dikkate alınmıştır?

- A) Paris Barış Konferansı
B) Yalta Konferansı
C) İstanbul Konferansı
D) Viyana Konferansı
E) Postdam Konferansı

39. İki Dünya Savaşı arasında, tam üç büyük ekonomik durgunluk ve daralma yaşanmıştır. Yaygınlığı, şiddeti ve sonuçları açısından etkileri Türkiye'de de hissedilmiştir.

Aşağıdakilerden hangisi Türkiye'de bu etkileri ortadan kaldırmaya yöneliktir?

- A) I. Beş yıllık Kalkınma Planı
B) Yerli malı haftası
C) İzmir İktisat Kongresi
D) İthalata öncelik verme
E) Yabancı sermayeyi ülkeye çekme

40. Türk dilinin konuşulduğu ve Türkiye'ye komşu ülkelerin ekonomik, teknik, sosyo-kültürel ve eğitim alanlarında işbirliğini geliştirmek amacıyla kurulan bir teşkilattir.

Yukarıda tanımı verilen kuruluş aşağıdakilerden hangisidir?

- A) TİKA
B) FKÖ
C) OPEC
D) AB
E) NATO

41. İngiliz Dışişleri Bakanı tarafından hazırlanan Filistin'de bir Yahudi devleti kurulmasının kabul edildiği ve bu tarihten sonra Yahudilerin büyük kitleler halinde Filistin'e göç etmeye başlamasına sebep olan belge aşağıdakilerden hangisidir?

- A) Marshall Planı
B) Schuman Planı
C) Balfour Deklarasyonu
D) Truman Doktrini
E) Eisenhower Doktrini

42. Çarlık Rusyası işgal ettiği Türk topraklarında okullar açarak Türklerin dil ve kültürlerini değiştirmeye çalıştı. Ancak Türk aileler çocuklarını bu okullara göndermedi.

Bu bilgilere göre Rusya'nın hangi politikasında başarıya ulaşamadığı savunulabilir?

- A) Askeri
B) Teknik
C) Asimilasyon
D) Ekonomik
E) Diplomatik

43. ABD hangi devletin Avrupa'da egemenlik kurmaya çalışması üzerine bir tedbir olarak Truman Doktrini ve Marshall Planı'nı uygulama alanına koymuştur?

- A) İngiltere
B) Almanya
C) İtalya
D) SSCB
E) Fransa

44. I. Dünya Savaşı sonrası ekonomik sıkıntılar içinde olan İtalya, 1929 Ekonomik Buhranı'ndan oldukça etkilendi. Bir sanayi ülkesi olmasına rağmen hammadde kaynakları bakımından tamamen dışarıya bağımlı olan İtalya, ekonomik sıkıntılar içerisinde bütçe ve dış ticaret dengesinde açıklar vermeye başladı.

İtalya'nın bu durumunun en belirgin sonucu aşağıdakilerden hangisidir?

- A) Trablusgarb'a saldırması
B) Habeşistan'ı işgal etmesi
C) İngiltere ile ekonomik işbirliğine yönelmesi
D) Silahlanmaya başlaması
E) Siyasi birliğini sağlaması

LYS-4 TARİH BRANŞ DENEMESİ-4

Bu Testte;

Toplam 44 adet soru bulunmaktadır. Cevaplama Süresi 65 dakikadır.

1. 1985 yılında kurulan Ekonomik İşbirliği Teşkilatı (ECO)'nun üyeleri arasında aşağıdaki devletlerden hangisi yer almaz?

- A) Türkiye
B) İran
C) Mısır
D) Pakistan
E) Afganistan

2. Aşağıdakilerden hangisi Osmanlı Devleti'nde askeri alanda yapılan ıslahat hareketlerinden biri değildir?

- A) Yeniçeri Ocağı'nın kaldırılması
B) Nizam-ı Cedit ordusunun kurulması
C) İtfaiye bölüğünün oluşturulması
D) Kara Mühendishanesi'nin açılması
E) Sekban-ı Cedit ordusunun kurulması

3. Macaristan'ın I. Dünya Savaşı'nın sonunda İtilaf devletleriyle imzaladığı antlaşma aşağıdakilerden hangisidir?

- A) Trianon Antlaşması
B) Nöyyi Antlaşması
C) Sen Germain Antlaşması
D) Versay Antlaşması
E) Sevr Antlaşması

4. Osmanlı Devleti'nin duraklama döneminde genişleyen Celali İsyanları'nın nedenleri arasında aşağıdakilerden hangisi gösterilemez?

- A) Avusturya ve İran'la yapılan savaşların uzaması
B) Halktan yeni vergilerin alınması
C) Ekonomik durumun bozulması ve para değerinin düşmesi
D) Tımarlı sipahi sayısının artması
E) İltizam sisteminin yaygınlaştırılması

5. I. Niğbolu Savaşı
II. I. Kosova Savaşı
III. II. Kosova Savaşı
IV. Varna Savaşı
V. Maltepe Savaşı

Osmanlı Devleti yukarıdaki hangi savaşın sonucunda kesin olarak Balkanlara yerleşmiştir?

- A) I
B) II
C) III
D) IV
E) V

6. Tımarlı sipahilerle ilgili verilen,

- I. Barış döneminde buldukları bölgenin güvenliğini sağlarlar.
II. Ordunun sayıca en büyük kısmını oluştururlar.
III. Merkez isyanlarının çıkmasında etkilidirler.
IV. Savaşta yoklamada bulunmayan sipahinin tımarı elinden alınır.

yargılarından hangileri yanlıştır?

- A) Yalnız I
B) Yalnız II
C) Yalnız III
D) I ve III
E) II ve IV

7. Osmanlı Devleti'ni denizcilikte güçlendiren fetihler hangi devletleri olumsuz etkilemiştir?

- A) Venedik - Ceneviz
B) Karamanoğulları - Memlükler
C) Akkoyunlular - İhanlılar
D) İngiltere - Fransa
E) Fransa - Macar Krallığı

8. Türklerin kısa sürede devlet kurmasını kolaylaştıran en önemli faktör aşağıdakilerden hangisidir?

- A) Kut anlayışı
B) Teşkilatçı bir yapıya sahip olmaları
C) Göçebe yaşam tarzına sahip olmaları
D) Göktürk inancına sahip olmaları
E) Ordu-millet özelliği taşımaları

9. I. Yurtluk
II. Mukataa
III. Dirlik
Yukarıda verilen miri arazi bölümlerinden hangilerinin gelirleriyle Tımarlı Sipahi ordusu yetiştirilmiştir?
A) Yalnız I B) Yalnız II C) Yalnız III
D) I ve III E) II ve III

10. I. İstanbul Antlaşması (1724)
II. Belgrat Antlaşması (1739)
III. Hünkar İskelesi Antlaşması (1833)
Yukarıdaki antlaşmalardan hangileri Rusya ile imzalanan ittifak antlaşmalarından değildir?
A) Yalnız I B) Yalnız II C) Yalnız III
D) I ve II E) II ve III

11. Aşağıdakilerden hangisinde I. Dünya Savaşı'nın uzamasına ve bitmesine neden olan olaylar birlikte verilmiştir?
A) Bolşevik İhtilali - Amerika'nın savaşa girmesi
B) Çanakkale Cephesi - Bolşevik İhtilali
C) Çanakkale Cephesi - Amerika'nın savaşa girmesi
D) Sedan Savaşı - Wilson İlkeleri
E) İtalya'nın saf değiştirmesi - Bolşevik İhtilali

12. Aşağıdakilerden hangisi dirlik topraklarının özelliklerinden biridir?
A) Ekonomik ve askeri yarar sağlamıştır.
B) Sosyal kurumların ihtiyaçlarını karşılamak için ayrılmış topraklardır.
C) Geliri kale muhafızlarına ve tersane giderlerine ayrılmıştır.
D) Hıristiyanlara ait topraklardır.
E) Geliri doğrudan hazineye aktarılmıştır.

13. AGİT (Avrupa Güvenlik ve İşbirliği Teşkilatı)'ı hangi alanda işbirliğini amaçlamaz?
A) İnsan hakları B) Silahsızlanma
C) Refahın sağlanması D) Bilim ve Çevre
E) Manda ve himaye

14. Aşağıdakilerden hangisi Lonca teşkilatının görevleri arasında gösterilemez?
A) Haksız rekabeti önlemek
B) Mesleki eğitim vermek
C) Gereksinimi duyulan hammaddeleri sağlamak ve paylaşımını yapmak
D) Devlet adına vergileri toplamak
E) Esnafı hükümet arasındaki ilişkileri düzenlemek

15. I. I. Osman
II. I. Bayezit
III. II. Mehmet
Yukarıda verilen Osmanlı padişahlarından hangileri İstanbul'u kuşatmış ve Anadolu'da siyasi birliği gerçekleştirmeye çalışmıştır?
A) Yalnız I B) Yalnız II C) Yalnız III
D) I ve III E) II ve III

16. Avrupalı devletler Osmanlı Devleti'nin içişlerine müdahale etmek için aşağıdakilerden en fazla hangisini kullanmıştır?
A) Borçlar
B) Azınlıklar
C) Milliyetçilik
D) Kapitülasyonlar
E) Veraset anlayışı

17. I. Hint deniz yolunu kısaltmak
II. Rusya'nın güneye doğru yayılmasını önlemek
III. İpek yolu ticaretini canlandırmak
Yukarıdaki bilgilerden hangileri Don-Volga Kanal projesinin amaçları arasındadır?
A) Yalnız I B) Yalnız II C) Yalnız III
D) I ve III E) II ve III

18. Aşağıdakilerden hangisi Osmanlı Devleti'nde yapılan ıslahatların özelliklerinden değildir?
A) Baskı ve şiddet uygulanmıştır.
B) Şahıslara bağlı kalmıştır.
C) Daha çok askeri alanda ıslahat yapılmıştır.
D) Çöküşün önüne geçilmiştir.
E) Geçici çözümler üretilmiştir.

19. Anadolu Selçukluları'nda,
I. Ahi Teşkilatı'nın çalışmaları,
II. vakıfların çalışmaları,
III. fetih çalışmaları
durumlarından hangileri sosyal alanda gerçekleşmiştir?
A) Yalnız I B) Yalnız II C) I ve II
D) I ve III E) I, II ve III

20. XVIII. yüzyılda III. Selim, Zıstovi ve Yaş antlaşmalarıyla sağlanan barış ortamından faydalanarak Nizam-ı Cedid ıslahatlarını yapmıştır.
III. Selim dönemi ıslahatlarının başarılı olamayışında aşağıdakilerden hangisi etkili değildir?
A) ıslahat raporlarının etkisi
B) Devlet adamlarının yetersizliği
C) İrad-ı Cedid vergilerinin tepki çekmesi
D) Kabakçı Mustafa İsyanı
E) Yeniçerilerin tepkisi

21. Osmanlı Devleti'nde ilk dış borç aşağıdakilerden hangisi döneminde alınmıştır?
A) I. Abdülhamit
B) Sultan Abdülmecit
C) II. Mahmut
D) III. Selim
E) III. Mustafa

22. Rusya 18. yüzyılda sıcak denizlere ulaşabilmek ve ticaretini canlandırabilmek için,
I. Kırım'a yerleşmek,
II. Ortodoksları himaye etmek,
III. Lehistan'ı ele geçirmek
hedeflerinden öncelikle hangisini gerçekleştirmeye çalışmıştır?
A) Yalnız I B) Yalnız II C) I ve II
D) II ve III E) I, II ve III

23. Mondros Ateşkesi'yle Anadolu'da azınlıklar ayaklanmışlar, çeteler oluşturarak faaliyetlerini artırmışlardır.
Aşağıdakilerden hangisi azınlıkların amaçlarından sayılamaz?
A) Türklerle dayanışma içinde olma
B) Anadolu'nun işgaline zemin hazırlama
C) Wilson İlkeleri'ne göre bağımsız devlet kurma
D) Katliam propagandasıyla kamuoyunu yanıltma
E) Türkleri göçe zorlayıp azınlık durumuna düşürme

24. II. Dünya Savaşı öncesi gerçekleşen,
- Balkan Pakti
- Sadabat Pakti
oluşumlarının ortak amacı aşağıdakilerden hangisidir?
A) Misak-ı Milli sınırlarını gerçekleştirmek
B) Dış tehlikelere karşı güvenlik önlemi almak
C) Suriye sınırını kesinleştirmek
D) Balkanların güvenliğini sağlamak
E) Boğazların güvenliğini sağlamak

25. Osmanlı Devleti'nin Yükselme devrinde Marmara ve Ege adalarında etkinlik kurması aşağıdaki devletlerden hangilerini rahatsız etmiştir?

- A) İspanya - Portekiz
B) Bizans - Fransa
C) Venedik - Ceneviz
D) Ceneviz - Fransa
E) İspanya - Yunanistan

26. I. Yunanistan'ın bağımsızlık kazanması
II. Bab-ı Ali baskınının gerçekleşmesi
III. Avusturya'nın Bosna Hersek'i işgalini açıklaması
Yukarıdaki olaylardan hangileri II. Meşrutiyet'in ilanından sonra gerçekleşmiştir?

- A) Yalnız I B) Yalnız II C) Yalnız III
D) I ve II E) II ve III

27. Aşağıdakilerden hangisi Duraklama Dönemi İslahatlarının başarısız olduğunu göstermez?

- A) Baskı ve şiddete dayanması
B) İslahatların kişilerce sınırlı kalması
C) Devletin içinde asayişin sağlanması
D) Halk tarafından destek görmemesi
E) Yönetim ve hukuk alanlarında ıslahat yapılması

28. 1878 yılında yapılan Berlin Antlaşması'nda Bulgaristan'ın parçalanmasıyla hangi devletin Balkan egemenliği ve Ege Denizi'ne inmesi engellenmiştir?

- A) Rusya B) Fransa C) İngiltere
D) Almanya E) Avusturya

29. 31 Mart Olayı aşağıdakilerden hangisine karşı yapılmıştır?

- A) Sened-i İttifak'a
B) I. Meşrutiyet'e
C) İslahat Fermanı'na
D) Tanzimat Fermanı'na
E) II. Meşrutiyet'e

30. Ege adaları ve Batı Trakya hangi savaş sonunda Osmanlı egemenliğinden çıkmıştır?

- A) Balkan Savaşları
B) Kırım Savaşı
C) 1877 - 1878 Osmanlı - Rus Savaşı
D) Trablusgarb Savaşı
E) II. Dünya Savaşı

31. Aşağıdaki Türk devletlerinden hangisi ilk kez kağıt ve matbaayı kullanmıştır?

- A) Uygur B) Göktürk C) Kutluk
D) Asya Hunları E) Avrupa Hunları

32. I. Kazasker
II. Sadrazam
III. Defterdar

Yukarıdaki divan üyelerinden hangilerinin sayılarında zamanla artış olmuştur?

- A) Yalnız I B) Yalnız II C) Yalnız III
D) I ve III E) II ve III

33. - Yurtdışı seyahatlerinde pasaport uygulamasının getirilmesi

- Sekban-ı Cedit ordusunun kurulması
- İstanbul'da ilköğretimin zorunlu hale getirilmesi
- Takvim-i Vakayi gazetesinin çıkarılması

18. yüzyılda görülen yukarıdaki ıslahat hareketlerine bakıldığında hangi alanda bir yenilik yapıldığı söylenemez?

- A) Yönetim B) Eğitim C) Ekonomi
D) Askeri E) Kültür

34. SSCB'nin Avrupa'da egemenlik kurmaya başlaması ABD'yi bazı önlemler almaya sevk etti.

Aşağıdakilerden hangisi ABD'nin aldığı öncelikli önlemlerden birisidir?

- A) Marshall Planı'nı hayata geçirmek
B) Soğuk savaş politikasını uygulamak
C) NATO'nun kuruluşuna öncülük etmek
D) Monroe Doktrini'ni uygulamaya koymak
E) Rusya'ya savaş açmak

35. Uluslararası mücadele, farklı dünya görüşlerinin çatışmasıyla oluştu. "Soğuk Savaş" olarak adlandırılan dönemde bu devletler aralarındaki anlaşmazlık ve çatışmaları doğrudan birbirlerine karşı sıcak bir savaşa girmeden sürdürdüler.

Avrupa'da hangi gelişme sonucu soğuk savaş başlamıştır?

- A) Sanayi inkılabı
B) II. Dünya Savaşı
C) I. Dünya Savaşı
D) 1848 İhtilali
E) ABD'nin Japonya'ya atom bombası atması

36. II. Dünya Savaşı'nda ortaya çıkan fikir ayrılıkları belirginleşince devletlerarası kutuplaşmalar görüldü.

Buna göre savaş sonunda ideolojik ayrılığa dayalı kutuplaşmanın liderliğini yapan devletler aşağıdakilerden hangileridir?

- A) Japonya - ABD
B) SSCB - İngiltere
C) Almanya - Fransa
D) SSCB - Japonya
E) ABD - SSCB

37. Aşağıdakilerden hangisi II. Dünya Savaşı'nda Türkiye'de izlenen ekonomik politikaların hedefleri arasında yer almaz?

- A) Mal darlığını hafifletmek
B) Büyümeyi ve gelişmeyi hızlandırmak
C) Fiyat artışını engellemek
D) Sosyal adaleti sağlamak
E) Karaborsa ile mücadele etmek

38. Japonya, 1920'li ve 1930'lu yıllarda Uzak Doğu'nun en güçlü devleti oldu. Uzak Doğu'da topraklarını genişletmek isteyen Japonya, doğal kaynaklar açısından zengin olan Mançurya ve Çin'e egemen olup Asya içlerine kadar yayılmak istedi.

Bu durumun Avrupa devletleri üzerindeki etkisi hangi seçenekte doğru olarak verilmiştir?

- A) Japonya'ya karşı yeni tedbirler almak
B) Japonya'nın silahlanmasını engellemek
C) Dünya barışı için yeni örgütler kurmak
D) Japonya'ya karşı Çin'i desteklemek
E) NATO'yu kurmak

39. I. Dünya Savaşı sonucunda meydana gelen bazı gelişmeler Avrupa diplomasisi ve kuvvetler dengesini temelinden sarsmıştır.

Aşağıdaki seçeneklerden hangisi bu bilgiyi destekler niteliktedir?

- A) İmparatorlukların parçalanması
B) Milletler Cemiyeti'nin kurulması
C) Manda ve himayenin ortaya çıkması
D) Varşova Paktı'nın kurulması
E) II. Dünya Savaşı'nın başlaması

40. Türkiye'nin sınırları aşağıdakilerden hangi anlaşmayla son halini almıştır?

- A) Lozan B) Kars C) Ankara
D) Sevr E) Gümrü

41. Aşağıdakilerden hangisi II. Dünya Savaşı'ndan sonra görülen gelişmeler arasında yer almaz?

- A) Hatay'ın Türkiye'ye katılması
B) Türkiye'nin çok partili rejime geçmesi
C) SSCB'nin Balkanlara hakim olması
D) Almanya'nın ikiye ayrılması
E) NATO'nun kurulması

42. Aşağıdakilerden hangisi Yugoslavya'nın parçalanmasıyla ortaya çıkan devletlerden biri değildir?

- A) Sırbistan B) Hırvatistan C) Makedonya
D) Çekoslovakya E) Kosova

43. Dünya barışına katkıda bulunmayı ilke edinen Türkiye aşağıdaki ülkelerden hangisine daha önce asker göndermiştir?

- A) Arnavutluk
B) Kore
C) Bosna - Hersek
D) Afganistan
E) Kosova

44. Aşağıdakilerden hangisi Türkiye'nin NATO'ya girişini hızlandırmıştır?

- A) Trablusgarp Savaşı
B) I. Dünya Savaşı
C) II. Dünya Savaşı
D) Kıbrıs Barış Harekati
E) Kore Savaşı

körfez YAYINLARI

LYS-4 TARİH BRANŞ DENEMESİ-5

Bu Testte;

Toplam 44 adet soru bulunmaktadır. Cevaplama Süresi 65 dakikadır.

1. Rusya'nın Panislavizm politikası, milliyetçilik ilkesiyle daha da tehlikeli bir hal almış ve Osmanlı Devleti'nin yıkılışına zemin hazırlamıştır.

Osmanlı Devleti için geçerli olan bu olumsuz durumun aşağıdakilerden hangisi için de geçerli olduğu savunulabilir?

- A) İtalya B) İngiltere C) Almanya
D) Fransa E) Avusturya

2. I. Babürler
II. Memlükler
III. Harzemşahlar

Yukarıdaki devletlerden hangileri varlıklarını 19. yüzyıla kadar sürdürmüştür?

- A) Yalnız I B) Yalnız II C) Yalnız III
D) I ve II E) I ve III

3. "Göçebe hayat tarzını benimseyen topluluklar, kalabalık nüfuslu, yerleşik hayatı benimsemiş topluluklar içine girdiklerinde genellikle benliklerini yitirmişlerdir." diyen bir tarihçi aşağıdakilerden hangisi kanıt olarak gösterebilir?

- A) Atilla'nın Roma Seferini
B) Göktürk Anıtlarının dikilmesini
C) Avrupa Hun Devleti'nin Hıristiyan olması
D) Uygurların Budizm ve Maniheizm'i benimsemelerini
E) Kutluk Kağan'ın isyan ederek Çin hakimiyetinden kurtulmasını

4. Büyük Selçuklu Devleti zamanında yapılan,

- I. Malazgirt Savaşı,
II. Bağdat Seferi,
III. Pasinler Savaşı

gibi olayların kronolojik sırası aşağıdakilerden hangisinde verilmiştir?

- A) I - II - III B) I - III - II C) II - III - I
D) III - I - II E) III - II - I

5. Timur'un, Ankara Savaşı'ndan sonraki amacını aşağıdakilerden hangisi en iyi açıklar?

- A) Avrupa'da bir Türk devleti kurmak
B) Doğu'ya yönelip Çin üzerine gitmek
C) Hindistan'daki Babür İmparatorluğu'nu yıkmak
D) Akkoyunlular'ı baskı altında tutup gelişmesini önlemek
E) Memlükler'i de ortadan kaldırarak cihan hakimi-yeti iddiasını sürdürmek

6. Osmanlı Devleti'nde Anadolu ve Rumeli eyaletlerinin dışında uygulanan ve hazinenin nakit ihtiyacını karşılayan sistemin adı aşağıdakilerden hangisidir?

- A) İltizam
B) Dirlük
C) Lonca
D) İskan
E) Zeamet

7. Osmanlı Devleti'nde savaş esirlerinden bazıların seçilerek orduda görevlendirilmesi uygulamasına ne ad verilir?

- A) Pençik B) İltizam C) Devşirme
D) İkta E) Tımar

8. İngiltere, Osmanlı Devleti'nin I. Dünya Savaşı'na girmesiyle aşağıdakilerden hangisini topraklarına kattığını ilan etmiştir?

- A) Mısır B) Kıbrıs
C) Ege Adaları D) Irak
E) Arabistan

körfez YAYINLARI

9. Osmanlı Devleti'nde İslam hukukuna dayalı olarak hazırlanan Medeni Kanun'a aşağıdaki isimlerden hangisi verilmiştir?

- A) Kanunname-i Ali Osman
B) Mebuslar Meclisi
C) Halepa Fermanı
D) Kanun-ı Esasi
E) Mecelle

10. Aşağıdakilerden hangisi Türklerin Ortaçağ boyunca kullandıkları alfabeler arasında gösterilemez?

- A) Göktürk alfabesi
B) Uygur alfabesi
C) Soğd alfabesi
D) Arap alfabesi
E) Latin alfabesi

11. Osmanlı Devleti'nin Balkan Savaşları sonucunda Yunanistan ve Bulgaristan ile yaptığı antlaşmalar aşağıdakilerden hangisinde verilmiştir?

- A) Atina - Paris
B) Atina - İstanbul
C) Bükreş - Londra
D) Londra - İstanbul
E) İstanbul - Bükreş

12. Osmanlı Devleti'nin I. Meşrutiyet devrinde milletvekili olabilmek için,

- I. müslüman olmak,
II. Osmanlı vatandaşı olmak,
III. askerliğini yapmış olmak

durumlarından hangileri gereklidir?

- A) Yalnız I B) Yalnız II C) I ve II
D) I ve III E) II ve III

13. I. Fethedilen yerlere Türkmenlerin yerleştirilmesi
II. Rumeli ve Anadolu Beylerbeylikleri'nin kurulması
III. Devşirme sistemi ile asker ihtiyacının karşılanması

Osmanlı Devleti'nin yukarıdaki uygulamalarından hangileri ile fethedilen yerlerin elde tutulması için nüfus gücü kullanılmıştır?

- A) Yalnız I B) Yalnız II C) Yalnız III
D) I ve III E) II ve III

14. XIX. yüzyıl sonlarıyla XX. yüzyıl başlarında, temelde ekonomik nedenlerle Avrupa'nın büyük devletleri Anlaşma ve Bağlaşma olarak bloklara ayrılmıştır.

I. Dünya Savaşı'nın çıkmasına aşağıdaki devletlerden hangilerinin izlediği politika daha çok etkili olmuştur?

- A) Almanya - İngiltere
B) İtalya - Almanya
C) İngiltere - Fransa
D) Almanya - Rusya
E) Osmanlı - İngiltere

15. I. Resim
II. Mimari
III. Maden işlemeciliği

Yukarıda verilenlerden hangileri İslam öncesi Türk toplumunda gelişmiş olan sanatlar arasında gösterilebilir?

- A) Yalnız I B) Yalnız II C) Yalnız III
D) I ve II E) II ve III

16. Osmanlı Devleti aşağıdaki antlaşmalardan hangisiyle topraklarında yaşayan Ortadoksların koruyucusu olma yetkisini Rusya'ya vermiştir?

- A) Yaş Antlaşması
B) Bucaş Antlaşması
C) Karlofça Antlaşması
D) Pasarofça Antlaşması
E) Küçük Kaynarca Antlaşması

17. Aşağıdakilerden hangisi Kanun-ı Esasi'nin özellikleri arasında gösterilemez?

- A) Türk tarihinin ilk anayasasıdır.
B) Ayan Meclisi üyeleri halk tarafından seçilir, ömür boyu görevde kalır.
C) Bazı hükümleri ulusal egemenlik ve demokrasi ilkeleri ile bağdaşmaz.
D) Halk yönetime ortak edilmiştir.
E) Padişah yetkileri yasalasmış, hükümet padişaha karşı sorumlu hale getirilmiştir.

18. İslamiyet öncesi Türk devletlerinde,

- I. Merkezi otorite zayıftır.
II. Türkler teşkilatçı bir yapıya sahiptir.
III. Ülke doğu ve batı şeklinde yönetilmiştir.

yargılarından hangileri Türk devletlerinin kısa sürede yıkılma nedenleri arasında gösterilebilir?

- A) Yalnız I B) I ve II C) I ve III
D) II ve III E) I, II ve III

19. Anadolu Selçuklu Devleti'nde,

- I. Başkentini Konya'ya taşınması,
II. Anadolu'nun Moğol hakimiyetine girmesi,
III. Anadolu siyasi birliğinin büyük ölçüde sağlanması

gelişmeleri sırasıyla aşağıdaki hangi dönemlerde yaşanmıştır?

	I	II	III
A) Kuruluş	Yükselme	Dağılma	
B) Yükselme	Kuruluş	Dağılma	
C) Kuruluş	Dağılma	Yükselme	
D) Dağılma	Kuruluş	Yükselme	
E) Dağılma	Yükselme	Kuruluş	

20. - Batı Karahanlılar'ı yıkmışlardır.

- Moğollara karşı mücadele etmişlerdir.
- Türkiye Selçukluları ile yaptıkları Yassı Çimen Savaşı'nı kaybetmişlerdir.

Yukarıda verilen özellikler hangi Türk devletine aittir?

- A) Eyyubiler
B) Gazneliler
C) Memlükler
D) Tolunoğulları
E) Harzemşahlar

21. I. Öşür
II. Cizye
III. Haraç

Yukarıdakilerden hangileri Osmanlı Devleti'nde Müslümanlardan alınan vergiler arasında gösterilebilir?

- A) Yalnız I B) Yalnız II C) I ve II
D) I ve III E) II ve III

22. Aşağıdakilerden hangisi Göktürk Devleti'nin genel özellikleri arasında gösterilemez?

- A) İlk Türk alfabesini kullanmıştır.
B) Türk adıyla kurulan ilk devlettir.
C) Maniheizm dinini benimsemiştir.
D) En geniş sınırlara ulaşan Türk Devletidir.
E) Batı Türkistan'ın Türkleşmesini sağlamıştır.

23. I. İtalya
II. Rusya
III. Fransa

Yukarıdaki devletlerden hangileri Mondros Ateşkes Antlaşması'ndan sonra Anadolu'da işgalde bulunmamıştır?

- A) Yalnız I B) Yalnız II C) I ve II
D) I ve III E) II ve III

24. II. Meşrutiyet döneminde Osmanlı Devleti'nin resmi politikası haline gelen fikir akımı aşağıdakilerden hangisidir?

- A) Batıcılık
B) İslamcılık
C) Türkçülük
D) Osmanlılık
E) Adem-i Merkeziyetçilik

25. İslamiyet'ten önceki Türk toplumlarında sınıfsal farklılık ve köleciliğin görülmemesi nedeni olarak aşağıdakilerden hangisi gösterilebilir?

- A) İkilî hükümdarlık sistemi
B) Boylar halinde yaşamaları
C) Gök Tanrı inancının benimsenmesi
D) Devletin hanedanın ortak malı sayılması anlayışı
E) Toprağa dayalı bir ekonomik anlayışın olmaması

26. I. Saruhanoğulları
II. Menteşeoğulları
III. Germiyanoğulları

Kösedağ Savaşı'ndan sonra Anadolu'da kurulan yukarıdaki beyliklerden hangilerinin denizcilikle uğraştığı söylenebilir?

- A) Yalnız I
B) Yalnız II
C) I ve II
D) I ve III
E) II ve III

27. Osmanlı Devleti'nin Ankara Savaşı'ndan sonra Balkanlar'da yeniden eski gücüne kavuştuğunu gösteren ilk olay aşağıdakilerden hangisinde verilmiştir?

- A) Varna Savaşı
B) Mohaç Savaşı
C) I. Viyana Kuşatması
D) İstanbul'un Fethi
E) II. Kosova Savaşı

28. İslamiyet'ten önceki Türk toplumlarında ahiret inancının varlığına aşağıdakilerden hangisi kanıt olarak gösterilebilir?

- A) Kut anlayışının görülmesi
B) Boylar halinde göçebe yaşam tarzı
C) Ötügen'in kutsal merkez kabul edilmesi
D) Kurgan denilen büyük mezarların varlığı
E) Devletin hanedanın ortak malı sayılması

29. Aşağıda verilen dağılma dönemi yeniliklerinden hangisiyle Avrupa tarzı hukuk kurallarının Osmanlı Devleti'nde de geçerli olmaya başladığı söylenebilir?

- A) Mecelle'nin hazırlanması
B) Sened-i İttifak'ın yapılması
C) Tanzimat Fermanı'nın ilanı
D) Divan-ı Hümayun'un kaldırılması
E) Vergilerin herkesin gelirine göre toplanmaya başlanması

30. Defterdarlar Osmanlı Devleti'nde mali işlerden sorumlu bakanlar idi. Fatih döneminde biri Rumeli, diğeri Anadolu defterdarı olmak üzere sayıları ikiye, XVI. yüzyılın sonlarında ise üçe çıkarıldı.

Buna göre defterdarların zamanla sayılarının artmasının nedeni aşağıdakilerden hangisidir?

- A) Avrupa'dan etkilenilmesi
B) Ülke sınırlarının genişlemesi
C) Merkezi otoritenin zayıflaması
D) Anadolu'daki isyanların artması
E) Rumeli Beylerbeyliği'nin kurulması

31. Milliyetçilik düşüncesi sonucu Osmanlı Devleti'nde bağımsızlık için ilk ayaklanan ve ilk kez bağımsızlığını kazanan uluslar aşağıdakilerden hangisinde verilmiştir?

- A) Araplar - Sırlar
B) Sırlar - Rumlar
C) Bulgarlar - Rumlar
D) Rumlar - Bulgarlar
E) Sırlar - Bulgarlar

32. Büyük Selçuklu Devleti'nin yıkılışında,

I. Katvan Savaşı,

II. Batınlık hareketi,

III. Baba İshak Ayaklanması

gelişmelerinden hangileri etkili olmamıştır?

- A) Yalnız I
B) Yalnız II
C) Yalnız III
D) I ve III
E) II ve III

33. İkinci Dünya Savaşı'ndan sonra aşağıdaki hangi devletin yayımladığı politikalarının önüne geçmek amacıyla 1948 yılında NATO kurulmuştur?

- A) Sovyet Rusya
B) Almanya
C) İtalya
D) Fransa
E) İngiltere

34. İngiltere, Filistin topraklarında bir Yahudi devletinin kurulmasını aşağıdakilerden hangisiyle kabul etmiştir?

- A) Paris Barış Konferansı
B) Londra Konferansı
C) Balfour Deklarasyonu
D) Potsdam Konferansı
E) Yalta Konferansı

35. İslam Konferansı Teşkilatı'na üye ülkeler arasında aşağıdakilerden hangisi yer almaz?

- A) Türkiye
B) Mısır
C) Hindistan
D) Cezayir
E) Pakistan

36. Soğuk Savaş Dönemi'nde görülen aşağıdaki gelişmelerden hangisinde Türkiye'de yer almıştır?

- A) Vietnam Savaşı
B) Kore Savaşı
C) Keşmir Savaşı
D) Afganistan Savaşı
E) Kamboçya Savaşı

37. I. Çok partili hayata geçilmesi
II. Ekonomide devletçi politikaların uygulanması
III. Demokrat Parti'nin iktidara gelmesi

Yukarıdakilerden hangileri II. Dünya Savaşı sonrası Türkiye'de yaşanan gelişmelerdendir?

- A) Yalnız I
B) Yalnız II
C) I ve II
D) I ve III
E) I, II ve III

38. Varşova Paketi'nin kurulmasında önderlik yapan ülke aşağıdakilerden hangisidir?

- A) ABD
B) Çin
C) SSCB
D) Fransa
E) İsrail

39. Aşağıdakilerden hangisi Birleşmiş Milletler Güvenlik Konseyi üyesi değildir?

- A) Çin
B) Japonya
C) Fransa
D) SSCB
E) ABD

40. Aşağıdakilerden hangisi II. Dünya Savaşı'nın sonuçlarından birisi değildir?

- A) Savaşı Müttefik Devletler kazandı.
- B) Soğuk savaş dönemi başladı.
- C) Nazizm ve Faşizm sona erdi.
- D) Çin'de komünizm yayıldı.
- E) İmparatorluklar dağıldı.

41. ABD, aşağıdaki hangi gelişmenin sonucunda II. Dünya Savaşı'na katılmıştır?

- A) Barborassa Harekati
- B) Normandiya Çıkartması
- C) Stalingrad Çıkartması
- D) Pearl Harbour Saldırısı
- E) Mançurya Saldırısı

42. Petrol fiyatlarını yüksek seviyeye çıkarmak ve üretici ülkeler arasında teknik konularda işbirliği sağlamak için oluşturulan uluslararası kuruluş aşağıdakilerden hangisidir?

- A) CENTO
- B) OPEC
- C) OECD
- D) AGİK
- E) NATO

43. 1960'ta Bağdat'ta toplanan konferans sonucunda petrol ihraç eden ülkeler teşkilatı anlamında OPEC kuruldu.

Kurucu üyeleri arasında aşağıdaki devletlerden hangisi yoktur?

- A) İran
- B) Suudi Arabistan
- C) Irak
- D) Venezuela
- E) Yemen

44. 1947'de İngiltere'nin bölgeden çekilmesi sonucu Keşmir meselesi ortaya çıkmıştır. Bu mesele aşağıdaki devletlerden hangilerini daha fazla etkilemiştir?

- A) Afganistan - Hindistan
- B) Hindistan - Çin
- C) Afganistan - Çin
- D) Pakistan - Hindistan
- E) Pakistan - Çin

KÖRFEZ YAYINLARI

LYS-4 TARİH BRANŞ DENEMESİ-6

Bu Testte;

Toplam 44 adet soru bulunmaktadır. Cevaplama Süresi 65 dakikadır.

1. İlk Türk devletlerinin kısa sürede yıkılmasının nedenleri arasında aşağıdakilerden hangisi gösterilemez?

- A) Çin baskısının artması
- B) Geleneksel Türk veraset anlayışı
- C) Teşkilatçı bir yapıya sahip olmaları
- D) Merkezîyetçi yönetimi benimsememeleri
- E) Boylar arasında mücadelelerin yaşanması

2. Osmanlı Devleti'nin Berlin Antlaşması (1878) ile Ruslara vermiş olduğu Kars, Ardahan ve Batum aşağıdaki hangi antlaşma ile geri alınmıştır?

- A) Ankara Antlaşması
- B) İstanbul Antlaşması
- C) Moskova Antlaşması
- D) Brest - Litovsk Antlaşması
- E) Mondros Ateşkes Anlaşması

3. XVI. yüzyılda Avusturya'ya karşı sağlanan üstünlük, aşağıdaki hangi antlaşmayla bozularak her iki taraf siyasi bakımdan birbiriyle eşit konuma gelmiştir?

- A) Bucaş Antlaşması
- B) İstanbul Antlaşması
- C) Karlofça Antlaşması
- D) Zitvatorok Antlaşması
- E) Ferhat Paşa Antlaşması

4. Aşağıdakilerden hangisi Anadolu Selçuklu hükümdarlarının ticaret hacmini artırmak için yaptığı çalışmalar arasında gösterilemez?

- A) Sinop'un fethedilmesi
- B) Kervansarayların yapılması
- C) Gümrük vergilerinin artırılması
- D) Sigorta sisteminin uygulanması
- E) Yabancı tüccarların ülkenin önemli ticaret merkezlerine yerleştirilmesi

5. Büyük bir sömürge imparatorluğu kuran İngiltere, XIX. yüzyılın sonlarına kadar Osmanlı toprak bütünlüğünü savunmuştur.

İngiltere'nin, "Osmanlı Devleti'nin toprak bütünlüğünü koruma" politikasını uygulamasının nedenleri arasında aşağıdakilerden hangisi gösterilemez?

- A) Sömürgelerine giden yolların güvenliğini sağlamak istemesi
- B) Osmanlı Devleti'nin hammadde ve pazar olanaklarından yararlanması
- C) Rusya ve Fransa gibi devletlerin Osmanlı Devleti'ne hakim olmasını engellemek istemesi
- D) Sömürgelerine giden yolların zayıf Osmanlı topraklarından geçmesi
- E) Osmanlı Devleti'nin Almanya ile yakınlaşması

6. Aşağıdakilerden hangisi Malazgirt Savaşı'ndan sonra kurulan beyliklerden biridir?

- A) Germiyanogulları
- B) Danişmentliler
- C) Karesioğulları
- D) Hamitoğulları
- E) Aydınoğulları

7. Osmanlı Devleti Dağılma devrinde aşağıdaki devletlerden hangisiyle mücadele etmemiştir?

- A) İtalya
- B) Rusya
- C) Fransa
- D) İngiltere
- E) Venedik

8. Osmanlı Devleti'nde aşağıdaki toprak türlerinden hangisi devlet arazisi değildir?

- A) Mülk
- B) Vakıf
- C) Dirlük
- D) Yurtluk
- E) Ocaklık

KÖRFEZ YAYINLARI

9. I. Dandanakan
II. Pasinler
III. Malazgirt
Yukarıdaki savaşların kronolojik sırası aşağıdakilerden hangisinde verilmiştir?
A) I, II, III B) I, III, II C) II, I, III
D) II, III, I E) III, I, II
10. - Osmanlı Devleti'nin I. Dünya Savaşı'ndan mağlup ayrılması
- Osmanlı yönetiminin halkın güvenliğini sağlayamaması
- Mondros Ateşkesi'nden sonra Türk ordusunun terhis edilmesi
Yukarıdaki gelişmeler aşağıdakilerden hangisinin oluşumuna zemin hazırlamıştır?
A) Hareket Ordusu
B) Kuva-yı İnzibatiye
C) Tekalif-i Milliye
D) Kuva-yı Milliye
E) Manda ve Himaye
11. Aşağıdakilerden hangisi Türk - İslam devletleri arasında yer almaz?
A) Akşitler
B) Fatımiler
C) Eyyubiler
D) Memlükler
E) Tolunoğulları
12. Ortaçağ Avrupası ile Türk - İslam dünyası arasındaki farklılıklar içerisinde,
I. hür düşüncenin yaygınlığı,
II. toplumun sosyal sınıflara ayrılması,
III. bilim ve teknik alanlarda gelişmişlik durumlarından hangileri gösterilebilir?
A) Yalnız I B) Yalnız II C) I ve II
D) I ve III E) I, II ve III

kÖrfez YAYINLARI

13. XIX. yüzyıldan itibaren Avrupa'da yeni devletler kurulmuş, şehirler büyümüş, hızlı nüfus artışı ve ekonomik gelişmeler yaşanmıştır.
Aşağıdakilerden hangisinin Avrupa'da meydana gelen bu gelişmelerin yaşanmasında etkili olduğu söylenemez?
A) Tarımın önemini yitirmesi
B) Uluslararası ticaretin gelişmesi
C) Köyden kente göçün hızlanması
D) Milliyetçi düşüncenin yaygınlaşması
E) Mutlakiyetçi devlet yapısının güçlenmesi
14. Osmanlı Devleti Dağılıma devrinde II. Mahmut, yayınladığı bir fermanla, "kişinin malına devletçe el konulması" geleneğini kaldırarak aşağıdakilerden hangisini amaçlamıştır?
A) Devletin gelirlerini artırmayı
B) Serbest ekonomi modelini benimsemeyi
C) Osmanlı Devleti'ni Batı ile bütünleştirmeyi
D) Mülkiyet hakkının güvence altına alınmasını
E) Gelir dağılımındaki dengesizliklerin giderilmesini
15. Osmanlı Devleti'nde nişancılar,
I. diriliklerin dağıtılması,
II. fethedilen arazilerin tahrir defterine yazılması,
III. mektup, berat ve fermanlara padişahın tuğrasının çekilmesi
gibi görevlerden hangilerini üstlenmişlerdir?
A) Yalnız I B) Yalnız II C) I ve II
D) II ve III E) I, II ve III
16. Aşağıdakilerden hangisi İslam öncesi Türk devletlerinde yer alan Kurultay'ın özelliklerinden biri değildir?
A) Danışma meclisi özelliği taşırdı.
B) Üyelerinin 2 yıl görev süresi vardı.
C) Hükümdar ve veliahtı belirleyebilirdi.
D) Boy beyleri, ileri gelen devlet ve din adamları katılırdı.
E) Siyasi, sosyal ve ekonomik sorunlar ile ilgili kararlar alabilirdi.

17. Osmanlı Devleti'nin Boğazlar üzerindeki egemenlik hakkını son kez tek başına kullandığı antlaşma aşağıdakilerden hangisidir?
A) Kütahya Antlaşması
B) Lozan Barış Antlaşması
C) Balta Limanı Antlaşması
D) Hünkar İskelesi Antlaşması
E) Montrö Boğazlar Sözleşmesi
18. Aşağıdakilerden hangisi Anadolu'da kurulan ilk Türk beyliklerinin özelliklerinden değildir?
A) Anadolu'yu bayındır hale getirdiler.
B) Malazgirt Savaşı'ndan sonra kuruldular.
C) Anadolu'nun Türkleşmesini tamamladılar.
D) Anadolu'da yeni yerleşim merkezleri kurdular.
E) Haçlılar, Gürcüler ve Ermenilerle mücadele ettiler.
19. Osmanlı Devleti ilk dış borcunu aşağıdaki devletlerin hangisinden almıştır?
A) Rusya
B) İngiltere
C) Venedik
D) Lehistan
E) Almanya
20. Mondros Ateşkes Anlaşması'ndan sonra Rum ve Ermeni azınlıkların harekete geçerek Osmanlı Devleti'nden pay istemelerindeki dayanakları aşağıdakilerden hangisidir?
A) Wilson İlkeleri
B) Sevr Barış Antlaşması
C) Paris Barış Konferansı
D) Mondros Ateşkes Anlaşması
E) Mudanya Ateşkes Anlaşması
21. Türklerin İslam kültür ve medeniyetine katkı sağladığı sanat dalları arasında,
I. minyatür,
II. dokumacılık,
III. heykeltıraşlık
hangileri gösterilebilir?
A) Yalnız I B) Yalnız II C) I ve II
D) I ve III E) II ve III
22. Osmanlı Devleti'nin, aşağıda verilen hangi olayla Anadolu birliğini sağlamaya çalıştığı söylenemez?
A) Otlukbeli Savaşı
B) Turnadağ Savaşı
C) Mohaç Meydan Muharebesi
D) Karamanoğulları ile mücadele etmesi
E) Trabzon Rum İmparatorluğu'na son vermesi
23. Türkler diğer toplumları bazı alanlarda etkilemiş, bazı alanlarda da onlardan etkilenmiştir. Aşağıdakilerden hangisi buna örnek olamaz?
Etkilediği Etkilendiği
A) Teşkilatlanma Yaşam şekli
B) Yönetim şekli Dini inanışlar
C) Askeri sistem Ekonomik yapı
D) Yazılı edebiyat Savaş taktikleri
E) Silah kullanımı Teknik gelişmeler
24. I. Halktan ağır vergiler alınması
II. Merkezi otoritenin bozulması
III. Ulusal bağımsızlık düşüncesi
Yukarıdakilerden hangileri 17. yüzyılda Osmanlı devletinde çıkan isyanların nedenleri arasında yer alır?
A) Yalnız I B) Yalnız II C) Yalnız III
D) I ve II E) II ve III

kÖrfez YAYINLARI

25. Osmanlı Devleti'nin savaştığı,

- I. Kafkas,
- II. Çanakkale,
- III. Hicaz - Yemen

cephelerinden hangilerinde Arap milliyetçiliğinin olumsuz etkisi görülmüştür?

- A) Yalnız I
- B) Yalnız II
- C) Yalnız III
- D) I ve II
- E) I, II ve III

26. Aşağıdakilerden hangisi Osmanlı Devleti'nde taht kavgalarına son vermek amacıyla uygulanmıştır?

- A) Tımar sistemi
- B) İltizam sistemi
- C) İskan politikası
- D) İstimalat politikası
- E) Ekber ve Erşed sistemi

27. XIX. yüzyıl olayları arasında aşağıdakilerden hangisi Osmanlı Devleti'nin dağılmasını daha da hızlandırmıştır?

- A) Mısır'ın işgali
- B) Kıbrıs'ın işgali
- C) Halepa Fermanı
- D) Berlin Anlaşması
- E) Paris Antlaşması

28. II. Bayezit döneminin bir "Duraklama devri" olarak nitelendirilmesine aşağıdakilerden hangisi neden olmuştur?

- A) Cem Sultan Olayı
- B) İnebahtı Deniz Savaşı
- C) Rodos'un alınamaması
- D) Hicaz su yolları sorunu
- E) Osmanlı - Venedik ilişkileri

- 29. I. Saray ve tapınak inşası
- II. Dokumacılığın gelişmesi
- III. Uzun süreli hapis cezaları

Yukarıdaki özelliklerden hangilerinin Asya Hun Devleti'nde görülmesi beklenir?

- A) Yalnız I
- B) Yalnız II
- C) I ve II
- D) I ve III
- E) II ve III

30. İstanbul'un fethiyle, Ortodoksların himayesini üstlenen Osmanlı Devleti aşağıdaki antlaşmalardan hangisiyle bu üstünlüğünü kaybetmiştir?

- A) Prut
- B) Pasarofça
- C) Kasr-ı Şirin
- D) Hünkar İskelesi
- E) Küçük Kaynarca

31. Aşağıdakilerden hangisi Büyük Selçuklu Devleti'nin sınırları içinde kurulmamıştır?

- A) Artukoğulları
- B) Fatimiler
- C) Kirman Selçuklu Devleti
- D) Suriye Selçuklu Devleti
- E) Anadolu Selçuklu Devleti

32. Aşağıdakilerden hangisi 13 Nisan 1909'da çıkan 31 Mart Ayaklanması ile ilgili değildir?

- A) İtalya Oniki Ada'yı işgal etmiştir.
- B) II. Abdülhamit tahttan indirilmiştir.
- C) Rejimi değiştirmeye yönelik bir isyandır.
- D) Hareket ordusu tarafından bastırılmıştır.
- E) İttihatçılar yönetiminde etkili olmaya başlamıştır.

33. Köseadağ Savaşı'ndan sonra merkezi otoritenin bozulması ile Anadolu Selçuklu toprakları üzerinde ortaya çıkan beyliklerin özellikleri arasında aşağıdakilerden hangisi gösterilemez?

- A) Haçlılarla mücadele ettiler.
- B) Anadolu'yu bayındır hale getirdiler.
- C) Batı Anadolu'nun Türkleşmesini sağladılar.
- D) Türk kültürünün Anadolu'da yayılmasını sağladılar.
- E) Osmanlı Devleti tarafından hakimiyet altına alındılar.

34. Megola İdea hedefi çerçevesinde Kıbrıs'ın Yunanistan'a bağlanmasını ifade eden düşünce nedir?

- A) ENOSİS
- B) EOKA
- C) TMT
- D) BM
- E) FIVB

35. Birleşmiş Milletler'in barıştan sorumlu kuruluşu aşağıdakilerden hangisidir?

- A) Genel Kurul
- B) Güvenlik Konseyi
- C) Ekonomik ve Sosyal Konsey
- D) Vesayet Konseyi
- E) İnsan Hakları Konseyi

36. Birleşmiş Milletler örgütünün kurulmasına ve San Fransisco'da bir konferansın toplanmasına aşağıdakilerden hangisinde karar verilmiştir?

- A) Yalta Konferansı
- B) Moskova Konferansı
- C) Tahran Konferansı
- D) Kahire Konferansı
- E) Quebec Konferansı

37. Varşova Paketi aşağıdaki örgütlerden hangisine karşı kurulmuştur?

- A) Sadabat Paketi
- B) NATO
- C) BM
- D) Comecon
- E) Cominform

38. Avrupa ülkelerinin yıkılan ekonomilerini düzeltmek ve komünizmin Batı Avrupa'daki yayılışına engel olmak amacıyla hazırlanan plan aşağıdakilerden hangisidir?

- A) Eisenhower Doktrini
- B) Truman Doktrini
- C) Marshall Planı
- D) NATO
- E) BM

39. Filistin'de bir İsrail devletinin kurulmasını amaçlayan plan aşağıdakilerden hangisidir?

- A) Sykes - Picot Anlaşması
- B) Balfour Deklarasyonu
- C) Marshall Planı
- D) Eisenhower Doktrini
- E) Truman Doktrini

40. Aşağıdakilerden hangisi soğuk savaş döneminde ülkeler arasında rekabete neden olan konulardan birisi değildir?

- A) Ekonomik
- B) Teknolojik
- C) Kültürel
- D) Dini
- E) Siyasi

41. Aşağıdakilerden hangisi I. Dünya Savaşı'ndan sonra yenilen devletlerle yapılan barış antlaşmalarının ortak özellikleri arasında yer almaz?

- A) Toprakları küçültmek
- B) Yeni devletler kurmak
- C) Askeri sınırlamalar getirmek
- D) Ekonomik yükümlülükler koymak
- E) Demokratikleştirmek

43. I. Varlık Vergisinin çıkarılması

- II. NATO'ya üye olunması
- III. Köy Enstitülerinin açılması
- IV. Kore Savaşına asker gönderilmesi

Yukarıdaki olayların kronolojik sıralaması aşağıdakilerden hangisidir?

- A) I-II-III-IV
- B) I-IV-II-III
- C) II-IV-I-III
- D) III-I-IV-II
- E) IV-III-I-II

42. Aşağıdakilerden hangisi Yumuşama döneminde Türkiye'nin dış politikasında belirleyici rol oynamıştır?

- A) Kıbrıs sorunu
- B) Ege adaları sorunu
- C) Arap - İsrail savaşı
- D) Ermeni terörü
- E) Körfez krizi

KÖRFEZ YAYINLARI

44. I. Çok partili hayata geçiş denemeleri

- II. Çok partili hayata geçilmesi
- III. Ekonomide liberalizme geçilmesi

Yukarıdakilerden hangileri Soğuk Savaş dönemi Türkiye'si için söylenebilir?

- A) Yalnız I
- B) Yalnız II
- C) I ve II
- D) II ve III
- E) I, II ve III

LYS-4 TARİH BRANŞ DENEMESİ-7

Bu Testte;

Toplam 44 adet soru bulunmaktadır. Cevaplama Süresi 65 dakikadır.

1. 1453 yılında İstanbul'un fethi ile Osmanlı Devleti'nin Anadolu ve Rumeli toprakları arasındaki bütünlük sağlanmıştır.

Yukarıda verilen bütünlük aşağıdaki hangi olay sonucunda bozulmuştur?

- A) Çanakkale Savaşı sonucunda
- B) İkinci Balkan Savaşı sonucunda
- C) Mondros Ateşkes Anlaşması'yla
- D) Birinci Balkan Savaşı sonucunda
- E) İtilaf devletlerinin Osmanlı Mebusan Meclisi'ni dağıtmasıyla

2. Aşağıdakilerden hangisi Osmanlı Devleti'nde toprak sistemi ile ilgili değildir?

- A) Ulufe
- B) Tımar
- C) Öşriyye
- D) Zeamet
- E) Haraciyye

3. MS 4. yüzyılda Avrupa Hun Devleti, batıda Galya'ya kadar uzanmış ve Avrupa'nın büyük bir kısmını ele geçirmişti. Ancak Atilla'nın ölümünden sonra topraklarını büyük bir hızla kaybetmiş ve yıkılmıştır.

Aşağıdakilerden hangisi bu durumun nedenleri arasında gösterilemez?

- A) Yaşanılan topraklardaki Türk nüfusun azınlıkta kalması
- B) Roma ile Avrupa Hun Devleti arasındaki mücadeleler
- C) Avrupa Hunlarının Hıristiyanlığı kabul etmesi
- D) Doğudan gelen Türk göçlerinin kesilmesi
- E) Avrupa Hun Devleti ile Bizans arasında antlaşma yapılmış olması

4. Hunlar ve Göktürkler farklı dönemlerde Orta Asya'da yaşamıştır. Aşağıdakilerden hangisi bu iki Türk devletinin ortak siyasi özellikleri arasında gösterilebilir?

- A) Ok ve yay kullanmaları
- B) Gök tanrı inancına inanmaları
- C) Türk birliğini sağlamaları
- D) Şehir devletleri halinde yaşamaları
- E) İpek ticaret yolu için mücadele etmeleri

5. II. Murat devrinde kurulan, Fatih devrinde teşkilatlandırılan ve devlet adamı yetiştiren kurum aşağıdakilerden hangisidir?

- A) Dirlik
- B) Tımar
- C) Enderun
- D) Mültezim
- E) Devşirme

6. Aşağıdaki okullardan hangisi Osmanlı Devletinde Ordu'nun Subay ihtiyacının karşılanması amacıyla XVIII. yüzyılda açılmıştır?

- A) Mühendishane-i Berri Hümayun
- B) Asakiri Mansureyi Muhammediye
- C) Sekbanı Cedit
- D) Nizamı Cedit
- E) Yaya ve Müsellem

KÖRFEZ YAYINLARI

7. Göktürkler ile kültürel ve siyasi olarak benzerlik gösteren Türk devleti aşağıdakilerden hangisi olabilir?

- A) Gazneliler
B) Karahanlılar
C) Tolunoğulları
D) Osmanlı Devleti
E) Anadolu Selçuklu Devleti

8. I. Haçlılar ile mücadele etmişlerdir.
II. Şiiliği Doğu Anadolu'da yaymışlardır.
III. Çaldıran Savaşı'nda Osmanlı Devleti'ne yenilmişlerdir.

Yukarıdakilerden hangileri Safeviler'in özellikleri arasında gösterilebilir?

- A) Yalnız I B) Yalnız II C) I ve II
D) II ve III E) I, II ve III

9. I. Pasinler Savaşı
II. Miryokefalon Savaşı
III. Dandanakan Savaşı

Yukarıda verilen savaşlardan hangileri Türk devletleri ile Bizans arasında yapılmıştır?

- A) Yalnız I B) Yalnız II C) Yalnız III
D) I ve II E) II ve III

10. I. Mebuslar Meclisi
II. Tanzimat Fermanı
III. Yeniçeri Ocağı'nın kaldırılması

Yukarıdakilerden hangilerinin Osmanlı Devleti'nde demokrasinin gelişmesine katkısı olmamıştır?

- A) Yalnız I B) Yalnız II C) Yalnız III
D) I ve II E) II ve III

11. Osmanlı Devleti, XIX. yüzyılda ortaya çıkan milliyetçilik isyanları karşısında varlığını devam ettirebilmek amacıyla bir takım önlemler almıştır.

Buna göre,

- I. Sened-i İttifak,
II. Islahat Fermanı,
III. Meşrutiyetin ilanı

gelişmelerinden hangileri bu önlemler arasında gösterilemez?

- A) Yalnız I B) Yalnız II C) I ve II
D) II ve III E) I, II ve III

12. Dağılıma devri ile ilgili verilen aşağıdaki eşleştirmelerden hangisi ilk kez düzenleme yapılan bir durumu göstermez?

- A) Azınlık Sorunu - Kanun-ı Esasi
B) Ayanlık Sorunu - Sened-i İttifak
C) Ermeni Sorunu - Berlin Antlaşması
D) Mısır Sorunu - Kütahya Antlaşması
E) Boğazlar Sorunu - Hünkar İskeleyi Antlaşması

13. Avrupa'da ilk elçiliklerin açılması ve sürekli hale getirilmesi aşağıdaki padişahlardan hangileri döneminde gerçekleşmiştir?

- A) III. Ahmet - III. Selim
B) I. Selim - III. Selim
C) III. Selim - I. Mahmut
D) III. Mustafa - II. Mahmut
E) III. Ahmet - III. Mustafa

14. I. Avrupa'nın örnek alınması
II. İlk kapitülasyonların verilmesi
III. Doğuda en geniş sınırlara ulaşılması

Yukarıdaki olaylardan hangileri XVII. yüzyılda gerçekleşmiştir?

- A) Yalnız I B) Yalnız II C) Yalnız III
D) I ve III E) II ve III

15. Aşağıdaki gelişmelerden hangisi Osmanlı Devleti'nin stratejik önemini artırmıştır?

- A) Coğrafi Keşifler
B) Topraklarının daralması
C) Dışarıdan borç alınması
D) Anadolu nüfusunun artması
E) Hammadde ve sömürgecilik yarışı

16. Afganistan ve Hindistan topraklarında farklı milletleri tek çatı altında toplamayı başaran Türk - İslam devleti aşağıdakilerden hangisidir?

- A) Gazneliler
B) Karahanlılar
C) Altın Orda Devleti
D) Büyük Selçuklu Devleti
E) Anadolu Selçuklu Devleti

17. Aşağıdakilerden hangisi Orta Asya göçlerinin nedenleri arasında gösterilemez?

- A) Kuraklık
B) İç mücadeleler
C) Bağımsız yaşama isteği
D) Avrupa topraklarının verimli olması
E) Salgın hastalıkların ortaya çıkması

18. Aşağıdakilerden hangisi Orta Asya Türk devletlerinin hukuku olan "töre" ile ilgili değildir?

- A) Sözlü kurallardır.
B) Çinlilerden alınmıştır.
C) Anayasa özelliği taşır.
D) Herkes uymak zorundadır.
E) Gerektiğinde değiştirilebilir.

19. Osmanlı Devleti'nde en çok gelişim gösteren sanat dallarından hangisi daha sonra Avrupa'nın etkisinde değişikliğe uğramıştır?

- A) Hat
B) Ebru
C) Mimari
D) Çinicilik
E) Minyatür

20. Osmanlılık ve İslamcılık, Tanzimat ve I. Meşrutiyet dönemlerinde, Türkçülük ve Batıcılık, II. Meşrutiyet döneminde önem kazanmış fikir akımlarıdır. Bunda Osmanlı Devleti'nin siyasi, ekonomik, sosyal ve etnik yapısının da rolü vardır.

Buna göre, aşağıdakilerden hangisi belirtilen düşünce akımlarının ortaya çıkışına ortam hazırlamamıştır?

- A) Fransız İhtilali'ni getirdiği milliyetçilik akımı
B) 93 Harbi'yle Balkan topraklarının kaybedilmesi
C) Osmanlı Devleti'nin Avrupa'daki gelişmeleri takip edememesi
D) Azınlıkların bağımsızlık isyanlarının artması
E) Osmanlı Devleti'nin I. Dünya Savaşı'nı kaybetmesi

21. Anadolu Selçuklu Devleti'nin yıkılmasında,

- I. Batinilerin zararlı çalışmaları,
II. Bağımsız beyliklerin kurulması,
III. Anadolu'nun Moğol hakimiyetine girmesi gibi gelişmelerden hangileri etkili olmuştur?

- A) Yalnız I B) Yalnız II C) I ve II
D) I ve III E) II ve III

22. Karahanlılar'ı diğer ilk Türk - İslam devletlerinden ayıran en belirleyici özellik Türkçe'yi resmi dil olarak kullanmalarıdır. Karahanlılar bu sayede Türk dilinin gelişimine katkıda bulunurlarken diğer Türk - İslam devletlerinde Arapça - Farsça'nın ağırlık kazanması bir anlamda Türk dilinin gelişimini yavaşlatmıştır.

Bu farklılığın ortaya çıkmasında Karahanlılar'ın,

- I. halkın etnik yapısı,
 - II. Anayurt'ta kurulması,
 - III. ilk merkezi Türk devleti oluşu
- özelliklerinden hangileri etkili olmuştur?**
- A) Yalnız I B) Yalnız II C) I ve II
D) I ve III E) I, II ve III

23. Orta Asya Türk topluluklarının,

- I. yazıyı geç kullanmaları,
- II. bağımsız yaşamaya önem vermeleri,
- III. dokumacılık ve dericilik gibi sanatları geliştirmeleri

durumlarından hangileri Türklerin yaşam tarzlarından kaynaklanmaktadır?

- A) Yalnız I B) Yalnız II C) I ve II
D) I ve III E) I, II ve III

24. I. Kırım'ın Fethi
II. Kıbrıs'ın Fethi
III. Preveze Deniz Savaşı

Yukarıdakilerden hangileri Osmanlı Devleti'nin Akdeniz egemenliği ile ilgilidir?

- A) Yalnız I B) Yalnız II C) Yalnız III
D) I ve II E) II ve III

25. İpek Yolu üzerinde hakimiyet kurabilmek için önce Sasaniler'le birleşip Akhunlar'ı yıkan, sonra Bizans'la ittifak yaparak Sasaniler'i yenen devlet aşağıdakilerden hangisidir?

- A) Batı Hunları B) Göktürkler C) Kutluklar
D) Uygurlar E) Sakalar

26. – Birinci Dünya Savaşı'nın uzaması
– İngiliz ve Fransız donanmalarının prestij kaybı
– Rusya'nın Birinci Dünya Savaşı'ndan çekilmesi
- Yukarıdaki gelişmeler aşağıda verilen hangi olay sonrası gerçekleşmiştir?**

- A) Wilson İlkeleri
B) Gizli antlaşmalar
C) Çanakkale Savaşı
D) Mondros Mütarekesi
E) Birinci Balkan Savaşı

27. I. Dünya Savaşı öncesinde İtilaf devletleri, Osmanlı Devleti'nin yaptığı ittifak teklifini reddetmişlerdir.

Aşağıdakilerden hangisi İtilaf devletlerinin bu teklifi reddetmelerinin nedenleri arasında gösterilemez?

- A) Osmanlı Devleti'nin askeri ve ekonomik yönden iyice zayıflamış olması
B) Osmanlı Devleti'ni siyasi yalnızlıktan kurtarmak istemeleri
C) Osmanlı topraklarını paylaşmak istemeleri
D) Osmanlı Devleti'nin kapitülasyonların kaldırılmasını, Ege Adalarının geri verilmesini ve Mısır sorununun çözülmesini istemesi
E) İngiltere'nin Osmanlı topraklarında emelleri olan Rusya gibi bir müttefiki kaybetmek istememesi

28. Aşağıdakilerden hangisi Osmanlı Devleti'nde bir ülke yönetimi birimidir?

- A) Sancak B) Subaşılık C) Kazaskerlik
D) Defterdarlık E) Taht Kadısı

29. Lale Devri yenilikleri arasında aşağıdakilerden hangisi Osmanlı Devleti'nin diplomasiye ilerlemesini sağlamıştır?

- A) Elçiliklerin açılması
B) Matbaanın kullanılması
C) Tercümelerin yapılması
D) Yabancı ülkelere gidilmesi
E) Avrupa tarzı mimarinin gelişmesi

30. Türk - İslam tarihinde Anadolu'nun fethi için yapılan ilk savaş aşağıdakilerden hangisidir?

- A) Pasinler Savaşı
B) Köseadağ Savaşı
C) Malazgirt Savaşı
D) Yassıçemen Savaşı
E) Miryokefalon Savaşı

31. Ruslar aşağıdakilerden hangisi ile dolaylı olarak Akdeniz'e ulaşabilme imkanı elde etmişlerdir?

- A) Brest - Litovsk Antlaşması
B) Ayastefanos Antlaşması
C) Belgrad Antlaşması
D) Berlin Antlaşması
E) Paris Antlaşması

32. Türk-İslam Devletleri'nde,

- I. Medreselerin açılması
- II. İktisat sisteminin uygulanması
- III. Yönetme yetkisinin tanrı tarafından verildiği düşüncesi

uygulamalarından hangileri İslam uygarlığından etkilenildiğini gösterir?

- A) Yalnız I B) Yalnız II C) Yalnız III
D) I ve II E) II ve III

33. Oğuz Türklerinin XI. yüzyıl boyunca Anadolu'ya yaptıkları akınlarla,

- I. Bizans direnişinin kırılması,
- II. Anadolu'nun Türk yurdu yapılması,
- III. Anadolu'daki Ermeni, Rum ve Gürcülerin asimile edilmesi

durumlarından hangilerini amaçladığı söylenebilir?

- A) Yalnız I B) Yalnız II C) I ve II
D) II ve III E) I, II ve III

34. İki savaş arası dönemde Türkiye'de, Cumhurbaşkanlığı yapan devlet adamları arasında,

- I. Mustafa Kemal Paşa
 - II. İsmet İnönü
 - III. Celal Bayar
- hangilerinden söz edilebilir?**
- A) Yalnız I B) Yalnız II C) Yalnız III
D) I ve II E) I, II ve III

35. İngiliz sömürgeciliğinin sona ermesiyle bağımsızlığını kazanan Afrika Devletleri arasında aşağıdakilerden hangisi yer almaz?

- A) Kenya
B) Zaire
C) Uganda
D) Sudan
E) Tanzanya

36. Aşağıdaki Cumhurbaşkanlarımızdan hangisi daha önce başbakanlık görevi yapmamıştır?

- A) Celal Bayar B) İsmet İnönü
C) Cevdet Sunay D) Turgut Özal
E) Abdullah Gül

37. Türk askeri, BM Güvenlik Konseyi tarafından oluşturulan Uluslararası Güvenlik Yardım Kuvvetine 2002'den itibaren katkıda bulunmak için hangi ülkede görev almıştır?

- A) Pakistan B) Arnavutluk
C) Afganistan D) Irak
E) Filistin

38. Savaşta yıkılmış olan Avrupa'nın kalkınması için Marshall Planı hazırlanmıştır.

Bu plana aşağıdaki devletlerden hangisi karşı çıkmıştır?

- A) Yugoslavya B) SSCB
C) Yunanistan D) Türkiye
E) ABD

39. II. Dünya Savaşı'ndan sonra etkin bir güç olmak isteyen Sovyetler Birliği Doğu Avrupa'da etkili olmaya başlamıştır.

Aşağıdakilerden hangisi Sovyet Rusya'nın NATO'ya karşı kurduğu bir örgüttür?

- A) Kellog Pakti B) Molotof Planı
C) Varşova Pakti D) Cominform
E) Balkan Pakti

40. Aşağıdakilerden hangisi II. Dünya Savaşı'ndan ilk çekilen devlettir?

- A) İtalya B) Japonya C) Almanya
D) İspanya E) Çekoslovakya

41. Avrupa'da totaliter rejimlerin ortaya çıkışında aşağıdaki hangi gelişme etkili olmuştur?

- A) II. Dünya Savaşı'nın başlaması
B) Milletler Cemiyeti'nin tasfiye edilmesi
C) I. Dünya Savaşı
D) Rusya'da Bolşevik İhtilali'nin çıkması
E) Barış örgütlerinin dünya barışını sağlamada yetersiz kalması

42. ABD parlamentosunda Avrupalı devletlerin sömürgeci politikalarına karşı "Yalnızlık Politikası" olarak kabul edilen belge aşağıdakilerden hangisidir?

- A) Wilson Prensipleri B) Maternich Sistemi
C) Kyoto Sözleşmesi D) Monroe Doktrini
E) Balfour Deklarasyonu

43. - Sovyet Rusya yüzbinlerce Türk işçi sıfatıyla yaşadığı yerlerden alıp başka bölgelere yerleştirdi.

- Rus olmayan diğer milletleri de Türk topraklarına göç ettirdi.

Bu bilgilere göre Sovyet Rusya'nın amaçları arasında aşağıdakilerden hangisi yer almaz?

- A) Farklı milletleri kaynaştırmak
B) Milli duyguları yok etmek
C) Otoritesini güçlendirmek
D) Ekonomiyi geliştirmek
E) Halkın devlete bağlılığını artırmak

44. Aşağıdakilerden hangisi II. Dünya Savaşı'nda Almanya'nın işgal ettiği devletlerden birisi değildir?

- A) Polonya B) Fransa
C) Norveç D) Belçika
E) İsveç

körföz YAYINLARI

LYS-4 TARİH BRANŞ DENEMESİ-8

Bu Testte;

Toplam 44 adet soru bulunmaktadır. Cevaplama Süresi 65 dakikadır.

1. Aşağıdaki Türk İslam devletlerinden hangisinin Mısır'da kurulduğu söylenemez?

- A) İhşitler
B) Eyyubiler
C) Memlükler
D) Tolunoğulları
E) Harzemşahlar

2. Osmanlı Devleti'nin kaybettiği yerleri geri alma isteği, XX. yüzyılın başlarında aşağıdaki hangi savaşa katılmasına neden olmuştur?

- A) Kırım Harbi
B) Trablusgarb Savaşı
C) İkinci Dünya Savaşı
D) 93 Harbi
E) Birinci Dünya Savaşı

3. Aşağıda verilen eşleştirmelerden hangisi neden - sonuç ilişkisi bakımından yanlıştır?

- | I | II |
|-----------------------------|-----------------|
| A) Girit Meselesi | Halepa Fermanı |
| B) I. Meşrutiyet'in ilanı | 31 Mart Vakası |
| C) Mehmet Ali Paşa İsyanı | Mısır Sorunu |
| D) Mecelle'nin yetersizliği | Medeni Kanun |
| E) Osmanlı Devleti'nin | Islahat Fermanı |
- içişlerine karışılması

4. Aşağıdakilerden hangisi Büyük Selçuklu Devleti'nin yıkılma nedenlerinden değildir?

- A) Katvan Savaşı
B) Köseadağ Savaşı
C) Oğuzların küstürülmesi
D) Atabeyliklerin kurulması
E) Batınilerin olumsuz faaliyetleri

5. Osmanlı Devleti'nin son dönemlerinde milliyetçilik hareketleri sonucu uğradığı toprak kayıpları arasında,

- I. Girit'in Yunanistan'a bırakılması,
II. Kıbrıs'ın üs olarak İngiltere'ye verilmesi,
III. Avusturya'nın Bosna - Hersek'i ilhak etmesi

gelişmelerinden hangileri gösterilebilir?

- A) Yalnız I B) Yalnız II C) Yalnız III
D) I ve II E) II ve III

6. Milletler Cemiyeti aşağıdakilerden hangisinde Türkiye'nin aleyhinde karar vermiştir?

- A) Boğazlar sorunu B) Nüfus mübadelesi
C) Kapitülasyonlar D) Musul sorunu
E) Hatay sorunu

7. Anadolu Selçuklu Devleti'nin Büyük Selçuklu Devleti'nden farklı olarak deniz ticaretinde gelişmesinin en önemli nedeni aşağıdakilerden hangisinde verilmiştir?

- A) Coğrafi konumu
B) Miryokefalon Savaşı
C) Beyliklerin ele geçirilmesi
D) Kervansarayların inşa edilmesi
E) Venedik ve Kıbrıs ile ittifak yapılması

8. I. Kıbrıs Adası'nın fethedilmesi
II. Bulgar Krallığı topraklarının Osmanlı Devleti'ne katılması
III. Kırım Hanlığı'nın Osmanlı Devleti'ne bağlanması

Yukarıdaki fetihlerden hangileri Osmanlı Devleti'nin Kuruluş Dönemi'nde gerçekleştirilmiştir?

- A) Yalnız I B) Yalnız II C) Yalnız III
D) I ve II E) II ve III

körföz YAYINLARI

9. Lale Devri'nde,

- I. teknik,
II. mimari,
III. askeri

alanlardan hangilerinde yenilik yapılmıştır?

- A) Yalnız I B) Yalnız II C) Yalnız III
D) I ve II E) II ve III

10. Aşağıdakilerden hangisi 31 Mart Vakası ile ilgili bir durum değildir?

- A) Rejime karşı çıkarılan bir isyandır.
B) II. Abdülhamid tahttan indirilmiştir.
C) Hıyanet-i Vatan Kanunu çıkarılmıştır.
D) İttihatçıların yönetimdeki etkinliği artmıştır.
E) İttihatçıların kurduğu "Hareket Ordusu" isyanı bastırılmıştır.

11. Osmanlı Devleti'nde merkez ordusuna "Kapıkulu" adı verilmektedir. Süvariler ve piyadeler olarak ayrılan bu ordu için tanımlanan,

- I. başka işlerle uğraşmamaları,
II. sarayın ve sancağın korunması,
III. ulufe adı verilen üç aylık maaş sistemi

özelliklerinden hangileri Duraklama devrine gelindiğinde geçerliliğini kaybetmiştir?

- A) Yalnız I B) Yalnız II C) I ve II
D) I ve III E) II ve III

12. I. Alper Tunga Destanı

- II. Oğuz Kağan Destanı
III. Manas Destanı

Yukarıdaki destanlar Orta Asya Türk topluluklarından hangilerine aittir?

	I	II	III
A) Saka	Hun	Kırgız	
B) Göktürk	Saka	Uygur	
C) Kırgız	Uygur	Kutluk	
D) Kutluk	Saka	Kırgız	
E) Saka	Hun	Uygur	

13. I. Halkın sınıflara ayrılmaması

- II. Halk arasında çeşitli dinlerin yayılması
III. Herkesin töreye uymak zorunda olması

Yukarıdakilerden hangileri Türk devletlerinde özgürlük ve eşitliğe önem verildiğini gösterir?

- A) Yalnız I B) Yalnız II C) I ve II
D) I ve III E) I, II ve III

14. Tarihten bugüne kadar çeşitli uygarlıkların birbirini etkiledikleri görülmüştür. Hellen uygarlığının da İslam uygarlığını etkilediği bilinmektedir.

Bu etkileşime aşağıdaki hangi tür ilişkilerin neden olduğu söylenebilir?

- A) Ekonomik
B) Kültürel
C) Hukuki
D) Siyasi
E) Dini

15. Vakıf sistemi ile ilgili aşağıdakilerden hangisi söylenemez?

- A) Vakıf şartları vakfiyelerde belirtilmiştir.
B) Medreselerde eğitim ücretsiz yapılmıştır.
C) Vakfın yönetiminden mütevellî sorumlu olmuştur.
D) Cami, okul, çeşme, yol, köprü yapımı kolaylaşmıştır.
E) Haraciye ve öşriye vergilerinin düzenlenmesi sağlanmıştır.

16. Mısır sorunu aşağıdakilerden hangisi ile kesin olarak çözümlenmiştir?

- A) Nizip Savaşı
B) Londra Antlaşması
C) Kütahya Antlaşması
D) Balta Limanı Antlaşması
E) Kavalalı Mehmet Ali Paşa İsyanı

17. I. Genç Osmanlılar

- II. İttihat ve Terakki Cemiyeti

Yukarıdaki cemiyetler aşağıdaki hangi gelişmelerin yaşanmasında etkili olmuştur?

	I	II
A) Tanzimat Fermanı	I. Meşrutiyet	
B) Babı Ali Baskını	I. Meşrutiyet	
C) I. Meşrutiyet	II. Meşrutiyet	
D) İslahat Fermanı	II. Meşrutiyet	
E) Tanzimat Fermanı	İslahat Fermanı	

18. Aşağıdaki devletlerden hangileri aynı bölgede kurulmuştur?

- A) Tolunoğulları - İhşitler
B) Karahanlılar - Gazneliler
C) Osmanlı Devleti - Memlükler
D) Osmanlı Devleti - Harzemşahlar
E) Harzemşahlar - Anadolu Selçuklu Devleti

19. I. Avrupa'ya öğrenci gönderilmesi

- II. Avrupa'da sürekli elçiliklerin açılması
III. Yabancıların da Osmanlı Devleti sınırları içinde mülk sahibi olabilmesi

Yukarıdakilerden hangileri Osmanlı Devleti'nin Avrupa'daki gelişmeleri yakından takip etmek için yaptığı çalışmalardandır?

- A) Yalnız I B) Yalnız II C) Yalnız III
D) I ve II E) II ve III

20. I. Eretna Beyliği

- II. Candaroğulları
III. Saruhanoğulları

Yukarıda verilen beyliklerden hangileri Ankara Savaşı'ndan sonra yeniden kurulmamıştır?

- A) Yalnız I B) Yalnız II C) I ve II
D) I ve III E) II ve III

21. Aşağıdaki antlaşmalardan hangileri Osmanlı Devleti'nin XVIII. yüzyılda izlediği genel politikayı belirlemiştir?

- A) Karlofça - Yaş
B) Pasarofça - Zıstovi
C) Karlofça - Pasarofça
D) Prut - Pasarofça
E) Belgrad - Küçük Kaynarca

22. Osmanlı Devleti'nde,

- I. denge siyasetinin izlenmesi,
II. denizcilik faaliyetlerinin başlaması,
III. Avrupa örnek alınarak ıslahatlar yapılması

gelişmeleri sırasıyla aşağıdaki hangi dönemlerde yaşanmıştır?

	I	II	III
A) Gerileme	Yükselme	Dağılma	
B) Gerileme	Kuruluş	Dağılma	
C) Dağılma	Kuruluş	Gerileme	
D) Dağılma	Duraklama	Gerileme	
E) Yükselme	Duraklama	Gerileme	

23. II. Mahmut döneminde "Müsadere Usulü"ne son verilmesinin en önemli nedeni aşağıdakilerden hangisidir?

- A) Devlet hazinesine gelir temin etmek
B) Kişilere tam bir mülkiyet hakkı sağlamak
C) Ülkede nüfus sayımının yapılmasını sağlamak
D) Azınlıklar arasında din farkı gözetilmesini önlemek
E) Askeri alanda ıslahatlar yapılmasına zemin hazırlamak

24. Osmanlı Devleti XIX. yüzyıl boyunca karşılaştığı problemler karşısında Avrupalı devletlerin desteğini kazanmak amacıyla onlara bazı tavizler vermek zorunda kalmıştır.

Aşağıdakilerden hangisi bu duruma örnek olarak gösterilemez?

- A) Sened-i İttifak
B) Islahat Fermanı
C) Tanzimat Fermanı
D) Hünkar İskelesi Antlaşması
E) Balta Limanı Ticaret Antlaşması

25. I. Haçlılar
II. Gazneliler
III. Danişmentliler

Anadolu Selçuklu Devleti yukarıdakilerden hangileri ile mücadele etmiştir?

- A) Yalnız I B) Yalnız II C) I ve II
D) I ve III E) II ve III

26. Osmanlı Devleti'nde milliyetçilik düşüncesi ile isyan eden ilk ulus Sırplardır.

Aşağıdakilerden hangisi Sırpların isyan etme nedenlerinden değildir?

- A) Merkezi otoritenin zayıflaması
B) Avrupalı devletlerin kışkırtmaları
C) Etnik-İ Eterya Cemiyeti'nin faaliyetleri
D) Yöneticilerin halka adaletsiz davranması
E) Sırp topraklarının savaş alanı haline gelmesi

27. Avrupa'da XVII. yüzyıl "Akıl Çağı", XVIII. yüzyıl ise "Aydınlanma Çağı" olarak adlandırılmıştır.

XVII. ve XVIII. yüzyıllardaki gelişmelerin sonuçları arasında aşağıdakilerden hangisi yoktur?

- A) Üretim ve tarımın önemi artmıştır.
B) Özgür düşünceye verilen önem artmıştır.
C) Tabiat, insan, akıl, din konuları irdelenmiştir.
D) Doğa bilimlerinde büyük gelişmeler olmuştur.
E) Fransız İhtilali'nin fikri hazırlık süreci etkilenmiştir.

28. Bugünkü Türkiye - İran sınırını büyük ölçüde belirleyen antlaşma aşağıdakilerden hangisidir?

- A) Serav Antlaşması
B) Amasya Antlaşması
C) Kasrı Şirin Antlaşması
D) Ferhat Paşa Antlaşması
E) Nasuh Paşa Antlaşması

29. Anadolu Selçuklularının,

- I. denizlere kıyısının olması,
II. kervansaraylar yapmaları,
III. siyasi otoritelerinin güçlü olması

durumlarından hangileri Anadolu'da ticaretin geliştiğine kanıt olabilir?

- A) Yalnız I B) Yalnız II C) Yalnız III
D) I ve II E) I, II ve III

30. I. I. Murat
II. II. Mehmet
III. II. Mahmut

Yukarıdaki Osmanlı hükümdarlarından hangileri Anadolu'da siyasi birliği sağlama politikası izlemiştir?

- A) Yalnız I B) Yalnız II C) I ve II
D) I ve III E) II ve III

31. Türklerin ilk deniz aşırı fethi aşağıdaki hangi devlet döneminde yapılmıştır?

- A) Memlükler
B) Osmanlı Devleti
C) Timur İmparatorluğu
D) Büyük Selçuklu Devleti
E) Anadolu Selçuklu Devleti

32. Tarihte birçok devlet adını kurulduğu bölgeden almıştır.

Buna göre,

- I. Göktürk Devleti,
II. Tuna Bulgar Devleti,
III. Harzemşahlar

Türk devletlerinden hangileri için bu durum söz konusudur?

- A) Yalnız I B) Yalnız II C) I ve II
D) I ve III E) II ve III

33. Selçuklu sultanlarının ayırım gözetmeksizin halka toprak dağıtması,

- I. ticaret dengesini kurma,
II. üretimin artmasını sağlama,
III. hayvancılığın gelişmesini sağlama

hedeflerinden hangilerinin amaçlandığını gösterir?

- A) Yalnız I B) Yalnız II C) I ve II
D) I ve III E) II ve III

34. Aşağıdakilerden hangisi Birleşmiş Milletler Örgütü'nün organlarından biri değildir?

- A) Güvenlik Konseyi
B) Lahey Adalet Divanı
C) Genel Sekreterlik
D) Vesayet Konseyi
E) Savunma ve Planlama Konseyi

35. II. Dünya Savaşı'ndan sonraki süreçte Türkiye Sovyet Rusya'nın yayılmacı politikasına karşı ABD'nin başını çektiği Batı Bloku'nda yer almıştır.

Buna göre, Türkiye'nin Batı'ya yaklaşması aşağıdakilerden hangisiyle ilgilidir?

- A) Emperyalizmin baskısında olmasıyla
B) Kendi güvenliğini sağlamak istemesiyle
C) Çağdaşlaşmayı tamamlamasıyla
D) Sovyet Rusya ile savaşmasıyla
E) Milli politikalara önem vermesiyle

36. II. Dünya Savaşı sonunda "Üç Büyüklerin" (Churchill, Roosevelt, Stalin) yaptıkları son konferans aşağıdakilerden hangisidir?

- A) Tahran Konferansı
B) Kahire Konferansı
C) Washington Konferansı
D) Potsdam Konferansı
E) Yalta Konferansı

37. Türkiye'de 1950 yılındaki seçimleri kazanarak iktidara geçen parti aşağıdakilerden hangisidir?

- A) MSP B) SHP C) CHP
D) AP E) DP

38. I. Dünya Savaşı'ndan sonra dünya barışını korumak amacıyla kurulan Cemiyeti Akvam, II. Dünya Savaşı'ndan sonra hangi örgütün kurulmasıyla işlevini yitirmiştir?

- A) NATO
B) Birleşmiş Milletler
C) Varşova Paketi
D) Avrupa Topluluğu
E) CENTO

39. Batı Bloku'nda NATO'nun kurulmasından sonra bu teşkilata karşı Doğu Bloku'nda kurulan teşkilat aşağıdakilerden hangisidir?

- A) Avrupa Birliği B) Avrupa Konseyi
C) Balkan Antantı D) Varşova Paketi
E) Sadabat Paketi

40. Kıbrıs Rumlarının İngiliz sömürge idaresine karşı kurdukları örgütün adı aşağıdakilerden hangisidir?

- A) EOKA B) ENOSİS C) TMT
D) FKÖ E) NOTAM

41. Türkiye, Batı Bloku içinde yer alması için fırsat oluşturan Birleşmiş Milletler Teşkilatı'nın davetine olumlu cevap vererek ilk kez yurt dışına hangi ülkeye asker göndermiştir?

- A) Vietnam B) Hindistan
C) Kore D) Japonya
E) İsrail

42. Aşağıdakilerden hangisi II. Dünya Savaşı sırasında ve sonrasındaki gelişmeler arasında yer almaz?

- A) Yalta Konferansı
B) Postdam Konferansı
C) Kellog Paktı
D) Bağdat Paktı
E) Truman Doktrini

43. II. Dünya Savaşı sonrasında füze teknolojisinde sağlanan ilerlemeler sonucunda ilk uydu Sputnik 1957'de uzaya gönderilmiştir?

İlk uyduyu uzaya gönderen devlet aşağıdakilerden hangisidir?

- A) Fransa B) İngiltere
C) ABD D) Japonya
E) SSCB

44. Aşağıdaki devletlerden hangisi Almanya'nın işgaline uğramamıştır?

- A) Norveç B) Çekoslovakya C) Hollanda
D) Belçika E) İspanya

KÖRFEZ YAYINLARI

LYS-4 TARİH BRANŞ DENEMESİ-9

Bu Testte;

Toplam 44 adet soru bulunmaktadır. Cevaplama Süresi 65 dakikadır.

1. Rusya'nın Panslavizm politikası milliyetçilik ilkesiyle daha tehlikeli bir hal almış ve Osmanlı Devleti'nin yıkılışına zemin hazırlamıştır.

Osmanlı Devleti için geçerli olan bu durumun aşağıdaki hangi devlet için de geçerli olduğu savunulabilir?

- A) İtalya B) Fransa C) İngiltere
D) Almanya E) Avusturya - Macaristan

2. Demokrasi, monarşik düzenin yetkilerini kısıtlamak diye ifade edilirse aşağıdakilerden hangisi Osmanlı Devleti'nde bunun ilk örneği olarak gösterilebilir?

- A) I. Meşrutiyet
B) Sened-i İttifak
C) 31 Mart Vakası
D) Islahat Fermanı
E) Tanzimat Fermanı

3. I. Zıştovi Antlaşması

- II. Düyun-ı Umumiye İdaresi
III. Küçük Kaynarca Antlaşması

Yukarıdaki gelişmelerden hangileriyle Osmanlı Devleti'nin içişlerine karışılmıştır?

- A) Yalnız I B) Yalnız II C) I ve II
D) II ve III E) I, II ve III

4. İstanbul ve Çanakkale Boğazları XIX. yüzyıldan itibaren devletlerarası sorun olmaya başlamıştı.

Aşağıdaki devletlerden hangisi hem Lozan'da hem de Motreux'de Türkiye'yi desteklerken II. Dünya Savaşı'ndan sonra sorun çıkarmıştır?

- A) Almanya B) Japonya C) Sovyet Rusya
D) İngiltere E) İtalya

5. Anadolu'da kurulan ilk beyliklerin geçim kaynakları arasında aşağıdakilerden hangisi yoktur?

- A) Denizcilik
B) İltizam gelirleri
C) Maden gelirleri
D) Tarım ve hayvancılık
E) Orman ve tuzla gelirleri

6. I. Atlı birliklerden oluşmuşlardır.

- II. Devletten ulufe adı verilen maaş almışlardır.
III. Devletin merkezi olan İstanbul'da bulunmuşlardır.

Yukarıda verilen bilgilerden hangileri Yeniçeri Ocağı'na ait özellikler arasında gösterilebilir?

- A) Yalnız I B) Yalnız II C) I ve II
D) II ve III E) I, II ve III

7. Aşağıdakilerden hangisi Türklerin Ortaçağ boyunca kullandıkları alfabeler arasında gösterilemez?

- A) Latin Alfabesi
B) Arap Alfabesi
C) Soğd Alfabesi
D) Uygur Alfabesi
E) Göktürk Alfabesi

8. I. Babürler

- II. Safeviler
III. Memlükler

Yukarıdaki devletlerden hangileri varlıklarını 18. yüzyıla kadar sürdürmüşlerdir?

- A) Yalnız I B) Yalnız II C) I ve II
D) I ve III E) I, II ve III

KÖRFEZ YAYINLARI

9. I. Kaybettiği toprakları geri alma
II. İslahatlarla eski gücüne kavuşma
III. Rejim değişikliği yapma
- durumlarından hangileri Osmanlı Devleti'nin gerileme döneminde uyguladığı politikalar arasında gösterilebilir?
- A) Yalnız I B) Yalnız II C) Yalnız III
D) I ve II E) I, II ve III
10. Anadolu Selçuklu Devleti, Harzemşahlar'la aşağıdaki savaşlardan hangisini yapmıştır?
- A) Katvan Savaşı
B) Kösedag Savaşı
C) Malazgirt Savaşı
D) Yassıçemen Savaşı
E) Miryokefalon Savaşı
11. Osmanlı - Venedik ilişkileri Osmanlı'nın kuruluş devrine kadar gitmektedir. Yükseliş, Duraklama ve Gerileme devirlerinde de çoğu zaman mücadele şeklinde bu ilişkiler devam etmiştir.
- Osmanlı - Venedik ilişkilerinde,**
- I. Coğrafi Keşifler,
II. azınlık haklarını koruma,
III. denizlerdeki rekabet
- etkenlerinden hangilerinin mücadele nedeni olduğu ileri sürülebilir?
- A) Yalnız I B) Yalnız II C) Yalnız III
D) I ve III E) II ve III
12. Osmanlı Devleti'nde sadrazamlar sefere çıktıklarında İstanbul'da kendi yerlerine bıraktıkları yönetici aşağıdakilerden hangisinde verilmiştir?
- A) Vezir
B) Şehremini
C) Yeniçeri Ağası
D) Reis'ül - kütta
E) Sadaret Kaymakamı

KÖRFEZ YAYINLARI

13. Birinci Dünya Savaşı'nda Arapların İngilizlerle işbirliği yaparak Osmanlı Devleti'ne karşı savaşmaları aşağıdaki fikirlerden hangisinin geçerliliğini yitirdiğini gösterir?
- A) Batıcılık
B) Turancılık
C) Milliyetçilik
D) Ümmetçilik
E) Osmanlıcılık
14. Aşağıdaki antlaşmaların hangisi ile Musul İngiltere mandasındaki Irak Hükümeti'ne bırakılmıştır?
- A) Lozan Antlaşması
B) Mudanya Ateşkes Anlaşması
C) Mondros Anlaşması
D) Moskova Antlaşması
E) Ankara Antlaşması
15. Aşağıdaki ilk Türk beylikleri ile ilgili verilen özelliklerden hangisi yanlıştır?
- A) Çaka Beyliği denizcilikle uğraşmıştır.
B) Saltuklular Moğollarla savaşmıştır.
C) Artuklular en uzun süre varlığını devam ettirendir.
D) En güçlü olanı Danişmentliler'dir.
E) Mengücekliler Erzincan - Kemah bölgesinde kurulmuştur.
16. I. Cem Sultan isyanı
II. Şahkulu isyanı
III. İstanbul isyanları
IV. Kavalalı Mehmet Ali Paşa isyanı
- Yukarıdaki isyanlardan hangileri aynı Padişah döneminde ortaya çıkmıştır?
- A) I ve II B) I ve IV C) II ve III
D) II ve IV E) III ve IV

17. - Belgrad Antlaşması (1739)
- Paris Antlaşması (1856)
- Osmanlı Devleti'nin Gerileme ve Dağılma dönemlerinde Rusya ile imzaladığı yukarıdaki antlaşmaların ortak özellikleri arasında,
- I. Karadeniz'in Rusya'ya kapatılması,
II. dönemlerinin en kârlı antlaşmaları olması,
III. Fransa'nın arabuluculuk rolünü üstlenmesi
- durumlarından hangileri gösterilebilir?
- A) Yalnız I B) Yalnız II C) I ve II
D) I ve III E) II ve III
18. Aşağıdakilerden hangisi II. Meşrutiyet döneminde gerçekleşen olaylar arasında gösterilemez?
- A) Bulgaristan'ın bağımsız olması
B) İlk defa çok partili hayata geçilmesi
C) İlk defa anayasal düzene geçilmesi
D) Osmanlıcılık düşüncesinin önemini kaybetmesi
E) İttihat ve Terakki Partisi'nin yönetime el koyması
19. Eski ve köklü uygarlıklardan biri olan İran uygarlığı, bölgede kurulan Türk devletlerini etkilemiştir.
- Buna göre,**
- I. Avrupa Hun Devleti,
II. Babür İmparatorluğu,
III. Büyük Selçuklu Devleti
- devletlerden hangilerinin İran uygarlığından etkilendiği savunulabilir?
- A) Yalnız I B) Yalnız II C) Yalnız III
D) I ve II E) I ve III
20. Osmanlı Devleti'nde, Malta'nın alınamaması ve Girit'in 24 yılda fethedilebilmesinin nedenleri arasında aşağıdakilerden hangisinin etkisi yoktur?
- A) Kalelerinin oldukça sağlam olması
B) Adaların savunmaya elverişli olması
C) Hıristiyan şovalyelerin ısrarlı mücadelesi
D) Donanmanın zaman zaman zayıf kalması
E) Donanmanın okyanuslarda etkili olamaması
21. I. Orta Asya'da kurulmaları
II. Yerleşik hayata geçmeleri
III. Göktürk Dini'ne inanmaları
- Yukarıdakilerden hangileri Göktürk ve Uygurlar'ın ortak özelliklerindedir?
- A) Yalnız I B) Yalnız II C) I ve II
D) I ve III E) II ve III
22. Aşağıdaki sorunlardan hangisini milletlerarası görüşme olmaksızın, Türkiye Cumhuriyeti kendi içinde çözüme kavuşturmuştur?
- A) Irak sınırı
B) Yabancı okullar
C) Nüfus değişimi
D) Kapitülasyonlar
E) Montrö Sözleşmesi
23. Malazgirt Savaşıyla Anadolu'nun kapıları Türklere açılmış ve Anadolu'da Türkmen beylikleri kurulmaya başlamıştır.
- Aşağıdakilerden hangisi bu beyliklerden birisi değildir?
- A) Mengücekoğulları
B) Pervaneoğulları
C) Danişmentliler
D) Saltukoğulları
E) Artukoğulları
24. Aşağıdakilerden hangisi Osmanlı Devleti'nin Dağılma döneminde imzaladığı anlaşmalardan birisidir?
- A) Yaş Antlaşması
B) Berlin Antlaşması
C) Belgrad Antlaşması
D) Karlofça Antlaşması
E) Küçük Kaynarca Antlaşması

KÖRFEZ YAYINLARI

25. XIX. yüzyıl başlarında Osmanlı Devleti parçalanmanın önüne geçebilmek için şer'i ve örfi hukukun yanında Avrupa hukukundan da faydalanmıştır.

Aşağıdakilerden hangisi bu duruma örnek olarak gösterilemez?

- A) Kanunname-i Ali Osman
B) Tanzimat Fermanı
C) Islahat Fermanı
D) Kanun-ı Esasi
E) Mecelle

26. 1936 yılında, Atatürk'ün Boğazlar Komisyonu'na üye olan devletlere gönderdiği notaya itiraz etmeyecek Boğazlar Komisyonu'nun kaldırılmasını kabul eden İngiltere ve Fransa'nın bu uyumlu politikalarının temelinde,

- I. Türkiye'nin askeri gücünden çekinmeleri,
II. Almanya ve İtalya'nın saldırgan bir tutum sergilemeleri,
III. Boğazların yerine Süveyş Kanalı ve Cebelitarık Boğazı'nın önem kazanması

durumlarından hangileri gösterilebilir?

- A) Yalnız I B) Yalnız II C) Yalnız III
D) I ve II E) II ve III

27. Aşağıdaki eşleştirmelerde verilenlerden hangisi doğrudur?

- A) Mani dininin benimsenmesi – Kırgızlar
B) Matbaanın kullanılması – Göktürkler
C) İstanbul'un kuşatılması – Avarlar
D) Museviliğin benimsenmesi – Uygurlar
E) Türklerin tek bayrak altında toplanması – Avrupa Hunları

28. Osmanlı Devleti'ni çöküntüden kurtarmak için ortaya atılan fikir akımlarından "Adem-i Merkeziyetçilik"i aşağıdakilerden hangisi en iyi açıklamaktadır?

- A) Merkezi otoritenin sağlanması
B) Sınırlar dahilinde herkesin eşit kabul edilmesi
C) Tüm Müslümanların halifelik çatısı altında toplanması
D) Eyaletlere geniş haklar vererek merkezi otoritenin yükünün hafifletilmesi
E) Bütün dünya Türklerini birleştiren bir devlet kurulması

29. I. Küçük Kaynarca,
II. Yaş,
III. Paris,

Yukarıdaki antlaşmaların oluş sırası aşağıdakilerden hangisinde verilmiştir?

- A) I, II, III B) II, I, III C) II, III, I
D) III, I, II E) III, II, I

30. I. Müsadere sisteminin kaldırılması
II. Nizam-ı Cedid ordusunun kurulması
III. Posta ve polis teşkilatlarının kurulması

Yukarıdaki yenilik hareketlerinden hangileri II. Mahmut döneminde yapılmıştır?

- A) Yalnız I B) Yalnız II C) I ve II
D) I ve III E) I, II ve III

31. Aşağıdaki Türk - İslam devletlerinden hangisi Haçlılarla mücadele etmemiştir?

- A) Eyyubiler
B) Memlükler
C) Harzemşahlar
D) Büyük Selçuklular
E) Anadolu Selçukluları

32. Osmanlı Devleti'ni Avrupa'dan atmak amacıyla Kutsal İttifak'ın oluşturulmasında,

- I. Vasvar Anlaşması'nın imzalanması,
II. Viyana Kuşatması'nda başarısız olunması,
III. Osmanlı ordusunun güçsüz duruma düşmesi

gelişmelerinden hangileri etkili olmuştur?

- A) Yalnız I B) Yalnız II C) Yalnız III
D) I ve II E) II ve III

33. – Kurucularının Türk olması

- Abbasi halifesine bağlı olarak yaşamaları
– Halkın Arapça konuşuyor olması
– Halifelik makamını bir dönem korumuş olmaları

Yukarıdaki özellikler aşağıdaki devletlerden hangisiyle ilgili değildir?

- A) Akşitler B) Eyyubiler C) Memlükler
D) Tolunoğulları E) Büveyhoğulları

34. Aşağıdaki konferanslardan hangisi II. Dünya Savaşı sırasında toplanmamıştır?

- A) Casablanca Konferansı
B) Londra Konferansı
C) Kahire Konferansı
D) Arkadya Konferansı
E) Moskova Konferansı

35. II. Dünya Savaşı'nda Almanları durduran ve ilk kez yenilgiye uğratan devlet aşağıdakilerden hangisidir?

- A) SSCB B) Fransa
C) İngiltere D) Japonya
E) ABD

36. Aşağıdakilerden hangisi Türk siyasi tarihinde kesin olarak çok partili hayata geçildiği dönemdir?

- A) 1923 - 1930 arası dönem
B) 1930 - 1940 arası dönem
C) 1946 sonrası dönem
D) 1960 - 1961 arası dönem
E) 1980 - 1983 arası dönem

37. Türkiye'nin;

- I. Nato'ya üye olması
II. Birleşmiş Milletler'e üye olması
III. Kore'ye asker göndermesi

gibi gelişmelerin kronolojik sıralaması aşağıdakilerden hangisidir?

- A) I-II-III B) II-I-III C) I-III-II
D) II-III-I E) III-II-I

38. Aşağıdakilerden hangisi II. Dünya Savaşı'nın liderleri arasında değildir?

- A) Adolf Hitler B) Joseph Stalin
C) Winston Churchill D) Mahatma Gandhi
E) Mussolini

39. ABD - Rusya soğuk savaşını başlatan ve dünyayı kesin olarak iki bloğa ayıran plan aşağıdakilerden hangisidir?

- A) Truman Doktrini
B) Eisenhower Doktrini
C) Marshall Planı
D) Cominform
E) Varşova Paketi

40. Aşağıda verilen ülkelerden hangisi Birleşmiş Milletler Güvenlik Konseyi'nde alınan kararları veto etme hakkına sahip değildir?

- A) İngiltere
B) Fransa
C) Almanya
D) Rusya
E) Çin

41. Aşağıdakilerden hangisi SSCB'nin dağılmasıyla kurulan Türk devletlerinden biri değildir?

- A) Azerbaycan
B) Özbekistan
C) Türkmenistan
D) Gürcistan
E) Kırgızistan

42. Avrupa Topluluğu hangi antlaşma ile Avrupa Birliği adını almıştır?

- A) Lüksemburg
B) Cardiff
C) Maastrich
D) Helsinki
E) Paris

43. Türkiye'de,

- I. 1960
II. 1971
III. 1980

tarihlerinden hangilerinde ordu yönetime el koymuştur?

- A) Yalnız I
B) Yalnız II
C) Yalnız III
D) I ve II
E) I ve III

44. Aşağıdakilerden hangisi II. Dünya Savaşı'nda Müttefik devletler arasında yer almaz?

- A) İngiltere
B) Japonya
C) Fransa
D) ABD
E) SSCB

LYS-4 TARİH BRANŞ DENEMESİ-10

Bu Testte;

Toplam 44 adet soru bulunmaktadır. Cevaplama Süresi 65 dakikadır.

1. Fransız İhtilali'nin etkisiyle ortaya çıkan azınlık sorunları ve Sanayi İnkılabı sonrasında ortaya çıkan sömürge yarışında büyük devletlerin hedefi haline gelen Osmanlı Devleti varlığını devam ettirmek için,

I. denge siyaseti takip etme,

II. yeni fetihlerle kayıplarını telafi etme,

III. ekonomik kalkınma planlaması yapma

çalışmalarından hangilerini uygulamıştır?

- A) Yalnız I
B) Yalnız II
C) I ve II
D) I ve III
E) I, II ve III

2. Anadolu Selçuklu Devleti'nin kuruluş sürecinin uzun sürmesinin temelinde aşağıdakilerden hangisi gösterilemez?

- A) Haçlı Seferleri
B) Baba İshak İsyanı
C) Büyük Selçuklu Devleti'ne bağlı kurulması
D) I. Kılıçarslan'ın ölümü ile ortaya çıkan otorite boşluğu
E) Büyük Selçuklular'la mücadele etmeleri

3. Aşağıdakilerden hangisi Türklerin göçebe yaşam tarzını benimsemelerinde etkili olmuştur?

- A) Mimari gelişmişliğin olmaması
B) Orta Asya'nın tarıma elverişli olması
C) Çin ile sürekli mücadele içinde olunması
D) Hunların bütün Türkleri tek çatı altında toplaması
E) Türk boylarının sürülerine otlak ve su bulmak istemeleri

4. Osmanlı Devleti'nin Kuruluş döneminde başlayan Anadolu Türk Siyasi Birliğini sağlama faaliyetleri I. Selim zamanında da devam etmiştir.

Aşağıdakilerden hangisinde Osmanlı hakimiyetini ilk ve son olarak tanıyan beylikler birarada verilmiştir?

- A) Saruhanoğulları – Germiyanogulları
B) Karesioğulları – Karamanoğulları
C) Aydınoğulları – Karesioğulları
D) Karamanoğulları – Eretna Beyliği
E) Karesioğulları – Dulkadiroğulları

5. XVIII. yüzyılda yapılan ıslahatlar Osmanlı Devleti'nin gerilemesini önleyememiştir.

Bu durumun oluşmasında aşağıda verilenlerden hangisi etkili olmamıştır?

- A) ıslahatların devlet politikası olmaması
B) Yeniçerilerin ıslahatlara tepki göstermeleri
C) ıslah edilecek konuların kökenine inilmemesi
D) Avrupa'nın gerisinde kalındığının kabul edilmesi
E) Çıkarları zedelenenlerin ıslahatçıları engellemesi

6. Aşağıdakilerden hangisi II. Meşrutiyet'te, I. Meşrutiyet'ten farklı olarak görülen bir durumdur?

- A) Hükümet meclise karşı sorumludur.
B) Ayan Meclisi üyelerini padişah seçer.
C) Halk padişahın yanında yönetime katılmıştır.
D) Yasama görevi Ayan ve Mebusan Meclisi'ne aittir.
E) Anayasada din, basın, eğitim, öğretim özgürlüğü gibi temel hak ve hürriyetler yer almıştır.

7. I. Pasinler Savaşı
II. Malazgirt Savaşı
III. Miryokefalon Savaşı
- Yukarıdakilerden hangilerinin Anadolu Selçuklu Devleti'ni olumlu yönde etkilediği savunulabilir?**
- A) Yalnız I B) Yalnız II C) Yalnız III
D) I ve III E) I, II ve III

8. Türkiye II. Dünya Savaşı'na girmemeye özen göstermiştir.
- Buna göre,**
- I. Barışçı bir politika izlenmiştir.
II. Türkiye yayılmacı bir devlettir.
III. Tarafsızlık ilkesini korumuştur.
- Yargılarından hangilerine ulaşılabilir?**
- A) Yalnız I B) Yalnız II C) Yalnız III
D) I ve III E) II ve III

9. Selçuklularda görülen meslek dayanışmasına göre oluşturulan teşkilat aşağıdakilerden hangisidir?
- A) Ahilik
B) Atabeylik
C) Sancak Sistemi
D) Guleman-ı Saray
E) Ekber - Erşed Sistemi

10. I. Sinop Baskını,
II. Navarin Olayı,
III. Sırbistan'ın bağımsız olması,
- Yukarıdaki olayların oluş sırası aşağıdakilerden hangisidir?**
- A) I, II, III B) I, III, II C) II, I, III
D) III, II, I E) III, I, II

11. Aşağıdakilerden hangisinin Anadolu Selçuklu Devleti'nin yıkılışında etkisi yoktur?
- A) Moğol baskısı
B) Katvan Savaşı
C) Köseadağ Savaşı
D) Baba İshak İsyanı
E) Bağımsız beyliklerin kurulması

12. I. Şahkulu İsyanı
II. Haçlı Seferleri
III. Baba İshak İsyanı
- Yukarıdakilerden hangilerinin Anadolu Selçuklu Devleti'nde etkili olduğu savunulabilir?**
- A) Yalnız I B) Yalnız II C) Yalnız III
D) I ve II E) II ve III

13. XIX. yüzyıl başlarından itibaren Avrupalı devletlerin Osmanlı Devleti üzerindeki emellerini gerçekleştirmek için yürüttükleri faaliyetin genel adı aşağıdakilerden hangisidir?
- A) Panislavizm
B) Şark Sorunu
C) Mülteciler Sorunu
D) Kutsal Yerler Sorunu
E) Genel Borçlar Sorunu

14. I. Halkın yeniliklere öncülük etmesi
II. İhtiyaca göre hukuk kurallarının hazırlanması
III. Sınır anlaşmazlıklarından yararlanılarak fetihler yapılması
- Yukarıda verilen gelişmelerden hangileri Osmanlı Devleti'nde görülmemiştir?**
- A) Yalnız I B) Yalnız II C) Yalnız III
D) I ve II E) II ve III

15. I. Candaroğulları
II. Dulkadiroğulları
III. Danişmentöğulları
- Yukarıdaki beyliklerden hangileri Osmanlı Devleti ile mücadele etmiştir?**
- A) Yalnız I B) Yalnız II C) I ve II
D) I ve III E) II ve III

16. İslamiyet'ten önce kurulan Türk devletlerinde toprağın mülkiyetinin devlete ait olması öncelikle aşağıdaki hangi anlayışın ortaya çıkmasına engel olmuştur?
- A) Ticaretin yaygınlaşması
B) Devlet gelirlerinin azalması
C) Bağımsızlık fikrinin gelişmesi
D) Sınıfsal farklılıkların oluşması
E) Kut anlayışının kabul edilmesi

17. II. Dünya Savaşı'nda,
- I. Berlin, Roma ve Tokyo'nun birleşmesi,
II. bloklaşmaları Almanya'nın başlatması,
III. yayılmacı politikayı Nazilerin uygulamaya koyması
- durumlarından hangileri ittifak yapıldığına kanıt olabilir?**
- A) Yalnız I B) Yalnız II C) Yalnız III
D) I ve II E) II ve III

18. Aşağıdakilerden hangisi Malazgirt Savaşı sonrası Anadolu'da kurulan beyliklerden değildir?
- A) Danişmentliler
B) Aydınoğulları
C) Mengücekler
D) Artukoğulları
E) Saltuklular

19. Mısır'da kurulan ilk Türk - İslam devleti aşağıdakilerden hangisidir?
- A) İnşitler
B) Gazneliler
C) Memlükler
D) Tolunoğulları
E) Samanoğulları

20. Osmanlı Devleti'nde 31 Mart Vakası'ndan sonra aşağıdaki hangi grubun yönetimdeki etkinliği artmıştır?
- A) Genç Osmanlılar Grubu
B) İttihat ve Terakki Cemiyeti
C) Vatan ve Hürriyet Cemiyeti
D) Müdafaa-i Hukuk Cemiyetleri
E) Sulh ve Selamet-i Osmaniye Fırkası

21. Osmanlı Devleti'ni önceki Türk devletlerinden ayıran en önemli özellik aşağıdakilerden hangisidir?
- A) Merkezî yönetimin güçlü tutulması
B) Anadolu'da fetih hareketi yapması
C) Bizans üzerine seferler yapması
D) Toprak sistemi oluşturması
E) Etnik teşkilatı kurması

22. I. Paris Antlaşması
II. Berlin Antlaşması
III. Edirne Antlaşması
- Osmanlı Devleti'nde XIX. yüzyılda gerçekleşen yukarıdaki gelişmelerin kronolojik sıralaması hangisinde verilmiştir?**
- A) I, II, III B) II, I, III C) II, III, I
D) III, I, II E) III, II, I

23. Osmanlı Devleti eyaletlerde vergi toplamada "iltizam" ve "dirlik" sistemini uygulamıştır.

Aşağıdakilerden hangisi iltizam ve dirlik sisteminin özellikleri arasında gösterilemez?

- A) Dirlik; has, zeamet ve tımar olarak ayrılmıştır.
B) İltizam sistemi merkeze uzak eyaletlerde uygulanmıştır.
C) Dirlik sistemi daha çok merkeze yakın eyaletlerde uygulanmıştır.
D) Dirlik sistemiyle toplanan vergiler doğrudan hazineye aktarılır.
E) İltizam sistemi vergi toplamada kolaylık sağlamıştır.

24. Aşağıdakilerden hangisi Anadolu Selçuklu Devleti'nin I. Haçlı Seferi'nde kaybettiği yerlerden biridir?

- A) İznik B) Konya C) Alanya
D) Malatya E) Trabzon

25. I. Harzemşahlar
II. Bizans İmparatorluğu
III. Moğol - İlhanlı Devleti

Anadolu Selçuklu Devleti yukarıdaki devletlerden hangileriyle mücadele etmiştir?

- A) Yalnız I B) Yalnız II C) Yalnız III
D) I ve III E) I, II ve III

26. Türk - İslam devletlerinin birçoğu birbirleriyle siyasal üstünlüklerini kabul ettirmek için mücadele etmişlerdir.

Buna göre aşağıda verilen savaşlardan hangisi bu açıklamaya uymaz?

- A) Ankara Savaşı
B) Pasinler Savaşı
C) Otlukbeli Savaşı
D) Ridaniye Savaşı
E) Çaldıran Savaşı

27. Osmanlı Devleti'nin Birinci Dünya Savaşı'na girmesiyle İngiltere aşağıdaki bölgelerden hangisini topraklarına resmen kattığını açıklamıştır?

- A) Arabistan
B) Musul
C) Irak
D) Kıbrıs
E) Ege Adaları

28. I. Kurgan denilen mezarlar

II. Balbal denilen mezar taşları

III. Şamanların dini törenleri yönetmesi

Yukarıda verilenlerden hangileri eski Türklerde ahiret inancının olduğuna kanıt olarak gösterilebilir?

- A) Yalnız I B) Yalnız II C) I ve II
D) I ve III E) II ve III

29. Milletler Cemiyeti, Wilson İlkeleri'ni uygulamak amacıyla kurulmasına rağmen İngiltere'nin nüfuzu altına girmiştir. 1930'dan sonra milletlerarası işbirliğinin önem kazanması üzerine 1932 yılında Yunanistan'ın da desteği ile Türkiye Milletler Cemiyeti'ne üye olmuştur.

Bu bilgilere göre,

- I. devletlerarası ilişkilerin arttığı,
II. Türkiye'nin dünya barışına katkıda bulunduğu,
III. İngiltere'nin Milletler Cemiyeti'nde eski nüfuzunu kaybettiği

gelişmelerinden hangileri söylenebilir?

- A) Yalnız I B) Yalnız II C) Yalnız III
D) I ve II E) I, II ve III

30. II. Meşrutiyet Dönemi'nde,

- Sansür kaldırılmıştır.
– 31 Mart Olayı çıkmıştır.
– Bulgaristan bağımsızlığını ilan etmiştir.
– Ahrar, Hürriyet ve İtilaf Fırkası gibi partiler kurulmuştur.

Bu bilgilere bakılarak aşağıdaki yargılardan hangisine ulaşılamaz?

- A) Çok partili hayata geçilmiştir.
B) Basına geniş özgürlük verilmiştir.
C) Siyasi rejime karşı isyan çıkmıştır.
D) Halk ilk kez padişaha karşı isyan çıkarmıştır.
E) Ülkenin sınırlarının daralması tamamen durdurulamamıştır.

31. Osmanlı Devleti'nin Yükselme döneminde,

- Lehistan'la dostluk kurulmak istenmesi,
– Avusturya ve Almanya üzerine sefer düzenlenmesi,

gelişmeleri aşağıdakilerden hangisinin göstergesidir?

- A) Ticaretin geliştirilmek istendiğinin
B) Balkanlar'da siyasi birliğin sağlandığının
C) Balkanlar'daki isyanların önlenmek istendiğinin
D) Avrupalı devletlere ekonomik tavizler verildiğinin
E) Osmanlı Devleti'nin Avrupa siyasetinde etkili olduğunun

32. Anadolu Selçukluları'nda,

- I. İktisat sisteminin uygulanması,
II. Ahi Teşkilatı'nın çalışmaları,
III. kervansarayların inşa edilmesi

durumlarından hangileri ticaretin geliştiğinin kanıtıdır?

- A) Yalnız I B) Yalnız II C) Yalnız III
D) I ve III E) II ve III

33. I. Askerlik için nakdi bedel kabul edilecektir.
II. Vergiler herkesin gelirine göre toplanacaktır.
III. Gayrimüslimleri küçük düşürücü sözler söylemeyecektir.

Yukarıda verilen maddelerden hangileri hem Tanzimat Fermanı hem de Islahat Fermanı'nda yer almıştır?

- A) Yalnız I B) Yalnız II C) Yalnız III
D) I ve II E) I, II ve III

34. Bağlantısızlar hareketi aşağıdakilerden hangisine karşı kurulmuştur?

- A) ABD - Çin B) ABD - SSCB
C) İngiltere - Fransa D) İngiltere - Japonya
E) Çin - Japonya

35. Basımcı Hareketi'nin amacı aşağıdakilerden hangisidir?

- A) Türkistan'ın istiklalini sağlamak
B) Azerbaycan'ın bağımsızlığını sağlamak
C) Kurtuluş Savaşına destek olmak
D) Çin politikalarına karşı önlem almak
E) Türk dünyasında birliği sağlamak

36. Aşağıdakilerden hangisi II. Dünya Savaşı'na katılan Mihver devletlerden birisidir?

- A) Fransa B) İngiltere
C) İtalya D) ABD
E) SSCB

37. Atatürk "Onların sevinci bizim sevincimiz, kederi bizim kederimiz" demişken, Haydar Aliyev ise "Biz iki devlet, bir milletiz" demiştir.

Türkiye Cumhuriyeti'nin bu yakınlığı aşağıdaki devletlerden hangisi ile olan ilişkilerinin göstergesidir?

- A) Türkmenistan B) Özbekistan
C) Kazakistan D) Azerbaycan
E) Tacikistan

38. Aşağıdakilerden hangisi Avrupa Birliği'nin kuruluş amaçları arasında yer almaz?

- A) Avrupa siyasetine yön vermek
B) Ortak ekonomik pazar oluşturmak
C) Üye ülkelerde yaşam standartlarını yükseltmek
D) Savunma birliği oluşturmak
E) Sovyet yayılmacılığını engellemek

39. I. Afganistan
II. Bosna - Hersek
III. Kosova

Türkiye Dünya barışına katkı sağlamak amacıyla yukarıdaki çatışma bölgelerinden hangisine asker göndermiştir?

- A) Yalnız II B) I ve II C) I ve III
D) II ve III E) I, II ve III

40. 1969 yılında Mescid-i Aksa Camisi'nin yakılması ile yaşanan olaylar sonucunda, aşağıdaki gelişmelerden hangisi yaşanmıştır?

- A) Süveyş Kanalı krizinin yaşanması
B) İslam Konferansı Örgütü'nün kurulması
C) Arap - İsrail Savaşları'nın yaşanması
D) Şattül-Arap su yolları sorununun yaşanması
E) İslam Kalkınma Bankası'nın kurulması

41. Sanayileşme amacıyla yapılan Türk Kalkınma Planı 1950-1960'lı yıllar arasında hayata geçirilmiştir.

Aşağıdakilerden hangisi bunun en önemli nedeni-
dir?

- A) Batı Bloku'nda yer alması
B) Savaş ekonomisinin sona ermesi
C) Ülkedeki teknolojik gelişmelerin hız kazanması
D) Sovyet yayılmacılığının engellenmesi
E) AB'ye üyelik müracatının yapılması

42. I. İsrail Devleti'nin kurulması

II. Şattül Arap su yolu sorunu

III. Humeyni'nin İran'da iktidara gelmesi

Yukarıdakilerden hangileri 1980-1988 yılları arasındaki İran-İrak Savaşı'nın nedenleri arasında yer almıştır?

- A) Yalnız I B) I ve II C) I ve III
D) II ve III E) I, II ve III

43. Aşağıdaki sorunlardan hangisi Türkiye ile Yunanistan arasında günümüzde de devam etmektedir?

- A) Kıta sahanlığı
B) Patrikhanenin İstanbul'da bulunması
C) Nüfus mübadelesi
D) Savaş tazminatı
E) Trakya sınırı

44. Sovyet Rusya'nın dağılmasıyla 11 devletin biraraya gelmesiyle "Bağımsız Devletler Topluluğu" kurulmuştur.

Aşağıdakilerden hangisi Bağımsız Devletler Topluluğu üyelerinden birisi değildir?

- A) Kırgızistan B) Moldova
C) Tacikistan D) Azerbaycan
E) Türkmenistan

LYS-4 TARİH BRANŞ DENEMESİ-11

Bu Testte;

Toplam 44 adet soru bulunmaktadır. Cevaplama Süresi 65 dakikadır.

1. - Balta Limanı Antlaşması'nın imzalanması
- Kapitülasyonların sürekli hale getirilmesi
- Düyun-ı Umumiye'nin kurulması

Osmanlı Devleti'nin değişik dönemlerinde meydana gelen bu durumlara bakarak,

- I. Osmanlı Devleti'nin ekonomik bağımsızlığı zede-
lenmiştir.
II. Osmanlı Devleti'nin Avrupa'ya bağımlılığı artmış-
tır.
III. Osmanlı tüccarlarının yabancı tüccarlarla rekabet
edebilmesi sağlanmıştır.

yargılarından hangilerine ulaşılabilir?

- A) Yalnız I B) Yalnız II C) I ve II
D) II ve III E) I, II ve III

2. - Hint Deniz Seferleri
- Süveyş Kanalı Projesi
- Mısır'ın Fethi

Yukarıdaki gelişmelerin ortak özelliği olarak aşağıdakilerden hangisi gösterilebilir?

- A) Kanuni devrinde gerçekleşmesi
B) Duraklama devrine zemin hazırlanması
C) Osmanlı - İran savaşlarına neden olması
D) Baharat Yolu egemenliğine yönelik olması
E) Osmanlı Devleti'nin denizlerdeki üstünlüğünü so-
na erdirmesi

3. Mondros Ateşkes Antlaşması'nın 24. maddesinde "Doğudaki altı vilayette karışıklık çıkması durumunda, İtilaf devletleri tarafından işgal edilecektir." hükmü vardır.

İtilaf devletlerinin bu ateşkese dayanarak Ermeni Devleti kurmak istemelerindeki kararlılığı gösteren en önemli delil aşağıdakilerden hangisidir?

- A) Wilson Prensipleri'ne dayanmaları
B) Orduların terhisini sağlamaları
C) Ateşkesin İngilizce metninde "Altı vilayet" için, "Altı Ermeni vilayeti" denilmesi
D) Bölgedeki Ermenileri teşkilandirmaları
E) Doğu Anadolu Müdafaa-i Hukuk Cemiyeti'nin kurulması

4. I. Yaş Antlaşması
II. Belgrat Antlaşması
III. Pasarofça Antlaşması

Osmanlı Devleti'nin Gerileme Dönemi'nde imzalan-
ılan yukarıdaki antlaşmaların kronolojik sırala-
ması aşağıdakilerden hangisinde verilmiştir?

- A) I - II - III
B) I - III - II
C) II - I - III
D) III - I - II
E) III - II - I

5. - Avarız
- Cizye
- Ağnam

Osmanlı Devleti'nde alınan yukarıdaki vergilerin ortak özelliği aşağıdakilerden hangisidir?

- A) Hazineye gelir sağlamak amacıyla toplanmaları
B) Sadece Müslüman olmayan halktan alınmaları
C) Müslüman olanlardan alınan vergiler olmaları
D) Olağanüstü durumlarda toplanmaları
E) Toprak ile uğraşanlardan alınmaları

6. - Pasinler Savaşı
- Malazgirt Savaşı
- Miryokefalon Savaşı

Yukarıdaki savaşların ortak özelliği olarak,

- I. Bizans ile yapılmış olması,
II. Anadolu Türk birliğinin bozulması,
III. Anadolu'nun fethi amacıyla yapılmış olması
durumlarından hangileri gösterilebilir?

- A) Yalnız I B) Yalnız II C) Yalnız III
D) I ve III E) II ve III

7. Avrupalı devletlerin Rumeli bölgesinde ıslahat yapılması için 15 Ocak 1877'de Osmanlı Devleti'ne sundukları teklifler Osmanlı Mebuslar Meclisi tarafından reddedilince, Rusya bu tutumu savaş nedeni kabul etmiştir.

Bu bilgilere bakılarak Osmanlı - Rus Savaşı'nın en önemli nedeni aşağıdakilerden hangisidir?

- A) Rusya'nın açık denizlere inme isteği
B) Osmanlı Devleti'nin Rusya'ya tehdit etmesi
C) Osmanlı devlet adamlarının yetersiz olması
D) Osmanlı Devleti'nin ıslahat yapmayı kabul etmesi
E) Osmanlı Devleti'nin işlerine müdahale edilmesini reddetmesi

8. Türkler, hükümdarlarına Göktanrı tarafından devleti yönetme yetkisi yani "Kut" verildiğine inanıyorlardı. Kutun kan yolu ile babadan oğula geçtiği kabul edilir, kanında kut olan herkesin devlet yönetiminde hak sahibi olduğuna inanılırdı.

Osmanlı Devleti'ne kadar hakim olan bu anlayışın getirdiği en önemli sonuç aşağıdakilerden hangisidir?

- A) Hükümdarların kutsal kabul edilmesi
B) Türklerin farklı inançlara kapalı kalması
C) Hükümdarların yetkilerinin sınırsız olması
D) Türk devletlerinde dini yapının ağır basması
E) Kardeş kavgaları sonucu Türk devletlerinin kısa sürede yıkılması

9. Osmanlı Devleti'nde,
I. III. Selim'in öldürülüp IV. Mustafa'nın tahta geçirilmesi,
II. Rusçuk Ayanı Alemdar Mustafa Paşa'nın ordusu ile İstanbul'a gelmesi,
III. Hareket Ordusu'nun İstanbul'a gelmesi
gelişmelerinden hangisi, yenilik hareketlerine karşı bir tepki niteliği taşımaktadır?
- A) Yalnız I B) Yalnız II C) Yalnız III
D) I ve II E) I, II ve III

10. Türk-İslam tarihinde yapılan,
I. Dandanakan
II. Katvan
III. Köseadağ
savaşlarının kronolojik sırası aşağıdakilerden hangisinde verilmiştir?

- A) I, II, III B) I, III, II C) II, I, III
D) II, III, I E) III, I, II

11. Rusya, 19. yüzyılda Osmanlı Devleti'ndeki emellerini gerçekleştirme adına Balkanlarda hangi politikayı uygulamak istemiştir?

- A) Panislavizm
B) Osmanlıcılık
C) Ümmetçilik
D) Pantürkizm
E) Şark Meselesi

12. II. Mahmut döneminde Batılılaşmaya önem verilmiş, Avrupa tarzında eğitim kurumları açılmıştır.

Aşağıdaki ıslahatlardan hangisi bu amaç doğrultusunda yapılmamıştır?

- A) İlköğretimin zorunlu hale getirilmesi
B) Mekteb-i Ulum-u Edebiye'nin kurulması
C) Mekteb-i Maarif-i Adliye'nin kurulması
D) Avrupa'ya öğrenci gönderilmesi
E) Redif ve müşirliklerin kurulması

13. "Bozulan kurumları ıslah etmeye çalışmak yerine kökten kaldırmak için radikal yenilikleri göze alabilecek inkılapçı bir ruha sahip olmak gerekir." görüşünü savunan bir tarihçiye göre,

- I. Genç Osman
II. III. Mustafa
III. II. Mahmut

gibi padişahlardan hangilerinin inkılapçı bir ruha sahip olduğu savunulabilir?

- A) Yalnız I B) Yalnız II C) Yalnız III
D) I ve III E) II ve III

14. İslam öncesi Türklerde hakimiyetin kaynağını Göktanrı'ya dayandıran "kut" anlayışı, Türk devletlerinde aşağıdakilerden hangisine neden olmamıştır?

- A) Taht kavgalarının çıkmasına
B) "Ülke hanedanın ortak malıdır." anlayışına
C) Hanedan kadınlarının da hakan olmasına
D) Türk devletlerinin çabuk yıkılmasına
E) Fetret devirlerinin yaşanmasına

15. Aşağıdakilerden hangisi XVII. yüzyıl isyanlarının genel özelliklerinden değildir?

- A) İsyancıların dini bir özelliği yoktur.
B) Adaletsizliğe karşı olmuştur.
C) Şahıslara karşıdır.
D) Devlet düzeninin değiştirilmesi amaçlanmamıştır.
E) Milliyetçiliğin etkisi ile çıkarılmıştır.

16. Aşağıdakilerden hangisi Mısır'da kurulan bir Türk-İslam devleti değildir?

- A) Tolunoğulları B) Akşitler C) Eyyubiler
D) Memlûklüler E) Babürülür

17. Aşağıdakilerden hangisi Türklerin göçebe yaşamlarının sonucu değildir?

- A) Dinamik bir toplum olmaları
B) Yazılı hukukta ileri olmaları
C) Birliktelik duygusunun gelişmesi
D) Savaşçı bir karaktere sahip olmaları
E) Taşınabilir eserler vermeleri

18. Aşağıdaki durumlardan hangisi Osmanlı Devleti'nin giderlerinin artmasına ve gelirlerinin azalmasına neden olmamıştır?

- A) Padişah değişikliğinin yaşanması
B) Yeniçeri sayısının artması
C) Vakıf arazilerinin yaygınlaşması
D) Savaşlarda yenilgilerin artması
E) Memur sayısının artması

19. Osmanlı Devleti'nde görülen,

- Merkezi otoritenin zayıflaması
- Ulusçuluk akımının yaygınlaşması

gibi gelişmelerin meydana getirdiği en önemli iç sorun hangi seçenekte doğru olarak verilmiştir?

- A) Savaşlardaki başarısızlık
B) Azınlık sorunları
C) Osmanlı Devleti'nin bir Avrupa devleti sayılması
D) ıslahat yapma gereği
E) Eyaletlerdeki bağımsızlık faaliyetleri

20. Osmanlı Devleti'nde,

- I. Kanun-ı Esasi'nin ilanı
II. İlk dış borcun alınması
III. Sened-i İttifak'ın imzalanması
IV. Kanunname-i Ali Osman'ın hazırlanması

gelişmelerinin kronolojik sıralaması aşağıdakilerden hangisidir?

- A) I, II, III, IV B) IV, II, III, I C) II, III, IV, I
D) III, II, IV, I E) IV, III, II, I

21. Türkiye Selçuklularında Pervaneci'nin yaptığı görevi Osmanlı Devleti'nde hangi görevli yapmıştır?

- A) Reis'ül Küttap
B) Sadrazam
C) Kazasker
D) Defterdar
E) Nişancı

22. Coğrafi Keşifler sonucunda yeni ticaret yolları bulunmuş ve bu durum Akdeniz limanlarının önemini kaybetmesine neden olmuştur.

Aşağıdakilerden hangisi Osmanlı Devleti'nin bu gelişmeler karşısında aldığı tedbirlerden biridir?

- A) İran ile ittifak yapmak
B) Avusturya ile antlaşma imzalamak
C) Orduyu güçlendirmek
D) Kapitülasyonlar vermek
E) Rönesansa destek vermek

23. I. Eyyubiler
II. Osmanlılar
III. Memlükler

Yukarıdaki devletlerin Mısır'a hakim olma sırası aşağıdakilerden hangisinde doğru olarak verilmiştir?

- A) I, II, III
B) I, III, II
C) II, III, I
D) III, I, II
E) III, II, I

24. I. Üretimin artması

II. II. Dünya Savaşı'nın başlaması
III. Sömürge faaliyetlerinin hızlanması

Yukarıdaki gelişmelerden hangileri Sanayi İnkılabı'nın sonuçları arasında yer almaz?

- A) Yalnız I B) Yalnız II C) Yalnız III
D) I ve II E) II ve III

25. – Belgrat Antlaşması (1739)

– Paris Antlaşması (1856)

Osmanlı Devleti'nin Gerileme ve Dağılma dönemlerinde Avrupa ile imzaladığı yukarıdaki antlaşmaların ortak özellikleri arasında,

- I. Karadeniz'in Rusya'ya kapatılması,
II. dönemlerinin en kazançlı antlaşmaları olması,
III. Fransa'nın arabuluculuk rolünü üstlenmesi

durumlarından hangileri gösterilemez?

- A) Yalnız I B) Yalnız II C) Yalnız III
D) I ve II E) I ve III

26. Aşağıda verilen eşleştirmelerden hangisi yanlıştır?

- A) II.Selim - Kıbrıs'ın alınması
B) II.Bayezit - Memlükler ile savaşılması
C) I.Bayezit - Ankara Savaşı'nın yapılması
D) II.Mehmet - Akkoyunlu Devleti'nin ortadan kaldırılması
E) I.Süleyman - Preveze Deniz Savaşı'nın yapılması

27. Aşağıdaki maddelerden hangisi Küçük Kaynarca Antlaşması'nda (1774) yer almamıştır?

- A) Ruslara kapitülasyon verilecek
B) Ruslar Karadeniz'de donanma bulundurabilecek
C) Karadeniz'in kuzey sahilleri Rusya'ya verilecek
D) Osmanlı Devleti, Kırım'ın başına geçen Şahin Giray'ın hanlığını kabul edecek
E) Rusya İstanbul'da sürekli elçi bulundurabilecek

28. Paris Antlaşması'yla (1856) Avrupa'nın büyük devletleri, Osmanlı Devleti ile ilgili aşağıdakilerden hangisini sağlamaya çalışmışlardır?

- A) Balkanlar'a hakim olmasını önleme
B) Azınlıkları Meşrutiyet yönetimine katma
C) Osmanlı Devleti'nin toprak bütünlüğünü koruma
D) Ortodoks kilisesini kontrol altına alma
E) Ticaret yollarını ele geçirme

29. Osmanlı Devleti'nin XVIII. yüzyılda imzaladığı son kazançlı antlaşma aşağıdakilerden hangisidir?

- A) Küçük Kaynarca Antlaşması
B) Pasarofça Antlaşması
C) Karlofça Antlaşması
D) Belgrad Antlaşması
E) Prut Antlaşması

30. Aşağıdakilerden hangisi ilk kez Viyana Kongresi'nde (1815) ortaya çıkmıştır?

- A) Parlamenter sistemler
B) Demokrasi düşüncesi
C) Azınlık sorunları
D) Milliyetçilik fikri
E) Şark meselesi

31. Rusya ile arasında yaşanan Güney Osetya sorunu sonucu 2008 tarihinde Bağımsız Devletler Topluluğu'ndan (BDT) ayrılan devlet aşağıdakilerden hangisidir?

- A) Beyaz Rusya B) Gürcistan
C) Ukrayna D) Moldova
E) Ermenistan

32. Soğuk Savaş döneminde SSCB yayılcılığı ve Komünizm tehditleri karşısında Türkiye, Batı ile ilişkileri geliştirme politikası benimseyerek Batı Bloku'nda yer almıştır.

Buna göre Türkiye ile ilgili;

- I. Varşova Paketi'ne üye olması
II. Toprak bütünlüğünü koruma altına alarak güvenliğini sağlaması

III. Diplomatik ilişkilerini geliştirmesi

yargılarından hangisine ulaşılabilir?

- A) Yalnız I B) I ve II C) II ve III
D) I ve III E) I, II ve III

33. Bandug Konferansı sonrası milletlerarası politikada hiçbir blok veya askeri ittifaka bağlı olmama düşüncesine sahip devletler tarafından "Bağılantısızlar Grubu" kurulmuştur.

Aşağıdaki devletlerden hangisi bu grubun içerisinde yer almaz?

- A) Yugoslavya B) Mısır
C) Zambia D) Doğu Almanya
E) Libya

34. Türkiye'nin 20 Temmuz 1974'te başlattığı Kıbrıs Barış Harekâtı'nda hedeflediği amaçlar arasında aşağıdakilerden hangisi gösterilemez?

- A) Kıbrıs'ta bozulan barışı tekrar kurmak
B) Kıbrıs'ın NATO üssü olmasını engellemek
C) Kıbrıs Türk halkının can güvenliğini sağlamak
D) ENOSİS'e engel olmak
E) Türkiye'nin güneyinde emniyeti sağlamak

35. II. Dünya Savaşında Türkiye'nin Cumhurbaşkanı aşağıdakilerden hangisidir?

- A) M. Kemal Atatürk B) İsmet İnönü
C) Cemal Gürsel D) Fahri Korutürk
E) Refik Koraltay

36. İslam Konferansı Örgütü'nün genel sekreterliğini günümüzde aşağıdaki devletlerden hangisi yapmaktadır?

- A) Suudi Arabistan B) Mısır
C) İran D) Kazakistan
E) Türkiye

37. Japonya'nın 19.yüzyılın sonlarında Uzakdoğu'da yeni bir güç olarak ortaya çıkmasını sağlayan reform sürecini başlatan çalışma aşağıdakilerden hangisidir?

- A) Meiji Restorasyonu B) Truman Doktrini
C) Marshall Planı D) Maastricht Kriterleri
E) Eisenhower Doktrini

38. II. Dünya Savaşı'na katılan devletler ve ülke liderleri aşağıdakilerden hangisinde yanlış verilmiştir?

- A) İngiltere - Winston Churchill
B) ABD - Franklin Roosevelt
C) SSCB - İlyiç Viladimir Lenin
D) Almanya - Adolf Hitler
E) Japonya - İmparator Hirohito

39. I. Dünya Savaşı sonunda Sovyet Rusya'nın imzaladığı Brest Litovsk Antlaşması'nda aşağıdaki devletlerden hangisi bulunmamıştır?

- A) Almanya B) Osmanlı Devleti
C) İngiltere D) Bulgaristan
E) Avusturya - Macaristan

40. 1918-1931 yılları arasında Sovyet Rusya'da görülen "Basmacı Harekâtı"nın amacı aşağıdakilerden hangisidir?

- A) Orta Asya'yı Ruslaştırarak
B) Türkleri Hristiyanlaştırarak asimile etmek
C) Türkistan'ı Rus işgalinden kurtarmak
D) Türkistan'daki Türkler arasında boy duygularını canlandırmak
E) Turan Devleti kurmak

41. Doğu Bloku ülkeleri, Avrupa'da güvenlik ve işbirliğini güçlendirmek amacıyla bir konferans toplanması önerisini sundu. Bloklar arasında bazı sorunların çözülmesi üzerine Batılı ülkeler bu öneriye olumlu cevap verdi.

Yukarıda bahsedilen konferans aşağıdakilerden hangisidir?

- A) Paris Konferansı B) Londra Konferansı
C) Helsinki Konferansı D) Lozan Konferansı
E) ASEC Konferansı

42. Aşağıdaki devletlerden hangisi NATO ve Varşova Paktı'nın lider devletleridir?

- | NATO | VARŞOVA PAKTI |
|-----------------|---------------|
| A) Çin | ABD |
| B) SSCB | İngiltere |
| C) ABD | SSCB |
| D) Bulgaristan | İngiltere |
| E) Çekoslovakya | Fransa |

43. Varşova Paktı (14 Mayıs 1955) hangi kuruluşu karşı kurulmuştur?

- A) Milletler Cemiyeti B) Avrupa Birliği
C) NATO D) Sadabat Paktı
E) Balkan Paktı

44. I. Türkiye'nin Ermenistan'a 2005 yılında yaptığı tarihçiler komisyonu kurulması önerisi
II. Ermenistan - Türkiye milli maçına Türkiye cumhurbaşkanı Abdullah Gül'ün katılması
III. Asala Ermeni Terör Örgütü'nün Türk temsilcilerine yönelen saldırıları

Yukarıdakilerden hangileri Türkiye-Ermenistan ilişkilerini olumlu yönde geliştirmiştir?

- A) Yalnız I B) Yalnız II C) Yalnız III
D) I ve II E) I, II ve III

LYS-4 TARİH BRANŞ DENEMESİ-12

Bu Testte;

Toplam 44 adet soru bulunmaktadır. Cevaplama Süresi 65 dakikadır.

1. 1876 Anayasası parlamentolu bir düzen getirmiş ancak meşrutiyet yönetimi gerçek anlamda demokratik parlamenter bir düzen olamamıştır.

1876 Anayasası'nın demokratik olamayışında,

- I. halk temsilcilerinin kanun önerme haklarının sınırlı tutulması,
II. hükümetin padişahın başkasına hesap verme zorunluluğunun olmaması,
III. padişahın gerektiğinde parlamentoyu kapatma yetkisine sahip olması

gelişmelerinden hangilerinin etkili olduğu söylenebilir?

- A) Yalnız I B) Yalnız II C) I ve II
D) II ve III E) I, II ve III

2. Avusturya, Viyana Kongresi'ne (1815) kadar Osmanlı Devleti'ni parçalamaya çalışırken, bu tarihten sonra Osmanlı Devleti'nin toprak bütünlüğünü savunmuştur.

Avusturya'nın tutumundaki bu değişiklik aşağıdakilerden hangisi ile açıklanabilir?

- A) Germen kökenli olması
B) Çok uluslu bir yapıya sahip olması
C) Denizlerde başarılı olmak istemesi
D) Hıristiyanlığın savunucusu olmak istemesi
E) Kutsal Roma - Germen İmparatorluğu'nu yeniden canlandırmak istemesi

3. İslamiyet'ten önceki Türklerde,

- Kölelik yoktur.
- Sözlü hukuk gelişmiştir.
- Taşınabilir eşyalar yapılmıştır.

Yukarıdaki özellikler Türklerin hangi durumundan kaynaklanmıştır?

- A) Göktanrı inancından
B) Göçebe olmalarından
C) Savaşçı olmalarından
D) Maniheizmi kabul etmelerinden
E) Hayvancılıkla uğraşmalarından

4. Aşağıdaki hangi tarih ile Türkiye ve Avrupa Birliği ortaklık antlaşması imzalanarak üyelik süreci başlatılmıştır?

- A) 18 Nisan 1951
B) 25 Mart 1957
C) 12 Eylül 1963
D) 14 Nisan 1987
E) 1 Ocak 1996

5. - Orta Asya'da kurulan ilk Türk - İslam devletidir.
- Türkçe'yi resmi dil olarak kullanmışlardır.
- Semerkant, Buhara gibi şehirlerde medreseler kurmuşlardır.

Yukarıda özellikleri verilen Türk - İslam devleti hangisidir?

- A) İhşitler
B) Gazneliler
C) Karahanlılar
D) Tolunoğulları
E) Büyük Selçuklular

6. Aşağıdakilerden hangisi Birleşmiş Milletler Teşkilatı'nın amaçlarından değildir?

- A) Barış ve güvenliği korumak
B) Hak ve eşitliği geliştirmek
C) İnsani sorunları azaltmak
D) Milletler arası iş birliğini sağlamak
E) Liberal ekonominin işlerliğini denetlemek

7. – Müsadere usulünün kaldırılması
– İlköğretimin zorunlu hale getirilmesi
– Fes, ceket ve pantolonun resmi kıyafet kabul edilmesi

Yukarıdaki yenilikler hangi Osmanlı padişahı zamanında yapılmıştır?

- A) III. Selim
B) II. Mahmut
C) III. Mustafa
D) Sultan Abdülaziz
E) Sultan Abdülmecit

8. – I. Murat devrinde başlatıldı.
– Amacı merkez ordusunu asker sayısı bakımından güçlendirmektir.
– Sonradan devlet otoritesini sarsan bir sisteme dönüştü.

Yukarıda tanımlanan sistem veya kurum aşağıdakilerden hangisinde verilmiştir?

- A) Dirlik sistemi
B) İltizam sistemi
C) Sancağa çıkma
D) Devşirme sistemi
E) Müsadere usulü

9. Osmanlı Devleti'nde,

- Yeniçeri Ocağı'nın kaldırılması,
– Müsadere usulünün kaldırılması,
– Divan'ın yerine bakanlık sisteminin kurulması

gelişmeleri aşağıdakilerden hangisinin döneminde gerçekleşmiştir?

- A) III. Selim
B) II. Mahmud
C) II. Abdülhamid
D) Sultan Abdülaziz
E) Sultan Abdülmecit

10. I. Balkan bunalımını sona erdirmek
II. Genç Osmanlılar'ın II. Abdülhamit'e baskı yapmaları
III. Avrupalı devletlerin Osmanlı Devleti'nin içişlerine karışmasını engellemek

Yukarıdaki verilenlerden hangileri I. Meşrutiyet'in ilan edilme nedenleri arasında gösterilebilir?

- A) Yalnız I B) Yalnız II C) I ve II
D) I ve III E) I, II ve III

11. Olaylar arasında neden - sonuç ilişkisi göz önüne alındığında aşağıdaki eşleştirmelerden hangisinin yanlış olduğu savunulabilir?

I	II
A) Tanzimat Fermanı	Hukuk üstünlüğünün kabulü
B) I. Meşrutiyet	Halkın yönetime katılması
C) II. Meşrutiyet	Meclis üstünlüğünün kabulü
D) Islahat Fermanı	Azınlık haklarının genişletilmesi
E) Sened-i İttifak	Ayanlık sisteminin kaldırılması

12. Bumin Kağan devlet idaresinde, kardeşi İstemi Yabgu'dan faydalanmıştır. Kardeşine ülkenin batısını yönetme yetkisini vermiş, doğusunu ise bizzat kendisi yönetmiştir.

Yukarıdaki yönetim anlayışı aşağıdakilerden hangisidir?

- A) Halifelik
B) Kurultay
C) Saltanat
D) Feodalite
E) Çifte hükümdarlık

13. 1533 yılında Osmanlı Devleti ile Avusturya arasında imzalanan İstanbul Antlaşması'na göre,
– Avusturya arşidükası protokol bakımından Osmanlı sadrazamına eşit sayılacak,
– Avusturya, Osmanlı Devleti'ne savaş tazminatı ve yıllık vergi ödeyecektir.

Osmanlı Devleti bu antlaşmayla kazandığı ekonomik ve siyasi üstünlüğü aşağıdakilerden hangisiyle kaybetmiştir?

- A) Zıstovi Antlaşması
B) Belgrad Antlaşması
C) Karlofça Antlaşması
D) Zıtvatorok Antlaşması
E) Küçük Kaynarca Antlaşması

14. "Tarihin tanıdığı olduğu teşkilatçı yapısıyla kısa sürede devlet kurabilme yeteneğine sahip olan Türk milleti bu kabiliyetinin bir sonucu olarak devleti yıkılınca yeniden teşkilatlanarak hızla yeni bir devlet kurup varlığını sürdürmeyi başarmıştır." diyen bir tarihçi bu duruma aşağıdakilerden hangisini örnek gösteremez?

- A) Anadolu Selçukluları - Osmanlılar
B) Osmanlılar - Türkiye Cumhuriyeti
C) Tolunoğulları - Memlükler
D) Göktürkler - Kutluklar
E) Kutluklar - Uygurlar

15. Filistin'deki Yafa ve sahil şeridindeki bazı kaleleri Eyyubiler'in ele geçirmesi üzerine Papa III. İnosan yeniden tüm Hıristiyanları sefere çağırdı. Ancak Bizans'ta imparator olmak isteyen Aleksios, Venedik'e gelerek Haçlıları İstanbul'a davet etti. Papa'nın muhalefetine rağmen Haçlılar İstanbul'a geldiler.

1204'teki IV. Haçlı Seferi'nin,

- I. İstanbul'un yağmalanması,
II. IV. Aleksios'un tahta çıkamaması,
III. Haçlıların İstanbul'da bir Latin krallığı kurmaları sonuçlarından hangileri seferin asıl amacından saptığını gösterir?

- A) Yalnız I B) Yalnız II C) I ve II
D) I ve III E) II ve III

16. I. Navarin Olayı
II. Sinop Baskını
III. Çeşme Baskını

Yukarıdaki Osmanlı donanmasının yakıldığı olayların kronolojik sıralanışı hangisinde verilmiştir?

- A) I, II, III
B) II, III, I
C) III, I, II
D) III, II, I
E) II, I, III

17. Birinci Dünya Savaşı'nda,

- Osmanlı Devleti'nin siyasi yalnızlıktan kurtulma düşüncesi,
– İngiltere ve Rusya ile Osmanlı Devleti arasındaki tarihi düşmanlık,
– İtilaf devletlerinin Osmanlı Devleti'ni yanlarına almak istememeleri

durumlarının ortak sonucu olarak aşağıdakilerden hangisi söylenebilir?

- A) Gizli Anlaşmaların yapılması
B) İngiliz - Osmanlı yakınlaşmasının başlaması
C) Rusya'nın Osmanlı Devleti ile ittifak kurması
D) Osmanlı Devleti'nin Almanya'nın yanında savaşa girmesi
E) İtilaf devletlerinin Osmanlı Devleti'ne savaş açması

18. Türklerin İslam dünyasındaki öneminin artmasında,

- I. Haçlılarla mücadele etmesi,
II. Halifelüğün Türklerin eline geçmesi,
III. İslamiyet'in farklı bölgelerde yayılmasının sağlanması

durumlarından hangileri etkili olmuştur?

- A) Yalnız I B) Yalnız II C) I ve II
D) II ve III E) I, II ve III

19. – Büyük Selçuklu Devleti'ni kurmuşlardır.
– Sibirya'ya adlarını vermişlerdir.
– Emevîlere karşı mücadele etmişlerdir.
– Musevîliği kabul etmişlerdir.

Yukarıda verilen özellikler aşağıdakilerden hangisi ile ilgili **değildir**?

- A) Sabirler
B) Oğuzlar
C) Macarlar
D) Hazarlar
E) Türgişler

20. Osmanlı Devleti, Berlin Antlaşması ile kaybettiği Doğu Anadolu'daki topraklarını Brest-Litovsk antlaşmasıyla geri almıştır. Ancak İtilaf devletleri bu barışı tanımadıklarını bildirmişlerdir.

İtilaf devletlerinin antlaşmayı tanımama gerekçesi olarak aşağıdakilerden hangisi gösterilebilir?

- A) İstanbul'u işgalde kararlı olmaları
B) Doğu Anadolu'nun bütünlüğünü istemeleri
C) Doğu illerindeki direnişimizi desteklemeleri
D) Moskova Antlaşması'nın geçerli olduğunu ileri sürmeleri
E) Rusya'nın bu anlaşmayı kendi başına yaptığını ileri sürmeleri

21. Kavalalı Mehmet Ali Paşa İsyanı'nda valisiyle başedemeyen II. Mahmut'un Rusya'yı yardıma çağırmasından sonra İngiltere ve Fransa Mehmet Ali Paşa'ya baskı kurarak barış yapmasını sağlamışlardır.

İngiltere ve Fransa Osmanlı Devleti'nin bir iç sorunu olan bu isyana karışmakla aşağıdakilerden hangisini amaçlamıştır?

- A) Mısır valisine yardım etmek
B) Mısır İsyanı'nı sürdürmek
C) Osmanlı Devleti'ni parçalamak
D) Osmanlı Devleti'nden taviz koparmak
E) Rusya'nın Boğazlar yoluyla Akdeniz'e inmesine engel olmak

22. – Osmanlı Devleti XX. yüzyıl başlarında yalnızlık politikasından kurtulmak istemiştir.
– 1911'de Maliye Nazırı Cavit Bey'in İngilizlere, 1914'te ise Bahriye Nazırı Cemal Paşa'nın Fransızlara yaptığı ittifak teklifi reddedilmiştir.

Yukarıda verilen durumların aşağıdaki gelişmelerden hangisine neden olduğu söylenebilir?

- A) Birinci Dünya Savaşı'nın çıkmasına
B) Osmanlı Devleti'nin tarafsızlığını sürdürmesine
C) Savaşın kaderini donanma gücünün belirlemesine
D) Osmanlı Devleti'nin Almanya'nın yanında savaşa katılmasına
E) Osmanlı Devleti'nin uluslararası barış teşkilatlarına katılmasına

23. Osmanlı Devleti Mısır sorunu esnasında başta İngiltere olmak üzere Avrupalı devletlere, birtakım ekonomik ayrıcalıklar vermiştir.

Osmanlı Devleti'nin bu politika ile,

- I. Osmanlı ekonomisini güçlendirme,
II. Mehmet Ali Paşa İsyanı'nı sona erdirmeye,
III. Mısır sorununda Avrupalı devletlerin desteğini sağlama

amaçlarından hangilerine ulaşmak istediği savunulabilir?

- A) Yalnız I B) Yalnız II C) Yalnız III
D) I ve II E) II ve III

24. Mondros Ateşkes Antlaşması'ndan sonra İstanbul Hükümeti'nin işgaller karşısında sessiz kalması Türk ulusunda tepkilere yol açmıştır.

Buna göre,

- I. kuva-yı milliyenin oluşturulması,
II. direniş cemiyetlerinin kurulması,
III. tekalif-i milliye emirlerinin yayınlanması

gelişmelerinden hangileri bu tepkiler arasında yer alır?

- A) Yalnız I B) Yalnız II C) Yalnız III
D) I ve II E) II ve III

25. Wilson İlkeleri'ni planladıkları işgal hareketlerine engel olarak gören İtilaf devletleri bu engeli Mondros Ateşkes Antlaşması'nın hangi maddesi ile aşmayı düşünmüşlerdir?

- A) Bütün ulaşım ve haberleşme imkanları İtilaf devletlerinin denetimine verilecektir.
B) İtilaf Devletleri esirleri serbest bırakılacak, Osmanlı Devleti esirleri serbest bırakılmayacak.
C) Osmanlı orduları terhis, donanma teslim edilecektir.
D) Güvenliklerini tehlikede gördükleri zaman istedikleri yerleri işgal edebileceklerdir.
E) Tüneller, geçitler, demiryolları İtilaf devletlerinin kontrolünde olacaktır.

26. Tolunoğulları ve İhşitler Mısır'da kurulmuş Türk-İslam devletleridir. Her iki devletin yönetici kadroları ve ordularının Türklerden oluşmasına rağmen yıkılışlarındaki ortak neden aşağıdaki hangi seçenekte verilmiştir?

- A) Egemenlik anlayışları
B) Dağınık halde yaşamaları
C) Abbasiler tarafından yönetilmeleri
D) Yöneticileri ve ordularının Türklerden oluşması
E) Hakim oldukları bölgelerde halkın çoğunluğunun Türk olmaması

27. Tarımla uğraşan ve yazılı kültürü geliştiren Uygurlar'ın özellikle mimari alanda eserler vermeleri aşağıdakilerden hangisiyle ilgilidir?

- A) İpek Yolu'ndan gelir sağlamalarıyla
B) Kağıt ve matbaayı geliştirmeleriyle
C) Yerleşik hayata geçmeleriyle
D) Çinlilerden etkilenmeleriyle
E) Mani Dini'ne geçmeleriyle

28. – İlk defa gazete çıkarıldı.
– Yeniçeri Ocağı kaldırıldı.
– Müsadere usulü kaldırıldı.
– Avrupa'ya öğrenci gönderildi.

Yukarıdaki yenilikleri yapan Osmanlı padişahı aşağıdakilerden hangisidir?

- A) III. Selim
B) III. Ahmet
C) II. Mahmut
D) II. Abdülhamit
E) VI. Mehmet Vahdettin

29. I. Kerden Antlaşması
II. Nasuh Paşa Antlaşması
III. Ferhat Paşa Antlaşması

Yukarıdakilerden hangileri XVIII. yüzyılda Osmanlı Devleti ile İran arasında imzalanan antlaşmalar arasında gösterilebilir?

- A) Yalnız I B) Yalnız II C) I ve II
D) I ve III E) I, II ve III

30. I. Patrona Halil İsyanı
II. Kabakçı Mustafa İsyanı
III. Kavalalı Mehmet Ali Paşa İsyanı

Yukarıdaki ayaklanmalardan hangileri Mısır Sorunu'nun ortaya çıkmasında etkili olmuştur?

- A) Yalnız I B) Yalnız II C) Yalnız III
D) I ve II E) II ve III

31. Aşağıdakilerden hangisi DP'nin kuruluş sürecinde etkili olmuştur?

- A) Çiftçiye topraklandırma konusundaki tartışma
B) Halkın baskısı
C) Rusya'nın çok partili hayata geçilmesini istemesi
D) Kazım Karabekir ve Rauf Orbay'ın çalışmaları
E) Atatürk'ün çok partili hayata geçilmesi için yaptığı çalışmalar

32. Aşağıdakilerden hangisi Milletler Cemiyeti'nin kuruluş amaçları arasında değildir?

- A) Dünyada kalıcı barışı sağlamak
B) II. Dünya Savaşı'nın çıkmasına engel olmak
C) Uluslararası problemleri çözmek
D) Silahların azaltılmasını sağlamak
E) Nükleer silahlara karşı sivilleri korumak

33. Aşağıdakilerden hangisi 1946 seçimlerinde yapılan demokratik olmayan bir uygulamadır?

- A) İki partinin seçime katılması
B) Açık oylama gizli tasnif yapılması
C) DP kurucularının CHP kökenli olması
D) İsmet İnönü'nü dış baskılar dolayısıyla çok partili hayata destek vermesi
E) Milletvekili sayısınının 465 olması

34. Aşağıdakilerden hangisi II. Dünya Savaşı sonrasında Türkiye'nin Sovyet tehdidine karşı NATO şemsiyesi altındaki askeri üslerden biri değildir?

- A) Adana
B) İzmir
C) Kars
D) Diyarbakır
E) İstanbul

35. II. Dünya Savaşı'ndan sonra kömür enerjisinin yerini aşağıdakilerden hangisi almıştır?

- A) Petrol ve elektrik
B) Nükleer enerji
C) Kimya sanayi
D) Elektronik sanayi
E) Havacılık

36. Aşağıdakilerden hangisi I. Dünya Savaşı sonrası dünya barışına katkı sağlamak amacıyla yapılan antlaşmalardan biridir?

- A) Paris Barış Konferansı
B) Locarno Antlaşması
C) Trianon Antlaşması
D) Saint Germain Antlaşması
E) Neuilly Antlaşması

37. Dünya barışına katkı sağlamak amacıyla Türk Silahlı Kuvvetleri aşağıdaki bölgelerden hangisinde bulunmamıştır?

- A) Somali
B) Arnavutluk
C) Makedonya
D) Lübnan
E) Ürdün

38. 2008 yılında Rusya ile aralarında çıkan savaş sonrası Bağımsız Devletler Topluluğu'ndan ayrılan devlet hangisidir?

- A) Gürcistan
B) Azerbaycan
C) Ermenistan
D) Ukrayna
E) Kazakistan

39. I. Birleşmiş Milletler

- II. Varşova Paktı
III. NATO
IV. Kellog Paktı

Yukarıdaki oluşumlardan hangileri birbirlerine karşı oluşturulan savunma sistemleri şeklinde kurulmuştur?

- A) I ve IV
B) II ve III
C) I ve III
D) III ve IV
E) II ve IV

40. Nükleer silahların kullanılması dünya tarihinde ilk kez hangi savaşta gerçekleşmiştir?

- A) Kurtuluş Savaşı
B) I. Dünya Savaşı
C) Kore Savaşı
D) Körfez Savaşı
E) II. Dünya Savaşı

41. II. Dünya Savaşı'ndan sonra değişen dünya politikası sonucu bazı devletler bağımsızlıklarını kazanmışlardır.

Buna göre;

- I. Mısır,
II. İsrail,
III. İran

devletlerinden hangileri yeni kurulan devletlerden biri değildir?

- A) Yalnız I
B) Yalnız III
C) I ve II
D) II ve III
E) I ve III

42. 1982 Anayasası'na göre aşağıdaki özelliklerden hangileri cumhuriyetin niteliklerinden biri değildir?

- A) Laik olması
B) Sosyal devlet anlayışının benimsenmesi
C) Demokratik olması
D) Parlamenter sistemin benimsenmesi
E) İnsan haklarına saygılı olunması

43. I. Celal Bayar
II. Cemal Gürsel
III. Fahri Korutürk
IV. Cevdet Sunay
V. Kenan Evren

Yukarıdaki cumhurbaşkanlarımızın görev yapma sıralamasında hangileri yanlış verilmiştir?


- A) I ve II B) II ve III C) III ve IV
D) IV ve V E) III ve V

44. ABD, kurulduktan sonra Avrupa'yı kendi kıtası ve coğrafyasındaki işlere karıştırmama, kendisi de Avrupa'nın işlerine karışmamayı esas almıştır.

Yukarıdaki ABD politikasını başlatan doktrin aşağıdakilerden hangisidir?

- A) Marshall Doktrini B) Truman Doktrini
C) Monroe Doktrini D) Watergate Doktrini
E) Eisenhower Doktrini

COĞRAFYA



LYS-4 COĞRAFYA-2 BRANŞ DENEMESİ-1

Bu Testte;

Toplam 16 adet soru bulunmaktadır. Cevaplama Süresi 25 dakikadır.

1. Manş Denizi'nin altından geçen Manş Tüneli hangi iki ülke arasında yer almaktadır?

- A) İngiltere - Fransa
- B) Rusya - Finlandiya
- C) İrlanda - İngiltere
- D) Danimarka - İsveç
- E) İsveç - Finlandiya

2. "Türkiye kıyılarında akarsu ağızlarında haliçlere rastlanmaz" diyen bir kişi Türkiye'nin aşağıdaki enerji kaynaklarından hangisi için elverişsiz olduğunu anlatmaktadır?

- A) Güneş enerjisi
- B) Gelgit enerjisi
- C) Hidroelektrik enerji
- D) Jeotermal enerji
- E) Nükleer enerji

3. Yeryüzündeki göl sularının sıcaklıklarının farklılık göstermesinde aşağıdakilerden hangisi etkili değildir?

- A) Gölün yükseltisi
- B) Göl çanağının derinliği
- C) Gölün Ekvator'a olan uzaklığı
- D) Gölün beslendiği kaynağın sıcaklık özelliği
- E) Gölün çevresindeki nüfus yoğunluğu

4. Aşağıdaki haritada Türkiye'de üzüm tarımının yapıldığı yerler gösterilmiştir.



Türkiye'nin iklim özellikleri dikkate alındığında, üzüm tarımı için aşağıdakilerden hangisi söylenemez?

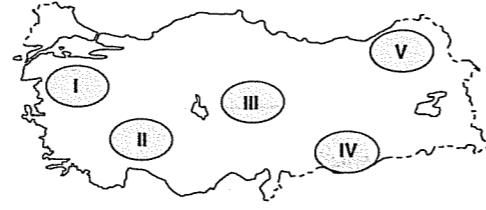
- A) Kıyı ovalarında tarımı yapılmaz.
- B) Don olaylarının yaşandığı yerlerde de tarımı yapılmaktadır.
- C) Farklı iklim bölgelerinde tarımı yapılmaktadır.
- D) Yaz sıcaklığı ve kuraklığı yaşanan yerlerde de tarımı yapılmaktadır.
- E) Ege ve Güneydoğu Anadolu bölgelerinde tarımı yoğundur.

KÖRFEZ YAYINLARI

5. Aşağıdakilerden hangisi, Hindistan'da yaz mevsiminin bol yağışlı geçmesini sağlayan etkenlerden biridir?

- A) Gür ormanların bulunması
- B) Akarsuların akım miktarının fazla olması
- C) Yengeç Dönencesi'nin üzerinde bulunması
- D) Himalayalar üzerinden gelen nemli hava kütleleri
- E) Hint Okyanusu üzerinden gelen muson rüzgârları

7.



Yalnızca bitki örtüsü ile hayvancılık arasındaki ilişki dikkate alındığında, yukarıdaki haritada gösterilen taralı alanlardan hangisi büyükbaş hayvancılığa daha elverişlidir?

- A) I
- B) II
- C) III
- D) IV
- E) V

6. Dünya pirinç üretiminde ilk sıradadır.
- ♦ Nüfus güneydoğu kıyılarında yoğunlaşmıştır.
 - ♦ Taşkömürü üretiminde ilk sıralardadır.

Yukarıda bazı özellikleri verilen ülke aşağıdakilerden hangisidir?

- A) ABD
- B) Çin Halk Cumhuriyeti
- C) Hindistan
- D) Japonya
- E) Almanya

8. Yeraltı kaynakları insanlar tarafından farklı alanlarda kullanılmıştır. Günümüzde en çok kullanıldığı alanlardan birisi enerji üretimidir.

Aşağıdaki yeraltı kaynaklarının hangisinden enerji elde edilmez?

- A) Linyit
- B) Boksit
- C) Petrol
- D) Doğal gaz
- E) Taşkömürü

9. Türkiye'de tarımda verimi artırmak için gerekli koşullardan biri de makineleşmedir.

Aşağıdakilerden hangisi, Türkiye'de makineleşmenin gelişmesini zorlaştıran faktörlerden biri değildir?

- A) Tarımsal iş gücünün ucuz olması
- B) Arazinin dağlık ve engebeli olması
- C) Türkiye'de makine üretiminin yetersiz olması
- D) Tarım alanlarının miras yoluyla küçük parçalara ayrılması
- E) Makine fiyatlarının çiftçinin alım gücünün üzerinde olması

11. Doğal kaynakların çıkarımı sırasında bazı çevre sorunları ortaya çıkmaktadır.

Aşağıdakilerden hangisi linyit çıkartılan açık işletmelerde meydana gelen çevresel sorunlardan biri değildir?

- A) Ormanların tahrip edilmesi
- B) Biyoçeşitliliğin azalması
- C) Kuraklık yaşanması
- D) Su kaynaklarının kirlenmesi
- E) Bazı hayvan türlerinin yok olması

10. Türkiye maden çeşitliliği bakımından zengin bir ülkedir. Bazı madenler çok geniş alanlarda çıkarılırken, bazı madenlerin de çıkarım alanı sınırlıdır.

Aşağıdaki maden ve enerji kaynaklarından hangisi Türkiye'de daha az yerde çıkarılmaktadır?

- A) Mermer
- B) Demir
- C) Krom
- D) Doğal gaz
- E) Linyit

12. Aşağıdakilerden hangisi, İngiltere'nin matematik konumunun bir sonucu değildir?

- A) Kıyılarında gel-git genliğinin fazla olması
- B) Kuzeyden gelen rüzgarların sıcaklığı azaltması
- C) Başlangıç meridyeninin üzerinde yer alması
- D) Güneyden kuzeye doğru sıcaklık ortalamalarının azalması
- E) Dağların güney yamaçlarının kuzey yamaçlarından daha sıcak olması

13. Bir ürünün yoğun olarak yetiştirildiği yere o ürünün tarım bölgesi adı verilir.

- I. Turunçgil - Akdeniz Bölgesi
- II. Ayçiçeği - Ege Bölgesi
- III. Fındık - Karadeniz Bölgesi
- IV. Buğday - İç Anadolu Bölgesi
- V. İncir - Ege Bölgesi

Yukarıdaki tarım ürünleri ve tarım bölgesi eşleştirmelerinden hangisi **yanlıştır**?

- A) I B) II C) III D) IV E) V

14. Fiziki haritalarda yer şekillerini gösterme yollarından birisi de renklendirme yöntemidir.

Renklendirme yöntemi ile çizilmiş bir fiziki haritada, aşağıdaki ülkelerden hangisinde yeşil renk ülkeye içinde **daha** geniş bir orana sahiptir?

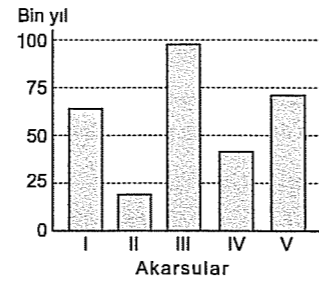
- A) Hollanda B) Türkiye C) Hindistan
D) Çin E) Japonya

15. Zeytin ve zeytin yağı üretimi fazla olan bir bölge için, aşağıdakilerden hangisi **söylenemez**?

- A) Doğal bitki örtüsü bozuktur.
- B) Turunçgil üretimi de yapılabilir.
- C) Akdeniz iklim özellikleri görülür.
- D) Seracılık faaliyetlerine elverişlidir.
- E) Kış mevsiminde don olayı nadiren görülür.

16. İnsanlar için önemli doğal kaynaklardan biri de akarsulardır. Değişik alanlarda kullanılan akarsulardan günümüzde en çok enerji üretiminde yararlanılır.

Aşağıdaki grafikte akım miktarı birbirine yakın olan beş farklı akarsuyun denge profiline ulaşmaları için gerekli olan tahmini süre gösterilmiştir.



Buna göre, hangi akarsuyun hidroelektrik potansiyeli **daha** fazladır?

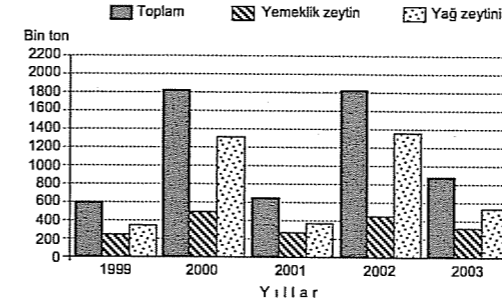
- A) I B) II C) III D) IV E) V

LYS-4 COĞRAFYA-2 BRANŞ DENEMESİ-2

Bu Testte;

Toplam 16 adet soru bulunmaktadır. Cevaplama Süresi 25 dakikadır.

1. Aşağıdaki grafikte bir ülkenin 1999 ile 2003 yılları arasındaki toplam zeytin, yemeklik zeytin ve yağ zeytini üretimi gösterilmiştir.



Bu grafiğe göre, aşağıdaki bilgilerden hangisine **ulaşamaz**?

- A) Toplam zeytin üretiminde yıllara göre dalgalanmalar olmuştur
- B) Yemeklik zeytin üretimi, verilen bütün yıllarda yağ zeytini üretiminden azdır
- C) Yemeklik zeytin üretimi 2000 yılında en fazladır
- D) Yağ zeytini üretiminin toplam zeytin üretimi içindeki oranı her yıl aynı kalmıştır
- E) Yağ zeytini üretiminin en fazla olduğu yıl 2002'dir

2. Nazilli ve Karaman'da buğday yetiştirilmesine karşın, Nazilli'de turunçgil yetiştirilirken Karaman'da turunçgil yetiştirilemez.

Karaman'da turunçgil yetiştirilememesinin nedeni aşağıdakilerden hangisidir?

- A) Yağış miktarının az olması
- B) Yer şekillerinin engebesiz olması
- C) Turunçgil tarımının bilinmemesi
- D) Kış sıcaklıklarının düşük olması
- E) Denize uzaklığının fazla olması

3. Ham madde, petrol ve gıda ihtiyacının büyük bir bölümünü endüstriyel ürünler satarak karşılayan ülke aşağıdakilerden hangisidir?

- A) ABD B) Türkiye C) Fransa
D) Avustralya E) Japonya

4. Aşağıdakilerden hangisi, Türkiye akarsularının genel özelliklerinden biri **değildir**?

- A) Rejimleri düzensizdir
- B) Yatak eğimleri fazladır
- C) Taşıdıkları su miktarı fazladır
- D) Denge profiline ulaşmamışlardır
- E) Ulaşımında ve taşımacılıkta kullanılmazlar

5. I. Arıcılık
II. Kümes hayvancılığı
III. Besi hayvancılığı
IV. Mera hayvancılığı

Yukarıda verilen hayvancılık faaliyetlerinden hangilerinde üretim, iklim koşullarından **daha az** etkilenir?

- A) I ve II B) I ve IV C) II ve III
D) II ve IV E) III ve IV

7. Küresel ısınma, sera gazı olarak bilinen karbon kökenli bazı gazların, atmosferdeki yoğunluğunun artmasıyla okyanus ve karalarda sıcaklıkların beklenenden fazla yükselmesidir.

Aşağıdakilerden hangisi küresel ısınmanın ortaya çıkaracağı olumsuz sonuçlardan biri **değildir**?

- A) Maden kaynaklarının rezervi azalır
B) Yeraltı ve yerüstü su kaynakları azalır
C) Bitki örtüsü tahribi artar
D) Kutuplardaki buzullar daha hızlı erimeye başlar
E) Bazı yerlerde yaşam alanları sular altında kalır

6. Aşağıdaki tabloda, Türkiye'nin bazı yıllardaki un, makarna ve bisküvi üretimi verilmiştir.

Ürünler (bin ton)	Yıllar				
	2000	2001	2002	2003	2004
Un	1950	1742	1675	1916	2121
Makarna	293	296	333	336	356
Bisküvi	273	283	312	354	434

Yukarıdaki tablo incelendiğinde, aşağıdaki yargılardan hangisine **ulaşamaz**?

- A) Makarna ve bisküvi üretiminde sürekli bir artış olmuştur.
B) Un üretimi, makarna ve bisküvi üretiminin toplamından fazladır.
C) Bisküvi üretimindeki artışın nedeni dış satımın artmasıdır.
D) Un üretiminde yıllara göre dalgalanmalar görülür.
E) 2002 yılından sonra bisküvi üretimi makarna üretimini geçmiştir.

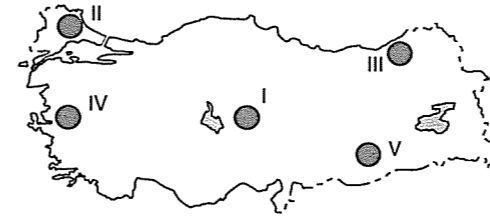
körfez YAYINLARI

9. Ekvator'dan kutuplara doğru gidildikçe denizlerin tuzluluk oranı azalır.

Buna göre, aşağıdaki denizlerden hangisinin tuzluluk oranı **daha azdır**?

- A) Kızıldeniz B) Baltık Denizi
C) Japon Denizi D) Akdeniz
E) Umman Denizi

10. Yer şekillerinin dağlık ve engebeli olduğu nemli bölgelerde heyelan riski yüksektir.



Buna göre, yukarıdaki haritada gösterilen taralı bölgelerin hangisinde heyelan **daha yaygındır**?

- A) I B) II C) III D) IV E) V

11. Türkiye'de Japonya, Fransa, ABD ve Güney Kore'nin önemli oranda sanayi yatırımları bulunmaktadır.

Bu durum, Türkiye' de aşağıdakilerden hangisinin **yetersiz** olduğunun bir göstergesidir?

- A) Pazarlama
B) Sermaye
C) Ham madde
D) Enerji
E) Teknik eleman

12. Türkiye'de seracılığın yapıldığı bölgelerin en önemli özelliği, kışların ılık geçmesi ve güneşli gün sayısının fazla olmasıdır.



Buna göre, yukarıdaki haritada gösterilen yörelerden hangisinde seracılık **gelişmemiştir**?

- A) I B) II C) III D) IV E) V

körfez YAYINLARI

13. Almanya, Kuzey Yarımküre'de ve Avrupa'nın kuzeyinde yer alan bir ülkedir.

Aşağıdakilerden hangisi, Almanya'nın Kuzey Yarımküre'de yer aldığını kanıtlar?

- A) Kıyılarında haliçlerin bulunması
B) Güneş ışınlarının hiçbir zaman dik açıyla düşmesi
C) Kuzeyinde ılıman iklim özelliklerinin etkili olması
D) Ülkede dört mevsimin belirgin olarak yaşanması
E) Cisimlerin gölgelerinin sürekli kuzeye düşmesi

15. Aşağıda bazı madenler ve işlendiği yerler verilmiştir.

- I. Petrol – İzmir
II. Krom – Elazığ
III. Bakır – Samsun

- IV. Alüminyum – Seydişehir

Buna göre, madenlerin işlendiği sanayi tesislerinden hangilerinin kuruluşunda ham maddeye yakınlık daha fazla dikkate alınmıştır?

- A) Yalnız I B) Yalnız II C) II ve III
D) II ve IV E) III ve IV

14. - Avrupa'nın çiçek bahçesi olarak anılır. Tarımda modern yöntemler kullanılır. Verim çok yüksektir.

- Ülke içi ulaşımda akarsular yoğun olarak kullanılır. Akarsuları birbirine bağlayan kanallar oldukça fazladır.

- Avrupa'da nüfus yoğunluğu en fazla olan ülkedir.

Yukarıda özellikleri verilen ülke aşağıdakilerden hangisidir?

- A) Hollanda B) Fransa C) Almanya
D) İngiltere E) İtalya

16. Türkiye'de yağışın fazla olduğu alanlar orman bakımından zengindir.

Aşağıda verilen kentlerden hangileri arasında orman varlığı bakımından fark en fazladır?

- A) Mersin - Sinop
B) Muğla - İzmir
C) Trabzon - Diyarbakır
D) Zonguldak - Rize
E) Adana - İstanbul

LYS-4 COĞRAFYA-2 BRANŞ DENEMESİ-3

Bu Testte;

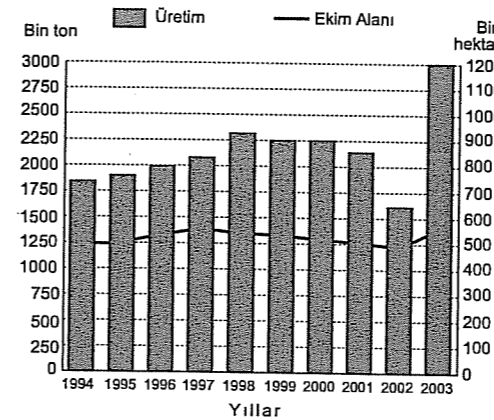
Toplam 16 adet soru bulunmaktadır. Cevaplama Süresi 25 dakikadır.

1. Türkiye'nin hidroelektrik potansiyeli Doğu Anadolu ve Doğu Karadeniz'de fazladır.

Bu bölgelerin hangi özelliklerinin benzer olması hidroelektrik potansiyellerinin yüksek olmasına neden olmuştur?

- A) Ortalama yükseltileri
B) Ekvator'a uzaklıkları
C) Sıcaklık ortalamaları
D) Yağış miktarları
E) Orman alanlarının genişliği

2. Aşağıdaki grafikte, Türkiye'de mısır üretiminin ve ekim alanlarının yıllara göre değişimi verilmiştir.



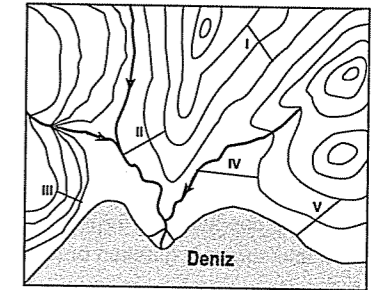
Bu grafiğe göre, aşağıdaki bilgilerden hangisine ulaşılabilir?

- A) Üretim miktarındaki en büyük düşüş 2002 yılında yaşanmıştır.
B) Birim alandan elde edilen en düşük verim 2003 yılında olmuştur.
C) En düşük üretim 1994 yılında olmuştur.
D) Yağış ve sıcaklık değerlerinin yıllara göre değişmesi nedeniyle üretimde dalgalanmalar olmuştur.
E) Ekim alanları son yıllarda daralmıştır.

3. Aşağıdakilerden hangisi, Japonya'nın nüfus özelliklerinden biri değildir?

- A) Doğum oranı düşüktür
B) Okur - yazar oranı yüksektir
C) Nüfusunu azaltmaya yönelik politikalar uygular
D) Kentsel nüfusu kırsal nüfusundan daha fazladır
E) Çalışan nüfusun büyük çoğunluğu üçüncül ekonomik faaliyetlerde çalışır

4. Eğimli alanlarda tabakaların yukarıdan aşağıya doğru hareketine heyelan denir.



Yerşekillerinin heyelan üzerindeki etkisi dikkate alındığında, yukarıdaki izohips haritasında belirlenen doğrultulardan hangisinde heyelan riski daha fazladır?

- A) I B) II C) III D) IV E) V

5. I. Çatalağzı termik santrali - Petrol
II. Yatağan termik santrali - Linyit
III. Hamitabat termik santrali - Doğal gaz
IV. Sarayköy termik santrali - Jeotermal
V. Tavşanlı termik santrali - Linyit
- Yukarıda verilen termik santral ve kullanılan enerji kaynağı eşleştirmelerinden hangisi yanlıştır?
- A) I B) II C) III D) IV E) V

6. Türkiye, üç tarafı denizlerle çevrili ve akarsu sayısı fazla bir ülke olmasına rağmen balıkçılıkta istenilen düzeyde gelişme gösterememiştir.
- Aşağıdakilerden hangisi Türkiye'de balıkçılığın gelişmesi için alınması gereken önlemlerden biri değildir?
- A) Kıyı kirlenmesi önlenmeli
B) Soğuk hava depolarının sayısı artırılmalı
C) Tatlı su balıkçılığı geliştirilmeli
D) Kıyı balıkçılığı teşvik edilmeli
E) Balık çiftlikleri yaygınlaştırılmalı


KÖRFEZ YAYINLARI

7. Türkiye'de otomobil fabrikaları Adapazarı, İzmit, İzmir ve Bursa gibi illerde kurulmuştur.
- Aşağıdakilerden hangisi, otomobil fabrikalarının bu illerde kurulmasında daha etkili olmuştur?
- A) Ulaşım B) İklim C) İş gücü
D) Yerçekilleri E) Nüfus

8. Batı rüzgarlarının etkisi altında kalan orta kuşak kara- larının batı kıyıları her mevsim yağış alır.
- Buna göre, aşağıdaki ülkelerden hangisinin her mevsim yağışlı olması batı rüzgârları ile açıklanabilir?
- A) Brezilya B) Nijerya C) Endonezya
D) İngiltere E) Malezya

9. Türkiye'de tarımsal üretimde ortaya çıkan dalgalanmayı azaltmak için,
- I. eğimli alanları işleyerek tarım alanlarını genişletmek,
II. tarımda çalışan nüfus sayısını arttırmak,
III. tarımda sulamayı yaygınlaştırmak,
IV. tarımda makineleşmeye daha çok önem vermek,
V. taban fiyat belirlemek
- gibi uygulamalardan hangileri yapılmalıdır?
- A) I ve II B) I ve IV C) II ve III
D) III ve V E) IV ve V

10. Aşağıdaki grafik, 2005 yılında Türkiye'de tüketilen doğal gazın kullanıldığı alanları göstermektedir.



Yalnızca grafikteki bilgilerden yararlanarak, aşağıdakilerden hangisine ulaşılabilir?

- A) Elektrik üretiminde kullanılan doğal gaz oranı sürekli artmaktadır.
B) Konutların sıcak su ihtiyaçlarının büyük bölümü doğal gazdan elde edilmektedir.
C) Doğal gaz en çok elektrik üretiminde kullanılmaktadır.
D) En pahalı doğal gaz sanayi sektöründe kullanılmaktadır.
E) Türkiye'de gübre üretiminde en çok doğal gaz kullanılmaktadır.

KÖRFEZ YAYINLARI

11. Aşağıdakilerden hangisinin Türkiye'deki orman alanlarına verdiği zararın diğerlerinden daha az olduğu söylenebilir?
- A) Kaçak kesimler
B) Yangınlar
C) Depremler
D) Turistik tesis inşaatı
E) Tarım alanına dönüştürme

12. Dünyadaki bazı şehirler geçmişte sahip olduğu önemi günümüzde de devam ettirmektedir.
- Aşağıdaki şehirlerden hangisi, geçmişteki önemini günümüzde de devam ettiren şehirlerden biri değildir?
- A) Mekke B) İstanbul C) Bakü
D) Kudüs E) Paris

13. Hava kirliliği, canlıların sağlığını olumsuz yönde etkileyerek maddi zararlara neden olan havadaki yabancı maddelerin, normalin üzerindeki miktar ve yoğunluğa ulaşmasıdır.

Hava kirliliğinin fazla olduğu yerlerin özellikleri arasında aşağıdakilerden hangisi gösterilemez?

- A) Sanayi tesislerinin fazla olması
B) Nüfus miktarının ve yoğunluğunun fazla olması
C) Motorlu taşıt sayısının fazla olması
D) Tarım alanlarının yeterince sulanamaması
E) Fosil kökenli yakıtların yoğun olarak kullanılması

körfez YAYINLARI

14. Bazı sanayi tesislerinin yerleri belirlenirken öncelikle ham maddeye yakınlık dikkate alınır.

Buna göre, aşağıdaki sanayi kuruluşlarından hangisinin Kıyı Ege'ye kurulması uygun değildir?

- A) Zeytin yağı B) Çay C) Sigara
D) Konserve E) Çimento

15. Türkiye'de bazı madenlerin işlenmemiş ya da yarı işlenmiş olarak başka ülkelere satılması aşağıdakilerden hangisinin bir göstergesidir?

- A) Maden teknolojisinin yeterince gelişmediğinin
B) Türkiye'nin maden ihtiyacının az olduğunun
C) Maden kalitesinin düşük olduğunun
D) İş gücü açığının fazla olduğunun
E) İşlenmemiş madenlerde gelirin daha fazla olduğunun

16. Çin'de nüfus yoğunluğu ülkenin doğu ve güneydoğu bölgelerinde yoğunlaşmıştır.

Bu durumun ortaya çıkmasında aşağıdakilerden hangisi etkili değildir?

- A) İklim koşullarının elverişli olması
B) Sanayi tesislerinin yoğun olması
C) Ulaşım ağının gelişmiş olması
D) Tarım alanlarının geniş olması
E) Bitki çeşitliliğinin fazla olması

LYS-4 COĞRAFYA-2 BRANŞ DENEMESİ-4

Bu Testte;

Toplam 16 adet soru bulunmaktadır. Cevaplama Süresi 25 dakikadır.

1. Türkiye'de tarımın en önemli problemi sulamadır. Bu problemin çözümü için özellikle iç bölgelerde bazı projeler uygulanmaktadır.

Türkiye'de sulama probleminin çözülmesi aşağıdakilerden hangisini etkilemez?

- A) Seracılığın yaygınlaşmasını
B) Tahıl üretimindeki dalgalanmaların azalmasını
C) Tarım ürünleri dış satımının artmasını
D) Kırdan kente göçün azalmasını
E) Sebze tarımının yaygınlaşmasını

2. Türkiye'de sanayi faaliyetlerinin en az geliştiği bölgelerden biri de Doğu Anadolu Bölgesi'dir.

Doğu Anadolu Bölgesi'nde sanayinin gelişmemesinde aşağıdakilerden hangisinin etkisi yoktur?

- A) Ulaşım güçlüğüünün
B) İklim şartlarının
C) Sermaye yetersizliğinin
D) Enerji üretiminin
E) Teknolojik alt yapının

3. Bir ülkenin ithalatının ihracatından fazla olması durumunda dış ticaret açığı oluşur.

İhraç ürünlerinin gelişmişlik düzeyi ile ilişkisi dikkate alındığında, aşağıdaki ürünlerden hangisini satan ülkenin dış ticaret açığının daha fazla olması beklenir?

- A) Maden cevheri
B) Beyaz eşya
C) Orman ürünleri
D) Otomotiv ve yedek parçaları
E) Elektrikli ve elektronik ürünler

4. Aşağıdakilerden hangisi Almanya ile Hollanda'nın ortak özelliklerinden biri değildir?

- A) Kentsel nüfus oranları yüksektir
B) Enerji tüketimleri fazladır
C) Kağıt tüketimleri fazladır
D) Ortalama yaşam süresi uzundur
E) Topraklarının büyük bölümü deniz seviyesinin altındadır

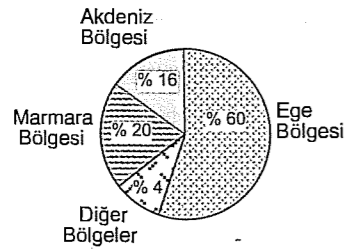
körfez YAYINLARI

5. "Hafta başında hava sıcaklıkları 5 derece düşmesine karşın sıcaklıklar hâlâ mevsim normallerinin üzerindeydi."

Aşağıdakilerden hangisi yukarıda verilen cümleden kesin olarak çıkarılabilecek bir yargıdır?

- A) Son on yılın en sıcak yazı yaşanmaktadır.
B) Hava sıcaklıklarının gelecek hafta yükselmesi beklenmektedir.
C) Hava sıcaklıklarının yükselmesinde küresel ısınma etkilidir.
D) Hava sıcaklıkları geçen hafta daha yüksekti.
E) Hava sıcaklıkları sadece batı bölgelerinde düşüş göstermiştir.

6. Aşağıdaki grafikte bir tarım ürününün Türkiye'nin coğrafi bölgelerine göre üretim oranları gösterilmiştir.



Yukarıda bölgelere göre dağılımı gösterilen tarım ürünü, aşağıdakilerden hangisidir?

- A) Buğday
B) Ayçiçeği
C) Zeytin
D) Pamuk
E) Turunçgiller

7. Dağlık ve engebeli bir bölgede bir akarsuyun akım miktarı ile akım düzeni incelenmiş ve baraj yapımına elverişli olduğuna karar verilmiştir. Baraj yapılırken akarsu havzası ağaçlandırılmış ve bazı yamaçlarında da taraçalama yapılmıştır.

Bu bölgede baraj yapıldıktan sonra, aşağıdakilerden hangisinde bir değişiklik olması beklenmez?

- A) Erozyon şiddetinde
B) Kış sıcaklıklarında
C) Elektrik üretiminde
D) Yağış düzeninde
E) Donlu gün sayısında

Körfez YAYINLARI

8. I. Akarsu
II. Petrol
III. Jeotermal
IV. Uranyum

Yukarıdaki enerji kaynaklarından hangisiyle çalışan santraller, kullandığı enerji kaynağından uzak bir yere kurulamaz?

- A) I ve II
B) I ve III
C) II ve III
D) II ve IV
E) III ve IV

9. Tarım ürünlerinin yetişme alanının genişliği genellikle iklime bağlı olarak değişmektedir. Bazı tarım ürünlerinin yetişme alanının genişliği ise iklim dışında başka etkenlerle açıklanır.

Buna göre, Türkiye'de aşağıdaki ürünlerden hangisinin ekim alanının dar olması iklim özelliklerine bağlı değildir?

- A) Muz
B) Zeytin
C) Çay
D) Turunçgil
E) Haşhaş

10. Birleşmiş Milletler 24 Ekim 1945'te Amerika Birleşik Devletleri'nin San Fransisco kentinde kurulmuştur. Türkiye bu örgütün kurucu üyelerindedir.

Aşağıdakilerden hangisi Birleşmiş Milletler'in temel amaçlarından biri değildir?

- A) Gelecek kuşakları savaştan korumak
B) Her milletin kendi geleceği hakkında karar vermesini sağlamak
C) Temel özgürlüklere saygı gösterilmesini sağlamak
D) Üye ülkeler arasında ortak bir pazar kurmak
E) Ülkeler arasında iyi ilişkiler kurulmasını sağlamak

11. I. Bebek ölüm oranının düşük olması
II. Ortalama yaşam süresinin uzun olması
III. Doğum oranının yüksek olması
IV. Çalışan nüfusun yaş ortalamasının düşük olması

Yukarıda verilen özelliklerden hangileri gelişmiş, hangileri geri kalmış ülkelerin özelliğidir?

Gelişmiş ülkeler	Az gelişmiş ülkeler
A) I ve II	III ve IV
B) I ve IV	II ve III
C) II ve III	I ve IV
D) II ve IV	I ve III
E) III ve IV	I ve II

Körfez YAYINLARI

12. Aşağıdakilerden hangisi Türkiye sanayisinin yapısal özellikleri ile ilgili değildir?

- A) Ham maddenin dağılışı ile sanayi kuruluşlarının dağılışı genel olarak paralellik gösterir.
B) Sanayi tesisleri, ulaşımın gelişmiş olduğu yerlerde daha yoğundur.
C) Marmara Bölgesi'nde sanayinin gelişmesinin temel nedeni ham maddenin varlığıdır.
D) İhracat gelirlerinin yarısından fazlası sanayi ürünlerinden elde edilir.
E) Türkiye'de en çok gelişen sanayi kolları dokuma, tekstil, gıda, otomotiv ve mobilyadır.

13. Aşağıdaki tabloda beş ayrı ülkenin tarım alanlarının yetiştirilen ürünlere göre dağılışı verilmiştir.

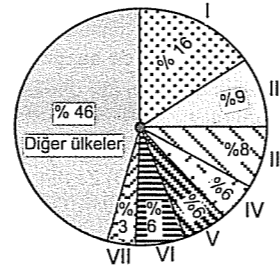
Ülkeler	Tahıllar (%)	Endüstri bitkileri (%)	Sebze ve meyveler (%)	Diğer ürünler (%)
I	25	32	41	2
II	9	43	39	9
III	41	35	18	6
IV	65	23	10	2
V	49	21	18	12

Bir ülkede yaygın olarak yetiştirilen tarım ürünleri ile o ülkede gelişen sanayi kolları benzerlik gösterebilir.

Buna göre, yukarıdaki tabloda verilen ülkelerden hangisinin tarımsal üretimi, sanayiye **daha fazla katkıda bulunmaktadır?**

- A) I B) II C) III D) IV E) V

15. Aşağıdaki grafikte 2005 yılında Türkiye'nin dış ticaret hacminin bazı ülkelere göre dağılışı oranları gösterilmiştir.



Grafikte gösterilen I numaralı ülke aşağıdakilerden hangisidir?

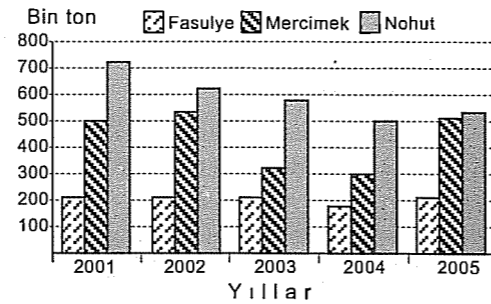
- A) İngiltere B) İtalya C) ABD
D) Almanya E) Japonya

14. Ülkelerin ekonomik gelişmişlik seviyeleri doğal kaynaklarını verimli bir şekilde kullanabilme becerilerini etkiler.

Az gelişmiş bir ülkenin doğal kaynaklarını yeterince kullanamamasının nedeni aşağıdakilerden hangisidir?

- A) Doğal çevreyi koruma düşüncesi
B) Üretim teknolojisinin yetersiz olması
C) İş gücünün yetersiz olması
D) Gelecekte kullanma düşüncesi
E) İklim koşullarının elverişsiz olması

16. Aşağıdaki grafikte, Türkiye'nin 2001 ile 2005 yılları arasında fasulye, mercimek ve nohut üretimleri gösterilmiştir.



Aşağıdakilerden hangisi bu grafikten çıkarılabilecek yargılardan biri **değildir?**

- A) Nohut üretiminin en fazla olduğu yıl 2001'dir.
B) Fasulye üretiminde yıllar itibarıyla dalgalanma azdır.
C) Nohut ve mercimek üretimlerinin birbirine en yakın olduğu yıl 2005'dir.
D) Verilen yıllarda fasulye üretim miktarı en azdır.
E) Verimi en yüksek tarım ürünü nohuttur.

LYS-4 COĞRAFYA-2 BRANŞ DENEMESİ-5

Bu Testte;

Toplam 16 adet soru bulunmaktadır. Cevaplama Süresi 25 dakikadır.

1. - Yeraltı kaynakları sınırlıdır.
- Ilıman okyanus iklimi görülür.
- Tarıma elverişli toprak oranı fazladır.
- Modern tarım yöntemleri kullanılır.
3. Farklı iklim bölgelerinde yetiştirilebilen tarım ürünleri olduğu gibi, yalnızca belirli bir iklim bölgesinde yetiştirilen tarım ürünleri de vardır.

Buna göre, aşağıdaki tarım ürünlerinden hangisi daha fazla iklim bölgesinde yetiştirilebilir?

- A) Çay B) Zeytin C) Tütün
D) Muz E) İncir

Yukarıda bazı özellikleri verilen Avrupa ülkesi aşağıdakilerden hangisidir?

- A) İsviçre B) İtalya C) Hollanda
D) Norveç E) Yunanistan

2. Aşağıdaki tabloda 2007 ile 2008 yıllarında Türkiye'deki bazı meyvelerin üretim miktarı (ton) gösterilmiştir.

Meyveler	Üretim	
	2007	2008
Üzüm	3 612 781	3 918 442
Muz	189 107	201 115
İncir	210 152	205 067
Turunçgiller (toplam)	2 988 664	3 026 936
Elma	2 457 845	2 504 494
Kayısı	557 572	716 415
Fındık	530 000	800 791
Antep fıstığı	73 416	120 113

Buna göre, aşağıdaki yargılardan hangisine ulaşamaz?

- A) Bütün ürünlerin üretim miktarı artmıştır.
B) Fındık üretimi %50'den fazla artmıştır.
C) Verilen yıllarda en fazla üretilen ürün üzumdür.
D) Verilen yıllarda elma üretimi, kayısı ve fındık üretiminin toplamından fazladır.
E) 2008 yılında üzüm ve turunçgiller üretiminin toplamı, diğer ürünlerin toplamından daha fazladır.

5. Türkiye maden çeşitliliği bakımından zengin bir ülkedir. Farklı bölgelerinde 30'dan fazla maden çıkarılmaktadır.

Türkiye'de maden zenginliğinin fazla olmasının nedeni aşağıdakilerden hangisidir?

- A) İklim çeşitliliğinin fazla olması
B) Üç tarafının denizlerle çevrili olması
C) Jeolojik çeşitliliğin fazla olması
D) Ortalama yükseltisinin fazla olması
E) Madencilğe dayalı sanayinin gelişmiş olması

7. Bir sanayi kolunun bir bölgede gelişmesinde ulaşım, ham maddeye yakınlık ve enerji kaynağı gibi faktörler etkilidir.

Aşağıdaki endüstri kollarından hangisinin Türkiye'de gelişmesinde ham maddeye yakınlık **daha az etkili olmuştur**?

- A) Konserve B) Şeker C) Çimento
D) Tekstil E) Çay

6. - Su kirlenmesi
- Toprak kirlenmesi
- Gürültü kirliliği

Yukarıda verilen çevre sorunlarının ortaya çıkmasında aşağıdakilerden hangisi etkili **değildir**?

- A) Sanayinin gelişmesi
B) Nüfus yoğunluğunun artması
C) Tarımsal ilaç kullanımının artması
D) Nem miktarının azalması
E) Sanayi tesislerinin kent içinde kalması

8. Aşağıdaki tabloda dört merkezin aynı gün ve saatteki gerçek sıcaklıkları ile deniz seviyesine indirgenmiş sıcaklıkları verilmiştir.

Ortalama yükseltisi fazla, dağlık ve engebeli bölgelerde yer alan akarsuların hidroelektrik potansiyeli yüksektir.

Merkezler	Gerçek sıcaklık (°C)	İndirgenmiş sıcaklık (°C)
I	14	18
II	10	22
III	6	15
IV	2	17
V	11	13

Buna göre, tabloda verilen merkezlerin hangisinde yer alan akarsuların hidroelektrik potansiyeli **daha** yüksektir?

- A) I B) II C) III D) IV E) V

9. Bir bölgede kentleşme hızının sanayileşme hızından fazla olması,

- I. Tarımsal faaliyetlerin sanayiden daha fazla gelişmesi
II. Eğitim ve sağlık hizmetlerinin gelişmesi
III. Tarım alanlarının alt yapısı olmayan yerleşim alanlarına dönüşmesi
IV. Sanayi tesislerinin kent içinde kalması

- etmenlerinden hangilerine neden olur?
A) I ve II B) I ve III C) I ve IV
D) II ve IV E) III ve IV

10. Az gelişmiş ve gelişmekte olan ülkelerde, nüfus artış hızının yüksek olması ülke ekonomisini olumsuz yönde etkiler.

Buna göre, aşağıdaki ülkelerden hangisinde, nüfus artış hızının yüksek olması ülke ekonomisini olumsuz yönde **etkilemez**?

- A) Mısır B) Nijerya
C) Türkiye D) Almanya
E) Hindistan

11. Doğu Karadeniz Bölümü'nün kıyı kesimleri ile iç kesimleri arasında yetiştirilen tarım ürünleri bakımından farklılıklar görülür.

Bu durumun ortaya çıkmasında, aşağıdakilerden hangisi etkili **olmamıştır**?

- A) Yer yapısının kırıklı olması
B) Sıcaklık ortalamalarının farklı olması
C) Nem miktarının değişmesi
D) Dağların uzanış doğrultusu
E) Denize göre konumlarının farklı olması

12. Aşağıdakilerden hangisi Ekonomik İşbirliği ve Kalkınma Teşkilatı (OECD)'nin hedefleri arasında **gösterilemez**?

- A) Üye ülkelerin büyüme hızı ve istihdamının artırılması
B) Üye ülkelerin hayat standartlarının yükseltilmesi
C) Uluslararası barış ve güvenliğin korunması
D) Ülkelerin mali sıkıntılarının giderilmesine yardımcı olunması
E) Ekonomik yardımların koordinasyonunun sağlanması

13. Aşağıdaki haritada Türkiye'de elektrik santralleri bulunan bazı iller gösterilmiştir.



Bu illerde elektrik üretiminde yaygın olarak kullanılan enerji kaynağı aşağıdakilerden hangisinde doğru olarak verilmiştir?

	Denizli	Kütahya	Elazığ
A) Su gücü	Kömür	Buhar gücü	Buhar gücü
B) Kömür	Su gücü	Buhar gücü	Su gücü
C) Kömür	Buhar gücü	Su gücü	Su gücü
D) Buhar gücü	Kömür	Su gücü	Su gücü
E) Su gücü	Buhar gücü	Kömür	Kömür

14. Kıyı Ege Bölümü'nde yetiştirilen pamuk, tütün ve incir gibi ürünler, İç Batı Anadolu Bölümü'nde yerini buğday, arpa ve şekerpancarına bırakmıştır.

Bu durumun ortaya çıkmasında, aşağıdakilerden hangisi etkili değildir?

- A) Ekvator'a göre konum
B) Sıcaklığın azalması
C) Yükseltinin artması
D) Karasallığın artması
E) Yaz süresinin kısalması

15. Ülkelerin gelişmişlik seviyeleri ile doğal kaynaklarını verimli kullanmaları arasında yakın bir ilişki vardır.

Buna göre, aşağıdaki ülkelerden hangisinin doğal kaynaklarını verimli şekilde kullanabilmesi daha zordur?

- A) Çin Halk Cumhuriyeti
B) Rusya Federasyonu
C) Japonya
D) Nijerya
E) Güney Afrika Cumhuriyeti

16. Aşağıda Türkiye'yi sembolize eden bazı yerler verilmiştir.

- I. Ayasofya Müzesi
II. İstanbul Boğazı
III. Nevşehir Peribacaları
IV. Pamukkale Travertenleri

Türkiye'yi sembolize eden bu mekanlardan hangileri arazideki kaya yapısına bağlı olarak doğal yollarla oluşmuştur?

- A) Yalnız I
B) Yalnız II
C) I ve II
D) II ve III
E) III ve IV

LYS-4 COĞRAFYA-2 BRANŞ DENEMESİ-6

Bu Testte;

Toplam 16 adet soru bulunmaktadır. Cevaplama Süresi 25 dakikadır.

1. Aşağıda bazı keşif ve icatlar ile doğal kaynaklar verilmiştir.

- I. Buhar makinesi → kömür
II. Dinamo → akarsu
III. Dizel motor → petrol
IV. Elektrik enerjisi → demir
V. Nükleer enerji → uranyum

Yukarıda verilen eşleştirmelerden hangisinde, keşif ve icatlar ile önemini arttırdığı doğal kaynak yanlış verilmiştir?

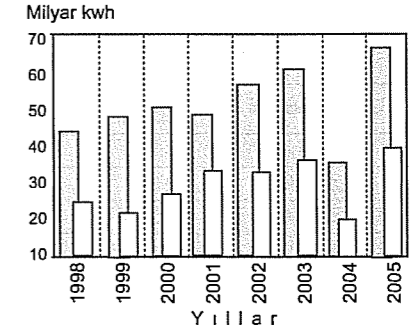
- A) I
B) II
C) III
D) IV
E) V

3. Kentleşmenin ve endüstrileşmenin artması su kirliliğinin artmasına neden olmuştur.

Buna göre, aşağıda verilen merkezlerin hangisinde su kaynaklarının daha fazla kirlenmesi beklenir?

- A) Muğla
B) Aydın
C) Kocaeli
D) Antalya
E) Edirne

4. Aşağıdaki grafikte 1998–2005 yılları arasında termik kaynaklar ile su gücünden elde edilen enerji miktarı (milyar kwh) gösterilmiştir.



Aşağıdaki yargılardan hangisi bu grafikten çıkarılamaz?

- A) Termik kaynaklardan elde edilen yıllık ortalama enerji miktarı
B) Termik kaynaklardan elde edilen enerji miktarının en yüksek olduğu yıl
C) Su gücünden elde edilen yıllık ortalama enerji miktarı
D) Termik kaynaklardan elde edilen enerjide payı en yüksek olan kaynak
E) Su gücünden elde edilen enerji miktarının en fazla olduğu yıl

2. Kar yağışının bol olduğu dağlık ve engebeli yerlerde, kar tabakasının yamaçtan aşağıya doğru hareket etmesine çığ denir.

Türkiye'de çığları önlemek ve zararlarını azaltmak için, aşağıdakilerden hangisi yapılması gerekenlerden biri değildir?

- A) Arama ve kurtarma ekiplerinin kurulması
B) Çığ risk önleme haritalarının hazırlanması
C) Çığ erken uyarı sistemlerinin oluşturulması
D) Kara yolu ve demir yolu ağının sıklaştırılması
E) Kar tünelleri ve köprülerinin kurulması

5. Güney Doğu Anadolu Bölgesi'nde Akdeniz ikliminin görüldüğünü söyleyen bir kişi aşağıdakilerden hangisini bu yargısına destek olarak gösterebilir?

- A) Zeytin tarımının yapılmasını
B) Hayvancılığın gelişmiş olmasını
C) Sulama olanaklarının fazla olmasını
D) Birim alandan elde edilen verimin yüksek olmasını
E) Makineli tarıma elverişli düzlüklerin bulunmasını

6. Aşağıda bazı ülkelerin mevcut tatlı su miktarı ile kişi başına düşen su miktarları verilmiştir.

Ülke ve sıralaması	Tatlı su miktarı (Milyar m ³)	Kişi başına düşen su miktarı (m ³)
1. Brezilya	8 233	45 570
4. Kanada	2 902	91 420
41. Türkiye	214	2 950
68. Hırvatistan	106	23 890
69. Zambiya	105	9 630

Yukarıdaki bilgilere dayanarak aşağıdaki yargılardan hangisine ulaşamaz?

- A) Ülkelerin toplam tatlı su miktarı ile gelişmişlikleri arasında paralellik yoktur.
B) Türkiye, Zambiya ve Hırvatistan'da kişi başına düşen toplam su miktarı Kanada'dan daha azdır.
C) Kişi başına düşen su miktarının en fazla olduğu ülke aynı zamanda tatlı su miktarı da en fazla olan ülkedir.
D) Dünyadaki tatlı su miktarı kıtalara ve ülkelere göre dengeli dağılmamıştır.
E) Verilen ülkeler içinde kişi başına düşen su miktarı en az olan ülke Türkiye'dir.

7. İç Anadolu ve Doğu Anadolu bölgelerinde aynı tarım ürününün yılın farklı dönemlerinde olgunlaşmasının en önemli nedeni aşağıdakilerden hangisidir?

- A) Tarım yöntemlerinin farklı olması
B) Yüzölçümlerinin farklı olması
C) Ortalama yükseltilerinin farklı olması
D) Yağış rejimlerinin farklı olması
E) Toprak türlerinin farklı olması

8. Aşağıda, dört farklı madenin Türkiye'de çıkarıldıkları ve işlendikleri yerler verilmiştir.

- Kastamonu Küre'de çıkarılır, Samsun'da işlenir.
- Balıkesir Susurluk'ta çıkarılır, Bandırma'da işlenir.
- Sivas Divriği'de çıkarılır, Ereğli'de işlenir.
- Muğla Dalaman'da çıkarılır, Antalya'da işlenir.

Aşağıdakilerden hangisi bu madenlerden biri değildir?

- A) Bakır B) Krom C) Bor
C) Demir D) Taş kömürü

9. Bir bölgedeki toprağın tarımsal faaliyetlerde kullanılabilmesi için bazı özelliklerinin kriterlere uygun olması gerekir.

Aşağıdakilerden hangisi tarımsal arazi kullanımında göz önünde bulundurulacak kriterlerden biri değildir?

- A) İklim özellikleri
B) Toprak kabiliyeti
C) Sulama durumu
D) Boylam derecesi
E) Jeomorfolojik yapı

10. Türkiye'de, aşağıdaki kentlerden hangi ikisi arasında demir yolu ile ulaşım sağlanamaz?

- A) Sivas - Samsun
B) Adana - Konya
C) Elazığ - Van
D) Denizli - Isparta
E) Trabzon - Samsun

11. Sanayi faaliyetlerinin geliştiği, yoğun nüfuslu yerlerde çevre kirliliği fazladır.

Aşağıdakilerden hangisi çevre kirliliğine bağlı olarak ortaya çıkan sonuçlardan biri değildir?

- A) Solunum yolu hastalıklarının artması
B) Havadaki karbondioksit oranının artması
C) Kentlerde taşıt sayısının artması
D) Yeraltı sularında kirliliğin artması
E) Asit yağmurlarının artması

12. Güneş'ten elde edilen enerji miktarı güneşli gün sayısına bağlı olarak değişir.

Türkiye'de güneş enerjisinden sıcak su elde etmek amacıyla evlerin çatılarına konulan kolektörlerden, aşağıdaki bölgelerin hangisi daha fazla yararlanmaktadır?

- A) Akdeniz B) Marmara C) Ege
D) İç Anadolu E) Karadeniz

13. I. Doğum oranı ve nüfus artış hızı düşüktür.
II. Batı rüzgarlarının etkisiyle bol yağış alır.
III. Akarsu ağzlarında halicilere rastlanır.
IV. Atlas Okyanusu'na ve Akdeniz'e kıyısı vardır.

Yukarıda özelliklerden hangileri İngiltere'ye ait değildir?

- A) Yalnız I B) Yalnız III C) Yalnız IV
D) I ve III E) III ve IV

15. Aşağıdaki haritada bazı liman kentleri gösterilmiştir.



Yukarıdaki haritada verilen kentlerden hangisinin sanayi yönünden gelişmesinde sahip olduğu limanın etkisi en azdır?

- A) Zonguldak B) İzmir C) Samsun
D) Antalya E) İstanbul

14. Aral Gölü'nde tarımsal kullanım amacıyla açılan drenaj kanalları yüzünden gölün alanı % 40, hacmi ise % 75 azalmıştır.

Aşağıdakilerden hangisi, bu durumun ortaya çıkardığı sonuçlardan biri değildir?

- A) Tarım alanlarında verimin artması
B) Kış mevsiminin daha sert geçmesi
C) Salgın hastalıkların yaygınlaşması
D) Rüzgâr erozyonunun artması
E) Liman ve tersanelerin kullanılamaz hale gelmesi

16. Ülkelerin ekonomik gelişmişlik seviyeleri dış satım ürünlerini etkiler.

Bir ülkenin dış satımında ham ve yarı işlenmiş madenler büyük paya sahipse, bu ülke için aşağıdakilerden hangisi söylenemez?

- A) Endüstrisi gelişmemiştir
B) Dış ticaret açığı fazladır
C) Tarımda çalışan nüfus oranı yüksektir
D) Üretim teknolojisi gelişmemiştir
E) İş gücü açığı fazladır

LYS-4 COĞRAFYA-2 BRANŞ DENEMESİ-7

Bu Testte;

Toplam 16 adet soru bulunmaktadır. Cevaplama Süresi 25 dakikadır.

1. Aşağıdakilerden hangisi, Japonya'ya ait bir özellik değildir?

- A) Aktif deprem kuşağı üzerindedir.
B) Doğum oranı düşüktür.
C) Tarımda intansif metodlar uygulanır.
D) Dünyanın en gelişmiş ülkelerindendir.
E) Yeraltı kaynakları bakımından zengindir.

3. Aşağıdakilerin hangisinde verilen endüstri kuruluşunun işlediği ham madde, başka bir yerden getirilmektedir?

- A) Kütahya Tavşanlı'daki termik santral
B) Seydişehir'deki alüminyum tesisleri
C) Afyon'daki mermer fabrikaları
D) Konya'daki civa fabrikası
E) Antalya'daki ferro-krom fabrikası

2. Tarım alanlarının geniş olduğu yerlerde makineli tarım yaygın olarak yapılır.

Buna göre, aşağıdaki bölümlerin hangisinde makineli tarımın daha yaygın olması beklenir?

- A) Erzurum-Kars
B) Ergene
C) Batı Karadeniz
D) Yukarı Fırat
E) Antalya

4. Türkiye'de bazı tarım ürünleri doğal yetişme bölgesinin dışında farklı yerlerde de yetiştirilmektedir.

- I. Doğu Karadeniz'de narenciye yetiştirilmesi,
II. Afyon ve çevresinde haşhaş yetiştirilmesi,
III. Iğdır'da pamuk yetiştirilmesi,
IV. Kıyı Ege Bölümü'nde incir yetiştirilmesi,

Yukarıdakilerden hangileri bu duruma örnektir?

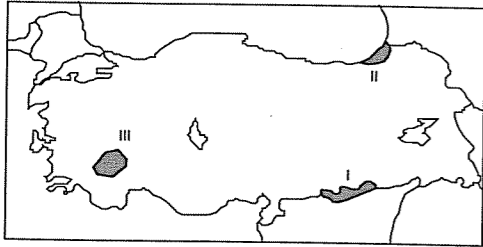
- A) I ve II B) I ve III C) II ve III
D) II ve IV E) III ve IV

5. Bilimsel adı "Kuercus vulcanica" olan kasnak meşesi, Anadolu'ya özgü bir ağaçtır. Bu ağaç, 1300-1800 metrelerde küçük kümeler halinde bulunur. Toprak örtüsünün kalın olduğu yerlerde, kireçli topraklarda bile yetişebilir. Kerestesi değerli olan bu ağaç, 25-30 m boya ve 1,6 m çapa ulaşabilmektedir.

Buna göre, aşağıda verilen yerlerden hangisinde kasnak meşesi görülebilir?

- A) Kütahya Yöresi
B) Ergene Havzası
C) Çukurova
D) Harran Ovası
E) Çatalca Yarımadası

6.



Yukarıdaki haritada taralı alanlarda yoğun olarak tarımı yapılan ürünler, aşağıdakilerden hangisinde bir arada verilmiştir?

I	II	III
A) Mercimek	Fındık	Gül
B) Ayçiçeği	Çay	Zeytin
C) Nohut	Tütün	Üzüm
D) Pamuk	Çay	Gül
E) Buğday	Zeytin	Mercimek

KÖRFEZ YAYINLARI

7. Aşağıdakilerden hangisi Güneydoğu Anadolu Bölgesi'nde farklı iklim tiplerinin görüldüğüne bir örnektir?

- A) Yaz aylarında buharlaşmanın fazla olması
B) Ekonomik faaliyetlerin çeşitlilik göstermesi
C) Topraktaki kireç oranının yüksek olması
D) Tarım ürünlerinin çeşitlilik göstermesi
E) Yağış rejiminin düzensiz olması

8. Türkiye'de hidroelektrik enerji potansiyelinin fazla olmasında,

- I. yükselti farkının fazla olması,
II. akarsu akış hızlarının fazla olması,
III. akarsu rejimlerinin farklı olması,
IV. akarsu boylarının uzun olması

özelliklerinden hangileri etkili olmamıştır?

- A) I ve II
B) I ve III
C) II ve III
D) II ve IV
E) III ve IV

9. Türkiye'de tarım ürünlerinin yetişme alanını sınırlandıran en önemli faktörler iklim ve devlet kontrolüdür.

Buna göre, aşağıda verilen tarım ürünlerinden hangisinin Türkiye'deki yetişme alanının sınırlı olmasında iklim etkilidir?

- A) Kenevir
B) Pirinç
C) Tütün
D) Haşhaş
E) Çay

11. Zeytin, Akdeniz ikliminin doğal bitki örtülerinden biridir. Türkiye'de zeytin üretimine en elverişli bölge Akdeniz Bölgesi olduğu halde, zeytin üretiminde bölgenin payı düşüktür.

Akdeniz Bölgesi'nin Türkiye zeytin üretiminde düşük bir paya sahip olması aşağıdakilerden hangisiyle açıklanabilir?

- A) Endüstrinin gelişmiş olmasıyla
B) Zeytin tüketiminin az olmasıyla
C) Hayvancılığın ön planda olmamasıyla
D) Seracılık ve meyveciliğin yaygın olmasıyla
E) Zeytin veriminin düşük olmasıyla

KÖRFEZ YAYINLARI

10. Son yüzyılda dünyada orman alanlarının önemli bir bölümü insanlar tarafından yok edilmiştir.

Aşağıdakilerden hangisi meydana gelen bu tahribatın önüne geçmek için alınması gereken tedbirlerden biri değildir?

- A) Kağıt tüketimine sınırlama getirilmesi
B) Kaçak ağaç kesimlerinin engellenmesi
C) Okullarda çevre bilincinin aşılması
D) Geri dönüşümü olan materyallerin kullanılması
E) İnsanların ağaç ve fidan dikimine özendirilmesi

12. Türkiye'de yaz aylarının kurak ve çok sıcak geçmesi nedeniyle ormanlar kolayca ateş almakta ve sık sık yangınlar çıkmaktadır.

Bu durum, aşağıdaki bölgelerden hangisi için geçerli olamaz?

- A) Karadeniz
B) Akdeniz
C) Ege
D) İç Anadolu
E) Marmara

13. Aşağıda bazı şehirler ve bu şehirlerde yer alan maden endüstri tesisleri eşleştirilmiştir.

Bu eşleştirmelerden hangisi yanlıştır?

- A) İskenderun – Demir-çelik
B) Seydişehir – Alüminyum
C) Bandırma – Bor ve boraks
D) Samsun – Petrol
E) Antalya – Ferro-krom

15. Toprağın üst kısmının akarsu ve rüzgarlar tarafından süpürülmesine erozyon denir.

Türkiye’de ekim alanlarının yarısından fazlasında erozyon nedeniyle çok miktarda toprak kaybı olmasının nedeni aşağıdakilerden hangisidir?

- A) Nöbetleşe ekim yapılması
B) Dört mevsim yaşanması
C) Yeraltı su seviyesinin azalması
D) Bitki örtüsü çeşitliliğinin fazla olması
E) Yerçekillerinin dağlık ve engebeli olması

14. Uzmanlar, gelecekte ekonomik açıdan en güçlü ülkelerden birinin Hindistan olacağını ön görmektedir.

Hindistan’ın ekonomide günümüzün dünya devletleriyle rekâbet edecek durumda olmasında aşağıdakilerden hangisinin etkisi en azdır?

- A) Yağış miktarının fazla olmasının
B) İşgücünün ucuz olmasının
C) Ham maddenin fazla olmasının
D) Enerji kaynaklarının fazla olmasının
E) Bilişim sektöründe yetişmiş elemanlara sahip olmasının

16. Bir ülkenin toplam ithalat ve ihracat miktarına dış ticaret hacmi denir.

Aşağıdaki ülkelerin ekonomik yapıları dikkate alındığında, hangisinin dış ticaret hacminin daha düşük olması beklenir?

- A) Çin Halk Cumhuriyeti
B) Almanya
C) Türkiye
D) İngiltere
E) Japonya

LYS-4 COĞRAFYA-2 BRANŞ DENEMESİ-8

Bu Testte;

Toplam 16 adet soru bulunmaktadır. Cevaplama Süresi 25 dakikadır.

1. Çin’de nüfusun ve ekonomik faaliyetlerin ülkenin doğu ve güneydoğu bölümünde yoğunlaşmasında aşağıdakilerden hangisi en fazla etkili olmuştur?

- A) İklim koşullarının elverişli olması
B) Japonya’ya yakın olması
C) Bitki örtüsünün seyrek olması
D) Ulaşımın gelişmiş olması
E) İş gücünün daha ucuz olması

3. Aşağıdakilerden hangisi, İngiltere’nin jeopolitik konumunu etkileyen bir faktör değildir?

- A) Dört tarafının denizlerle çevrili olması
B) Avrupa Kıtası’na yakın olması
C) Deniz ulaşımında gelişmiş olması
D) Okyanus akıntılarının karşılaştığı bir bölgede yer alması
E) Yaz aylarında gündüz süresinin uzun olması

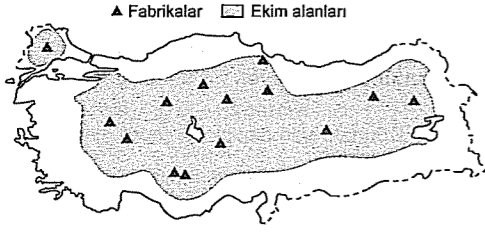
2. Önceleri buğday, arpa ve mercimek gibi ürünlerin ekildiği bir yerde son zamanlarda sebze tarımı yapılması aşağıdakilerden hangisinin bir göstergesidir?

- A) Halkın sebze tarımını daha çok sevdiğinin
B) Sebze tarımının daha kolay olduğunun
C) Tarımsal ilaç kullanımının azaldığının
D) Tarımda sulamanın arttığıının
E) Buğday, arpa ve mercimek üretiminin fazla geldiğinin

4. Aşağıdakilerden hangisi Türkiye’de çıkarılan madenlerle ilgili yanlış bir bilgidir?

- A) Taşkömürünün tamamı Batı Karadeniz Bölümü’nün de çıkarılır.
B) Çıkarım alanı en geniş madenlerden biri de linyittir.
C) Bor mineralleri rezervi bakımından Türkiye dünyanın en zengin ülkesidir.
D) Alüminyumun önemli bir kısmı Seydişehir’de çıkarılır ve işlenir.
E) Avrupa’da en fazla petrol çıkaran ülke Türkiye’dir.

5. Aşağıdaki Türkiye haritasında bir tarım ürününün yetiştirildiği yerler ile bu ürünü işleyen fabrikalar gösterilmiştir.



Haritada verilen bilgilere göre bu tarım ürünü aşağıdakilerden hangisi olabilir?

- A) Şekerpancarı B) Buğday C) Tütün
D) Ayçiçeği E) Mısır

7. Oluşumunda insanların etkisinin olmadığı ve insanlara zarar verebilen olaylar doğal afet olarak kabul edilmektedir.

Aşağıdakilerden hangisi doğal afet değildir?

- A) Türkiye'de oluşan depremler
B) Amerika'da oluşan kasırgalar
C) İtalya'da meydana gelen volkanik patlamalar
D) Endonezya'da yaşanan tsunami
E) Grönland Adası'ndaki buzulların erimesi

6. Ham maddesi tarıma dayanan sanayi ürünlerinin üretim miktarı iklim koşullarına bağlı olarak değişebilir.

Buna göre, Türkiye'de aşağıdaki sanayi kollarından hangisinin yıllık üretim miktarı iklim koşullarına bağlı olarak değişir?

- A) Çimento B) Demir - çelik
C) Seramik D) Petro - kimya
E) Konserve

8. Aşağıda bazı madenler ve bu madenlerin en çok çıkarıldığı bölgeler verilmiştir.

- I. Linyit - Ege Bölgesi
II. Bakır - Akdeniz Bölgesi
III. Bor - Marmara Bölgesi
IV. Civa - Ege Bölgesi
V. Petrol - Güneydoğu Anadolu Bölgesi

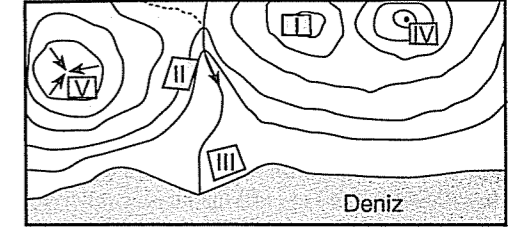
Yukarıdaki eşleştirmelerden hangisi yanlıştır?

- A) I B) II C) III D) IV E) V

9. Aşağıdakilerden hangisi bir ülkenin gelişmişlik seviyesi hakkında bir fikir vermez?

- A) Kişi başına düşen milli gelir
B) Dış ticaret hacmi
C) Ortalama yükseltisi
D) Sanayide tüketilen elektrik miktarı
E) Hizmet sektöründe çalışan nüfus oranı

11. Aşağıdaki haritada bir bölgenin yüzey şekilleri eşyüksekti eğrileriyle gösterilmiştir.



Yerçekillerinin tarımsal faaliyetler üzerindeki etkisi dikkate alındığında işaretli bölgelerden hangisinde tarımda makine kullanımı daha yaygındır?

- A) I B) II C) III D) IV E) V

10. Aşağıdakilerden hangisi doğal kaynakların kullanımında en az etkilidir?

- A) Denize göre konum
B) Doğal kaynağın potansiyeli
C) Kullanılan yöntem
D) İnsanların ihtiyaçları
E) Kullanılan teknolojiler

12. Yıl boyunca sıcak ve nemli iklim koşullarının yaşandığı Amazon Havzası'ndaki yağmur ormanları, dünyanın en zengin yaşam alanları arasında yer alır.

Aşağıdakilerden hangisi Amazon Havzası'ndaki yağmur ormanlarının tahrip edilmesi sonucu ortaya çıkan sorunlardan biridir?

- A) Kuraklığın artması
B) Su kaynaklarının kirlenmesi
C) Toprak erozyonunun artması
D) Kereste ve kağıt ihtiyacının artması
E) Nem oranının azalması

13. I. Pirinç üretiminin tüketimi karşılayamaması
II. Kıtaların arasında yer alması
III. Enerji tüketiminin fazla olması
IV. Ham madde ihtiyacının az olması

Yukarıda verilenlerden hangileri, Çin'in özellikleri arasında gösterilemez?

- A) I ve II B) I ve III C) II ve III
D) II ve IV E) III ve IV

14. Doğal kaynak bakımından zengin olan Afrika ülkelerinde endüstri yeterince gelişmemiştir.

Aşağıdakilerden hangisi Afrika ülkelerinde endüstrinin yeraltı zenginliklerine paralel bir düzeyde gelişmesi için yapılabilecek çalışmalardan biri olmaz?

- A) Enerji üretiminin artırılması
B) Tarımsal üretime ağırlık verilmesi
C) Sermaye birikimi sağlanması
D) Üretim teknolojilerinin geliştirilmesi
E) Ham madde kaynaklarının yabancı denetiminden çıkarılması

15. Barajların, bir çok faydasının yanında insana ve çevreye verdiği bazı zararları da vardır.

Aşağıdakilerden hangisi, barajların ortaya çıkarıldığı olumsuzluklardan biri değildir?

- A) Yerleşim alanlarının sular altında kalması
B) Bazı bitki ve hayvan türlerinin yok olması
C) Sudan kaynaklanan paraziter hastalıkların artması
D) İklim özelliklerinin değişmesi
E) Tarihi ve kültürel değeri olan yerlerin sular altında kalması

16. Aşağıdaki tabloda, cumhuriyetin ilk yıllarında Ege Bölgesi'ndeki illerde var olan tesis sayıları ve bölgedeki oranı ile bu tesislerde çalışanların sayısı ve bölgedeki oranları verilmiştir.

İller	Tesis sayısı	%	Çalışan sayısı	%
İzmir	3 422	29,0	26 345	49,0
Manisa	1 984	16,8	4 647	8,6
Kütahya	1 668	14,2	4 519	8,4
Denizli	1 478	12,5	3 542	6,6
Aydın	1 173	10,1	9 725	18,0
Muğla	1 171	9,9	2 807	5,3
Afyon	881	7,5	2 196	4,1
Toplam	11 777	100,0	53 781	100,0

Yalnızca yukarıdaki tabloya bakılarak aşağıdaki yargılardan hangisi çıkarılmaz?

- A) İller arasında tesis sayısı ve çalışanların ortalaması bakımından büyük farklılıklar vardır.
B) İzmir, Ege Bölgesi'nde çalışanların yaklaşık olarak % 50'sine sahiptir.
C) Manisa tesis sayısı bakımından Aydın'dan ileridir.
D) İzmir'de bulunan tesis sayısı diğer illerin toplamından daha fazladır.
E) Tesis sayısı ve çalışan sayısı bakımından en düşük pay Afyon'a aittir.

LYS-4 COĞRAFYA-2 BRANŞ DENEMESİ-9

Bu Testte;

Toplam 16 adet soru bulunmaktadır. Cevaplama Süresi 25 dakikadır.

1. I. İspanya
II. Hindistan
III. Fransa
IV. Yunanistan
V. Mısır

Yukarıda verilen ülkelerden hangileri ilk şehir yerleşmelerinin ortaya çıktığı ülkelerdendir?

- A) I ve II B) I ve III C) II ve III
D) II ve IV E) II ve V

2. Aşağıdaki haritada bazı hayvancılık faaliyetlerinin yoğun olarak yapıldığı alanlar gösterilmiştir.



Bu dağılışın ortaya çıkmasında,

- I. doğal bitki örtüsü,
II. sanayi tesisleri,
III. yer şekilleri ve iklim koşulları,
IV. tarım alanlarının genişliği

faktörlerinden hangileri etkili olmuştur?

- A) I ve II B) I ve III C) II ve III
D) II ve IV E) III ve IV

3. Bir yerdeki endüstrileşme için önemli şartlardan birisi de ham maddenin varlığıdır.

Aşağıda verilen endüstri kuruluşlarından hangisi, ham maddenin varlığı dışında bir nedene bağlı olarak kurulmuştur?

- A) Batman petrol rafinerisi
B) Elazığ ferro-krom tesisi
C) Seydişehir alüminyum işletmesi
D) Karabük demir-çelik fabrikası
E) Kütahya Tavşanlı termik santrali

4. Aşağıdaki bölümlerin hangisinde, balıkçılık önemli bir geçim kaynağıdır?

- A) Ergene Bölümü
B) Kıyı Ege Bölümü
C) Doğu Karadeniz Bölümü
D) Güney Marmara Bölümü
E) Antalya Bölümü

5. Türkiye'nin bazı şehirlerinde son on yıl içinde,
- çevre kirliliğinin arttığı,
 - enerji tüketiminin arttığı,
 - bölge dışından göç aldığı gözlenmiştir.

Aşağıdaki şehirlerin hangisinde böyle bir değişiklik görülme olasılığı **en azdır**?

- A) Sinop B) İzmit C) Adana
D) Zonguldak E) İzmir

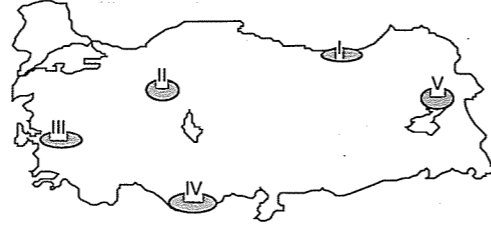
6. Türkiye'de endüstri kuruluşları dengeli bir dağılım göstermeyip, belirli alanlarda yoğunlaşmıştır.

Türkiye'de endüstri kuruluşlarının büyük bir yoğunluğu aşağıdaki alanlardan hangisinde toplanmıştır?

- A) Kıyı Ege Bölümü
B) Adana Bölümü
C) Antalya Bölümü
D) Çatalca - Kocaeli Bölümü
E) Batı Karadeniz Bölümü

körföz YAYINLARI

7. Aşağıdaki Türkiye haritasında bir tarım ürününün yetiştiği yöreler gösterilmiştir.



İklim koşulları göz önüne alındığında, bu tarım ürününün en son hangi yörede olgunlaşması beklenir?

- A) I B) II C) III D) IV E) V

8. Gelişmiş ve az gelişmiş ülkelerde nüfus özellikleri farklılık gösterir.

Aşağıdakilerden hangisi, gelişmiş ülkelerin nüfus özelliklerinden biri **değildir**?

- A) Aritmetik nüfus yoğunlukları yüksektir
B) Ortalama yaşam süresi uzundur
C) Nüfusun büyük bölümü hizmet sektöründe çalışır
D) Çalışan nüfusun yaş ortalaması yüksektir
E) Nüfus artış hızı düşüktür

9. Toprağın akarsu ve rüzgarlar tarafından süpürülmesine erozyon denir.

Aşağıdakilerden hangisi akarsu ve rüzgar erozyonunun sonuçlarından biri **değildir**?

- A) Tarım alanlarının verimsizleşmesi
B) Kırdan kente göçün artması
C) Otlakların azalması
D) Barajların kısa sürede çamurla dolması
E) Tarımsal üretimin azalması

10. Aşağıdaki tabloda bir ürünün üç farklı merkezdeki ekim alanları ile toplam üretim miktarları gösterilmiştir.

Merkez	Ekim alanı (hektar)	Toplam üretim (bin ton)
I	10.000	20.000
II	5.000	10.000
III	1.000	5.000

Buna göre, aşağıdakilerden hangisi bu tablodan çıkarılacak sonuçlardan biri **değildir**?

- A) I. merkezin toplam üretim miktarı en fazladır.
B) II. ve III. merkezlerin toplam ekim alanı I. merkezden daha azdır.
C) III. merkezde ekim alanı ve toplam üretim miktarı en azdır.
D) Birim alanda en yüksek verimlilik III. merkezden alınır.
E) I. bölgede tarımda çalışan nüfus sayısı daha fazladır.

11. İklim, toprak şartları veya ekonomik nedenlerle, geniş alanlarda tek tip kültür bitkisinin yetiştirilmesine "monokültür" denir.

Zeytin yetiştiriciliği aşağıdaki yörelerden hangisinde monokültür bir özellik gösterir?

- A) Gediz Ovası
B) Menteşe Yöresi
C) Edremit Körfezi
D) Ergene Havzası
E) Hatay Yöresi

körföz YAYINLARI

12. Hollanda bir sanayi ülkesi olmasının yanında, hayvancılık faaliyetlerinde de ileri seviyede gelişmiş bir ülkedir.

Hollanda'da hayvancılığın gelişmesinde aşağıdakilerden hangisinin etkisi **yoktur**?

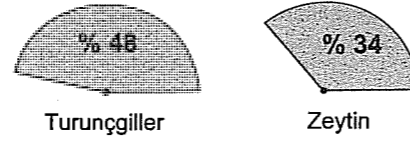
- A) Hayvan soylarının kaliteli olması
B) Yurt dışından kaliteli hayvan soylarının ithal edilmesi
C) Hayvan hastalıkları ile mücadele edilmesi
D) Hayvancılık faaliyetlerinde modern yöntemler kullanılması
E) Ahır hayvancılığının gelişmiş olması

13. Türkiye kaplıca ve ılıca bakımından Avrupa'nın ve Dünya'nın en zengin ülkelerinden biridir.

Türkiye'nin kaplıca ve ılıca bakımından zengin olmasının temel nedeni aşağıdakilerden hangisidir?

- A) Üç tarafının denizlerle çevrili olması
B) İklim çeşitliğinin fazla olması
C) Toprak yapısının çeşitli olması
D) Dağların kıyıya paralel uzanması
E) Yakın jeolojik zamanda oluşması

15. Aşağıda bir bölgede üretilen bazı tarım ürünlerinin ülke içindeki toplam üretim oranları verilmiştir.



Buna göre, bu bölge ile ilgili aşağıdakilerden hangisi söylenemez?

- A) Yeraltı kaynakları bakımından zengindir.
B) Kışlar ılık ve yağışlıdır.
C) Seracılık faaliyetlerine elverişlidir.
D) Yıllık ortalama yağış 500 mm'den fazladır.
E) Doğal bitki örtüsü makidir.

14. Atmosfer'deki karbondioksitin artması sıcaklık ortalamasının yükselmesine neden olur. Bu durumda sera etkisi oluşur. Sanayileşmiş bölgelerde sera etkisi daha fazladır.

Buna göre, aşağıdaki bölgelerin hangisinde sera etkisi en az görülür?

- A) Kuzey Afrika
B) Japonya
C) Güney Avrupa
D) Kuzeybatı Avrupa
E) Kuzey Amerika'nın doğu kıyıları

16. Ekim alanlarının sulamaya ihtiyaç duyması sıcaklık, yağış miktarı ve toprak nemliliği ile yakından ilgilidir.

Buna göre, aşağıda verilen ovaların aynı miktarda yağış aldığı kabul edilirse, hangisinde sulamaya duyulan ihtiyaç daha azdır?

- A) Erzurum B) Çukurova C) Konya
D) Elbistan E) Harran

LYS-4 COĞRAFYA-2 BRANŞ DENEMESİ-10

Bu Testte;

Toplam 16 adet soru bulunmaktadır. Cevaplama Süresi 25 dakikadır.

1. Karadeniz Bölgesi'nde dağların denize bakan yamaçlarından doğan ve denize dökülen akarsuların enerji potansiyelleri yüksek olmasına rağmen baraj yapımına elverişli değildir.

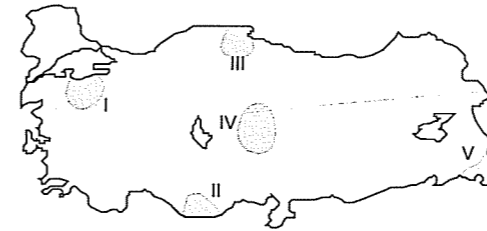
Aşağıdakilerden hangisi bu durumun temel nedeni?

- A) Rejimlerinin düzensiz olması
B) Dağların kıyıya paralel ve yakın olması
C) Debilerinin düşük olması
D) Yatak eğimlerinin az olması
E) Kıta sahanlığının dar olması

3. Aşağıdakilerden hangisi doğal çevrenin insan yaşamı üzerindeki etkisine örnek gösterilemez?

- A) Doğu Anadolu Bölgesi'nde hidroelektrik potansiyelinin yüksek olması
B) İç Anadolu Bölgesi'nde tahıl tarımının yapılması
C) Orman alanlarının yerleşim alanına çevrilmesi
D) Çatalca Kocaeli Bölümü'nde ulaşım imkanlarının gelişmiş olması
E) Güneydoğu Anadolu Bölgesi'nde kırsal yerleşmelerin kerpiçten yapılması

2. Türkiye gibi yüzey şekillerine sahip ülkelerde çığ riski yüksektir. Türkiye'de yılda ortalama 300 den fazla çığ vakası yaşanmaktadır.



Yukarıdaki haritada verilen taralı alanlardan hangisinde çığ riski daha yüksektir?

- A) I B) II C) III D) IV E) V

4. Dünyada ilk şehir yerleşmeleri akarsuların çevresinde kurulmuş ve gelişmiştir.

Bu açıklamaya göre, şehir yerleşmelerinin akarsular çevresinde kurulmasının temel nedeni aşağıdakilerden hangisidir?

- A) Taşımacılıkta akarsulardan faydalanılması
B) Tarımın akarsu çevrelerinde yapılması
C) Akarsu çevrelerinde iklimin elverişli olması
D) Akarsuların içme suyu olarak kullanılması
E) Yer şekillerinin daha sade olması

5. Aşağıdaki grafikte, Türkiye'de 2001 ve 2002 yıllarındaki enerji üretiminin sağlandığı kaynaklar gösterilmiştir.

	2001 (%)	2002 (%)
Doğalgaz	40,4	40,21
Kömür	31,3	25,06
Hidrolik	19,6	25,82
Çuzyakıl	8,4	8,74
Jeotermal	0,1	0,08
Rüzgar	0,1	0,04
Diğer	0,2	0,06

Bu grafiğe göre, aşağıdaki yargılardan hangisine ulaşamaz?

- A) Kömürden elde edilen enerjinin 2002 yılında payı azalmıştır.
 B) Verilen yıllarda elektrik üretiminde en yüksek pay doğal gaza aittir.
 C) 2002 yılında hidrolik enerjinin payı ile kömürden elde edilen enerjinin payı birbirine çok yakındır.
 D) 2002 yılında hidrolik enerjinin payının artmasında yağışların bol olması etkili olmuştur.
 E) Türkiye'de elektrik üretimde en yaygın olarak kullanılan kaynaklar doğal gaz, kömür ve akarsulardır.

KÖRFEZ YAYINLARI

6. Aşağıdakilerden hangisi iklimin Karadeniz Bölgesi'nde tarımsal faaliyetler üzerindeki etkisine örnek gösterilemez?

- A) Çayın sadece Doğu Karadeniz kıyılarında yetişmesi
 B) Buğday ve pamuğun kıyılarda yetiştirilememesi
 C) Tarım topraklarında yıkanmanın fazla olması
 D) Tarımda sulamaya fazla ihtiyaç duyulmaması
 E) Doğu Karadeniz'de tarım alanlarının çok dar olması

7. Japonya'da tarım yapılabilen alanların az olmasının temel nedeni aşağıdakilerden hangisidir?

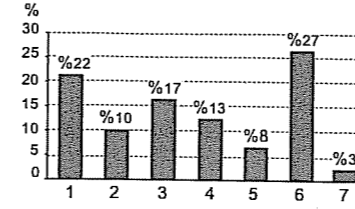
- A) Tarımda sulama probleminin yaşanması
 B) İklim koşullarının elverişsiz olması
 C) Orman alanlarının geniş yer kaplaması
 D) Yüzey şekillerinin elverişsiz olması
 E) Gübre kullanımının yetersiz olması

8. Sanayinin geliştiği yerlerde çevre kirliliği fazla olduğu için doğal güzellikler bağlı turizm fazla gelişemez.

Aşağıdaki körfezlerin hangisinde, sanayi tesislerinden kaynaklanan çevre kirliliği nedeniyle deniz turizmi daha az gelişmiştir?

- A) Gemlik B) Güllük C) Çandarlı
 D) Erdek E) İzmit

9. Aşağıdaki grafik, Türkiye'deki orman alanlarının coğrafi bölgelere göre dağılışını göstermektedir.



Buna göre, grafikte 6 ve 7 numaralar ile gösterilen bölgeler aşağıdakilerden hangisinde bir arada verilmiştir?

- 6 7
 A) Karadeniz Akdeniz
 B) Akdeniz İç Anadolu
 C) Karadeniz Güneydoğu Anadolu
 D) Marmara Doğu Anadolu
 E) Akdeniz Güneydoğu Anadolu

10. Bir yerde turizmin gelişmesinde tarihi ve kültürel değerlerinin yanında doğal güzelliklerinin de önemli bir etkisi vardır.

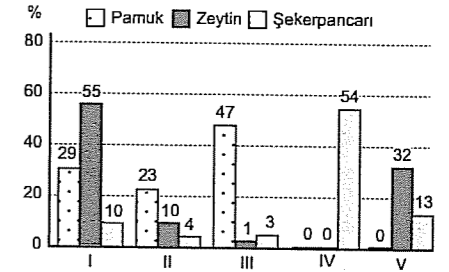
Aşağıdakilerden hangisi Alanya, Çeşme, Kuşadası ve Marmaris'in turizm açısından ortak özelliklerinden biridir?

- A) Güneşli gün sayısının az olması
 B) Coğrafi konumların deniz turizmine elverişli olması
 C) Zengin bir kültürel mirasa sahip olmaları
 D) Turizm sezonunun yıl boyunca devam etmesi
 E) Kara ve demir yolu ulaşımının gelişmiş olması

11. Aşağıda verilen endüstri kollarının hangisinde ham madde olarak orman ürünlerinden yararlanılmaz?

- A) Kağıt B) Suni gübre
 C) Dekorasyon D) Kozmetik
 E) Mobilya

12. Aşağıdaki grafikte pamuk, zeytin ve şekerpancarının beş bölgedeki dağılış oranları verilmiştir.



Buna göre, yukarıdaki grafikte I, III ve IV rakamları ile gösterilen bölgeler aşağıdakilerden hangisinde sırasıyla bir arada verilmiştir?

- A) İç Anadolu - Akdeniz - Marmara
 B) Karadeniz - Ege - İç Anadolu
 C) Ege - Güneydoğu Anadolu - İç Anadolu
 D) Akdeniz - Marmara - Karadeniz
 E) Güneydoğu Anadolu - Ege - İç Anadolu

13. Türkiye'de demir yolu ağının kıyıya kadar ulaştığı şehirlerde iç ve dış ticaret daha canlı olup şehrin kalkınma seviyesi de daha yüksektir.

Buna göre, aşağıdaki şehirlerden hangisinde demir yolu ulaşımı böyle bir sonuç ortaya çıkarmıştır?

- A) Kastamonu
B) Samsun
C) Çanakkale
D) Muğla
E) Rize

14. Nem, yağış ve sıcaklık isteği birbirine yakın olan tarım ürünleri aynı iklim bölgelerinde yetiştirilebilir.

Aşağıda verilen tarım ürünlerinden hangisinin aynı iklim bölgesinde yetiştirilmesi daha zordur?

- A) Buğday – Elma
B) Zeytin – İncir
C) Çay – Buğday
D) Fındık – Mısır
E) Üzüm – Tütün

15. Türkiye'de, kurak geçen bir yılın sonunda aşağıdakilerin hangisinde bir azalma olması beklenmez?

- A) Barajlardaki su seviyelerinde
B) Sebze ve meyve fiyatlarında
C) Açık deniz balıkçılığında
D) Yeraltı su seviyesinde
E) Buğday üretim miktarında

16. Hollanda'da tarımda modern yöntemler kullanılırken, Hindistan'da tarımsal faaliyetler geleneksel yöntemlerle ve düşük verimli yapılır.

Aşağıdakilerden hangisi Hindistan ve Hollanda'da tarımda farklı yöntemler uygulanmasında etkili olan temel faktördür?

- A) Tarımsal nüfusun gelişmişlik seviyelerinin farklı olması
B) Tarımsal nüfus yoğunluklarının farklı olması
C) Yüzey şekillerinin farklı olması
D) Doğal bitki örtülerinin farklı olması
E) Tarımsal ürünlerin dış satımdaki paylarının farklı olması

LYS-4 COĞRAFYA-2 BRANŞ DENEMESİ-11

Bu Testte;

Toplam 16 adet soru bulunmaktadır. Cevaplama Süresi 25 dakikadır.

1. Türkiye'de cumhuriyetin ilk yıllarında başlayan sanayi faaliyetleri 1980'li yıllardan itibaren hızlı bir gelişme sürecine girmiştir.

Aşağıdakilerden hangisi, Türkiye'de sanayinin gelişmekte olduğunun göstergelerinden biridir?

- A) Tarımda çalışan nüfus oranının artması
B) Turizm gelirlerinin artması
C) Genç nüfus oranının fazla olması
D) Çalışan nüfus içinde, nitelsiz iş gücü payının azalması
E) Toplam nüfus içinde işsizlik oranının fazla olması

3. Bir ülkenin Ekvator'a ve Başlangıç meridyenine göre konumuna matematik konum denir.

Aşağıdakilerden hangisi, İngiltere'nin matematik konumunun bir sonucudur?

- A) Yarımada ve adalardan oluşması
B) Atlas Okyanusu kıyısında yer alması
C) Kara ve deniz yolu ulaşımının gelişmiş olması
D) Güneyden esen rüzgarların sıcaklığı artırması
E) Nüfus artış hızının düşük olması

- 2.



Yukarıdaki haritada gösterilen merkezlerin hangilerine Ankara'dan demir yoluyla ulaşılabilir?

- A) Rize, Muğla
B) Mersin, Rize
C) Samsun, Mersin
D) Çanakkale, Muğla
E) Samsun, Çanakkale

4. Depremden önce alınan tedbirler deprem sırasında ve sonrasında meydana gelebilecek zararları en aza indirir.

Aşağıdakilerden hangisi, depremden önce alınması gereken önlemlerden biri değildir?

- A) Deprem tatbikatlarının yapılması
B) Acil durum ihtiyaçlarının hazırlanması
C) Binaların sağlam zeminler üzerine inşa edilmesi
D) Evdeki güvenli yerlerin önceden tespit edilmesi
E) Deprem bölgesinde kurtarma faaliyetlerine yardım edilmesi

5. Türkiye'de tarım alanlarında üretimi arttırmak için yapılması gereken çalışmalardan biri de zirai mücadeledir. Fakat bu çalışmalar son yıllarda bazı sorunları da beraberinde getirmiştir.

Aşağıdakilerden hangisi, zirai mücadele sonucunda ortaya çıkan olumsuz bir sonuçtur?

- A) Toprak ve su kirlenmelerinin artması
B) Tarımsal üretimin azalması
C) Ürünlerin daha geç olgunlaşması
D) Ürünlerin pazar fiyatlarının düşmesi
E) Üretim kaybının yaşanması

7. Türkiye'de yer alan şeker fabrikalarının kurulduğu bölgeler incelendiğinde, genelde bu bölgelerde karasal iklim şartlarının etkili olduğu görülür.

Bu durum aşağıdakilerden hangisiyle açıklanabilir?

- A) Tarımsal arazinin genişliğiyle
B) Şekerin sıcakta kristalize olamamasıyla
C) Şekerpancarının sıcak iklim koşullarında yetişememesiyle
D) Bu sanayi kolunun diğer iklim bölgelerine uygun olmamasıyla
E) Şekerpancarının karasal iklim şartlarının görüldüğü ovalarda yetiştirilmesi ve işlenmesiyle

körfez YAYINLARI

6. Halen çoğu ülkede enerji için ağırlıklı olarak fosil yakıtlar kullanılmaktadır. Bu kaynaklar yenilenebilir değildir. Bu kaynaklar hem sınırlıdır bir gün bitebilir, hem de rezervleri azaldıkça fiyatları artmaktadır. Üretilmesiyle çevre daha fazla zarar görecektir. Bunun aksine yenilenebilir enerji kaynakları sürekli olarak kendilerini yeniledikleri için tükenmezler.

Aşağıdaki enerji kaynaklarından hangisi yenilenebilir enerji kaynağı değildir?

- A) Güneş B) Doğal gaz C) Hidroelektrik
D) Rüzgâr E) Dalga

8. Türkiye'de termik santrallerde ağırlıklı olarak fosil yakıtlar kullanılmaktadır.

Aşağıdakilerden hangisi linyit ile çalışan santrallerden biri değildir?

- A) Yatağan (Muğla)
B) Hamitabat (Kırklareli)
C) Soma (Manisa)
D) Afşin - Elbistan (Kahramanmaraş)
E) Çayırhan (Ankara)

9. Aşağıdaki tarım ürünlerinden hangisinin, Türkiye'deki doğal yetişme koşulları elverişli olmadığı için tarımı yapılmamaktadır?

- A) Çavdar
B) Kivi
C) İncir
D) Kahve
E) Soya fasulyesi

10. Aşağıdaki tabloda Türkiye'de 2003 ile 2006 yılları arasında avlanan bazı balık türleri gösterilmiştir.

Balık türleri	2003	2004	2005	2006
Toplam	416 126	456 752	282 584	357 186
Çipura	794	879	1 215	867
Hamsi	295 000	340 000	138 569	270 000
Istavrit	16 400	18 068	13 540	14 127
Kefal	11 000	12 424	10 560	8 915
Levrek	700	628	581	490
Lüfer	22 000	19 901	18 357	8 399
Mezgit	8 000	8 205	8 309	9 112
Palamut	6 000	5 701	70 797	29 690
Sardalya	12 000	12 883	20 656	15 586
Diğerleri	44 232	38 063	0	0

Buna göre, aşağıdaki yorumlardan hangisi tablodan çıkarılamaz?

- A) Toplam balık üretiminin en yüksek olduğu yıl 2004 yılıdır.
B) En fazla avlanan balık türü hamsidir.
C) Balıkların önemli bir bölümü Karadeniz'de avlanmıştır.
D) Lüferve levrek üretimi sürekli azalmıştır.
E) 2004 ve 2006 yıllarında balık üretimi artmıştır.

11. Türkiye'de hem küçükbaş hayvancılık hem de büyükbaş hayvancılık yaygın olarak yapılmasına rağmen, kesilen hayvan sayısına göre et verimi düşüktür.

Aşağıdakilerden hangisi, Türkiye'de et verimini arttırmak için alınması gereken tedbirlerden biri değildir?

- A) Küçükbaş hayvan sayısının artırılması
B) Hayvan soylarının iyileştirilmesi
C) Besi ve ahır hayvancılığının geliştirilmesi
D) Besin değeri yüksek kaliteli yem kullanılması
E) Erken kuzu ve dana kesimlerinin engellenmesi

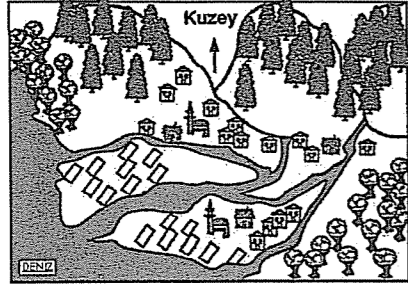
12. Sinop Limanı doğal bir liman olmasına karşın gelişmemiş, buna karşın Samsun ve Trabzon limanları dalga kıranlarla genişletilmiş ve işlek bir liman haline getirilmiştir.

Sinop Limanı'nın gelişmemesinin en önemli nedeni aşağıdakilerden hangisidir?

- A) Sinop ilinin az nüfuslanmış olması
B) Kıyıda denizin aniden derinleşmesi
C) Art bölgesiyle ulaşımın gelişmemiş olması
D) Askeri açıdan stratejik bir özellik göstermesi
E) Samsun Limanı'na yakın olması

körfez YAYINLARI

13. Aşağıdaki resimde Türkiye kıyılarında yer alan bir yerleşim alanı gösterilmiştir.



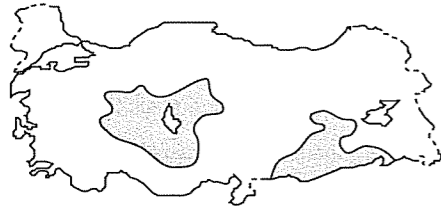
- ☺☺☺ Zeytin ağaçları
 ◇◇◇ Sebze seraları
 ▲▲▲ Çam ağaçları

Buna göre, aşağıdaki yargılardan hangisine ulaşamaz?

- A) Akdeniz iklim özellikleri görülmektedir.
 B) Halkın temel geçim kaynağı tarımdır.
 C) Bölgenin kuzeyi çam ormanlarıyla kaplıdır.
 D) Doğal bitki örtüsü makilerden oluşur.
 E) Erozyon ve heyelan riski yüksektir.

körfez YAYINLARI

14. Aşağıdaki haritada Türkiye'de rüzgâr erozyonunun yoğun olduğu yerler gösterilmiştir.



Bu bölgelerde rüzgâr erozyonunun fazla olması aşağıdakilerden hangisiyle açıklanabilir?

- A) Yükseltinin fazla olmasıyla
 B) Yüksek basıncın etkili olmasıyla
 C) Akarsuların akış hızlarının az olmasıyla
 D) Arazinin yer yer karstik yapıda olmasıyla
 E) Doğal bitki örtüsünün tahrip edilmiş olmasıyla

15. Almanya'nın tümüyle gösterildiği bir fiziki haritanın ölçeği değiştirildiğinde,
- matematik konumu,
 - yükselti değerleri,
 - haritada kapladığı alan,
 - ayrıntıları gösterme gücü
- özelliklerinden hangileri de değişmektedir?

- A) I ve II B) I ve III C) II ve III
 D) II ve IV E) III ve IV

16. Bir bölgede sulama ve gübreleme olanaklarının artması, aşağıdakilerden hangisini öncelikli olumlu yönde etkiler?

- A) Tarımsal üretimi
 B) Nüfus miktarını
 C) Makineleşmeyi
 D) Orman alanlarını
 E) Ahır hayvancılığını

LYS-4 COĞRAFYA-2 BRANŞ DENEMESİ-12

Bu Testte;

Toplam 16 adet soru bulunmaktadır. Cevaplama Süresi 25 dakikadır.

1. Bir tarım ürününün, bölge içindeki yetişme alanı ne kadar genişse, o ürün bölge koşullarına o kadar uyum sağlamış demektir.

Aşağıda verilen coğrafi bölgelerle, o bölgede yetişen tarım ürününün dağılışı dikkate alındığında, hangisi bölge koşullarına en az uyum sağlamıştır?

- A) İç Anadolu Bölgesi → buğday
 B) Ege Bölgesi → üzüm
 C) Karadeniz Bölgesi → zeytin
 D) Marmara Bölgesi → ayçiçeği
 E) Akdeniz Bölgesi → turunçgiller

3. Dağlık ve engebeli ülkelerde yol yapım maliyetleri yüksektir.

Buna göre, aşağıdaki ülkelerden hangisinde yol yapım maliyetlerinin daha yüksek olması beklenir?

- A) Hollanda
 B) Danimarka
 C) İsviçre
 D) Almanya
 E) İngiltere

2. Birleşmiş Milletler'in bir organı olan Uluslararası Adalet Divanı'nın kuruluş nedeni aşağıdakilerden hangisidir?

- A) Askeri anlaşmazlıkları engellemek
 B) Ülkeler arası savaşları engellemek
 C) Üye ülkelerin tarım politikalarını belirlemek
 D) Bulaşıcı salgın hastalıklara karşı tedbir almak
 E) Devletler arası hukuki anlaşmazlıklarda görüş bildirmek

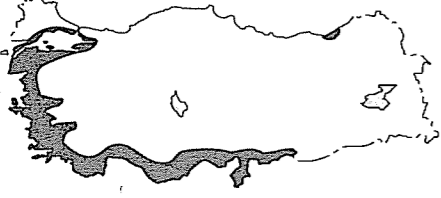
4. "... Türkiye'de sulamanın yaygınlaştırılması gerekir."

Yukarıda verilen ifade, aşağıdaki durumların hangisi için söylenmiş olabilir?

- A) Orman alanları yetersizdir. Bu nedenle...
 B) Buğday üretiminde yıllara göre dalgalanmalar olmakta bazı yıllar ihtiyacı karşılayamamaktadır. Bu nedenle...
 C) Bazı sanayi ürünlerinin tarımı Doğu Anadolu Bölgesi'nde yapılamamaktadır. Bu ürünlerin tarımını tüm bölgelerde yapabilmek için...
 D) Türkiye'nin çay üretimi tüketimini karşılayamamaktadır. Bu nedenle...
 E) Muz tarımı diğer bölgelerde de yapılabilir. Bu nedenle ...

körfez YAYINLARI

5. Aşağıdaki haritada Türkiye'de zeytin tarımının yapıldığı alanlar gösterilmiştir.



Zeytin tarımının yapıldığı alanları belirleyen **en önemli** etken aşağıdakilerden hangisidir?

- A) Arazinin eğimli olması
B) Kış ılıklığının görülmesi
C) Yağış miktarının fazla olması
D) Güneşli gün sayısının az olması
E) Toprağın humusça zengin olması

6. Aşağıdaki tabloda bazı sanayi ürünleri için ton başına ihtiyaç duyulan su miktarları litre olarak verilmiştir.

Ürün (ton)	İhtiyaç duyulan su miktarı (litre)
Suni ipek	800
Kağıt	1500 - 3000
Çelik	260

Tablodaki bilgiler dikkate alındığında, aşağıdaki yargılardan hangisine **ulaşamaz**?

- A) Kağıt üretimi için bol suya ihtiyaç duyulur
B) Çelik üretiminde suya duyulan ihtiyaç kağıt üretimindeki ihtiyacıdan daha azdır
C) Çeşitli sanayi ürünlerinin üretiminde az ya da çok suya ihtiyaç duyulur
D) Kağıt üretimi için göl kıyıları tercih edilmelidir
E) Sanayi tesisleri kurulurken su kaynaklarına yakınlık dikkate alınmalıdır

7. Aşağıdakilerden hangisi, Japonya'nın nüfus özelliklerine ait **doğru bir bilgi değildir**?

- A) Kentsel nüfus oranı yüksektir.
B) Nüfus artış hızı yüksektir.
C) Nüfus yoğunluğu fazladır.
D) Ortalama yaşam süresi uzundur.
E) Tarımsal nüfus oranı düşüktür.

8. Türkiye'de yetiştirme alanı geniş olan ve bir çok bölgede yetiştirilen tarım ürünleri farklı iklim ve toprak koşullarına dayanıklıdır.

Buna göre, Türkiye'de aşağıdaki tarım ürünlerinin yetiştirme koşulları dikkate alındığında, hangi ürünün farklı iklim özelliklerine uyumu **en azdır**?

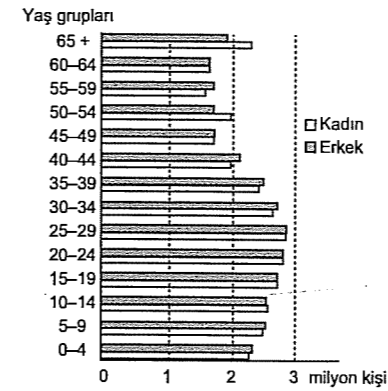
- A) Buğday
B) Ayçiçeği
C) Çay
D) Üzüm
E) Şekerpancarı

9. Ahır hayvancılığında iklime bağımlılık azdır. Mera hayvancılığının yapıldığı yerlerde et ve süt üretimi ile yöreye düşen yağış miktarı arasında bir paralellik vardır.

Buna göre, aşağıdaki bölümlerin hangisinde et ve süt üretimi ile yörenin iklim özellikleri arasında bir paralellik **kurulamaz**?

- A) Doğu Karadeniz
B) Çatalca Kocaeli
C) Orta Kızılırmak
D) Erzurum Kars
E) Orta Fırat

10. Aşağıdaki grafik bir ülke nüfusunun yaş gruplarına göre dağılımını göstermektedir.



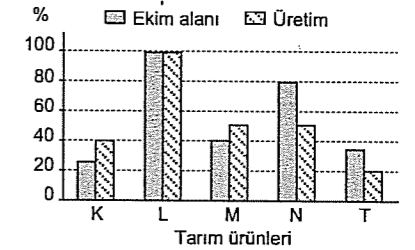
Buna göre, yukarıdaki nüfus piramiti aşağıdaki ülkelerden hangisine ait olabilir?

- A) Mısır
B) Hindistan
C) İran
D) İngiltere
E) Libya

11. Bir bölgenin akarsuları ulaşımda yıl boyunca kullanılabilirliği bu bölge için aşağıdakilerden hangisi söylenebilir?

- A) Yüzölçümü büyüktür
B) Akarsu havzaları dardır
C) Akarsu sayısı yetersizdir
D) Akarsuların rejimi düzenlidir
E) Genç oluşumlu bir arazide bulunur

12. Aşağıdaki grafikte, Karadeniz Bölgesi'ndeki beş tarım ürününün ekim alanları ve üretim miktarlarının ülke geneline oranları gösterilmiştir.



Buna göre, yukarıdaki grafikte verilen tarım ürünlerinden hangisi çay bitkisidir?

- A) K
B) L
C) M
D) N
E) T

13. Hollanda, İngiltere - Almanya gibi ülkelerde doğaya müdahale edilerek tünel köprü gibi geçit alanları yapılmazken İsveç - Norveç gibi ülkelerde geçit alanları için doğaya müdahale edilmesinin temel sebebi aşağıdakilerden hangisi olabilir?

- A) Milli gelirlerin farklı olması
- B) Yer şekillerinin farklı olması
- C) Halkın seyahat tercihlerinin farklı olması
- D) Teknolojik gelişmişliklerinin farklı olması
- E) Coğrafi konumlarının farklı olması

15. Türkiye'deki termik santrallerde aşağıdaki enerji kaynaklarından hangisi daha çok kullanılmaktadır?


- A) Taşkömürü
- B) Linyit
- C) Petrol
- D) Jeotermal
- E) Doğal gaz

14. Akarsu havzalarında yer alan kentler yağışlı dönemlerde sellere maruz kalabilmektedir.

Bazı kentsel yerleşmelerin sık sık sellere maruz kalmasında aşağıdaki faktörlerden hangisi etkili değildir?

- A) Toprağın nadasa bırakılması
- B) Dere yataklarının ıslah edilmemesi
- C) Akarsu yataklarının yerleşme ile daraltılması
- D) Ani ve sağanak yağışlar
- E) Bitki örtüsünün tahrip edilmesi

16. Aşağıdaki grafiklerde 2003 yılında Karadeniz Bölgesi'nde yetiştirilen bazı ürünlerin Türkiye üretimine oranları verilmiştir.




□ Bölgenin payı □ Diğer bölgelerin payı

Bu tarım ürünlerinin yetiştirme koşulları dikkate alındığında, Karadeniz Bölgesi ile ilgili aşağıda verilenlerden hangisine ulaşılamaz?

- A) Çay yalnızca Karadeniz Bölgesi'nde yetiştirilmektedir.
- B) Karadeniz Bölgesi'nin yağış miktarı fazla, güneşlenme süresi azdır.
- C) Üretilen pirinç bölge içinde tüketilmektedir.
- D) Karadeniz Bölgesi en çok fındık yetiştiren bölgedir.
- E) Mısır üretiminde bölgenin payı düşüktür.

FELSEFE GRUBU



LYS-4 FELSEFE GRUBU BRANŞ DENEMESİ-1

Bu Testte;

10 Adet Psikoloji, 10 Adet Sosyoloji ve 10 Adet Mantık sorularından oluşan toplam 30 adet soru bulunmaktadır.

1. Bir yazılı sınav için, sınavdan bir hafta önce çalışmaya başlayan öğrencilerle, sınavdan bir gün önce çalışmaya başlayanların başarı düzeyleri araştırılmış ve çalışmaya bir hafta önce başlayanların daha başarılı olduğu tespit edilmiştir.
- Bu araştırmada, bağımsız ve bağımlı değişken sırasıyla aşağıdakilerden hangisinde verilmiştir?**
- A) Çalışma yöntemi - Başarı düzeyi
B) Sınava hazırlanma yeri - Dikkati toplama
C) Sınav süresi - Başarı düzeyi
D) Sınavdan sonra geçen süre - Hatırlama
E) Çalışma ortamı - Çalışma yöntemi
2. Eski Çin'de uzun yıllar esir kalmış biri şunları anlatmıştır: "Karanlık bir hücrede yalnız başıma tam altı yıl kaldım. Gün içindeki en büyük zevkim yemeğimi getiren kişinin elini görmektir. Evet, yalnızca bir insanın elini görmek."
- Kişinin esaret yıllarında içinde bulunduğu bu durum, aşağıdakilerden hangisiyle ifade edilebilir?**
- A) Aşırı uyarılma
B) Dengelenme
C) Yetersiz uyarılma
D) Duyarsızlaşma
E) Duyusal uyum
3. Nesnelerin fiziksel özelliklerinden kaynaklanan algı yanılmasına fiziksel illüzyon denir.
- Buna göre, aşağıdakilerden hangisi fiziksel illüzyona bir örnek değildir?**
- A) Su dolu bardağın içindeki kaşığın kırık algılanması
B) Karanlıkta bir korkuluğun insan gibi görülmesi
C) Asfalt üzerindeki ışık yansımalarının su birikintisi gibi görünmesi
D) Dikine çizgili elbise giyen birinin uzun görünmesi
E) Hareket eden bir bulutun arkasındaki ayın hareket ediyormuş gibi algılanması
4. İnsanın üstün olmak ve hükmetmek arzusu, dış dünyada çeşitli engellerle karşılaşır. Kişi bu engelleri aşamazsa ümitsizliğe düşebilir. Herkesten geri kalmak onda "aşağılık duygusunu" doğurur. O zaman insan rahatsız edici bu durumdan kurtulmak ister ve bütün gücünü üstünlük sağlayabileceği başka bir alana yöneltir.
- Parçada belirtilen savunma mekanizması aşağıdakilerden hangisidir?**
- A) Yansıtma
B) Kaçma
C) Gerileme
D) Ödünleme
E) Bastırma

5. Freud'a göre; bir yaş dönemindeki biyolojik ve psikolojik ihtiyaçlar yeterince karşılanamazsa, o devrede bir miktar enerji saplanıp kalır ve bir sonraki dönemdeki gelişme de bundan zarar görebilir. Örneğin, hayatın ilk yılında ağız yoluyla beslenmeye ilgili ihtiyaçları yetersiz kalan kimse yetişkinliğinde içki, sigara tiryakiliği, fazla konuşma ve çiklet çiğneme gibi davranışlar gösterebilir.

Freud' un bu düşüncesi, aşağıdakilerden hangisini destekler?

- A) Kişilik ve ahlak gelişimi belirli dönemlerden geçerek gerçekleşir.
- B) Kişiliği oluşturan özellikler doğuştan gelir.
- C) Kişilik ve ahlaki gelişim altı yaşından sonra önemli değişiklik gösterir.
- D) Çocuk yetiştirmede etkili olan ceza türlerinin çoğaltılması ve yaygınlaştırılması gerekmektedir.
- E) Kişiliğin gelişmesi toplumsal çevreyle açıklanabilir.

6. Fizyolojik güdüler yaşamsal özellik taşımasına rağmen bazen sosyal motivlerden daha geride kalabilir. İnsanların savundukları, inandıkları doğrular adına açlık grevlerine girip ölümü göze almaları bu durumu ispatlamaya yönelik en çarpıcı örneklerden biridir. Fakat bunun tam tersi, açlıktan ölmek için hırsızlık yapma da aynı oranda görülebilecek bir durumdur.

Parçaya göre aşağıdakilerden hangisine ulaşılabılır?

- A) Toplumsal güdüler her zaman fizyolojik güdülerden daha etkindir ve öncelikli olarak giderilmek durumundadır.
- B) Toplumsal güdüler giderilemediği zaman duyulan gerginlik, fizyolojik güdülerin doyurulmadığında duyulan gerginlikten fazladır.
- C) Fizyolojik ve toplumsal güdülerden birinin daha baskın hale gelmesi yaşanan olaya bağlı olarak değişir.
- D) Fizyolojik güdüler, yaşamsal nitelikte olduğu için toplumsal güdülerden daha baskın ve etkin olma durumundadır.
- E) Fizyolojik güdüler doyurulmadan, toplumsal güdülerin doyurulma durumu söz konusu değildir.

7. Bir anne, çocuğu konuşmayı öğrenirken, onun istediği şeyleri isimlerini söylediği zaman vermiş, işaretlerle anlatmaya çalıştığı anda ise tümüyle anlamamış görünerek isteklerini yerine getirmemiştir. Durumu fark eden çocuk, isteklerini giderek daha düzgün konuşarak ifade etmeye başlamıştır.

Buna göre, annenin bu tutumunu aşağıdakilerden hangisi en iyi açıklamaktadır?

- A) Çocuk, konuşmaya ilişkin zihinsel tutumunda sekteye uğramıştır.
- B) Anne, çocuğa ceza uygulayarak öğrenmesini daha da zorlaştırmıştır.
- C) Anne, çocuğu için model olmuş, kendi yaptıklarını tekrar etmesini sağlamıştır.
- D) Anne, çocuğun konuşma çabasını pekiştirme yoluyla geliştirmiştir.
- E) Anne, çocuğu cezalandırarak öğrenmesini kolaylaştırmıştır.

8. Bireyin herhangi bir amaca yönelik güdülenmiş davranışlarının kısmen veya tamamen önlenmesine "engellenme" denir.

Buna göre, aşağıdaki engellenme durumlarından hangisi diğerlerinden farklıdır?

- A) Bir iş adamının trafik sıkışık olduğu için önemli bir toplantıya geç kalması
- B) Yeterli parası olmadığı için aç olan kişinin lokantada yemek yiyememesi
- C) Katılma belgesini kaybeden sporcunun yarışmaya alınmaması
- D) Mide rahatsızlığı olan kişinin misafirlikte kendisine ikram edilen çığ köfteyi yiyememesi
- E) Yoğun sisten dolayı hafta sonu oynanması gereken futbol maçlarının iptal edilmesi

kürfez YAYINLARI

9. Yengeç yavrusuna: "Öyle yan yan yürümesene!" demiş, yavru yengeçte dayanamayıp: "Anne, hele sen bir doğru yürü de, ben de sana bakıp nasıl doğru yürünür bir öğreneyim." demiş.

Parçada anlatılmak istenen öğrenme yolu, aşağıdakilerden hangisidir?

- A) Motor öğrenme
- B) Kavrayış yoluyla öğrenme
- C) Klasik koşullanma yoluyla öğrenme
- D) Farkında olmadan öğrenme
- E) Model alarak öğrenme

10. Aşağıdakilerden hangisi sosyal psikolojinin inceleme alanına girmez?

- A) Bireyin grup içindeki davranışları
- B) Grubun, bireyin tutum değişimine etkisi
- C) Grup üyeleri arasındaki etkileşim türünün liderliğe etkisi
- D) Grup kurallarının üyeler üzerindeki etkisi
- E) Grup içindeki sapkın davranışların teşhis ve tedavisi

11. İkel insan toplumlarında, küçük şehirlerdeki komşuluk gruplarında ve akrabalık temeline dayanan toplumlar içindeki ilişkilerde duyguya, kişiliğin bütünü ile birbiriyle temasına dayanan birincil ilişkiler hakimdir. Fakat uygarlık ilerledikçe, toplum karmaşık biçimler aldıkça, birincil ilişkiler kaybolmuş ve bunun yerini çıkar ilişkilerinin hakim olduğu ikincil ilişkiler almıştır.

Buna göre, ikincil ilişkilerde aşağıdakilerden hangisi en az görülür?

- A) İnsanların kişiliklerinin çeşitlilik göstermesi
- B) Dostluk ve arkadaşlık temellerinin kuvvetlenmesi
- C) İnsanların işgal ettikleri mevkilerin birer simgesi olması
- D) İşlevsel bakımdan insanların rollere göre kategorilere ayrılması
- E) Geniş çaplı organizasyonların görülmesi

12. 1950'den sonra Türkiye'deki siyasi ve ekonomik tercihler değişmiş ve tarım makineleşmiş, güçsüz köylüler mülklerini kaybetmiş ve tarım işçisi olarak kentlere göç etmişlerdir. Bu aileler, zamanla gelenek-sellikten koparak tüm ilişkilerini ve aile yapılarını kent değerlerine uydurma gereği duymuşlardır.

Bu durum aşağıdakilerden hangisine uygun bir örnek olamaz?

- A) Toplumsal yapı zamanla değişikliğe uğrayabilir.
- B) Ailenin yapısı zaman içinde değişikliğe uğrayabilir.
- C) Aile yapısı her toplumda değişiklik gösterebilir.
- D) Toplumsal kurumların yapısı zamanla değişebilir.
- E) Toplumsal kurumlardaki farklılaşmalar birbirlerinden bağımsızdır.

13. Toplumsal çözülme, bir toplumda, maddi ve manevi kültür unsurlarının anlamlı bir bütün oluşturacak şekilde birbirlerini tamamlamamasıdır.

Parçaya göre, aşağıdakilerden hangisi toplumsal çözülmeye bir sonucu olamaz?

- A) Kültürel gelişimin bozulması
- B) Suç ve suçluların artması
- C) Kurumlar arası ilişkilerin güçlenmesi
- D) Kültür birlikteliğinin azalması
- E) Toplumsal sapmaların giderek çoğalması

14. Toplumsal kuralların gücünün azalması veya yetersizliği sonucunda bireylerin davranışlarıyla değer sistemleri arasındaki uyumun bozulmasına kuralsızlık (anomi) denir.

Buna göre, anominin yaygınlaştığı bir toplumda aşağıdakilerden hangisinin görülmesi beklenir?

- A) Sorumluluk duygusunun artması
- B) Toplumsal ilişkilerin kuvvetlenmesi
- C) Toplumsal görüş ayrılıklarının azalması
- D) Sosyal değerlere bağlılığın artması
- E) Toplumsal düzenin bozulması

kürfez YAYINLARI

15. Aşağıdakilerden hangisi sosyolojinin özelliklerinden **değildir**?

- A) Toplumsal olay ve olguları konu edinmesi
B) Olayları çok yönlü açıklaması
C) Tek tek olayların ortak noktalarından hareketle genellemelere ulaşması
D) Olması gerekeni değil, olanı olduğu gibi incelemesi
E) Toplumların aynı olabileceği ilkesinden hareketle evrensel ilkelere ulaşmaya çalışması

16. I. Kan bağına dayalı evliliğin gerçekleşmesi
II. Eşi ölen erkeğin baldızıyla evlenmesi
III. Erkeğin birden çok kadınla evlenmesi

Bu evlilik türleri sırasıyla aşağıdakilerden hangisinde **doğru** verilmiştir?

- A) Monogami - Levirat - Ekzogami
B) Polijini - Sorarat - Endogami
C) Endogami - Sorarat - Polijini
D) Ekzogami - Sorarat - Polijini
E) Poligami - Levirat - Poliandri

17. Spor ayakkabı üretiminde firmalar arasındaki savaşın son hızla devam ettiği görülüyor. Geçen yıllarda bir firma, ürettiği ayakkabılarının topuk kısımlarına hava yastıkları yerleştirmişti. Önümüzdeki birkaç ay sonra piyasaya çıkacak olan yeni modelinde ise ayakkabı tabanlarının ön kısımlarına da hava yastıkları koydu. Spor ayakkabılarda devrim meydana getiren bu yenilikler karşısında boş durmayan rakip firmalar da derhal yeni modeller geliştirdi.

Parçada vurgulanan ekonomik rekabetteki temel etken, aşağıdakilerden hangisidir?

- A) Enflasyon
B) Bilinçli para politikası
C) Ulusal gelirin fazlalığı
D) Bilinçli yatırım
E) Tüketime özendirme

18. Amerikalı, sabah olduğunda ilk kez Yakındoğu'da kullanılmış yatağa uyanır. Terliklerini giyip girdiği banyo, Anglo-Sakson bir stile sahiptir. Banyoda kullanılan sabun Galyalılarından kalmıştır. Traş olma tekniği ise Sümer ve Mısırlıların kendilerine gündelik olarak uyguladıkları eziyet etme biçimidir sanki. Amerikalı'nın kullandığı sandalye Güney Avrupalı'nın; giydiği elbise Orta Asya göçebelerinin; ayakkabıları ise Mısırlıların yaşamımıza soktuğu eşyalardır. Penceresindeki cam Mısırlıların, yağmurluğu Orta Amerika yerlilerinin, şemsiyesi ise Güneydoğu Asyalıların buluşudur.

Parçadan hareketle aşağıdaki yargılardan hangisine varılabilir?

- A) Amerika kendine özgü kültür unsuru geliştiremediği için başka kültür unsurlarını kullanmak zorunda kalmıştır.
B) Manevi kültür unsurları ilk ortaya çıktığı toplumdaki bağımsızlaşır.
C) Manevi kültür unsurları tüm toplumları etkileme ve değiştirme özelliğine sahiptir.
D) Maddi kültür ürünleri yarar sağladığı için üretildiği toplumdaki bağımsızlaşır her toplumu etkiler.
E) Maddi kültür unsurları toplumları ve insanları etkileme özelliğine sahip değildir.

körfez YAYINLARI

19. Sosyolog, kendi toplumsal alanının ressamıdır. Fakat gerçek ressamlardan farklı olarak gördüğünü, yani olgusal olarak ele alınabilen toplumsal özellikleri inceleme konusu yapar.

Buna göre, bir sosyoloğun bilimsel araştırma sırasında aşağıdaki ilkelere hangisine uyması beklenir?

- A) Açıklık
B) Nesnellik
C) Basitlik
D) Sınırlılık
E) Değişebilirlik

20. "Eve serdim kilimi,
Tut kaynana dilini.
Akşam oğlun gelince,
Kırar kambur belini."

dizelerinde olduğu gibi gelin-kaynana arasındaki ilişkileri anlatan maniler, kültür alanında hangi işlevi yerine getirmektedir?

- A) Toplumsal düzenin oluşmasını sağlama
B) Toplumsal normların oluşmasına kaynaklık etme
C) Bireyler arası ilişkilerin gelişmesini sağlama
D) Bilgi birikiminin ilerlemesini sağlama
E) Duygu ve düşüncelerin ifade edilmesini sağlama

21. - Bir şey aynı zamanda hem kendisi olup hem de kendisinden başka bir şey olamaz.~(A~A)

- Bir şey ne ise odur. Her şey kendisinin aynıdır. (A, A dir.)

- Bir şey ya A dır, ya da A değildir.(A~A)

Yukarıda verilen akıl ilkeleri sırasıyla aşağıdakilerden hangisidir?

- A) Özdeşlik-Üçüncü halin imkansızlığı-Çelişmezlik
B) Çelişmezlik-Özdeşlik-Üçüncü halin imkansızlığı
C) Çelişmezlik - Yeter sebep - Özdeşlik
D) Üçüncü halin imkansızlığı-Çelişmezlik-Özdeşlik
E) Çelişmezlik - Özdeşlik - Yeter sebep

22. - İstanbul ve Adana büyükşehirdir.

- İstanbul'da turizm gelişmiştir.

- O halde Adana'da da turizm gelişmiştir.

Yukarıda hangi çıkarım türü örneklendirilmiştir?

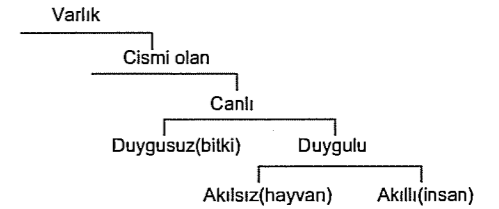
- A) Tümevarım
B) Tümdengelim
C) Analoji
D) İkilem
E) Entimem

23. - Çalışıyorum,
- O halde üniversiteyi kazanacağım.

Yukarıdaki kıyas çeşidi, aşağıdakilerden hangisine örnektir?

- A) Koşullu kıyas
B) Zincirleme kıyas
C) İkilem
D) Entimem
E) Kesin kıyas

24.



Yukarıdaki şemaya göre, "İnsan akıllı bir duyguludur" önermesi aşağıdakilerden hangisine bir örnektir?

- A) Özle ilgili tam tanıma
B) İliintiyle ilgili tam tanıma
C) İliintiyle ilgili eksik tanıma
D) Özle ilgili eksik tanıma
E) Nesne tanıma

25. "Tüm öğrenciler zekidir." önermesinin çeliştiği, aşağıdakilerden hangisidir?

- A) Hiçbir öğrenci zeki değildir.
B) Bazı öğrenciler zekidir.
C) Bazı zekiler öğrenci değildir.
D) Bazı zekiler öğrencidir.
E) Bazı öğrenciler zeki değildir.

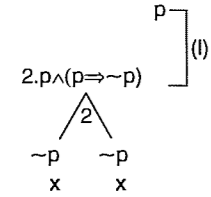
26. "Her gözlüklünün gözü bozuktur" önermesinin eşdeğeri aşağıdakilerden hangisidir?

- A) Bazı gözlüklü olmayanların, gözü bozuktur.
B) Her gözü bozuk olmayan, gözlüklü olmayandır.
C) Her gözlüklü olan, gözü bozuk olmayandır.
D) Bazı gözlüklü olmayan, gözü bozuk olmayandır
E) Her gözü bozuk olan, gözlüğü olmayandır

27.

$$p \wedge (p \Rightarrow \sim p)$$

$$1. p \wedge (p \Rightarrow \sim p) \text{ (ö)}$$



Yukarıda çözümleyici çizelgeyle denetlemesi yapılan önerme ile ilgili, aşağıdakilerden hangisi doğru olur ?

- A) Tutarlıdır.
B) Tutarsızdır.
C) Geçerlidir.
D) Sadece bir açık yolu vardır.
E) Tüm yorumlamaları doğrudur.

28. Aşağıdakilerden hangisi $(p \Rightarrow q)$ sembolü şeklinde gösterilir?

- A) Ahmet başarılıdır.
B) Otobüs veya minibüs sayısı arttı.
C) Zekayı hem çevre hem de kalıtım belirler.
D) Çevre kirliliği bu yıl çok arttı.
E) Arkadaşları sinemaya gitmişse Ali de gitmiştir.

29. p ile q aynı doğruluk değerine sahip iki önermedir.

Bu iki önerme için, aşağıda verilenlerden hangisi kesinlikle yanlıştır?

- A) Tutarlı olabilirler.
B) Geçerli olabilirler.
C) Tutarsız ve geçersiz olabilirler.
D) Çelişik olabilirler.
E) Eşdeğer olabilirler.

30. $\exists x(x \text{ sebzedir}) \Rightarrow \forall x(x \text{ sebzedir.})$ önermesi aşağıda verilen evrenlerden hangisinde yanlış değerini alır?

- A) E : {Ispanak, pırasa, havuç}
B) E : {Fasulye, patlıcan, biber}
C) E : {Elma, armut, erik}
D) E : {Bezelye, patates, elma}
E) E : {Enginar, lahan, domates}

körfez YAYINLARI

LYS-4 FELSEFE GRUBU BRANŞ DENEMESİ-2

Bu Testte;

10 Adet Psikoloji, 10 Adet Sosyoloji ve 10 Adet Mantık sorularından oluşan toplam 30 adet soru bulunmaktadır.

1. İnsan; ne canlı bir reaktör gibi çevresel etkilere tepkide bulunan bir varlık, ne de akıl ve bilinçte geçen olaylardan ibarettir. İnsan sadece canlı olmasından öte, kendine özgü duyuş, düşünce, yetenek, özellik, sevgi ve özlemleri olan biricik varlıktır. Bu yüzden insan davranışlarını, eşyaları inceler gibi inceleyemeyiz ve anlayamayız. O, evrendeki en kıymetli varlıktır.

Parçadaki görüşler, aşağıdaki yaklaşımlardan hangisini vurgulamaktadır?

- A) Psikodinamik yaklaşım
B) Bütüncül yaklaşım
C) Hümanist yaklaşım
D) İşlevsel yaklaşım
E) Yapısalcı yaklaşım

2. - Çocuğu ölen bir annenin, çocuğu ile konuştuğunu söylemesi

- Çok susuz birinin, ayaklarının altında ırmaklar aktığını söylemesi

Yukarıda verilenler hangi psikolojik duruma örnektir?

- A) Algıda değişmezlik
B) Algıda seçicilik
C) Fiziksel illüzyon
D) Psikolojik illüzyon
E) Hallüsinasyon

3. Çocuklar yaklaşık olarak altı yaşında okumaya, sekiz yaşında da yazmaya başlar. "K = potasyum, h = yükseklik, x = bilinmeyen" gibi semboller ise daha ileri yaşlarda öğrenir.

Parçaya göre, öğrenmeyle ilgili aşağıdakilerden hangisi doğrudur?

- A) Organizmanın öğrenme için dikkatini o konu üzerinde yoğunlaştırması gerektirir.
B) Organizma, öğrenmede gerekli olduğuna inandığı bilgileri öğrenir.
C) Önceki öğrenilenler sonraki öğrenilenleri kolaylaştırır.
D) Olgunlaşma, öğrenme için gerekli bir faktördür.
E) Güdülenme öğrenmeyi etkiler.

körfez YAYINLARI

4. Aşağıdakilerden hangisinde sosyal etkiden söz edilemez?

- A) Kıyafetinin dikkatle incelendiğini farkedenden birinin kendine çeki düzen vermesi
B) Yorgun olan çocuğun eve misafir gelmesiyle dikkat çekici hareketler yapması
C) Bir öğrencinin okuduğu kitabı sıkıcı bulduğu halde, arkadaşlarının yanında ilginç bulunduğunu söylemesi
D) Evde çatal ve bıçak kullanmayan birinin lokantada çatal ve bıçak kullanması
E) Titiz olan birinin elbisesine aşırı itina göstermesi

5. İnsanın davranışları ve iç yaşamı, bugün bilimin en ilginç konularından birisidir. İnsan davranışlarını güdüleyen nedenler, bunların yönelik olduğu istek ve amaçlar nelerdir, insan nasıl bir motivasyonla daha başarılı ve anlamlı bir hayat yaşayabilir, kendini nasıl daha iyi gerçekleştirebilir gibi sorular, psikolojinin ilgi alanına girer.

Parçada aşağıdakilerden hangisi vurgulanmaktadır?

- A) Davranışların karmaşık bir yapıya sahip olduğu
B) İnsan davranışlarının sınırlarının ne olduğu
C) Organizmanın gözlenebilir davranışlarının incelenmesi gerektiği
D) İnsanın önceki yaşantılarının ele alınması gerektiği
E) İnsan davranışlarının hangi koşullarda ortaya çıktığı

6. "Kendisi okuyamamıştı rahmetli babam. Bütün varını yoğunu öğretmen olmam için harcadı. İstedğim hiçbir şey için yok dememişti. Halbuki o kadar kalabalık bir aileyi nasıl geçindirdi, şimdi bile anlayamıyorum. Sen sınıfları geçtikçe bizim karnımız doyuyor derdi."

Parçada sözü edilen babanın bu davranışı, aşağıdaki savunma mekanizmalarından hangisi için uygun bir örnektir?

- A) Yüceltme
B) Karşıt tepki geliştirme
C) Bahane bulma
D) Yansıtma
E) Yön değiştirme

7. Var olan uyarıcıların yanlış algılanmasına illüzyon (yanılsama) denir.

Buna göre, aşağıdakilerden hangisi illüzyona bir örnektir?

- A) Bir ırmağın ileride birleşiyor gibi görülmesine rağmen hep aynı genişlikte algılanması
B) Su dolu bir havuzda dipteki cismin olduğundan daha yakın algılanması
C) Caddede yürüyen insanlardan saç olmayanların diğerlerine göre daha çok dikkat çekmesi
D) Uykusuz kalan bir kamyonunun direksiyon başında uyuya kalması
E) Sahibini gören köpeğin havlayarak sevgi gösterisi yapması

8. Organizma için aynı anda ortaya çıkan ve aynı önem derecesine sahip iki veya daha fazla seçeneğin birini seçememe haline çatışma denir.

Buna göre, aşağıdakilerden hangisi bir çatışma değildir?

- A) Çok yorgun ve aç olan birinin açlığını giderme ile uyuma arasında kararsız kalması
B) Hiç sevmediği derse çalışma ile sınıfta kalma arasında seçim yapılamaması
C) Yanan sobaya eli değen birinin elini hemen çekmesi
D) Rejim yapmak isteyen genç bir kızın pasta yemek istemesi
E) Araba kullanmayı çok isteyen bir gencin kaza yapmaktan korkması

9. I. Yalan söylemenin kötü olduğunu söyleyen anne ve baba, çocuklarına ara sıra yalan söylemez mi?
II. "Fakirlere ve düşkünlere yardım edilmelidir." diyen bir tüccar, gerçekten fakirlere ve düşkünlere yardım eder mi?
III. Kadın ve erkeğin eşit olduğunu söyleyen bir baba, yüksek öğrenim için hem oğlunu hem de kızını aynı derecede teşvik edebilir mi?

Bu sorular aşağıdakilerden hangisiyle ilgilidir?

- A) Davranışların hangi çevre koşullarının etkisiyle ortaya çıktığıyla
B) Bir konuda bilgi sahibi olmanın davranış gelişimine bağlı olup olmadığıyla
C) Davranışların oluşmasında kişilik gelişiminin etkili olup olmadığıyla
D) İnsan davranışlarının hangi nedenlerle ortaya çıktığıyla
E) Tutumlarla davranışlar arasında bir tutarlılığın olup olmadığıyla

10. Açlık güdüsü tüm insanlarda aynıdır. Ancak bu güdünün tatmin edilmesi için yapılan yemek yeme davranışı toplumların kültürel özelliklerine göre değişebilir.

Buna göre, aşağıdakilerden hangisi bu durum için söylenebilir?

- A) Her iki güdünün aynı anda ortaya çıkması durumunda çatışma meydana gelebilir.
B) Toplumsal güdüler, fizyolojik güdülere göre daha üstündür.
C) Toplumsal güdüler, fizyolojik güdülerin evriminden meydana gelir.
D) Toplumsal güdülerin doyurulma şekli toplumlara göre değişiklik gösterebilir.
E) Fizyolojik güdüler yaşamın sürdürülmesine, toplumsal güdüler benliğin korunmasına yardım eder.

11. İncelenen konunun kapsamına giren olay ya da grupların hepsini incelemenin zorluğu nedeniyle aynı özellikleri taşıyan daha küçük bir grubun incelenmesi gerekir.

Parçada vurgulanan araştırma tekniği, aşağıdakilerden hangisidir?

- A) Örnekleme alma
B) Sosyometrik inceleme
C) Monografik inceleme
D) Anket
E) Gözlem

12. Toplumsal olayları, birey dünyaya geldiğinde karşısında hazır olarak bulur. Çünkü bu olayları bireyin kendisi üretmemiştir.

Bu açıklamada, toplumsal olayların hangi özelliği üzerinde durulmuştur?

- A) Kollektif olması
B) Bireye baskı yapması
C) Aynı toplumda zamanla değişmesi
D) Bireyin iradesi dışında gerçekleşmesi
E) Sayısal verilerle ifade edilebilmesi

13. Kültür, toplumun üyesi olarak insanın geliştirdiği ve sonradan doğaya kattığı tüm bilgi, inanç, ahlak, adet, yetenek, alışkanlık, araç ve gereçlerin tümüdür.

Parçada, kültürün daha çok hangi özelliği vurgulanmıştır?

- A) Toplumdan topluma değişiklik göstermesi
B) İnsan ihtiyaçlarını karşılaması
C) İnsan eseri olması
D) Öğrenme yoluyla sonra kazanılması
E) Başka kültürlerden etkilenmesi

14. Köyden kente göç, tarımdan sanayi ve hizmetlere geçiş anlamını taşır. Sanayileşme ve göç olgusu sonucu oluşan gecekondular ailesi, artık kendisini köydeki komşularıyla değil, kentin üst tabaka gruplarıyla karşılaştırmaktadır. Böylece aile, kent imkanlarından yararlanma isteği sonucu kent değerlerini benimsemeye başlar.

Parçaya göre aşağıdakilerden hangisine ulaşılabılır?

- A) Toplumsal değişimle birlikte sosyal ilişkiler de farklılaşır.
B) Toplumsal değişimin etkileri her alanda aynı hızda görülür.
C) Toplumsal değişim bütün toplumsal kurumlarda görülmez.
D) Toplumsal değişmeye yol açan etkenler evrenseldir.
E) Toplumsal değişimler belirli sürede ortaya çıkar.

15. Sosyoloji, toplumu konu edinen bir bilimdir. İnsanların oluşturduğu toplumdaki her türlü ilişkileri, olayları ve kurumları kendine konu edinmiştir.

Buna göre, aşağıdakilerden hangisi sosyolojinin doğrudan incelediği konulardan biri değildir?

- A) Sağlık Bakanlığı görevlilerinin kuş gibi nedeniyle tavukları itlaf etmeleri
B) ABD - Irak savaşının sonuçları
C) Dinlerarası hoşgörü sempozyumları
D) A Milli Takımın özel bir maçta rakibini yenmesi
E) Fransa'da yaşanan işçi eylemleri

16. İş bölümü, toplumun ekonomik hayatında önemli bir yere sahiptir. Nitekim tarihsel gelişim sürecinde iş bölümünün gelişip yaygınlaşması ile toplumların ilerlemeleri arasında bir paralellik görülmektedir. Her meslekte uzmanlaşmaya dayanan teknik iş bölümü ise sanayi toplumları ile önem kazanmıştır. Ancak her ilerlemenin bazı sorunlar oluşturduğu da unutulmamalıdır. Teknik iş bölümü de kazandırdıklarının yanında bazı sıkıntılara neden olmuştur. Örneğin, işçi üretilen ürün için "Ben üretim." diyememektedir.

Buna göre, aşağıdakilerden hangisi teknik iş bölümünün oluşturduğu sorunlardan biri olabilir?

- A) Meslek seçme şansını artırması
- B) Yapılan işte bilgi ve becerileri artırması
- C) İnsanı üretiminin geneli açısından yabancılaştırması
- D) Üretimde zaman ve emekten tasarruf sağlaması
- E) Kişiyi özel yeteneklerini yaptığı işte verimli kullanmada yardımcı olması

18. Ülkemizde evlenen çiftlerin kadının ailesinin yanına yerleşmesine "iç güvey" denir.

Bu durum, evlilik türlerinden hangisine örnek olarak gösterilebilir?

- A) Matrilokal
- B) Patrilokal
- C) Neolokal
- D) Ekzogami
- E) Endogami

19. Aşağıdakilerden hangisi, bir topluluğun yaşayışını araştırmak isteyen bir sosyoloğun sağlıklı bilgiler elde etmesini güçleştirir?

- A) Bilgi toplamak için gözlemler yapması
- B) Topluluk üyeleriyle samimi olması
- C) Topluluktaki insanlarla sıcak ilişkiler kurması
- D) Doğrulanabilir önermelere yönelmesi
- E) Önyargısız olması

20. Tarih boyunca birçok toplumda ailelerin farklı şekilde kurulduğunu görüyoruz. İlkel kabilelerde sosyal prestij, kırsal kesimde iş ihtiyacı, Eskimolarda kadın sayısının azlığı ve savaşlardan sonra toplumlarda görülen erkek azlığı birden fazla eşle evlenmeyi doğurmuştur.

Buna göre aşağıdakilerden hangisi çok eşli (poligami) evliliğin nedeni olarak gösterilemez?

- A) Saygınlık kazanma
- B) Aileyle iş gücü sağlama
- C) Kadın veya erkek nüfusunun azlığı
- D) Ekonomik güvence sağlama
- E) Dinsel inançlar

21. - "İzmir, Türkiye'nin en büyük üçüncü şehridir." cümlesi bir önermedir.

- "4 x 5 = 20" matematiksel ifadesi bir önermedir.

- "Ah bir çocuk olsam!" cümlesi bir önerme değildir.

Buna göre, bir cümlenin önerme olmamasının nedeni aşağıdakilerden hangisidir?

- A) İki veya daha fazla terimden oluşması
- B) Bir yargıda bulunması
- C) Terimlerinin bir bağla bağlanması
- D) Bir duygu belirtmesi
- E) Belli bir doğruluk değerine sahip olması

22. "Üniversiteyi kazanan öğrenciler çalışkan ve zekidir."

önermesinden "Öyleyse Murat üniversiteyi kazanır." sonucunu elde etmek için, aşağıdaki öncüllerden hangisi kullanılmalıdır?

- A) Murat çalışkan ise zekidir.
- B) Murat ne çalışkan ne zekidir.
- C) Murat çalışkan veya zekidir.
- D) Murat çalışkandır ama zeki değildir.
- E) Murat çalışkan ve zekidir.

23. İki terimden yalnızca biri diğerinin tüm bireylerini içine alıyorsa aralarında "tam girişimlilik" ilişkisi vardır.

Buna göre, aşağıdaki terimlerden hangileri arasında tam girişimlilik ilişkisi yoktur?

- A) Kuş - Kartal
- B) Canlı - Sinek
- C) Omurgalı - Balık
- D) Çiçek - Bitki
- E) Öğrenci - Çalışkan

24. I. Bütün kuşlar kanatlıdır

II. Bütün kuşlar kanatlıdır ve uçar

Yukarıda verilenlerden I. önerme basit, II. önerme ise bileşik önermeye örnektir.

Buna göre, bileşik bir önermenin aşağıdakilerden hangisine sahip olması gerekir?

- A) Tikel niceleyiciye
- B) Birden fazla terime
- C) Bir doğruluk değerine
- D) Birden fazla yargıya
- E) En az bir terime

25. Bütün kuşlar uçar.

Bazı kanatlılar kuştur.

O halde bazı kuşlar kanatlıdır.

Bu hatalı kıyasta, aşağıdaki kıyas kurallarından hangisine uymamıştır?

- A) İki tikel öncülden sonuç çıkmaz.
- B) Orta terim sonuçta bulunmaz.
- C) İki olumsuz öncülden sonuç çıkmaz.
- D) Her kıyasta üç terim bulunur.
- E) Sonuç öncüllerde zayıf olana bağlıdır.

27. I. öncül: Ahmet üniversite sınavını kazanırsa; bu ilçeden ayrılacak ($p \Rightarrow q$)

II. öncül:

Sonuç: Ahmet bu ilçeden ayrıldı. (q)

Yukarıdaki çıkarımın geçerli olması için ikinci öncülün yerine aşağıdaki önermelerden hangisi gelmelidir?

- A) Ahmet bu ilçeden ayrılmadı. (~q)
 B) Ahmet üniversite sınavını kazanamadı. (~p)
 C) Ahmet üniversite sınavını kazandı. (p)
 D) Ahmet üniversiteyi kazanamadı ve bu ilçeden ayrıldı. (~p∧q)
 E) Ahmet bu ilçeden ayrıldı. (q)

29.

I	II	III	IV	V
D	Y	D	D	Y
D	Y	Y	Y	Y
D	Y	D	D	Y
D	Y	Y	Y	Y

Yukarıda verilen doğruluk çizelgesine göre aşağıdaki değerlendirmelerden hangisi yanlıştır?

- A) I. önerme geçerlidir.
 B) I. ve III. önermeler birlikte tutarlıdır.
 C) II. ve V. önermeler eşdeğerdir.
 D) V. önerme tutarlı ancak geçersizdir.
 E) II. önerme tutarsız ve geçersizdir.

28. Aşağıdaki önermelerden hangisi eşdeğer değildir?

- A) $p \Rightarrow \sim q$, $\sim q \sim p$ B) $p \vee \sim q$, $q \Rightarrow \sim p$
 C) $\sim(p \wedge \sim q)$, $\sim p \vee q$ D) $\sim p \Rightarrow \sim q$, $\sim q \vee p$
 E) $\sim p \Rightarrow \sim q$, $q \Rightarrow p$

30. "Her şey değişir." önermesi ($\forall xDx$) sembollerle gösterilir.

"Hiçbir şeyin değişmediği doğru değildir." önermesi aşağıdaki sembollerin hangisiyle gösterilir?

- A) $\forall x \sim Dx$
 B) $\sim \forall x Dx$
 C) $\sim \exists x \sim Dx$
 D) $\sim \forall x \sim Dx$
 E) $\exists x \sim Dx$

LYS-4 FELSEFE GRUBU BRANŞ DENEMESİ-3

Bu Testte;

10 Adet Psikoloji, 10 Adet Sosyoloji ve 10 Adet Mantık sorularından oluşan toplam 30 adet soru bulunmaktadır.

1. Boğa güreşi seyreden bir İspanyol ile bir İsveçli'yi karşılaştırılacak olursak; İsveçli daha çok hayvanın çektiği acıyı, İspanyol ise matadorun hünerini ve cesaretini algılayacaktır.
- Parçada, algıyı etkileyen faktörlerden hangisi vurgulanmaktadır?**
- A) İhtiyaçlar
 B) Kültür
 C) Kişinin zihni tutumu
 D) Psikolojik durum
 E) Geçmiş yaşantılar
2. İnsan davranışları üzerinde, o davranışı yapan kişinin özellikleri yanında içerisinde bulunan ortam da rol oynar.
- Buna göre aşağıdaki davranışların hangisinde ortamın etkisi daha belirgindir?**
- A) Acıkan bir öğrencinin arkadaşlarıyla kantine gitmesi
 B) Kuralcı bir öğretmenin kopya çeken öğrencisini disipline vermesi
 C) Zayıf notlar alan bir öğrencinin bilgisayarda oyun oynamayı bırakması
 D) Bisikletten düşerek kolunu kıran bir çocuğun bisiklete binmekten korkması
 E) Bir gencin otobüsteki diğer yolcuların bakışlarından çekinerek bir yaşlıya yer vermesi
3. Bir sınavdan sonra, elde ettiği başarı düzeyini öğrenmesi, öğrencinin hangi konuları iyi öğrendiğini, hangilerine daha çok çalışması gerektiğini anlaması açısından önemlidir.
- Bu açıklamada, öğrenmeyi etkileyen faktörlerden hangisinin önemi üzerinde durulmaktadır?**
- A) Tekrar
 B) Sistemli çalışma
 C) Sınavın önemi
 D) İstekli olma
 E) Sonucun bilinmesi
4. İnsan, yalnızlıktan hoşlanan veya şöhret sahibi olmak isteyen bir kişi olarak dünyaya gelmez.
- Parçada toplumsal güdülerin hangi özelliği vurgulanmaktadır?**
- A) Toplumsal güdüler, hiçbir etki altında kalmadan kendiliğinden oluşur.
 B) Toplumsal güdülerin temeli fizyolojik güdülerdir.
 C) Toplumsal güdüler öğrenme yoluyla gerçekleşir.
 D) Toplumsal güdüler her insanda farklı şekilde bulunur.
 E) Toplumsal güdüler insanın yaşamına hizmet eder.

5. Bir öğrencinin başarılı olup olmadığını, bu öğrencinin önceki sınavlarda aldığı notlara bakarak anlamak mümkündür. Ancak yine de öğrencinin sınav öncesindeki korkusunun derecesini doğrudan herhangi bir kayda bakarak anlamak mümkün değildir.

Bu durumun temel nedeni aşağıdakilerden hangisidir?

- A) Öğrencinin başarısıyla ilgili eldeki bilgilerin çözümlenmiş durumda olması
B) Korkuyla ilgili eldeki bilgilerin çözümlenmiş durumda olması
C) Öğrencinin geçmiş yaşantıları ile ilgili durumların bilinmemesi
D) Psikolojik olayların doğrudan ölçmeye elverişli bir yapıya sahip olmaması
E) Korkuya neden olan durumun herkes için korku verici sayılmaması

KÖRFEZ YAYINLARI

6. Korkulan, utanılan ya da kaygılanılan durumlardan kurtulmak için onları unutmaya eğilimi içine girilir. Hatırlanmak istenmeyen durumların, farkına varılmadan bilinçaltına itilmesine bastırma denir.

Buna göre, aşağıdakilerden hangisi bastırma mekanizmasına bir örnektir?

- A) Borçlu bir kişinin borcunu ödemeyi unutmaması
B) Okuluna uyum sağlayamayan çocuğun tırnaklarını yemesi
C) Küçük bir kız çocuğunun ablasının okul çantasıyla gezinip "Artık abla oldum." demesi
D) Arkadaşına kızan çocuğun sıraya yumruk vurmaması
E) Derslerinde başarısız olan bir çocuğun bilgi yarışmasına katılması

7. Shakespeare'in "Machbett" adlı eserinde cinayet işleyen bayan Machbett'in, kimsenin görmemesine rağmen üzerinde kan lekesi görerek polise teslim olması hallüsinasyona, bir başka kimsenin karanlıkta kayalardan oluşan bir yığını koyun sürüsü olarak görmesi illüzyona örnektir.

Buna göre, hallüsinasyon ile illüzyon arasındaki fark uyarıcının hangi özelliğine dayalıdır?

- A) Dikkati çekme derecesine
B) Büyüklüğüne
C) Nesnel gerçekliğine
D) Fiziksel benzerliğine
E) Karmaşıklığına

8. Babası doktor olduğu için beyaz önlük giyen bir çocuğun, her beyaz önlüklüyü doktor zannetmesi aşağıdakilerden hangisine örnektir?

- A) Genelleme
B) Ket vurma
C) Ayırdetme
D) Transfer
E) Sönme

9. Çocukların dil gelişimi üzerinde araştırma yapan bir psikolog, çocukların önceleri bir kelimeyi tüm bir anlamı ifade etmek için kullandıklarını ortaya çıkarmıştır. Örneğin, çocuk "baba" dediği zaman, "Ben babamın omzuna çıkıp, onunla parka gezmeye gitmek istiyorum." düşüncesini belirtmek isteyebilir. "hav hav" kelimesi "Ben sıkıldım, komşunun köpeğini buraya getirin, onunla oynamak istiyorum." anlamına gelebilir.

Çocukların dil gelişimi ile ilgili bu görüş, aşağıdakilerden hangisi için uygun bir örnek olabilir?

- A) Dili kazanmanın başlangıcında çocukların ödüllendirilmesi gerekir.
B) Çocukların dil gelişimi belirli uyarıcıların varlığına bağlıdır.
C) Çocukların, dili kazanma dönemlerinin başlangıcında kavramaları zayıftır.
D) Çocuğun anlama yeteneği konuşma becerisinden ileride olabilir.
E) Çocukların hangi aşamada dili kazanmaya başladıkları önceden bilinemez.

10. – Çalışanlar arası ilişkilerin düzenlenmesi
– Çalışma hayatında moral ve iş veriminin artırılması
– İşçi ve işveren ilişkilerinin belirlenmesi

gibi konularla, psikolojinin en çok hangi dalı ilgilendirir?

- A) Sosyal psikoloji
B) Gelişim psikolojisi
C) Klinik psikoloji
D) Psikometrik psikoloji
E) Endüstri psikolojisi

11. Sosyoloji, her toplumun kendine özgü olan gelenek, görenek, töre, dini ve ahlaki yaşamından doğan "hukuk kurallarının" işleyişini, gelişimini, değişimini ve sosyal ilişkilere etkisini olduğu gibi inceleyen bir bilim dalıdır.

Parçaya göre sosyolojinin aşağıdaki özelliklerinden hangisi bu tanıma daha uygundur?

- A) Sosyoloji, pozitif bir bilimdir.
B) Sosyoloji, var olanı inceleyen bir bilimdir.
C) Sosyoloji, evrensel kurallar koymaz.
D) Sosyoloji, olayları istatistiksel olarak ifade eder.
E) Sosyoloji, bilimsel yöntem ve tekniklerden yararlanır.

12. Tasarruf, üretimden elde edilen gelirlerin tümünün harcanmayıp, yeniden üretime kazandırılmasıdır. Bu açıdan tasarruflar ülke ekonomisi için son derece önemlidir.

Parçaya göre, tasarrufları ülke ekonomisi için önemli kılan nitelik aşağıdakilerden hangisidir?

- A) Taşınmaz mala dönüştürülebilmesi
B) Gerektiğinde lüks tüketime imkan sağlaması
C) Bireylerin geleceğini güvenceye alması
D) Para basımını kolaylaştırması
E) Yatırımlar için kaynak oluşturması

13. Belli bir yöredeki dağ köylerinde yaşayan aileleri ve aileler arasındaki ilişkileri aydınlatan bir incelemeyle, bu köylerdeki ailelerin tarihçeleri, dini ve ahlaki adetleri, yaşam koşulları, yıllık gelir ve gider bütçeleri, genel sorunları v.b. açıklanıp saptanabilir.

Parçada anlatılan araştırma tekniği aşağıdakilerden hangisidir?

- A) Anket
B) İstatistik
C) Sosyometri
D) Monografi
E) Gözlem

14. Sosyal grupların veya sosyal kurumların amaçlarına ulaşabilmeleri için insanlar üzerinde etkili bir denetim görevi yapan mekanizmaya toplumsal kontrol denir.

Buna göre, aşağıdakilerden hangisi toplumsal kontrol mekanizması için söylenemez?

- A) İnsanları belli bir biçimde davranmaya zorlar.
B) Toplumun düzenini sağlar.
C) İnsanlar arası ilişkileri düzenler.
D) Daha çok geri kalmış ülkelere özgüdür.
E) Bireyler üzerinde bir baskı kurar.

15. "Toplumsal olaylar, değer yargılarından kaçınarak incelenmelidir." sözüyle, aşağıdakilerden hangisi vurgulanmaktadır?

- A) "Bildiyim bir şey varsa, o da hiçbir şey bilmediğimdir."
B) "İnsan her şeyin ölçüsüdür."
C) "Değişmeyen tek gerçek, değişimin kendisidir."
D) "Algısız kavramlar boş, kavramsız algılar kördür."
E) "Sadece var olanı söylemek gerekir, olması gerekeni değil."

KÖRFEZ YAYINLARI

16. I. İspanya'da bir boğa güreşçisinin toplumsal saygınlığı yüksektir. Ancak aynı boğa güreşçisinin Hindistan'da benzer toplumsal saygınlığı görmesi beklenemez.
- II. ABD'de NBA basketbolcularının, Avrupa'da ise profesyonel futbolcuların saygınlığı yüksektir.
- Buna göre, aşağıdakilerden hangisinin toplumsal saygınlığı belirlemede etkili olduğu söylenebilir?**
- A) Bireyin toplumda çok sayıda konuma sahip olması
- B) Bireyin toplumsal konumunun zamanla değişmesi
- C) Bireyin sahip olduğu konuma toplumun önem vermesi
- D) Bireyin toplumsal ilişkilerinin sayısı
- E) Bireyin kendisini toplumsal değerlerden ayrı görmesi

17. Spitz isimli araştırmacı, iki ayrı kurumda incelemeler yaptı. Bu kurumlardan biri, cezaevine bağlı bir çocuk bakımevi idi. Burada suçlu olan anneler kendi çocuklarına aile ortamı atmosferinde bakıyorlardı. Diğeri çok iyi teşkilatlandırılmış bir yetimhane idi. Burada çocuklar yetkili hastabakıcılara bırakılmıştı; bakım, tıbbi kontrol ve beslenme cezaevinden çok daha iyi idi. Buna rağmen yetimhanede bakılan çocukların, cezaevinde anneleri tarafından bakılan çocuklara göre hareket, zeka ve duygusal yönden daha geri kaldıkları görüldü. Bu çocuklar solgun ve dayanıksızdılar. Konuşmaları ve buna benzer birçok yetenekleri hep geç gelişmişti.

Parçaya göre aşağıdaki sonuçlardan hangisine ulaşılabilir?

- A) Aile, çocuk için yeri doldurulması mümkün olmayan bir eğitim kurumudur.
- B) Ailenin görevini diğer kurumlar üstlenmiştir.
- C) Aile, beslenme ve barınma için tek kurumdur.
- D) Bir kurumdaki değişme diğerini etkilemiştir.
- E) Aile kurumunun yapı ve işlevi diğer kurumlardan çok farklı değildir.

18. Bir ülkenin kalkınması, refah seviyesinin toplumun genelinde yükselerek yaygınlaşması, vatandaşların devlete olan güvenlerinin artıp milli birlik bilincinin gelişmesi, sosyal kurumları oluşturan birimlerin bir-biriyle daha sıkı kenetlenmesi, o ülkede toplumsal bütünleşmenin başarıyla tamamlanması anlamına gelir.

Parçaya göre, aşağıdakilerden hangisi toplumsal bütünleşmeyi sağlayan bir unsur olamaz?

- A) Ekonomik kalkınmanın artması
- B) Orta tabakanın genişlemesi
- C) Organik dayanışmanın güçlenmesi
- D) Toplumsal değerlerin anlamını bulması
- E) Anonimin yaygınlaşması

körfez YAYINLARI

19. Aynı apartmanda oturmalarına rağmen aralarında hemen hemen hiç sosyal ilişki bulunmayan aileler, belediyenin yol genişletmek için verdiği yıkım kararıyla bir araya gelerek ne yapabilecekleri konusunda tartışmışlar, belediyeye karşı yapacakları girişimler için iş bölümü yaparak her hafta toplanmaya karar vermişlerdir.

Bu durum aşağıdakilerden hangisinin oluşumuna bir örnektir?

- A) Toplumsal tabakalaşmanın
- B) Toplumsal kategorinin
- C) Toplumsal sınıfın
- D) Toplumsal çözülmenin
- E) Toplumsal grubun

20. Kırsal kesimde yaşayan insanlar tarafından kullanılan modern alet ve makineler, onların zamanı algılama biçimini, doğayla ve diğer insanlarla olan ilişkilerini değiştirebildiği takdirde işe yarar.

Bu durum aşağıdakilerden hangisi için bir örnektir?

- A) Başka kültürlerden alınan manevi öğeler, iki kültür arasındaki uyum süreci sonucunda yerleşir.
- B) Kültürel öğelerin değişmesinde ve ilerlemesinde etkili olan ahlaki yapıdır.
- C) Kültürler arası etkileşimde yabancı davranış modellerini aynen almak ve ona göre davranmak sorun oluşturabilir.
- D) Maddî kültür öğelerini kullanmanın etkili olması, toplumdaki manevi öğeleri de etkilemesine bağlıdır.
- E) Evrensel kültür öğeleri ile yerel kültür öğeleri arasındaki uyum ve birliktelik yabancılaşmaya yol açabilir.

21. Araştırma ihtiyacı olmadan doğruluk değeri her zaman doğru olan önermelere analitik önerme denir.

Buna göre, aşağıdakilerden hangisi analitik önermeye uygun bir örnektir?

- A) Kare, kenar uzunlukları ve açıları eşit olan dörtgendir.
- B) Karadeniz'de köpek balığı vardır.
- C) Toprak, her yerde siyah renklidir.
- D) Bitkiler her zaman fotosentez yapar.
- E) Demir diğer katı maddelerle aynı özellikleri taşır.

22. Bazı insanlar doktordur.

Bazı doktorlar gözlüklüdür.

Öyleyse bazı insanlar gözlüklüdür.

Verilen bu hatalı kıyasta hangi kıyas kuralına uyulmamıştır?

- A) Orta terim sonuçta olmamalıdır.
- B) İki olumsuz öncülden sonuç çıkmaz.
- C) İki tikel öncülden sonuç çıkmaz.
- D) Öncüller olumlu ise sonuç olumsuz olamaz.
- E) Büyük ve küçük terimin sonuçtaki kaplamı öncüllerdekenden daha fazla olmamalıdır.

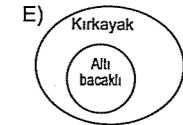
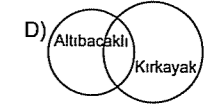
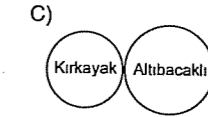
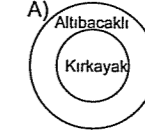
23. Aşağıdaki önermelerden hangisi tikel **olumsuz** bir önermedir?

- A) Bazı insanlar çalışandır.
- B) Kimi öğrenciler gözlüklü değildir.
- C) Birkaç öğrenci geldi
- D) Hiçbir öğrenci gelmedi
- E) Her öğrenci çalışkan değildir.

24. Hiçbir altı bacaklı kırkayak değildir.

Hiçbir kırkayak altı bacaklı değildir.

Bu iki önermenin kavramları arasındaki ilişki aşağıdakilerden hangisinde doğru olarak gösterilmiştir?



25. Güvercin, serçe, bildircin kuştur.

Güvercin, serçe, bildircin uçucudur.

Öyleyse bütün kuşlar uçucudur.

Yukarıda anlatılan akıl yürütme şekli, aşağıdakilerden hangisine aittir?

- A) Tümevarım
- B) Anoloji
- C) Tümdengelim
- D) Kıyas
- E) Entimem

körfez YAYINLARI

26. Aşağıdaki terimlerden hangisinin içlemi en çoktur?

- A) Hayvan
B) Koyun
C) Karaman koyunu
D) Omurgalı
E) Canlı

27. "Tekrar ve yaşantı olmazsa öğrenme gerçekleşmez." önermesinin sembolik ifadesi aşağıdakilerden hangisidir?

- A) $(\sim p \wedge \sim q) \rightarrow \sim r$
B) $(\sim p \wedge q) \rightarrow r$
C) $(\sim p \vee q) \rightarrow \sim r$
D) $(\sim p \vee q) \rightarrow r$
E) $(\sim p \rightarrow \sim q) \rightarrow \sim r$

28.

p	q	$(p \wedge q)$	$(p \leftrightarrow q)$	$(p \wedge q) ? (p \leftrightarrow q)$
D	D	D	D	
D	Y	Y	Y	
Y	D	Y	Y	
Y	Y	Y	D	

Yukarıdaki tabloda soru işaretinin bulunduğu yere hangi önerme eklenirse önerme geçerli olur?

- A) Tümel evetleme (\wedge)
B) Tikel evetleme (\vee)
C) Koşul eklemi (\Rightarrow)
D) Karşılıklı koşul (\Leftrightarrow)
E) Değilleme (\neg)

29. Günlük dilden seçilmiş aşağıdaki önermelerden hangisi tümel evetleme biçiminde değildir?

- A) Aristoteles hem filozof, hem de fizikçidir.
B) Aristoteles'in filozof olmasını varlık görüşü ile ahlaki görüşü belirlemiştir.
C) Aristoteles'in filozofluğunu varlık görüşünün belirlediği gibi ahlaki görüşü de belirlemiştir.
D) Aristoteles'in filozof olmasını ya varlık görüşü ya da ahlak görüşü belirlemiştir.
E) Aristoteles'in filozof olmasında varlık görüşü kadar ahlaki görüşü de etkilidir.

körfez YAYINLARI

30. "İçerisinde x, y, z gibi isim değişkenlerinin bulunduğu önermelere açık önerme denir."

Buna göre aşağıdakilerden hangisi birli açık önermedir?

- A) $x+y=3$
B) Bazı x'ler çamdır.
C) $x \leq y$
D) Bazı x'lerle y'lerin toplamı z'ye eşittir.
E) Türkiye'nin başkenti Ankara'dır.

LYS-4 FELSEFE GRUBU BRANŞ DENEMESİ-4

Bu Testte;

10 Adet Psikoloji, 10 Adet Sosyoloji ve 10 Adet Mantık sorularından oluşan toplam 30 adet soru bulunmaktadır.

1. Filozof Buridan, aç bir eşeğin önüne aynı uzaklıkta ve aynı körpelikte iki tutam yonca koymuş ve eşek hangi tutamdan yemeğe başlayacağına karar veremediğinden açlıktan ölmüştür.

Eşeğin içine düştüğü bu durum, aşağıdakilerden hangisinden kaynaklanmıştır?

- A) İki olumsuz durumdan birini seçme zorunluluğu olmasından
B) Birbirleriyle çelişen ihtiyaçların birlikte ortaya çıkmasından
C) Seçilecek objelerin hem çekici hem itici özellikler taşımalarından
D) Önem dereceleri aynı iki objeden birini seçme zorunluluğunun yaşanmasından
E) Birbiriyle bağdaşmayan iki ayrı rolü aynı zamanda oynama zorunluluğundan

2. Davranışın kaynağını anlayabilmek, organizmanın yapısını ve işlevlerini anlamaya bağlıdır. Sinir sistemi ve iç salgı bezlerinin davranış üzerindeki etkisi inkar edilemez.

Parçada, psikolojik yaklaşımlardan hangisine yer verilmiştir?

- A) İşlevselci yaklaşım
B) Yapısalcı yaklaşım
C) Hümanist yaklaşım
D) Davranışçı yaklaşım
E) Biyolojik yaklaşım

3. Üşüdüğü için sıkıntı içinde olan biri, paltosunu giymesi halinde bu durumdan kurtulur.

Bu durum, aşağıdakilerden hangisi için uygun bir örnektir?

- A) Aşırı uyarılma
B) Duyarsızlaşma
C) Yetersiz uyarılma
D) Dengelenme
E) İhtiyaç ve güdüler

körfez YAYINLARI

4. Bir deneyde, bir farenin tahta bir yol boyunca giderek yolun sonundaki yiyeceğe ulaşması öğretilmiştir. Farenin bu davranışı iyice öğrenmesi sağlandıktan sonra, ikinci aşamada yiyeceği yerken fareye elektrik şoku verilmiştir. Üçüncü aşamada fare yeniden tahta yola konulduğunda, farenin önce yiyeceğe doğru yaklaştığı, sonra durup geri döndüğü gözlenmiştir. Sonra fare tekrar yiyeceğe yönelmiş ancak bu defa da korkup geri dönmüştür. Farenin davranışı deney boyunca yolun sonuna her yaklaşmasında bir ileri, bir geri salınım göstermiştir.

Farenin bu deneyde yaşadığı çatışmanın nedeni aşağıdakilerden hangisidir?

- A) Farenin uyarıcı karşısındaki güdülenme eksikliği
B) Fareye kazandırılmış davranışın yeterince pekiştirilmemiş olması
C) Uyarıcının, fare için hem çekici hem itici öğeler içermesi
D) Farenin uyarıcıdaki değişikliği fark edememiş olması
E) Uyarıcının fare için tamamıyla olumlu özellikler taşıması

5. Tekrar ve yaşantı sonucu davranışlarda meydana gelen uzun süreli değişimlere öğrenme denir.

Bu tanıma göre,

- I. Kargaların bostan korkuluğunu önemsememesi
II. Spor yapan atletlerin kaslarının gelişmesi
III. Karıncaların yuva yapması

gibi durumlardan hangisi öğrenilmiştir?

- A) Yalnız I. B) Yalnız II. C) Yalnız III.
D) I. ve II. E) II. ve III.

6. Aydınlatmanın işçi verimi artırıp artırmadığını ortaya çıkarmak için bir deney yapılıyor. Her yönden denk iki işçi grubu alınıyor. Birinci grup işçilerin çalışma ortamı daha iyi aydınlatılıyor, ikinci grubun çalıştığı ortamın aydınlatmasına hiç dokunulmuyor. Deney sonunda birinci gruptaki işçilerin veriminin diğer gruba göre arttığı gözleniyor.

Aydınlatmanın işçi verimi üzerindeki etkisinin incelendiği bu deneyde "çalışma ortamı daha iyi aydınlatılan işçi grubu"na ne ad verilir?

- A) Ara değişken B) Bağımlı değişken
C) Bağımsız değişken D) Deney grubu
E) Kontrol grubu

7. Yoksul biri yiyecek dilenerek küçülmek yerine aç kalmayı tercih edebilir.

Bu durumla ilgili aşağıdakilerden hangisi söylenebilir?

- A) Fizyolojik güdüler her zaman toplumsal güdülere üstün gelir.
B) Bazen toplumsal güdüler fizyolojik güdülere üstün gelebilir.
C) İçgüdüler davranışların temelidir.
D) Güdülerin etkisiyle organizma harekete geçer.
E) Fizyolojik ve toplumsal güdüler eşit öneme sahiptir.

8. - Kardeşini sevmeyen birinin onu seviyormuş gibi davranması
- Annesinden azar işiten ve odasına gönderilen çocuğun kapıyı çarparak çıkması

Yukarıda sırasıyla hangi savunma mekanizmaları örneklendirilmiştir?

- A) Yön değiştirme - Yansıtma
B) Yansıtma - Karşıt tepki geliştirme
C) Bahane bulma - Yön değiştirme
D) Yüceltme - Karşıt tepki geliştirme
E) Karşıt tepki geliştirme - Yön değiştirme

9. "Herkes ip cambazının ip üzerinde nasıl yürüdüğünü bilebilir. Ama herkes ip üzerinde yürüyemez."

Yukarıdaki sözü söyleyen bir kişi, öğrenme ile ilgili olarak aşağıdaki ilkelerden hangisini örneklemiştir?

- A) Bazı yeteneklerin gelişmesi için belirli bir fiziksel ve zihinsel olgunluğa ulaşmak gerekir.
B) Bir işin zor olması, onun başarıyla uygulanamayacağına göstergesi olamaz.
C) Bir konu hakkında bilgi sahibi olmak, o konuyu öğrenmiş olmak anlamına gelmez.
D) Her öğrenmenin başarıyla gerçekleşebilmesi için, yeterli bir motivasyonun olması gerekir.
E) Öğrenilecek konunun kişinin ilgi ve isteklerinin dışında olması öğrenmeyi kolaylaştırıcı etki yapar.

10. **Aşağıdakilerden hangisi psikolojinin cevapladığı sorulardan biri değildir?**

- A) Öğrenme nasıl olmaktadır?
B) Niçin unutuyoruz?
C) Çevreye uyum nasıl olmaktadır?
D) Düşünce nedir?
E) Bireysel farklılıklar nelerdir?

11. Araştırmacı çevresinde meydana gelen olaylara diğer insanlardan farklı olarak merakla bakmasını bilen kişidir. Bu olaylara ilk kez karşılaşıyormuş gibi önceki bütün önyargılarını unutarak, çocuk gibi tarafsız bakabilmelidir.

Buna göre, bir araştırmacıda bulunması gereken özellik aşağıdakilerden hangisidir?

- A) Amaç belirleme
B) Genelleyici olma
C) Nesnel yaklaşım
D) Dikkatli olma
E) Araştırmanın sınırını çizme

12. Günümüz toplumları siyasi, kültürel, ekonomik yapı bakımından birbirlerine yaklaşıyorlar. Hatta, bütün toplumların kullandığı ortak diller yaygınlaşmaktadır.

Buna göre, farklı toplumlar arasındaki benzerliklerin giderek artması ile ilgili,

- I. Göçler
II. İletişim araçları
III. Kültürel etkileşim

gibi özelliklerden hangileri etkilidir?

- A) Yalnız I. B) Yalnız II. C) Yalnız III.
D) I. ve II. E) II. ve III.

13. Ortak coğrafyanın en üst düzeyinde, bireyler hiçbir güçlük çıkarmadan sahip olduğu her şeyi, hatta yaşamlarını feda etmekten çekinmezler. Örneğin, bir savaşta ve anne sevgisinden doğan fedakarlıklarda olduğu gibi.

Bu parçada, birincil ilişkilerin daha çok hangi özelliği vurgulanmaktadır?

- A) Yazılı kurallara bağlı olması
B) İlişkilerin yüzyüze olması
C) Bütün toplumlarda görülebilmesi
D) İlişkilerin uzun süreli olması
E) Sosyal etkileşimin güçlü olması

14. Bir kadın, pazarda satmak amacıyla kazak ördüğünde ekonomik anlamda üretim yapmış olur. Bu kişi el örgüsüyle bir ayda ancak dört beş tane kazak örebilir. Ama bu kadın gibi elli kişinin çalıştığı bir triko fabrikasında binlerce kazak üretmek mümkündür.

Bu açıklamada aşağıdakilerden hangisi vurgulanmaktadır?

- A) Bir malın üretimi kadar onun nasıl pazarlanacağı da önemlidir.
B) İş bölümü ve teknoloji kullanımı üretimdeki verimliliği artırır.
C) Serbest rekabete dayalı piyasa koşulları üretimi daraltıran unsurlardır.
D) Üretim miktarının artmasıyla kalite arasında ters orantılı bir ilişki vardır.
E) Kişisel çabayla gelen üretim, makine ile üretimin her zaman önündedir.

15. Kırsal kesimde toprağın miras yolu ile bölünmesi, ekilebilir alanları daraltarak ailelerin geçim ve yaşam olanaklarını azaltmakta, dolayısıyla geleneksel aile düzeninin değişmesine yol açmaktadır. Aynı şekilde kapitalist sistemdeki sınırsız yarışma özgürlüğü, birçok sanayi dalında yarışmanın kaybolmasına, dev şirketlerin ve tekelleşmenin meydana gelmesine neden olmaktadır.

Bu parçadan hareketle aşağıdaki yargılardan hangisine ulaşılabılır?

- A) Toplumsal kurumlarda bir değişim gözlenmesi olanak dışıdır.
B) Toplumsal kurumların değişim hızı aynı değildir.
C) Toplumsal kurumların birindeki değişim, diğerini de değişime zorlar.
D) Toplumsal kurumlar eğer ihtiyaçlara cevap vermezse zamanla ortadan kalkar.
E) Toplumsal kurumların değişimi birbirinden bağımsızdır ve birbirini etkilemez.

16. Sosyometri, daha çok küçük gruplarda uygulanan bir tekniktir. Gruplarda oluşan sosyal ilişkilerdeki sevgi, saygı, dostluk, düşmanlık gibi duygusal yaşantıları ve bu yaşantıların insan ilişkilerindeki yaklaşma ve uzaklaşma derecelerini ölçer.

Buna göre, aşağıdakilerden hangisi sosyometri tekniğinin bir özelliğidir?

- A) Sınırları belirlenmiş bir konuyu ayrıntılarıyla inceleme
- B) Toplumsal yaşamın devlet mekanizması ile olan ilişkilerini saptama
- C) Küçük gruplarda bireyler arasındaki etkileşim türünü ve düzeyini belirleme
- D) Ölçülebilen ve elde edilebilen unsurları sayılarla anlatma
- E) Önceden hazırlanmış olan soruları geniş halk kitlelerine uygulama

18. Toplumda düzeni sağlamayı amaçlayan normlar, bireylerin davranışları üzerinde bir yaptırım gücüne sahiptir.

Aşağıdaki davranışların hangisinde böyle bir gücün varlığından söz edilemez?

- A) Hırsızlık yaparken yakalanan birinin hapse atılması
- B) Düzeni bozan bir öğrencinin okuldan uzaklaştırılması
- C) Alkollü araç kullanan sürücüye trafikten men cezası verilmesi
- D) Yalan söylemenin kötü, dürüst davranmanın iyi algılanması
- E) Çevreye zarar veren kişilere para cezası uygulanması

KÖRFEZ YAYINLARI

17. Toplumsal tabakalaşma, bireylerin belirli veya genelleştirilmiş özellikleri bakımından aşağı ve yukarı statüler şeklinde derecelendirilmeleridir. Bu bakımdan toplumsal tabakalaşma, bir statüler hiyerarşisidir. Bu hiyerarşi de toplumda bir altlık ve üstlük düzeni ortaya çıkarır.

Buna göre, toplumsal tabakalaşmayı ortaya çıkaran temel faktör aşağıdakilerden hangisidir?

- A) Bireylerin toplumdaki konumlarının farklılığı
- B) Bireylerin etkilendikleri toplumsal olaylar
- C) Bireylerin yetiştikleri toplumsal çevre
- D) Bireylerin toplumda yüklendikleri rol sayısı
- E) Bireylerin davranışları üzerindeki toplumsal baskı

20. Toplumsal değişmeler sırasında toplumda var olan normlar değerini yitirebilir. Toplumsal normların değerlerini yitirmesi onların işlevlerinin de yitirilmesini beraberinde getirir.

Yukarıda verilen durumun söz konusu olduğu sosyal süreçte, aşağıdakilerden hangisinin görülmesi beklenebilir?

- A) Toplumsal bütünleşmenin artması
- B) Kültürün birleştirici özelliğinin oluşması
- C) Toplumsal bilincin giderek güçlenmesi
- D) Toplumda kuralsızlığın baş göstermesi
- E) Toplumda bağlılık ve birlikteliğin çoğalması

21. – Kahvenin kavrulması ateşe bağlıdır.

– Şemsiyenin kullanımı yağmura bağlıdır.

Bu yargılar aşağıdaki akıl ilkelerinden hangisine örnektir?

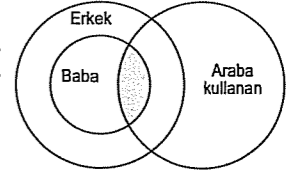
- A) Çelişmezlik
- B) Özdeşlik
- C) Amaçlılık
- D) Üçüncü halin imkansızlığı
- E) Sebeplilik

22. Yüklenen kavram, sadece o varlığa ilişkinse ve diğer varlıklarda gözüküyorsa, o kavram özgüllük diye adlandırılır.

Parçaya göre, aşağıdaki önermelerden hangisi bu tanıma uygundur?

- A) İnsan akıllı varlıktır.
- B) İnsan canlı bir varlıktır.
- C) İnsan çalışkan bir varlıktır.
- D) İnsan solunum yapan bir canlıdır.
- E) İnsan hareket eden bir canlıdır.

23. Yandaki şekle göre taralı kısmı ifade eden önerme aşağıdakilerden hangisidir?



- A) Bazı babalar araba kullanırlar.
- B) Bütün babalar erkektir.
- C) Bazı araba kullanan erkekler babadır.
- D) Bütün erkekler babadır ve araba kullanır.
- E) Bütün araba kullanan erkekler babadır.

24. "Bazı bitkiler fotosentez yapmaz." önermesinin altığı aşağıdakilerden hangisidir?

- A) Bütün bitkiler fotosentez yapar.
- B) Hiçbir bitki fotosentez yapmaz.
- C) Bazı bitkiler fotosentez yapar.
- D) Bazı bitkilerin fotosentez yaptığı doğru değildir.
- E) Bazı bitkiler fotosentez yapmaz.

25. "Her serçe bir kuştur, ancak her kuş serçe değildir." cümlesinde geçen serçe ile kuş kavramları arasında ne tür bir ilişki vardır?

- A) Eksik girişimlilik
- B) Ayrıklık
- C) Eşitlik
- D) Tam girişimlilik
- E) Karşıtlık

KÖRFEZ YAYINLARI

26. Bir zamanlar Sofist bir düşünür talebesini mahkemeye verir ve der ki: "Hakim bey bu mahkeme gereksizdir, çünkü talebemle anlaşmamıza göre kazandığı ilk davada bana borcunu ödeyecekti. Eğer bu davayı kazanırsa ilk davasını kazandığı için bana borcunu verecek, eğer kaybederse mahkeme hükmü gereği borcunu verecek."

Yukarıdaki hangi kıyas çeşidi örneklendirilmiştir?

- A) Entimem
B) Seçmeli kıyas
C) Analoji
D) Zincirleme kıyas
E) İkilem

27.

I	II	III	IV	V
D	Y	D	D	Y
D	D	D	D	Y
D	Y	D	D	D
Y	Y	Y	D	Y

Yukarıdaki doğruluk çizelgesine göre, numaralarla gösterilen önermelerle ilgili aşağıdaki yargılardan hangisi yanlıştır?

- A) III. önerme tutarlıdır.
B) I. ile II. önermeler birlikte tutarlıdır.
C) I. önerme geçersiz fakat tutarlıdır.
D) IV. önerme tutarlı ve geçerlidir.
E) II. ile V. önermeler birlikte tutarlıdır.

28. Aşağıdaki bileşik önermelerden hangisi değilleme eklemi ile yapılmıştır?

- A) Ali ve Ayşe sinemaya gittiler.
B) Atlar şaha kalktı ve yola koyuldular.
C) Bazı çiçeklerin ve ağaçların olduğu gerçekten doğrudur.
D) Ahmet'in kısa boylu olduğu, söylenemez.
E) Ancak ve ancak ilkbahar gelirse dallar yeşillenir.

29. $\sim(p \vee q)$ önermesinin denetleme çizelgesi, aşağıdakilerden hangisinde doğru olarak verilmiştir?

- A) $\sim(p \vee q)$
 $\begin{array}{c} \wedge \\ \sim p \quad \sim q \end{array}$
- B) $\sim(p \vee q)$
 $\begin{array}{c} p \\ \wedge \\ q \end{array}$
- C) $\sim(p \vee q)$
 $\begin{array}{c} \wedge \\ p \quad q \end{array}$
- D) $\sim(p \vee q)$
 $\begin{array}{c} \sim p \\ \wedge \\ \sim q \end{array}$
- E) $\sim(p \vee q)$
 $\begin{array}{c} \wedge \\ \sim p \quad q \end{array}$

30. • p,
Fa,
 $\forall xSx$ önermeleri basit önermeye,
- $\sim p$,
 $\sim Fa$,
 $\forall xSx \rightarrow \exists x\sim Sx$ önermeleri ise bileşik önermeye örnektir.

Buna göre, bir önermenin "bileşik önerme" olması aşağıdakilerden hangisine bağlıdır?

- A) Doğruluk değerine
B) Yargı bildirmesine
C) Tek yargı bildirmesine
D) Önerme eklemi almasına
E) Doğruluğunun denetlenebilmesine

LYS-4 FELSEFE GRUBU BRANŞ DENEMESİ-5

Bu Testte;

10 Adet Psikoloji, 10 Adet Sosyoloji ve 10 Adet Mantık sorularından oluşan toplam 30 adet soru bulunmaktadır.

1. Bir gencin kendisine uygun bir meslek bulmasına yardım etmek, bir çocuğa bazı alışkanlıklarının kötü olduğunu kavratılarak, uyumlu olmasını sağlamak gibi konular ele alınır.

Parçada örneklendirilen psikoloji alt dalı, aşağıdakilerden hangisidir?

- A) Deneysel psikoloji
B) Endüstri psikolojisi
C) Danışmanlık psikolojisi
D) Eğitim psikolojisi
E) Klinik psikoloji

3. Bir nesnenin şeklini biliyorsak, hangi yönden bakarsak bakalım, o şekil hep aynı kalır. Örneğin, masadaki bir tabağa bir açıdan baktığımızda elips şekline benzese de, biz onu yuvarlak olarak algılamaya devam ederiz.

Bu durum, aşağıdakilerden hangisine örnek olabilir?

- A) Algıda seçicilik
B) Algıda organizasyon
C) Algıda değişmezlik
D) Algıda gruplama
E) Şekil - zemin algısı

2. İç ve dış çevreden gelen uyarıcıların şiddetinin normal seviyenin üzerinde olması organizmada "aşırı uyarılma"ya neden olur.

Buna göre, aşağıdaki durumların hangisinde bireyin aşırı uyarılma yaşamaması beklenmez?

- A) Okuduğu kitaba yoğunlaşan kişinin kapı ziline çalmasıyla aniden irkilmesinde
B) Göze parlak bir ışık gelmesi sonucu gözbebeğinin küçülmesinde
C) Ormanda yolunu kaybeden bir çocuğun uzun süre aç ve susuz kalmasında
D) Sıcak sobaya elini değdiren çocuğun elini çekmesinde
E) Uzun süre karanlık ve sessiz bir ortamda kalan kişinin algılama problemleri yaşamamasında

4. Günlük yaşamda bazı durumlarda "Üçüncü bardak çayı içsem mi, içmesem mi?", "Bu insan benim hayat boyu seveceğim bir kimse midir, değil midir?", "Tıp fakültesine mi gitsem yoksa, bilgisayar mühendisliğine mi?" şeklindeki kararsızlıklarla karşılaşabiliriz.

Bu durum aşağıdakilerden hangisine bir örnek olabilir?

- A) Savunma mekanizması
B) Öğrenme
C) Engellenme
D) Çatışma
E) Güdülenme

5. Tutumları doğrudan doğruya gözleyemeyiz, ancak bireyin yaptıklarından kavrayabiliriz. Buna karşın, bireylerin tutumları sonradan oluştuğlarından sevgi, nefret ve davranışlarını da önemli ölçüde etkiler. Bu nedenle bir politikacının seçimleri kazanabilmek veya bir sanatçının hayran kitlesi edinmek için insanların olumlu tutumlarına gereksinimi vardır. Yine bu nedenle hepimiz, çoğu kez biraraya geldiğimiz insanların bize ilişkin tutumlarının olumlu olması için çaba gösteririz.

Parçada tutumların hangi özelliğine yer verilmiştir?

- A) Öğrenme sonucu kazanıldığı
B) Zaman içerisinde değişebildiği
C) Dolaylı olarak gözlenebildiği
D) Olumlu ya da olumsuz özellikler taşıyabildiği
E) Davranışlarla çelişebildiği

7. İstenilen bir davranışın tekrar edilme olasılığını artıran uygulamalara "pekiştirme" denir.

Buna göre, aşağıdakilerin hangisinde pekiştirme amacı güdülmemiştir?

- A) Yardımsever bir vatandaşın adının yaptırıldığı okula verilmesi
B) Bir sinema oyuncusunun çevirdiği filmlerde sürekli işadamı rolünde oynaması
C) Vergisini tam olarak ve zamanında ödeyen iş adamlarının basında tanıtılması
D) Bir final maçını kazanan futbolculara kulübünün prım vermesi
E) Bir şehirde uzun süre hiç kaza yapmayan sürücülere Emniyet Müdürlüğü'nün plaketi vermesi

8. Bir klinik psikolog kendisine başvuran bir hastasının aile geçmişi, geçirdiği hastalıklar, okul hayatı, başından geçen beklenmedik olaylar, iş ve evlilik yaşamı vb. gibi konularda ayrıntılı bilgiler toplamak istiyor.

Bu psikoloğun aşağıdaki yöntemlerin hangisini kullanması gerekir?

- A) Deneysel yöntemi B) Kontrollü gözlemi
C) Korelasyon tekniğini D) Biyografiyi
E) Psikolojik testleri

6. Bir psikolog, her bakımdan birbirine denk iki grup fare üzerinde bir labirent deneyi yapmıştır. Psikolog, birinci gruptaki fareleri, labirentin öbür ucuna ulaşmak için yaptıkları her doğru hareket için yiyeceklerle hemen ödüllendirmiş, ikinci gruptaki farelerin ödülünü ise ancak labirentin öbür ucuna ulaştıklarında vermiştir. Deney sonunda, gerekli davranışı gösterir göstermez ödüllendirilen farelerin, labirentin öbür ucuna diğer farelerden daha kısa sürede ulaştıklarını belirlemiştir.

Bu deneyde etkisi incelenen değişken aşağıdakilerden hangisidir?

- A) Ödüllendirme
B) Güdülenme derecesi
C) Pekiştirme zamanı
D) Gruptaki fare sayısı
E) Gerekli davranışı öğrenme

KÖRFEZ YAYINLARI

10. Masal bu ya, bir gün Timur Nasrettin Hoca'nın yaşadığı köye köylülerin bakmaları için bir fil gönderir. Kendi geçimlerini sağlamakta zorlanan köylülerden hiçbiri cesaret edip de Timur'a çıkıp bu durumu izah edemez. Köylüler Nasrettin Hoca'ya gidip kurtulabileceklerini söyleyerek ve Hoca'yı önlerine katarak sarayın önüne gelirler. Hoca sarayın kapısından içeri girerken, köylüler fikir değiştirip geri dönerler. Timur'un huzuruna çıkan Nasrettin Hoca arkasına bir bakar kimse kalmamış. Durumu bozuntuya vermeyen Timur'a, "Bizim köylü gönderdiğin bu filden çok memnun kaldı, bir fil daha istiyoruz sultanım." der.

Bu masalda Nasrettin Hoca'nın düşüncesini değiştirmesi, aşağıdakilerden hangisiyle açıklanabilir?

- A) Sorumluluğun grup üyeleri arasında paylaşılmasıyla
B) Riske girmenin bireye faydalarının bilinmesiyle
C) Riskli kararlar alınmasının heyecan vermesiyle
D) Grup üyelerinin cesaretli kişiler olmasıyla
E) Grup üyelerinin riske girme konusunda aynı tutuma sahip olmasıyla

11. Sosyal olayları inceleyen bir sosyolog, araştırmalarını rastgele yapmaz. Çünkü sosyal olaylar rastlantısal olarak ortaya çıkmaz. Her toplumsal olayın temelinde başka bir toplumsal olay yatar.

Buna göre sosyolog, araştırma yaparken aşağıdakilerden hangisini gözönüne almalıdır?

- A) Objektif olmayı
B) Evrensel olgulara dayanmayı
C) Genel - geçer ilkelere bağlı kalmayı
D) Nedensellik ilkesine dayanmayı
E) Deneysel verilerle açıklanabilmeyi

12. Günümüzde, çok hızlı bir şekilde gelişen internet, dünyayı adeta parmaklarımızın ucuna taşımıştır. Klavyeden basılan bir tuşla dünyanın çeşitli bölgelerinde yaşayan farklı bilim ve teknolojik gelişmelere sahip olmaları ve bilgilenmeleri sağlanmaktadır. Böylece insan, internet sayesinde dünyanın sadece yaşadıklarıyla sınırlı olmadığını anlamaktadır.

Parçada internetin özellikle hangi işlevi üzerinde durulmaktadır?

- A) Bireyleri dar kalıplar içine sokması
B) Belli bir yaşam tarzının etkisini yayması
C) Bireylerin bilgi alanlarını genişletmesi
D) Bireylerin bilgi edinme olanaklarını sınırlaması
E) Bilgi birikimini gelecek nesillere aktarması

13. Statü ve rollerle ilgili olarak, "Her yiğidin yoğurt yemesi farklıdır." sözüyle, aşağıdakilerden hangisi arasında benzerlik kurulabilir?

- A) Her statünün toplum içerisindeki prestiji farklılıklar taşıyabilir.
B) Bireyler statülerini kaybettiklerinde ona ilişkin rollerini de kaybederler.
C) Bireyler rollerini sahip oldukları statü doğrultusunda geliştirir.
D) Benzer statülere sahip bireylerin anahtar statüsü farklı olabilir.
E) Bireylerin aynı statüye ilişkin olarak geliştirdikleri roller bir ölçüde farklı olabilir.

KÖRFEZ YAYINLARI

14. Sosyolojik araştırmalarda, konu uygun olduğu ölçüde sayısal verilere ulaşılmaya ve araştırma bulguları sayısal ifadelerle ortaya konulmaya çalışılır.

Bu tutumun temel nedeni aşağıdakilerden hangisidir?

- A) Verilerin bireylere göre değişmesi
B) Elde edilenlerin olgusalıktan uzak olması
C) Araştırma sonuçlarının nesnellik taşıması
D) Sayısal verilerin olasılık değeri taşıması
E) Toplumsal koşulların değişmesi

15. "Devlet ya da siyasi parti gibi grupların birbirleriyle olan ilişkilerine ikincil ilişkiler denir."

Buna göre, aşağıdakilerden hangisi ikincil ilişkilerin özelliklerinden biri değildir?

- A) İlişkilerin kısa süreli olması
B) Küçük gruplarda yer alması
C) Karşılıklı etkileşimin zayıf olması
D) Yazılı kurallara bağlı olması
E) Ben duygusunun egemen olması

16. • Geniş aile; anne, baba ve evlenmiş çocuklarının bir arada yaşadığı aile tipidir.

- Çekirdek aile; anne, baba ve evlenmemiş çocuklardan oluşan aile tipidir.

Buna göre, ailenin geniş aile ve çekirdek aile olarak sınıflanmasında aşağıdakilerden hangisi ölçüt alınmıştır?

- A) Ailede bulunan kişi sayısı
B) Ailenin otorite yapısı
C) Ailede kararların alınışı
D) Ailenin işlevlerinin geniş olması
E) Ailede bulunan kuşak sayısı

17. Eskimolar buzdolabını yiyeceklerinin donmaması için kullanırken, biz yiyeceklerin dışarıda bozulmaması için kullanırız.

Bu parçaya göre, teknolojinin değişik şekillerde kullanılmasının sebebi aşağıdakilerden hangisidir?

- A) Her toplumun kendine has bir kültürünün olması
B) Kültürün fiziki çevre koşullarından etkilenmesi
C) İnsanların kültürü oluşturması ve kültürden etkilenmesi
D) Kültürsüz toplumun olmaması
E) Kültürün maddî ve manevî unsurlardan etkilenmesi

18. Gelişmiş demokrasilerde devletin varlık nedeni, bireylerin hak ve özgürlüklerini olabildiğince geliştirmektir. Ancak, bir insanın çalışma hakkını kullanabilmesi iş olanaklarının iyileştirilmesine, sağlıklı çevre koşullarında yaşamasına ve başka bireylerin işlerine göre konumlanmasına bağlıdır.

Bu açıklamada, demokrasilerde aşağıdaki olguların hangilerinin birlikte var olabileceği vurgulanmaktadır?

- A) Statü - Rol
B) Üretim - Paylaşım
C) Suç - Ceza
D) Çoğulculuk - Prestij
E) Hak - Statü

19. Gelenekler, görenekler, görgü kuralları toplumsal norm; yönetmelikler, genelgeler, tüzükler ise resmi normdur.

Buna göre, toplumsal normları, resmi normlardan ayıran temel fark aşağıdakilerden hangisidir?

- A) Hukuksal yaptırımları olmaları
B) Devlet eliyle ortaya konulmaları
C) Toplumda düzeni sağlamaları
D) Yasalarla güvence altına alınmaları
E) Yazılı olarak belirlenmemiş olmaları

20. Araştırmalar; bir gerçeği ortaya çıkarmak, bir sorunu çözmek ya da eldeki bilgileri geliştirmek için bilimsel yöntem ve tekniklerden yararlanılarak yapılan sistematik çalışmalardır. Araştırma sürecinde izlenen yollar, araştırma sonuçlarının doğru, geçerli ve güvenilir olup olmadığının bir göstergesidir.

Buna göre, aşağıdakilerden hangisi bilimsel araştırmalarda izlenen yanlış bir yoldur?

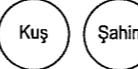




- A) İnceleme konusunu sınırlandırıp belirleme
B) Acele genellemelere varmaktan kaçınma
C) Toplumsal olayları yönlendirme
D) Somut ve açık konuları ele alma
E) Araştırma sonuçlarına tarafsız yaklaşma

21. "Bir önermenin doğruluk değeri, önermenin anlamı değişmediği sürece hep aynıdır."

Bu yargı, düşünme ilkelerinden hangisini örneklerdir?

- A) Özdeşlik
B) Çelişmezlik
C) Üçüncü halin imkansızlığı
D) Yeter sebep
E) Amaçlılık

22. Kuş ve Şahin terimleri arasındaki ilişkiyi belirten diyagram, aşağıdakilerden hangisidir?

- A) 
- B) 
- C) 
- D) 
- E) 

23. Aşağıdaki önermelerden hangileri arasında alt karşıtlık ilişkisi vardır?

- A) Bütün insanlar konuşkandır. Bazı insanlar konuşkandır.
B) Hiçbir genç agresif değildir. Bazı gençler agresiftir.
C) Bütün atlar iyi koşucudur. Bazı atlar iyi koşucu değildir.
D) Hiçbir kedi köpek değildir. Bazı kediler köpek değildir.
E) Bazı askerler barışseverdir. Bazı askerler barışsever değildir.

24. Bütün gençler çalışkandır.

Ahmet genç değildir.

O halde Ahmet çalışkandır.

Bu hatalı kıyasta, hangi kıyas kuralına uyulmamıştır?

- A) Orta terim sonuçta bulunmaz.
B) İki tikel öncülünden sonuç çıkmaz.
C) İki olumsuz öncülünden sonuç çıkmaz.
D) Her kıyasta yalnız üç terim bulunur.
E) Sonuç öncüllerin zayıf olanına bağlıdır.

25. Aşağıdakilerden hangisi nedenli önermedir?

- A) Başarman için çalışman gerekir.
B) Ali, Ahmet'ten daha uzundur.
C) Maça gitmekten vazgeçtim.
D) Ankara Türkiye'nin en büyük şehridir.
E) Sesi kısıldığı için şarkı söyleyemedi.

26. I. Canlı
II. Varlık
III. Sürüngen
IV. Yılan

Yukarıdakilerden hangiler "hayvan" teriminin içleminde yer alır?

- A) I. ve II. B) I. ve III.
C) II. ve III. D) II. ve IV.
E) I. ve IV.

27. Arabaya yetişirse derse geç kalmayacak. ($p \rightarrow \sim q$)
Bu önermenin eşdeğeri aşağıdakilerden hangisidir?
- A) Derse geç kalmaz ise arabaya yetişemeyecek. ($\sim q \rightarrow \sim p$)
B) Ne derse geç kaldı ne de arabaya yetişti. ($\sim p \wedge \sim q$)
C) Arabaya yetişemezse derse geç kalacak. ($\sim p \rightarrow q$)
D) Arabaya yetişecek veya derse geç kalacak. ($p \vee q$)
E) Arabaya yetiştiği ve derse geç kaldığı doğru değildir. ($p \wedge q$)

29. I. $(p \vee q) \rightarrow (p \wedge q)$
II. $\sim[(p \rightarrow q) \vee (p \leftrightarrow q)]$
III. $(p \rightarrow q) \wedge \sim r$
IV. $p \vee \sim(p \rightarrow q)$

Yukarıdaki önermelerin ana eklemleri aşağıdakilerden hangisinde doğru verilmiştir?

	I.	II.	III.	IV.
A) Koşul	Tümel evetleme	Tikel evetleme	Değilleme	
B) Koşul	Değilleme	Tümel evetleme	Tikel evetleme	
C) Koşul	Tümel evetleme	Değilleme	Tümel evetleme	
D) Koşul	Değilleme	Tikel evetleme	Değilleme	

28. Önermelerin denetlenmesi ile ilgili aşağıdaki bilgilerden hangisi doğrudur?
- A) İki tutarlı önerme her yorumlamada eşdeğerdir.
B) İki geçersiz önerme her yorumlamada eşdeğerdir.
C) En az bir yanlış yorumu olan önerme geçersizdir.
D) Değillemesi tutarlı olan her önerme geçerlidir.
E) Her tutarlı önerme geçerlidir.

30. "Hava yağmurlu olursa dışarı çıkmayacağım."
($Fa \Rightarrow \sim Gb$) önermesinden, aşağıdaki öncüllerden hangisinin yardımıyla, "Dışarı çıkacağım." (Gb) sonucu çıkarılabilir?
- A) Hava yağmurludur. (Fa)
B) Dışarı çıkacağım. (Gb)
C) Hava yağmurlu değildir. ($\sim Fa$)
D) Dışarı çıkmayacağım. ($\sim Gb$)
E) Hava yağmurlu değilse dışarı çıkmayacağım. ($\sim Fa \Rightarrow \sim Gb$)

LYS-4 FELSEFE GRUBU BRANŞ DENEMESİ-6

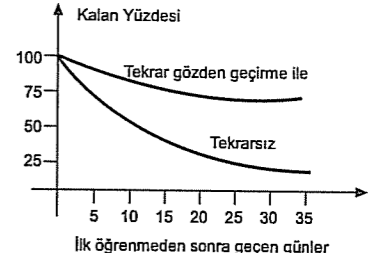
Bu Testte;

10 Adet Psikoloji, 10 Adet Sosyoloji ve 10 Adet Mantık sorularından oluşan toplam 30 adet soru bulunmaktadır.

1. Herhangi bir olayla karşılaşan birey o anda neler hissetmekte veya düşünmektedir? Olaylar karşısında bireyin zihninde nasıl bir süreç meydana gelmektedir? gibi soruları soran bir psikolog, aşağıdaki yaklaşımlardan hangisini savunmaktadır?
- A) Bilişsel yaklaşım
B) Biyolojik yaklaşım
C) Davranışçı yaklaşım
D) İşlevsel yaklaşım
E) Psikodinamik yaklaşım

3. Bir öğrenci, dersleri günü gününe çalışmanın etkin bir öğrenme için gerekli olduğunu düşünmesine rağmen, her sınava sadece bir gün önce yoğun bir çalışma temposu ile hazırlanmaktadır. Aşağıdakilerden hangisi bu durumu en iyi şekilde ifade eder?
- A) Öğrenci yanlış bir teknikle çalışmaktadır.
B) Davranışlar bazen tutumlarla çelişebilir.
C) Öğrenci, kendisine uygun olan yöntemi henüz bulamamıştır.
D) Öğrenci tutumuna uygun bir davranış göstermektedir.
E) Tutumların önem derecesi birbirinden farklıdır.

2. Kaynağını toplumsal yaşantıdan alan, bireylerin diğerleri ile ilişki kurmaları için gerekli olan güdülere toplumsal güdüler denir. Buna göre, aşağıdakilerden hangisi bu tür güdülere uygun bir örnek olamaz?
- A) Bireyin toplumda mevki sahibi olmayı amaçlaması
B) Bireyin zengin olma hırsıyla dolu olması
C) Kandaki besin maddelerinin azalmasıyla bireyin acıkması
D) Bir adamın ülke çıkarları için çalışmayı amaç edinmesi
E) Bir insanın dostlarıyla konuşma, şakalaşma ya da fikir alışverişinde bulunmak istemesi

4.  Yukarıdaki grafiğe göre aşağıdaki yargılardan hangisi doğrudur?
- A) İlk öğrenmeden sonraki geçen süre hatırlama miktarını etkilemez.
B) Tekrar sayısının öğrenmedeki etkinliği belirlenmemiştir.
C) Belirli aralıklarla yapılan tekrar unutmayı önleyerek, bilgilerin hafızada kalmasını sağlamıştır.
D) Tekrarlarla pekiştirilemeyen öğrenmeler tamamen unutulur.
E) Öğrenilenlerin tamamının hatırlanması tekrar sayısı ile mümkündür.

5. Aynı anda bir vitrine bakan bireylerin daha sonra sorulduğunda farklı nesnelere algıladıkları görülmüştür.

Bu örnekteki algılama sürecinde aşağıdakilerden hangisi etkili olmamıştır?

- A) Ortam B) İlgiler C) Tutumlar
D) İhtiyaçlar E) Beklentiler

6. Evlat edinilmiş iki yüz kırk beş çocuk üzerinde yedi yıl süren bir araştırmada, evlat edinilmiş çocukların zekasının, kendilerini evlat edinenlerin değil, gerçek anne babalarının zekasını yansıttığını ortaya koymuştur.

Parçaya göre, zekanın belirleyici faktörü aşağıdakilerden hangisidir?

- A) Çevre B) Kalıtım C) Beceri
D) Yetenek E) Kişilik

7. Bir futbolcunun gece hayatını sınırlamak isteyen kulüp başkanı ve doktoru, uykusuz kalmanın zararlarını, böyle bir yaşamın futbolcuya yakışmadığını, taraftarların da bundan hoşlanmadıklarını söyleyerek, futbolcuyu gece hayatından vazgeçirmeye çalışmışlardır.

Bu olayda, uyma davranışını etkileyen hangi faktör kullanılmıştır?

- A) Grubun büyüklüğü
B) Gruptaki söz birliğinin etkisi
C) Gruptaki saygın ve uzman kişilerin etkisi
D) Yüzyüze olmanın etkisi
E) Yaratıcı düşünmenin etkisi

8. – Küçük bir çocuğun kendini pokemon zannedip balkondan aşağıya atlaması
– Gençlerin, beğendikleri sanatçıların saç modellerini taklit etmeleri

Yukarıdaki örnekler aşağıdaki savunma mekanizmalarının hangisine uygundur?

- A) Gerileme
B) Bahane bulma
C) Ödünleme
D) Bastırma
E) Özdeşim kurma

9. Bir organizmanın, daha önce tepkide bulunmadığı bir uyarıcıya, yapılan koşullandırmalar sonunda tepkide bulunmaya başlaması sağlanmıştır.

Buna göre, aşağıdaki davranışlardan hangisinin koşullanmanın etkisiyle ortaya çıktığı söylenemez?

- A) Yanlış çalan zille öğrencilerin dersten çıkması
B) Küçük bir çocuğun kapı zili çalınca "baba" demesi
C) Bir kedinin, ısıklık sesiyle sahibinin yanına koşması
D) Yayaaların yeşil ışığı görünce karşıdan karşıya geçmesi
E) Koşucuların tabanca sesini duyunca koşmaya başlaması

10. Süreklilik kazanan bir uyarıcının organizmanın tepkilerini zayıflatmasına ve davranışta bulunamama eğilimine neden olmasına "duyusal uyum" denir.

Buna göre aşağıdakilerden hangisi duyusal uyuma bir örnek oluşturmaz?

- A) Karanlık bir ortama girdiğimizde, belli bir süre sonra gözümüzün uyarıcıları görmeye başlaması
B) Sürdüğümüz bir parfümün kokusunun kısa bir süre sonra hissedilmemesi
C) Çok gürültülü bir ortamda, bir süre sonra gürültüye aldırılmadan sohbet edilebilmesi
D) Bir apartmana girdiğimizde kızartılan balık kokusunun bir anda burnumuza çarpması
E) Yeni boyanmış bir odadaki boya kokusunun bir süre sonra farkedilmemesi

11. Ülkemizde çevre mühendislerinin elektronik mühendislerinden ortalama olarak çok daha düşük ücretle çalışmalarının temel nedeni, piyasada ihtiyaç duyulandan fazla çevre mühendisi bulunmasıdır.

Bu durum aşağıdakilerden hangisini destekler niteliktedir?

- A) Emek piyasasında ücretler arz talep ilişkisine göre belirlenir.
B) Bir mesleğin öğrenilmesi için gereken çaba, o mesleğin önemini belirler.
C) Aynı mesleğe sahip olanların nitelik farkı, aldıkları ücretler üzerinde belirleyicidir.
D) Mesleklerin önem ve değerinde zaman içinde değişim görülür.
E) Mesleklerin önem ve değeri aldıkları ücretle kıyaslanamaz.

12. Toplumsallaşma, hayat boyu süren bir öğrenme sürecidir. Bu süreç ilk olarak ailede başlar, daha sonra çocukluk, okul, iş ve arkadaşlık grupları aşamasından geçer. Yani toplumsallaşma, bireyin diğer kişilerle ilişki kurması sonucunda toplumdaki davranış örneklerini benimsemesidir.

Aşağıdakilerden hangisi toplumsallaşmanın amaçları arasında gösterilemez?

- A) Bireyin toplum kurallarına uymasını sağlamak
B) Bireye toplumca istenilen davranışları kabul ettirmek
C) İnsana sosyal rollerini öğretmek
D) Bireysel yetenekleri geliştirmek
E) Bireyi içinde bulunduğu gruba bütünleştirmek

13. I. Grup içerisinde bir eş seçerek evlenme
II. Evlenen çiftlerin kadının ailesinin yanında oturması
III. Eşi ölen erkeğin, karısının kardeşlerinden biriyle evlenmesi

Yukarıdaki açıklamaları karşılayan kavramlar aşağıdakilerden hangisinde doğru olarak sıralanmıştır?

- A) Endogami - Matrilokal - Sorarat
B) Patrilokal - Matrilokal - Levirat
C) Egzogami - Matrilokal - Neolokal
D) Polijini - Patrilokal - Sorarat
E) Egzogami - Neolokal - Levirat

14. Toplumsal statü, bireyin toplum içinde yer alan diğer bireyler karşısındaki konumudur. Örneğin çocuksuz anne, kardeşsiz abla, personelsiz müdür düşünülemez.

Parçada toplumsal statüye ilişkin aşağıdakilerden hangisi vurgulanmıştır?

- A) Diğer insanlara göre oluştuğu
B) Doğuştan getirildiği
C) Rollerinin toplum tarafından belirlendiği
D) Sonradan belli bir çaba sonucu edinildiği
E) Hiçbir toplumda bulunmadığı

15. Aşağıdakilerden hangisi toplumsal gruba bir örnek değildir?

- A) YGS'ye hazırlanan gençler
B) Bir futbol takımı oyuncuları
C) Birlikte geziye giden üç arkadaş
D) Uzun bir tatile giden aile
E) Müzik çalışması yapan bir koro

16. Ekonomide mal ve hizmetlerin faydasından yararlanılmasına verilen ad aşağıdakilerden hangisidir?

- A) Üretim B) İş bölümü
C) Tüketim D) Değişim
E) Bölüşüm

17. İnsanların bir arada yaşamaları, toplumsal hayatlarını düzenleyen kurallar ve kurumlar oluşmasını zorunlu hale getirmiştir. Kural ve kurumlar aracılığıyla insanlar arası ilişkiden, farklı topluluklar arasındaki ilişkilere kadar pek çok denetim mekanizması doğmuştur. Kurallar ve kurumlar olmasaydı toplumların hayatında büyük bir kargaşa egemen olurdu.

Bu görüş aşağıdakilerden hangisini desteklemektedir?

- A) Toplumda kurallara uymayanlar toplum tarafından dışlanır.
B) Toplumsal kurum ve normlar toplumsal ihtiyaçların ürünüdür.
C) Toplumsal kurumların birindeki değişme diğerlerini de etkiler.
D) Aynı toplumda farklı şekillerde etkili olan toplumsal kurumlar vardır.
E) Toplumsal kurumlar zaman içerisinde değişikliğe uğrar.

körfez YAYINLARI

18. Toplumsal hayatta doğru olan, kişinin ilgi ve yeteneklerine göre meslek seçiminde bulunmasıdır. Oysa günümüzde meslek seçimine en büyük etkiyi yapan iki önemli faktör mesleğin getireceği gelir ve iş bulabilme olanağıdır. Bu faktörlere göre toplum, o mesleği önemser. Bundan dolayı genç, seçim yaparken bu şartlardan etkilenir.

Bu açıklamada toplumsal değerlerin hangi özelliği vurgulanmaktadır?

- A) Bireyler arasında dayanışmayı sağlama
B) Toplumda düzeni sağlayıcı rol üstlenme
C) Normların işleyişini kolaylaştırma
D) Aynı toplumda zamanla değişebilme
E) Statü seçiminde belli bir işleve sahip olma

19. Bir Amerikalı istiridyeyi severek yer ama salyangozu sevmeyiz. Fransızlar ise salyangoz yer ama çekirge yemezler. Zulular çekirge yedikleri halde balık yemezler. Hintliler ise inek eti yemezler. Çinliler hem yılan, hem de inek eti yerler.

Bu parçada sözü edilen durumlar aşağıdakilerden hangisine örnektir?

- A) Kültürleşme
B) Kültürel farklılık
C) Kültürel yayılma
D) Kültürel değişme
E) Kültürel çatışma

20. Aşağıdakilerden hangisi sosyolojik araştırmalarda uyulması gereken ilkelerden biri **değildir**?

- A) Somut olaylar arasında nedensellik ilişkisi kurmak
B) Değer yargılarından arınacak şekilde, olması gerekeni değil, olanı ortaya koymak
C) Toplumsal olayları birbirinden bağımsız bir şekilde incelemek
D) İncelenen olayın toplumsal bütünle ilişkisini irdelemek
E) Konuya uygun veri toplama tekniklerini kullanmak

21. "Bazı filmler çok masraflıdır belki ama çok da kalitelidir." **yargısında kaç terim vardır?**

- A) 2
B) 3
C) 4
D) 5
E) 6

22. I. Çiçek
II. Varlık
III. Bitki
IV. Papatya
V. Canlı

Yukarıdaki terimler, işleminin genişliği bakımından sıralandığında aşağıdakilerden hangisi doğru olur?

- A) II - V - III - I - IV
B) I - III - IV - II - V
C) II - III - V - I - IV
D) V - I - III - II - IV
E) IV - I - III - V - II

23. "Bir şey ne ise odur; kendisinden başka bir şey değildir."

Yukarıdaki açıklama, aşağıdaki mantık ilkelelerinden hangisiyle ifade edilir?

- A) Özdeşlik
B) Çelişmezlik
C) Üçüncü halin imkansızlığı
D) Nedensellik
E) Amaçlılık

24. Özne ve yüklemi aynı olan iki önerme nicelik bakımından farklı, nitelik bakımından aynı ise bu önermeler birbirinin altlığı sayılır.

Buna göre karşı olum karesinde yer alan,

- I. Tümel olumlu
II. Tikel olumlu
III. Tikel olumsuz
IV. Tümel olumsuz

önermelerinden hangileri arasında altıklık ilişkisi vardır?

- A) I. ile II.
B) I. ile III.
C) II. ile III.
D) I. ile IV.
E) II. ile IV.

25. I. Karanfil ve gül çiçektir.(Bağlantılı önerme)
II. Asiyeye tembelleme değildir.(Tekil olumsuz önerme)
III. İzmir en kalabalık ilimizdir.(Sınırlandırıcı önerme)
IV. Bazı doktorlar bayandır.(Tikel olumlu önerme)
V. Sadece Ömer başardı (Özgüllü önerme)

Yukarıdaki önermelerden hangisinin türü yanlış ifade edilmiştir?

- A) I
B) II
C) III
D) IV
E) V

26. Aşağıdaki çıkarımlardan hangisi bir analogidir?

- A) Bütün insan ölümlüdür. O halde ben de ölümlüyüm.
B) Yabancı filmler güzeldir. Çünkü bu yıl gördüğüm tüm filmler güzeldi.
C) Kim psikoloji bilirse insan psikolojisinden anlar, Mehmet beni anlamadı o zaman psikoloji bilmiyor.
D) Bütün metaller ısınınca genişler o halde ısıtılan tel çubuk da genişler.
E) İstanbul da Ankara da büyük şehirdir. İstanbul'da trafik sorunu vardır. O halde Ankara'da da trafik sorunu vardır.

27. Aşağıda günlük dilde verilmiş olan önermelerden hangisi tikel evetleme (V) önermesidir?

- A) Mutlu olmak için çalışmayı sevmek gerekir.
B) Mutlu olunur, yeter ki cesur olunsun.
C) Çalışmak ve cesaret mutluluğun koşuludur.
D) Endişe ile ümitsizlik beraberinde huzursuzluk getirir.
E) Korku ya da ümitsizlik huzuru kaçıtır.

körfez YAYINLARI

28. Aşağıdaki önermelerden hangisi $(p \wedge q) \Rightarrow r$ sembolü ile gösterilir?

- A) Öğrenciler düzenli ve devamlı çalışırlarsa başarılı olurlar.
 B) Başarılı olmak için düzenli çalışmak gerekir.
 C) Başarının temel sebebi devamlı çalışmaktır.
 D) Öğrenciler düzenli veya devamlı çalışırlarsa başarılı olurlar.
 E) Başarılı olamamışlarsa düzenli ve devamlı çalışmamışlardır.

29.

		I	II
p	q	$p \Rightarrow (pvq)$	$p \Leftrightarrow (pvq)$
D	D	D	D
D	Y	D	D
Y	D	D	Y
Y	Y	D	D

Yukarıdaki birinci önerme hem tutarlı hem de geçerli olduğu halde ikinci önerme sadece tutarlıdır.

Buna göre, bir önermenin geçerliliği aşağıdakilerden hangisine bağlıdır?

- A) Bütün yorumlamalarının eşdeğer olmasına
 B) En az bir yanlışlayıcı değeri bulunmasına
 C) En az bir yorumlamanın doğru olmasına
 D) Bütün yorumlamalarının doğru olmasına
 E) Bütün yorumlamalarının yanlış olmasına

körfez YAYINLARI

30. "Bazı insanlar filozoftur." $(\exists xFx)$ önermesi,

- I. E : {Sokrates , Aristoteles, Frankeştayn}
 II. E : {Pele , Elvis Presley, Messi}

Birinci evrende doğru, ikinci evrende yanlış değerini alır.

Buna göre, bir tikel önermenin doğru değerini alması aşağıdakilerden hangisine bağlıdır?

- A) Evrendeki tüm nesnelere gerçekleşmesine
 B) Evrendeki bazı nesnelere tarafından gerçekleşmesine
 C) Evrendeki hiçbir nesne tarafından gerçekleşmemesine
 D) Evrendeki nesnelere aynı tür olmasına
 E) Evrendeki bir nesne tarafından doğrulanmasına, bir nesne tarafından yanlışlanmasına

LYS-4 FELSEFE GRUBU BRANŞ DENEMESİ-7

Bu Testte;

10 Adet Psikoloji, 10 Adet Sosyoloji ve 10 Adet Mantık sorularından oluşan toplam 30 adet soru bulunmaktadır.

1. Bir fıkrayı işitip de anlamadığımız, bir yakınımızı görüp de tanımadığımız anlar olabilir.

Bu durum aşağıdakilerden hangisi ile açıklanabilir?

- A) Duyum, zihne gelen uyarıcıların yorumlanmasıdır.
 B) Dıştan gelen uyarıcılar zihinde aynen algılanırlar.
 C) Uyarıcılar duyum eşliğini geçemedikleri durumlarda duyum ve algı gerçekleşmez.
 D) Her duyum algı ile sonuçlanmayabilir.
 E) Organizma, ihtiyaçları dışındaki uyarıcıları da yorumlayıp algılayabilir.

3. Bir araştırmada okumaya önem vermeyen çocuklar ile okumaya önem veren ve bunun baskısını üzerlerinde hisseden çocuklar karşılaştırılmıştır. Üzerlerindeki baskı aşırı olmamak koşuluyla, okumaya önem veren çocukların başarılarında artış gözlenmiştir.

Parçaya göre, aşağıdakilerden hangisi öğrenme ve başarıyı artırır?

- A) Ekonomik düzey
 B) İleri dereceye ulaşan kaygılar
 C) Sosyal grup
 D) Normal düzeydeki kaygılar
 E) Öğrenilen materyalin kolaylığı

körfez YAYINLARI

2. Arının bal yapması, örümceğin ağ örmesi, göçmen kuşların göç etmesi birer içgüdü davranışıdır.

Buna göre, içgüdü davranışlarıyla ilgili olarak aşağıdakilerden hangisi söylenemez?

- A) Kalıtsal davranışlar olduğu
 B) Öğrenilmeden yapıldığı
 C) Türe özgü olduğu
 D) İradeyle yapıldığı
 E) Doğuştan olması

4. "Sıra, çok sevdiğimiz bir şair ağabeyimizin şiirine gelmişti. O da, o sıralarda hastalığı ilerlediği için iyice çökmüştü ve son günlerini yaşıyordu. Bir yandan birinciliği vererek onu son günlerinde mutlu etmek istiyorduk, ama bir yandan da onunkinden çok daha güzel bir şiirin hakkını vermek istiyorduk. Jürideki bütün arkadaşlar öylece oturmuş bakıyorduk. Kimse ağzını açıp şöyle yapalım, diyemiyordu."

Parçada vurgulanan durum, aşağıdakilerden hangisi için uygun bir örnektir?

- A) Hayal kırıklığı
 B) Engellenme
 C) Kaçınma – Kaçınma çatışması
 D) Yaklaşma – Kaçınma çatışması
 E) Yaklaşma – Yaklaşma çatışması

5. Yapılan bir araştırmada çamaşır deterjanları arasında içlerindeki temizleyici maddeler bakımından fark olmadığı halde, radyo ve televizyon reklamlarıyla orantılı olarak satışları arasında farkın olduğu gözlenmiştir.

Parçada, çamaşır deterjanlarının satışları arasında farkı doğuran değişken aşağıdakilerden hangisidir?

- A) Ürünün kalitesi
B) Yapılan reklamlar
C) Bireysel istekler
D) Üretim kalitesi
E) Yeterli kültürel birikimin olmaması

6. Bu yaklaşım, laboratuvarında yalıtılmış davranış biçimlerini incelemek yerine, insana ve sorunlarına yönelmek gerektiğini savunur. İnsan ve davranışlarını anlamada en etkili yol ise, ona değer vermek ve ona karşı empati yapmaktır.

Bu parça, aşağıdaki psikolojik yaklaşımlardan hangisi ile ilgilidir?

- A) Bilişsel yaklaşım
B) Hümanist yaklaşım
C) Davranışçı yaklaşım
D) Psikodinamik yaklaşım
E) Bütüncül yaklaşım

7. Küçük görünmesine rağmen uzaktaki bir nesneyi alıştığımız boyutlarda algılarız. Uzaklaşan bir otomobilin görüntüsü küçükse de otomobilin boyutlarında herhangi bir değişiklik olmamış gibi algılarız.

Bu durumun temel nedeni olarak aşağıdakilerden hangisi gösterilebilir?

- A) Bireyin dikkatini daha çok ilgi duyduğu olaylara yöneltmesi
B) Bir uyarıcının algılanmasında önceki öğrenmelerin etkisinin büyük olması
C) Ortamdaki her değişikliğin bireyin dikkatini çekmesi
D) Aynı anda birden çok uyarıcının etkisinde kalan bireyin algılama gücünün zayıflaması
E) Hareket halindeki nesnelerin daha kolay algılanması

8. Yapılan araştırmalar, genetik benzerlikle zeka benzerliği arasındaki korelasyonun tek yumurta ikizlerinde 0.90, çift yumurta ikizlerinde ise 0.55 olduğunu gösteriyor.

Bu durum, zeka üzerinde hangi faktörün etkisinin daha güçlü olduğunu gösterir?

- A) Cinsiyetin
B) Kalıtımın
C) Çevrenin
D) Eğitimin
E) Olgunlaşmanın

9. – Dersin öğretmenine kızan öğrencinin kapıyı çarparak dışarı çıkması
– Patronuna kızan adamın iş arkadaşlarına söylenmesi

Yukarıdaki davranışlar aşağıdaki savunma mekanizmalarından hangisine örnektir?

- A) Bastırma
B) Bahane bulma
C) Yansıtma
D) Özdeşim kurma
E) Yön değiştirme

10. "O kadar alışmışım ki o eski konak kalıntısı eve. Bunu sonradan yeni evimizdeyken kendimi hâlâ orada otuyormuşum gibi hissetmeye başladığımda anladım. Hatta epeyce bir zaman, yazışmalarında hep o konak kalıntısı evin adresini kullandığımı çok sonra fark ettim."

Yukarıda yazarın sözünü ettiği durum, aşağıdaki kavramlardan hangisi için uygun bir örnek olarak kabul edilebilir?

- A) Pozitif transfer
B) Geriye ket vurma
C) Negatif transfer
D) İleriye ket vurma
E) İşleve takılma

11. Toplumsal kategori, belli bir özelliği paylaşan fakat genellikle birbiriyle ilişkisi bulunmayan fertlerin oluşturduğu topluluğa denir. Kategoriye giren kimseler kategori oluşturduklarının farkında değildir.

Bu duruma göre aşağıdakilerden hangisi toplumsal kategoriye örnektir?

- A) Askerlik çağına gelmiş gençler
B) Çarşıda gezinenler
C) Otobüs bekleyenler
D) Bir statüde maç seyredenler
E) Aynı ailede yaşayanlar

12. Erkek çocuklarını anne ve baba için bir çeşit yaşlılık sigortası olarak gördüğü toplumlarda erkek çocuğun olmaması, koca için ikinci kez evliliği gerekli kılmaktadır.

Parçada anlatılan evlilik türü, aşağıdakilerden hangisidir?

- A) Ekzogami
B) Poligami
C) Endogami
D) Patriloal
E) Monogami

13. İnsana, içinde yaşadığı toplumun kültürünü kazandıran sürece "kültüre katılma" denir. Örneğin Suriye'de, Fransa'da ya da İsveç'te doğup büyümüş olsaydık, o ülkelerdeki dili konuşur, inançlarını benimser, oradaki insanlarla benzer alışkanlıklar edinirdik.

Parçada daha çok aşağıdakilerden hangisi vurgulanmaktadır?

- A) Kültür tarihsel bir süreç içerisinde gelişir.
B) İnsan bulunduğu kültürün ürünüdür.
C) Kültürleri farklı olduğundan insanlar da farklıdır.
D) İnsanlar bir kültürü o kültüre katılmasa da kazanırlar.
E) Kültürler insanı küçük yaşta etkiler.

14. "Uygarlık yolunda başarı, yenileşmeye bağlıdır. Toplum hayatında, ekonomi hayatında, bilim ve teknik alanında başarılı olmak için biricik gelişim ve ilerleme yolu budur. Hayata egemen olan yargıların zamanla değişmesi, gelişmesi ve yenileşmesi zorunludur."

ATATÜRK

Parçada aşağıdakilerden hangisinin önemi vurgulanmaktadır?

- A) Bilim ve teknik, toplum hayatında en önemli unsurdur.
B) Toplumun değer yargıları hemen değişmelidir.
C) Toplumların başarısı için sosyal değişme ve gelişmeler sürekli olmalıdır.
D) Toplumun yenileşme ve gelişmesi için kültürünün değiştirilmesi gerekir.
E) Değişmesi, yenileşmesi gerekli ilk alanlar ekonomi ve bilimdir.

15. Bir sosyolog, İzmir'in Kadifekale semtinde oturan bazı gecekondu aileleri üzerinde bir araştırma yapmıştır. Araştırmasında o bölgedeki ailelerin tümünün özelliklerini yansıtabilecek türde aileler seçmiş ve bu aileleri ekonomik durumları, eğitim seviyeleri, eğlenme biçimleri, bir evde oturan kişi sayısı ve diğer bakımlardan ayrıntılı olarak incelemiştir.

Bu sosyolog, yaptığı araştırmada aşağıdaki tekniklerden hangisini uygulamıştır?

- A) Anket
B) Monografi
C) Sosyometri
D) İstatistik
E) Demografi

16. "Toplumsal olaylar bir nesne gibi ele alınmalıdır." ifadesi ile anlatılmak istenen aşağıdakilerden hangisidir?

- A) Toplumsal olayları açıklarken araştırmacı kendi değerlendirmelerini de yansıtmalıdır.
B) Toplumsal olayların açıklanmasında metafiziksel öğeler de dikkate alınmalıdır.
C) Toplumsal olayların açıklanmasında doğa bilimlerinin araştırma teknikleri de kullanılmalıdır.
D) Toplumsal olayları açıklarken, önyargılardan kurtulmalı ve objektif tutum benimsemelidir.
E) Toplumsal olayların açıklanmasında bilim adamları konunun sınırlarını iyi belirlemelidir.

17. Kutuplarda yaşayan Eskimoların dilinde kar ile ilgili; çöl ortamında yaşayan Arapların dilinde ise deve ile ilgili yüzlerce sözcüğün bulunması, aşağıdakilerden hangisinin kültür üzerindeki etkisini ortaya koymaktadır?

- A) Dil zenginliğinin
- B) İnanç biçimlerinin
- C) Fiziksel çevre koşullarının
- D) Toplumsal değişmelerin
- E) Etnik yapının

18. J.J. Rousseau'ya göre, insanlar doğal durumdan (klan) başlayıp yerleşik toplumu (kent) oluşturuncaya kadar eşitlik içerisinde yaşıyorlardı. Çünkü avlanan ya da toplanan her şey klana aitti. Fakat toprağa yerleşmenin başlamasıyla birlikte eşitlik bozuldu. Çünkü benim toprağım, benim malım anlayışı başladı.

Parçada, **daha çok** aşağıdakilerden hangisi vurgulanmaktadır?

- A) Toplumsal değişmelerin insanları zora soktuğu
- B) Mekanik dayanışmanın organik dayanışmaya dönüştüğü
- C) Kollektif mülkiyetin bireysel mülkiyete dönüştüğü
- D) Toplamların değişim ve gelişime kapalı bulunduğu
- E) Toplumun sürekliliği için üretilen düşüncelerin eyleme dönüştüğü

19. Bir bölgede meydana gelen deprem o toplumda göçe sebep olabilir. Bununla birlikte su baskınları, iklim değişiklikleri de çevre ve nüfus arasındaki dengeyi bozar ve toplumsal değişmelere neden olabilir.

Paragrafta aşağıdakilerden hangisi vurgulanmaktadır?

- A) Toplumsal değişmenin iklim ve doğa olaylarını etkilediği
- B) Toplumsal olayların birbiriyle uyum içerisinde bir bütünlük oluşturduğu
- C) Toplumsal değişmenin sürekli ve gereken bir zorunluluk olduğu
- D) Toplumsal değişmenin iklim ve doğa olaylarından arınık olduğu
- E) İklim ve doğa olaylarının toplumların yapısında değişiklikler oluşturduğu

20. Toplumda saygın bir iş adamı olan bireyin çeşitli skandallar sonucunda çöküntüye düştüğü ve kendini yalnız hissettiği görülmüştür.

Bireyde görülen bu durumun temel nedeni aşağıdakilerden hangisidir?

- A) Rol çatışması
- B) Statü yükselmesi
- C) Toplumsal kontrol
- D) Prestij kaybı
- E) Statü kaybı

21. — “Bir aydır gözüme uyku girmedim.”

— “Bizim grup direndi, fakat başarılı olmadı.”

Yukarıdaki önermeler **sırasıyla** aşağıdakilerden hangisinde doğru olarak verilmiştir?

- A) Özgürlü - Bağlantılı
- B) Sınırlandırıcı - Ekli
- C) Ekli - Özgürlü
- D) Çıkarmalı - Sınırlandırıcı
- E) Sınırlandırıcı - Karşılaştırmalı

22. Aşağıdakilerden hangisi ile “insan” terimi arasında “tam girişimlilik” ilişkisi yoktur?

- A) Varlık
- B) Canlı
- C) Ahmet
- D) Doktor
- E) Düşünen

23. Bazı canlılar insandır.

Bütün insanlar duyguludur.

O halde bütün canlılar duyguludur.

Yukarıdaki kıyasın büyük, küçük ve orta terimi sırasıyla aşağıdakilerden hangisidir?

- A) Canlı - İnsan - Duygulu
- B) Duygulu - İnsan - Canlı
- C) İnsan - Duygulu - Canlı
- D) Canlı - Duygulu - İnsan
- E) Duygulu - Canlı - İnsan

24. Mantık bizim gerçekten nasıl düşündüğümüzü değil de, düşünmemizin doğru olması için nasıl düşünmemiz gerektiğini gösteren doğru düşünme bilimidir.

Mantığın bu tanımında, özellikle aşağıdakilerden hangisi üzerinde durulmuştur?

- A) Normatif olduğu
- B) Öznel olduğu
- C) Olgusal olduğu
- D) Tutarlı olduğu
- E) Olanı belirttiği

25. — Bütün biberler acıdır.

— Hayat da acıdır.

— O halde hayat biberdir.

Yukarıda hangi kıyas türü örneklendirilmiştir?

- A) Entimem
- B) İkilem
- C) Sorit
- D) Safsata
- E) Seçmeli kıyas

26. “Bazı fizikçiler bilim adamıdır.” önermesinin çelişigi aşağıdakilerden hangisidir?

- A) Tüm fizikçiler bilim adamıdır.
- B) Hiçbir bilim adamı fizikçi değildir.
- C) Hiçbir fizikçi bilim adamı değildir.
- D) Bazı bilim adamları fizikçidir.
- E) Bütün bilim adamları fizikçidir.

27. “Birazdan yağmur yağacak ve hava serinleyecektir.” (p∧q) önermesi ancak yağmurun yağması ve havanın serinlemesi durumunda doğrudur.

Buna göre (p∧q) türü bir tümel evetleme önermesi, aşağıdaki durumlardan hangisinde “doğru” değerini alır?

- A) Bileşenlerinden en az bir tanesi doğru değerini alırsa
- B) Bileşenlerinden her biri aynı anda doğru değerini alırsa
- C) Bileşenler farklı doğruluk değerini taşırsa
- D) Bileşenlerinden her biri aynı anda yanlış değerini alırsa
- E) Ön bileşen yanlış art bileşen doğru değerini alırsa

28. Aşağıdaki önerme eklemelerinden hangisinin tek bileşeni vardır?

- A) ~(p∧~q)
- B) p∨q
- C) p→q
- D) ~p∧~q
- E) ~p↔~q

29. Önermelerin denetlenmesi ile ilgili aşağıdaki ifadelerden hangisi doğru değildir?

- A) Tutarsız önerme, hiçbir doğru yorumu olmayan önermedir.
- B) Değillemesi tutarsız önermeler geçerlidir.
- C) Eşdeğer önermeler tüm yorumlamaları aynı olan önermelerdir.
- D) Her geçersiz önerme aynı zamanda tutarsızdır.
- E) İki geçerli önerme her yorumlamada eşdeğerdir.

30. Bazı sanatçıların dürüst olduğu söylenemez. ~∃xDx önermesinin eşdeğeri, aşağıdakilerden hangisidir?

- A) Bazı sanatçılar dürüst değildir. ∃x~Dx
- B) Hiçbir sanatçı dürüst değildir. ∀x~Dx
- C) Bütün sanatçılar dürüsttür. ∀xDx
- D) Hiçbir sanatçının dürüst olmadığı doğru değildir. ~∀x~Dx
- E) Bazı sanatçıların dürüst olmadığı doğru değildir. ~∃x~Dx

körfez YAYINLARI

LYS-4 FELSEFE GRUBU BRANŞ DENEMESİ-8

Bu Testte;

10 Adet Psikoloji, 10 Adet Sosyoloji ve 10 Adet Mantık sorularından oluşan toplam 30 adet soru bulunmaktadır.

1. İşveren ve işçi ilişkilerinin düzene konması, işçinin moralinin ve çalışma gücünün yükseltilmesi, verimin artırılması ve çeşitli işletmelerde çalışma koşullarının düzeltilmesi gibi konularla, psikolojinin daha çok hangi dalı ilgilenir?

- A) Psikometrik psikoloji
- B) Klinik psikoloji
- C) Danışmanlık psikolojisi
- D) Endüstri psikolojisi
- E) Eğitim psikolojisi

2. Çevrenin beklentilerine uygun davranışlar gösteren insanlar normal, bu beklentilerin dışında davranışlar gösteren insanlar ise anormal olarak adlandırılırlar.

Aşağıdakilerden hangisi normal bir insanın özelliklerinden değildir?

- A) Problemlerinin farkındadır.
- B) Çevresine uyum sağlar.
- C) Yetenekleri ile hedefleri arasında paralellik vardır.
- D) Problemlerine gerçekçi çözümler bulur.
- E) Problem ve sıkıntı veren durumlardan uzaklaşır.

3. Sigara tiryakisi bir öğrenci sigaranın sinirlerini yatıştırdığı ve okuduklarını daha iyi anlamasını sağladığı şeklinde bazı gerekçeler bularak sigara içmeye devam edebilir.

Öğrencinin bu durumu, aşağıdakilerden hangisi için uygun bir açıklama olabilir?

- A) Öfkesini başkasından çıkarma
- B) Suçu başkasına atma
- C) Akla uygun nedenler ileri sürme
- D) Arkadaşlarını taklit etme
- E) Başarılı olabileceği alanlara yönelme

4. Eğer kişi, bir davranışın belli bir şekilde yapılmasına gerçekten inanıyorsa, bu durum benimseme olarak adlandırılır.

Buna göre, aşağıdakilerden hangisi benimsemeye bir örnektir?

- A) Herkes bir futbol takımı tuttuğu için bir takıma taraftar olma
- B) Çevresindeki insanlar sigaradan hoşlanmadığı için içmemeye çalışma
- C) İnsan hak ve özgürlüklerine inandığı için bunları savunmaya gayret etme
- D) Öğretmenlerin beğenisini kazanmak için derslerine çalışıyor görünme
- E) Modaya uygun olmadığı için beğendiği bazı kıyafetleri giymekten çekinme

körfez YAYINLARI

5. Eğer iki değişken arasında doğru orantı varsa pozitif, ters orantı varsa negatif, aralarında bir ilişki yoksa nötr korelasyon olur.

Buna göre, aşağıdaki korelasyon ilişkilerinden hangisi diğerlerinden farklıdır?

- A) Eğitim - suç oranı
B) Başarı - Güdülenme
C) Dikkat - kaza
D) Satış oranı - fiyatlar
E) Deneme sayısı - Hata miktarı

6. Psikoloji genel olarak insan ve hayvan davranışlarını bilimsel yöntemlerle inceler. İnsanların psikolojik özellikleri, davranışların incelenmesi ve bu incelemelerin değerlendirilmesiyle öğrenilir. Davranışların gözlenmesiyle duyum, algı, güdü, unutkanlık, zeka, kişilik gibi davranışa etki eden psikolojik özellikler hakkında bilgi edinilir.

Buna göre aşağıdakilerden hangisi psikolojinin konularından biri değildir?

- A) Beslenme koşullarıyla büyüme arasındaki ilişkinin saptanması
B) Davranışın altında yatan temel faktörlerin belirlenmesi
C) Öğrenmeye dayalı davranışların incelenmesi
D) Davranışlar üzerinde güdülerin etkisinin belirlenmesi
E) Organizmanın deney ve gözlem yoluyla incelenen davranışlarının belirlenmesi

7. Her sabah bir ceylan uyanır Afrika'da

Kafasında bir düşünce vardır:

En hızlı aslandan daha hızlı koşabilmek.

Yoksa aslana yem olur.

Her sabah bir aslan uyanır Afrika'da

Kafasında bir tek düşünce vardır:

En yavaş koşan ceylandan daha hızlı koşabilmek.

Yoksa açlıktan ölür.

Bu dizelerde, davranışlar üzerinde aşağıdakilerden hangisinin en az etkili olduğu söylenebilir?

- A) Toplumsal güdülerin B) Fizyolojik güdülerin
C) İçgüdülerin D) Aşırı uyarımların
E) Gereksinimlerin

8. • Bir müzisyenin notalar arasındaki uyumsuzluğu öncelikle algılaması
• Yolda Kızılderililer gibi giyinmiş bir kişinin hemen farkedilmesi
• Müşterilerin dikkatini çekmek için alışveriş merkezlerinin dönen fırıldaklarla süslenmesi

gibi örnekler, algının hangi özelliğiyle doğrudan ilişkilidir?

- A) Algıda değişmezlik B) Algıda organizasyon
C) Algıda seçicilik D) Algıda derinlik
E) Algıda tamamlama

9. Bir gencin yaz aylarında hem deniz kıyısında tatil yapmak, hem de geçici bir iş bulup para kazanmak istemesi psikolojide "yaklaşma-yaklaşma" çatışması olarak adlandırılır.

Buna göre, aşağıdakilerden hangisi "yaklaşma-yaklaşma" çatışması için uygun bir açıklama olabilir?

- A) Olumlu ve olumsuz güdülerin kişiyi aynı anda etkilemesi
B) Olumsuz güdülerin kişiyi farklı davranışlara yönlendirmesi
C) Farklı önem derecesine sahip güdülerin kişiyi kararsız bırakması
D) Önem dereceleri aynı olan olumlu güdülerin seçiminin kişiyi aynı anda etkilemesi
E) Kişinin yeterli ve gerekli bir güdülenmeden yoksun kalması

10. – Bir köpeğin sahibinin sesine yönelmeyi öğrenmesi klasik koşullanmaya,
– Bir bebeğin ağladığında kendisiyle ilgilenileceğini öğrenmesi edimsel koşullanmaya örnektir.

Buna göre, aşağıdakilerden hangisi bu iki öğrenme yöntemi arasındaki farklardan biri değildir?

- | <u>Klasik koşullanma</u> | <u>Edimsel koşullanma</u> |
|---|---|
| A) İstenilen davranış sistemli oluşur. | İstenilen davranış rastgele belirir. |
| B) Sadece ödül kullanılır. | Ödül ve ceza birlikte kullanılabilir. |
| C) İstenilen davranıştan önce ödül verilir. | İstenilen davranış gerçekleşirse ödül verilir. |
| D) Organizmanın aktifliğinin nedeni araştırmasıdır. | Organizmanın pasifliğinin nedeni kendisidir. |
| E) Organizma, şartlı bir uyarıcıya tepkide bulunur. | Organizma, ödülle götüren, sıkıntıdan kurtaran davranışı öğrenir. |

11. Araştırmacının, inceleyeceği konunun kapsamına giren olay ya da grubu hem nicelik hem de nitelik bakımından derinlemesine incelemesi, hangi sosyolojik araştırma tekniğiyle gerçekleşir?

- A) Monografi B) Anket
C) İstatistik D) Gözlem
E) Sosyometri

12. Bir sosyolog, üzerinde çalışacağı konuyu seçerken ya da araştırma yaparken sadece kendi dünya görüşünün, kişisel eğilim ve çıkarlarının, toplumsal konunun etkisi altında kalmaz. Aynı zamanda içinde yaşadığı toplum, sınıf ve gruplara özgü koşulların ve problemlerin de etkisini duyar.

Bu durum, toplumsal araştırmaların yürütülmesiyle ilgili olarak daha çok hangi güçlkle karşılaşılar?

- A) Araştırma için uygun yöntemlerin belirlenmesinde
B) Araştırma süresinin sınırlandırılmasında
C) Araştırma sonuçlarının değerlendirilmesinde
D) Benzer konudaki araştırmalardan yararlanılmasında
E) Araştırma sonucunda nesnel bilgilere ulaşılmasında

13. Vatandaşlık bir sosyal statüdür ve bu statüdeki kişilerden beklenen davranış ve tutumlara ise toplumsal rol denir.

Buna göre, toplumsal rolü statüden ayıran özellik aşağıdakilerden hangisidir?

- A) Bireyin sahip olduğu hak ve görevlerdir.
B) Kültüre göre farklılık gösterebilir.
C) Aktif hale gelmiş ve beklentilere uygun olan davranışlardır.
D) Bireyin kişiliğinden ayrı bir kavramdır.
E) Toplum sistemini oluşturan konumlardır.

14. Toplumsal değer ve rollerin birey tarafından kabul edilme sürecine toplumsallaşma denir.

Buna göre toplumsallaşmayla ilgili aşağıdaki yargılardan hangisi yanlıştır?

- A) Birey, toplum içinde kişilik kazanarak toplumsallaşır.
B) Toplumsal davranışlardaki etkin kurallar toplumsallaşmayı sağlar.
C) Birey, toplumun kendisinden beklediği davranışları öğrenmekle toplumsallaşır.
D) Toplumsallaşma kısa süreli bir öğrenme sürecidir.
E) Toplumsallaşma sonucu birey, toplum içinde görev alabilme yetkisi kazanır.

15. Nerede o eski köy günleri? Kış aylarında komşulara akşam oturmalarına gitmeler. Bütün mahalle erkeklerinin her akşam köy odası sohbetleri, birbirleriyle şakalaşmaları. Hani o bayram sabahlarını bir panayıra çeviren coşku ve hoşgörü? Herkesin büyükten küçüğe doğru bir sıra halinde oluşturdukları bayramlaşma halkaları. Bütün köylülerin birbirlerine bayram ziyaretinde bulunmaları...Şimdi ise bunların hiçbirisi yok.

Bu parçada, sosyal yaşamın özellikle hangi yönü üzerinde durulmaktadır?

- A) İnsan davranışlarını etkilemesi
B) İnsan ilişkilerinin sonucunda oluşması
C) Belirli kurallara dayanması
D) Doğa koşullarından etkilenmesi
E) Zaman içinde değişikliğe uğraması

16. Persons'un "Çocukların sosyalleşmesi ve yetişkinlerin kişiliklerini olgunlaştırma özelliklerini taşıyor." diye tarif ettiği çekirdek aile için, aşağıdakilerden hangisi söylenemez?

- A) Sanayi toplumlarının aile tipidir.
B) Eşitlikçi bir yapısı vardır.
C) Babanın otoritesi ön plandadır.
D) Aile üyeleri sayıca daha azdır.
E) Anne, baba ve evlenmemiş çocuklardan oluşur.

17. Modern tıbbın insanlara büyük sağlık olanakları meydana getirdiği günümüzde hâlâ kolu, bacağı kırıldığında kırıkçılara veya çıkıkçılara gidenlerin bulunması, aşağıdakilerden hangisine örnektir?

- A) Kültürleşmeye B) Kültürlenmeye
C) Kültür şokuna D) Kültürel çözülmeye
E) Kültürel gecikmeye

18. Sosyolojide, toplumsal değişmeyi açıklayan değişmez evrensel ilkelerden söz etmek nasıl mümkün değilse, toplumsal problemler için sürekli ve değişmez çözüm önerilerinden de söz etmek mümkün değildir. Bu bakımdan ütopyaların ve ideolojilerin sosyolojik bir değeri yoktur.

Bu açıklamanın temel dayanağı aşağıdakilerden hangisi olabilir?

- A) Toplumsal olayların, daha başka toplumsal olayların etkisiyle ortaya çıkması
B) Toplumsal değişmenin ve toplumsal problemlerin birden çok etkeninin olması
C) Toplumsal geleceğinin şekillenmesinde ve planlanmasında güçlük çekilmesi
D) Toplum yönlendirme girişim ve çabalarının yetersiz ve sonuçsuz kalması
E) Toplumda baş gösteren huzursuzlukların önüne geçilememesi

19. Propagandanın temel yöntemi, seçilmiş belirli bilgileri ve kalıpları insanların sevgi, nefret, korku gibi duygularına yönelecek biçimde ortaya koymak, iyi ve istenilir durumlarla bağlantısını kurmak; karşıt görüş ya da tutumları ise kötü göstermek, onları istenmeyen durumlardan uzak tutmaktır. Çağımızda, her türlü kavramsal düşünce kalıbının, propaganda yoluyla değiştirilebileceği ve yeniden biçimlendirilebileceği görülebilmektedir.

Buna göre, propagandanın toplumsal bakımdan temel işlevi aşağıdakilerden hangisi olabilir?

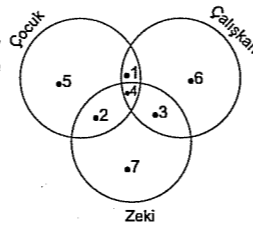
- A) Toplumsal değişmeyi hızlandırmak
B) Yenilikleri topluma benimsetmek
C) Toplumsal düzeni korumak
D) Kitlelerin tercihlerini etkilemek
E) Toplumda sapmaların önüne geçmek

20. • Aile, toplumun norm değerlerini yeni kuşaklara öğretir.
• Aile, üyelerinin maddi ve psikolojik gereksinimlerini karşılar.

Yukarıdaki verilenler ailenin daha çok hangi yönüyle ilgilidir?

- A) İşlevi B) Yapısı
C) Evrenselliği D) Tanımı
E) Gelişimi

21. Yandaki 2 nolu bölgeyi aşağıdaki önermelerden hangisi ifade eder?



- A) Bazı çocuklar zeki ve çalışkandır.
B) Bazı çocuklar zeki fakat çalışkan değildir.
C) Bütün zeki olanlar çalışkandır.
D) Bazı çalışkanlar zekidir fakat çocuk değildir.
E) Bazı çocuklar çalışkandır.

22. "Bütün öğrenciler insandır." önermesinin eşdeğeri aşağıdakilerden hangisidir?

- A) Hiçbir insan öğrenci değildir.
B) Her insan öğrencidir.
C) Bazı öğrenciler insandır.
D) Bazı insanlar öğrenci değildir.
E) Bazı insanlar öğrencidir.

23. "Sen sen ol, doğruyu söyle! Güç durumda kalmamak için değil, ne olursa olsun, zarar görse de, acı çeksen de doğruyu söyle..."

Yukarıda "Sen sen ol!" cümlesinde mantık ilkelerinden hangisi vurgulanmıştır?

- A) Üçüncü halin imkansızlığı
B) Özdeşlik
C) Çelişmezlik
D) Nedensellik
E) Değişmezlik

24. Önerme, iki veya daha fazla terimden oluşmuş yargı cümleleridir. Önermeler yargı bildirdiklerinden bir doğruluk değeri taşırlar; ayrıca her önermede terimleri birbirine bağlayan bir bağ olmalıdır.

Buna göre, aşağıdakilerden hangisi bir önerme değildir?

- A) Ne güzel bir akdeniz mavisidir.
B) Bazı kuşlar göçmendir.
C) Bazı insanlar şanslıdır.
D) $2+2=5$
E) Mantık doğal bir dildir.

25. Aşağıda bazı terimler ve çeşitleri eşleştirilmiştir.

Bu eşleştirmelerden hangisi doğrudur?

Tümel	Tikel	Tekli	Genel
A) Bitki	İstanbul bebekler	Bazı kediler	Bütün
B) İstanbul	Bitki bebekler	Bazı kediler	Bütün
C) Bütün kediler	Bazı kelekler	İstanbul	Bitki
D) Bazı bebekler	Bütün kediler	Bitki	İstanbul
E) Bütün kediler	Bitki	İstanbul	Bazı bebekler

26. Tüm aydınlar sorumludur.

Bazı sorumlu olanlar öğrencidir.

Öyleyse bazı sorumlu olanlar aydındır.

Bu hatalı kıyasta hangi kıyas kuralına uymamıştır?

- A) İki tiktelden sonuç çıkmaz.
B) Orta terim sonuçta bulunmamalıdır.
C) Sonuç öncüllerin zayıfına bağlanmalıdır.
D) Öncüller olumlu ise sonuç olumsuz olamaz.
E) İki olumsuzdan sonuç çıkmaz.

27.

p	q	$p \rightarrow q$
D	D	D
D	Y	Y
Y	D	D
Y	Y	D

Yukarıdaki doğruluk tablosuna göre aşağıdakilerden hangisi söylenemez?

- A) q önermesi tutarlıdır.
B) p önermesi tutarlıdır.
C) p ve q önermeleri birlikte tutarlıdır.
D) $p \rightarrow q$ önermesi geçersizdir.
E) q ile $p \rightarrow q$ önermeleri eşdeğerdir.

28. "Öğrenci okula gidiyor ve ders çalışıyorsa sınıfını geçer." önermesinin sembolik karşılığı, aşağıdakilerden hangisidir?

- A) $p \Rightarrow (q \wedge r)$
B) $(p \wedge q) \Rightarrow r$
C) $(p \Rightarrow q) \vee (p \Rightarrow r)$
D) $p \Leftrightarrow (q \wedge r)$
E) $(p \Rightarrow q) \wedge (p \Rightarrow r)$

29. Aşağıdaki önermelerden hangisi tümel evetleme biçiminde **değildir**?

- A) Mart ve Nisan ayları ilkbahar mevsimine aittir.
- B) Ali ile Hasan bugün bize gelecekler.
- C) Esra da Esmâ de terbiyeli öğrencilerdir.
- D) Ben bugün veya yarın size geleceğim.
- E) Ne şiş yansın ne de kebab.

30. I. Kedi sevimlidir.Fa

II. Her kedi hayvandır.∨xFx

III. Bazı kediler siyahtır.∃xFx

Yukarıdaki önermeler için aşağıdakilerden hangisi **söylenemez**?

- A) II. önerme tümel, basit ve genel bir önermedir.
- B) III. önerme bileşik ve genel bir önermedir.
- C) I. önermede herhangi bir niceleyici yoktur.
- D) II. önermede tümel niceleyici vardır.
- E) I. önerme basit ve tekil bir önermedir.

LYS-4 FELSEFE GRUBU BRANŞ DENEMESİ-9

Bu Testte;

10 Adet Psikoloji, 10 Adet Sosyoloji ve 10 Adet Mantık sorularından oluşan toplam 30 adet soru bulunmaktadır.

1. Freud'a göre, bugünkü davranışlara şekil veren geçmiş yaşantılardır. Örneğin Van Gogh; büyük yalnızlıkların, dev acıların, olağanüstü hüznünlerin ressamıdır.

Parçaya göre, Van Gogh'un bu yönüyle tanınmasının nedeni aşağıdakilerden hangisine bağlanabilir?

- A) Yapıtlarındaki sanat gücüne
- B) Yaşadığı acı ve ızdırabı dışı vurumuna
- C) Sempatik kişiliğine
- D) Kendini acındırma isteğine
- E) Yapıtlarına duyulan hayranlığa

2. – Edimsel koşullanmada organizma, istenen davranışları yaptığında ödüllendirilirken, istenmeyen davranışları yaptığında cezalandırılır. Böylece ödül ve ceza durumlarını yorumlayarak neyi yapıp neyi yapmaması gerektiğine karar verir. Sirk hayvanlarının eğitilmesi bu duruma örnektir.

– Klasik koşullanmada, organizmanın doğal olarak bir uyarıcıya verdiği tepki, o uyarıcıya bağlanan ve gerçekte tepkiyle bağlantısı olmayan başka bir uyarıcıya aktarılır. Pavlov'un deneyinde köpeğin et yerine zile tepki vermesi bu durumu örneklerdir.

Buna göre aşağıdakilerden hangisinde edimsel veya klasik koşullanmaya uygun bir örnek olamaz?

- A) Bir aslanın ateşli çember içinden atlamayı öğrenmesinde
- B) Bir farenin labirentteki yolu birkaç denemeden sonra bulmasında
- C) Müzik eşliğinde biberon verilen bebeğin, müziği her duyduğunda emme refleksi göstermesinde
- D) Bir kutu içindeki kolu her indirisinde peynir verilen farenin, kutuya konduğunda hemen kolu indirmesinde
- E) Müzik eşliğinde kızgın demir saç üzerine çıkarılan bir ayının, bu müziği her duyduğunda aynı tepkileri göstermesinde

3. Nesnelere bizden uzaklaştıkça gözümüzdeki görüntüleri küçülür. Örneğin, dünyadan kat kat büyük olan güneşi seyrettiğimizde, onu küçük bir ateş küresi gibi görürüz. Ancak güneşin boyutlarının gördüğümüz gibi küçük olmadığını biliriz.

Bu durum aşağıdaki kavramlardan hangisine örnektir?

- A) Algıda hazırlık
- B) Algıda seçicilik
- C) Algıda değişmezlik
- D) Algı yanıltması
- E) Algıda örgütlenme

4. Bir derste tahtaya yazı yazarken beyaz tebeşiri biten öğretmen, zorunlu olarak yazmaya mevcut kırmızı tebeşirle devam ettiği, bu arada bazı öğrencilerin de tahtadaki yazıları defterlerine geçirirken, öğretmenin başladığı yerden itibaren yazılarına kırmızı renkli kalemle devam ettikleri gözlenmiştir.

Öğrencilerde gözlenen bu durum, aşağıdakilerden hangisinin bir sonucu olabilir?

- A) Bazı davranışların pekiştirilmesiyle
- B) Benzer uyarıcılara benzer tepkiler verilmesiyle
- C) Belirli davranışlara karşı koşullanmayla
- D) Uyarıcıların farklı kişilerde aynı etkiyi oluşturmasıyla
- E) Davranışların model alınmasıyla

5. Hayvanat bahçesinde araştırmacılar kafeslerde sıkışık bir biçimde yaşayan maymunlar arasında birbirlerine zarar verici davranışların yaygınlaştığını, maymunlara yeterince geniş bir alan sağlandığında ise bu tür davranışlarda azalmaların olduğunu gözlemle-mişlerdir.

Bu gözlemlerde, etkisi incelenen faktör aşağıdakilerden hangisidir?

- A) Organik durum B) Fiziksel koşullar
C) Psikolojik durum D) Saldırganlık
E) Sinir sistemi

6. I. Bireyin hayata uyum sağlamasında öğrenmenin nasıl bir etkiye sahip olduğu
II. Öğrenme konusunda yapılmış deney ve araştırma sonuçlarının eğitimde nasıl kullanılacağı
III. En iyi veya en etkili öğrenme yollarının neler olduğu

Yukarıda belirtilen konular, psikolojinin hangi alt dalı ile ilgilidir?

- A) Sosyal psikoloji
B) Psikometrik psikoloji
C) Deneysel psikoloji
D) Eğitim psikolojisi
E) Endüstri psikolojisi

7. "Kusur, kusur bulanıdır." sözü, aşağıdaki savunma mekanizmalarından hangisini örneklendirmektedir?

- A) Bahane bulma
B) Ödünleme
C) Yansıtma
D) Özdeşim kurma
E) Pollyanna

8. Dünyayı rastgele bir araya gelmiş nesnelerin gelişigüzel dizildiği bir çevre olarak görmeyiz. Bize gelen bütün duyu verilerini derleyip, toparlayarak onlara belirli bir anlam veririz. Bu nedenle algı, kendisini oluşturan duysal verilerin toplamından daha fazla bir anlam taşır.

Bu açıklamada aşağıdakilerden hangisi vurgulanmıştır?

- A) Uyarıcıların yalnızca belirli bir kısmının seçilerek algılanması
B) Uyarıcıların, farklı görünümüler alsalar bile aynı şekilde algılanması
C) Uyarıcıların belirli bir bütünlük içinde örgütlenecek algılanması
D) Uyarıcıların kimi durumlarda duyu organlarının yetersizliği yüzünden yanlış algılanması
E) Uyarıcıların hareket halinde ve belirli bir sürekliliğe göre algılanması

9. Ödül ve davranış ilişkisi üzerinde çalışan bir psikolog, birbirine denk iki gruptan birinci gruptaki çocuklara zaten zevk alarak oynadıkları bir oyuna yeni pekiştirme düzeni getirmiş ve her oyundan sonra çocuklara "iyi oyuncu madalyası" adında bir ödül vermiştir. İkinci gruptaki çocuklara ise, hiçbir ödül vermemiş, sadece oyuna devam etmelerini sağlamıştır. Bir süre sonra, ödül verilen grubun bu oyundan artık zevk almadığını ve ödül verilmediğinde oyuna devam etmek istemediklerini; kendi hallerine bırakılan çocukların ise, yine zevkle oyun oynadıklarını ve oyunun kendisinin onlar için pekiştirme rolü oynadığını gözlemiştir.

Bu araştırmadan çıkarılabilecek en doğru sonuç aşağıdakilerden hangisidir?

- A) Davranışı pekiştirmek için ödül vermek gerekir.
B) Gereksiz durumlarda ödüllendirme, olumsuz sonuçlar verebilir.
C) Bir davranış, kendisine uygun koşullardan bağımsızdır.
D) Pekiştirme yapmadan bir davranışı geliştirmek mümkün değildir.
E) Her kalıcı öğrenme, bir ödüllendirmenin sonunda ortaya çıkar.

10. Pensilvanya'da bir baba, hasta kızına böbreğini vermek için altı ayda kırkbeş kilo zayıflama başarısı göstermiştir.

Bu babanın zayıflayabilmesini sağlayan faktör aşağıdakilerden hangisidir?

- A) İçgüdü
B) Yetersiz uyarılma
C) Dengeleme
D) Güdülenme
E) Duyarsızlaşma

11. Sosyolojinin görevi, gözlenileni saptamak, değişme ve gelişmenin etkenlerini bulmaktır.

Yukarıda verilen bilgi doğrultusunda, aşağıdakilerden hangisi sosyolojinin görevleri arasında yer almaz?

- A) Önyargılardan uzak durmak
B) Toplumdaki gelişmeleri saptamak
C) En iyi toplum biçimini bulmak
D) Toplumsal değişimleri incelemek
E) Gözlenebilir olanı incelemek

12. Bir insan evde baba, fabrikada müdür, dernekte arkadaş olduğu halde; girdiği değişik gruplarda nasıl davranacağı konusunda bocalayabilir ve her yerde müdür gibi davranabilir.

Bu durum aşağıdakilerden hangisine neden olabilir?

- A) Toplumsal çözülmeye
B) Dikey hareketliliğe
C) Statü değiştirmeye
D) Rol çatışmasına
E) Kültürleşmeye

13. Toplumun ortak inanç ve davranışlarını yansıtmayan davranışlardır. Bu duruma parayı yırtma, ormanları yakma, kız kaçırma, içkil araba kullanma örnek olarak verilebilir.

Parçada verilen davranış biçimleri, aşağıdakilerden hangisi için uygun bir örnek olabilir?

- A) Toplumsal kontrol
B) Toplumsal değerler
C) Toplumsal normlar
D) Toplumsal sapma
E) Toplumsal olay

14. İçerisinde yaşadığımız dünyadaki fizik yasaları her toplumda aynıdır. Oysa sosyolojinin topluma ilişkin kurduğu nedensellik ilişkileri her toplum için şaşmaz bir kesinlik taşımaz. Bu durum, sosyolojinin fizik bilimi kadar gelişmemiş olmasından dolayı değil, toplumsal olguların çok faktörlülüğünden kaynaklanır. Bunun yanında hiçbir toplum birbirinin aynı olmadığı gibi her toplum da sürekli bir değişim içerisindedir.

Buna göre aşağıdakilerden hangisine ulaşmaz?

- A) Toplumların farklı yapılara sahip olması, kesinlik taşıyan genellemelere ulaşılmasını engeller.
B) Sosyolojide nedensellik ilişkileri, doğa bilimleri ölçüsünde bir kesinliğe sahip değildir.
C) Sosyolojide güvenilir bilgilere ulaşmak, doğa bilimlerinin yöntemini kullanmakla mümkündür.
D) Toplumsal olgular çok sayıda faktörün etkisi altındadır.
E) Toplumsal yapı dinamik bir gerçekliğin ürünü olarak sürekli değişkenlik gösterir.

15. "Bir futbol takımında kötü oynayan bir oyuncu tüm takımı etkiler." diyen bir sosyologun, aşağıdakilerden hangisini savunması beklenir?

- A) Statü toplumda zamanla kazanılır.
B) Toplumsal ilişkiler zaman içerisinde farklılaşır.
C) Grup üyeleri arasında hiçbir ilişki yoktur.
D) Toplumsal normlar insanlar arası ilişkileri belirler.
E) Toplumsal yapının öğeleri birbirleriyle ilişkili içindedir.

16. Müslümanlar domuz, Hindular inek, Yahudiler ise kabuklu hayvan etini dinsel nedenlerinden dolayı yemezler. Bu sayılan etlerin o toplulukların içinde değişim değeri yoktur.

Buna göre, bir malın değişim değerinin belirlenmesi aşağıdakilerden hangisine bağlıdır?

- A) Sağladığı faydaya
- B) Malın az olmasına
- C) Talebin çok olmasına
- D) Harcanan emeğe
- E) Toplumsal inançlara

17. I. Üretim ve bölüşüm ilişkilerini düzenleme

II. Toplumsal düzeni sağlama

III. Toplumda ihtiyaç duyulan mesleklere insan yetiştirme

IV. İnsanların manevi inançlarına karşılık verme

Yukarıdaki verilen işlevleri yerine getiren kurumlar, aşağıdakilerden hangisinde doğru sıralanmıştır?

- A) Devlet - Eğitim - Ekonomi - Aile
- B) Ekonomi - Aile - Eğitim - Din
- C) Devlet - Ekonomi - Din - Eğitim
- D) Eğitim - Devlet - Aile - Din
- E) Ekonomi - Devlet - Eğitim - Din

18. Evlilik biçimlerinin bu denli çok ve farklı olmasının kökeninde toplumun gereksinimleri yatar. Örneğin, poligami, toplumda kadın ya da erkek nüfusunun dengesinin bozulması sonucu ortaya çıkmıştır. Endogami, mirasın bölünmemesi ve aile dışına çıkmaması gibi zorunluklar sonucu doğmuştur.

Bu açıklama aşağıdakilerden hangisi ile bağdaşmaz?

- A) Bir toplumun evlilik biçimini o toplumun gereksinimleri belirler.
- B) Evlilik, toplumun ekonomik sisteminden bağımsız düşünülemez.
- C) Evlilik biçimlerini belirleyen en önemli faktör bireylerin istek ve düşünceleridir.
- D) Bir toplumda aile kuracak insanlar kendilerini toplumun beklenti, değer ve ihtiyaçlarından soyutlayamazlar.
- E) Evlilik biçimlerinin oluşumunda kadın ve erkek nüfusun çokluğu ya da azlığı belirleyici olmaktadır.

19. "Kız anadan öğrenir sofrayı düzmeyi,

Oğlan babadan öğrenir sohbet gezmeyi."

Çankırı yöresindeki yaren kültürünü yansıtan bu halk deyişi, kültürle ilgili aşağıdaki kavramlardan hangisini örneklemektedir?

- A) Kültürel yayılmayı
- B) Kültürleşmeyi
- C) Kültürel çözümü
- D) Kültürlenmeyi
- E) Kültürel yozlaşmayı

20. Baskı yoluyla toplumsal değişimde hedeflenen değişimlere kısa yoldan ulaşmak amaçlanır. Bu nedenle amaca ulaşmak için her yol meşru sayılır, hatta toplumun bir kısmı "yola gelmeyecekleri" düşüncesiyle gözden çıkarılır.

Paragrafa göre aşağıdaki yargılardan hangisine ulaşılabilir?

- A) Toplumsal sorunlara en uygun ve demokratik çözümler getirmek amaçlanmıştır.
- B) Toplumsal yozlaşmayı önlemeye yönelik hedeflere öncelik verilmiştir.
- C) Toplumsal yapıda sınıf farklılıkları azaltılmaya çalışılmıştır.
- D) Değişim, bireyin temel haklarına aykırı uygulamalarla gerçekleşmiştir.
- E) Toplumsal değişim yavaş ve aşamalı bir şekilde gerçekleşmiştir.

21. I. Takım, II. İnsan, III. Özgürlük, IV. Memur

Yukarıdaki kavram çeşitleri sırasıyla, aşağıdakilerden hangisinde doğru olarak verilmiştir?

- A) Distribütif - Somut - Soyut - Genel
- B) Kollektif - Somut - Soyut - distribütif
- C) Distribütif - Soyut - Somut - Genel
- D) Soyut - Kollektif - Somut - distribütif
- E) Kollektif - Soyut - Somut - Tekil

22. "Bazı tokalar renklidir." önermesinin çelişğinin karşıtı, aşağıdakilerden hangisiyle aynıdır?

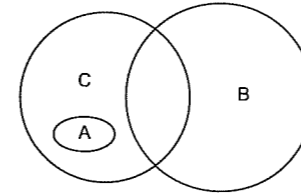
- A) Önermenin altlığı ile
- B) Önermenin karşıtı ile
- C) Önermenin çelişğı ile
- D) Önermenin düz döndürmesi ile
- E) Önermenin ters döndürmesi ile

23. "Bütün balıklar suda yaşar." ifadesi bir önermedir. "Balina da bir balık olduğuna göre o halde balina da suda yaşar." ifadesi bir çıkarımdır.

Buna göre, bir çıkarım oluşturmak için öncelikle aşağıdakilerden hangisi gereklidir?

- A) Bir yargıyı kanıtlamak
- B) Bir olumlu önerme oluşturmak
- C) Bir doğruluk çizelgesi hazırlamak
- D) Bir olumsuz önermeyi olumlu hale getirmek
- E) Öncüllerden sonuca ulaşmak

24.



Yukarıdaki diyagrama göre aşağıdakilerden hangisi söylenemez?

- A) Bazı C'ler B değildir.
- B) Bazı C'ler A değildir.
- C) Hiçbir A, B değildir.
- D) Bütün C'ler B dir.
- E) Her C, B değildir.

25. Tümel bir kavramın; sadece zihindeki varlığının, yani anlamının dikkate alınması "nelik"; o kavramın zihin dışında gösterdiği varlığa "gerçeklik"; gerçekliği olan kavramın belirli bir nesnede somutlaşmasına ise "Kimlik" denir.

Buna göre;

- I. Deniz
- II. Deniz kızı
- III. Karadeniz

kavramları, aşağıdakilerden hangisinde doğru olarak verilmiştir?

	I	II	III
A) Kimlik		Nelik	Gerçeklik
B) Kimlik		Gerçeklik	Nelik
C) Nelik		Kimlik	Gerçeklik
D) Gerçeklik		Nelik	Kimlik
E) Gerçeklik		Kimlik	Nelik

26. I. Normatif olma

- II. Neden - sonuç ilişkisine dayanma
- III. Var olanla ilgilenme
- IV. Diğer bilimlere kaynaklık etme

Yukarıdakilerden hangileri mantığın özellikleri ile ilgilidir?

- A) I ve III
- B) II ve IV
- C) II ve III
- D) I ve IV
- E) III ve IV

27. Aşağıdaki önermelerin hangisinde koşul eklemi (⇒) vardır?

- A) Hem tatil yapacağım hem de para kazanacağım.
- B) Falcılardan ve büyücülerden medet umanlar hala var.
- C) Dünyada olup biteni öğrenmek istersen internete girmen yeterlidir.
- D) Ya öğretmen olacağım ya da doktor olacağım.
- E) Gerçek mutluluk ancak ve ancak fedakarlığın anlamını bilmekle yaşanır.

28. $p = Y$
 $q = Y$
 $r = D$
 olması durumunda aşağıdaki önermelerden hangisi "doğru" (D) değerini alır?

- A) $r \Rightarrow (p \wedge q)$
 B) $(p \wedge q) \Rightarrow r$
 C) $(p \wedge q) \wedge r$
 D) $r \Rightarrow (p \vee q)$
 E) $(p \wedge q) \vee q$

29. I. Havalarda kurak giderse, barajlardaki su seviyesi düşer. ($p \Rightarrow q$)
 II. Barajlarda su seviyesi düşerse, halk su sıkıntısı çeker. ($q \Rightarrow r$)

öncüllerinden ulaşılabilecek sonuç, aşağıdakilerden hangisidir?

- A) Havalarda kurak giderse, halk su sıkıntısı çekmez. ($p \Rightarrow \sim r$)
 B) Barajlardaki su seviyesi düşer ama halk su sıkıntısı çekmez. ($q \wedge \sim r$)
 C) Havalarda kurak gitmezse, barajlardaki su seviyesi düşer. ($\sim p \Rightarrow q$)
 D) Havalarda kurak giderse, halk su sıkıntısı çeker. ($p \Rightarrow r$)
 E) Barajlardaki su seviyesi düşmezse halk su sıkıntısı çeker. ($\sim q \Rightarrow r$)

körfez YAYINLARI

30. İçerisinde değişken bulunan veya bir değişkene sahip olan önermeler açık önerme olarak nitelendirilir. "X, başkenttir.", " $z > 3$ ", "y, z'den büyüktür." gibi.

Buna göre, açık önermeler aşağıdakilerden hangisine sahip değildir?

- A) Değişken
 B) Yükleme
 C) Yargı
 D) Terim
 E) Doğruluk değeri

LYS-4 FELSEFE GRUBU BRANŞ DENEMESİ-10

Bu Testte;

10 Adet Psikoloji, 10 Adet Sosyoloji ve 10 Adet Mantık sorularından oluşan toplam 30 adet soru bulunmaktadır.

1. Aşağıdakilerden hangisi algıda seçiciliğe uygun bir örnek olabilir?
- A) Aynı doğrultuda ve büyüklükteki telefon direklerinin bizden uzaklaştıkça küçülüyormuş gibi algılanması
 B) Duvar saatinin sesine alışıldığında, bir süre sonra tıkırtısının duyulmaması
 C) Bir resme baktığımızda tek tek çizgiler, noktalar veya renkler yerine resmin bütününe algılanması
 D) Yol yapım çalışmalarında yanıp sönen ışıkların kullanılması
 E) Televizyonda insanların ekran boyutunda görünmesine rağmen, gerçek boyutlarında algılanması

3. Otobanda giden sürücüler, çok hızlı gitmelerine rağmen, hız göstergelerine bakmadan hızlarının saatte kaç kilometre olduğunu kestirememektedirler.

Bu durumun nedeni aşağıdakilerden hangisidir?

- A) Algılamadaki ipuçlarının yetersizliği
 B) Sürücü deneyimlerinin yetersizliği
 C) Sürücülerin duydukları aşırı güven
 D) Hallüsinasyon
 E) Algıdaki derinlik etkisi

2. Yaşantı ya da tekrarlar sonucu organizmanın davranışlarında oldukça uzun süreli olarak meydana gelen değişiklikler öğrenme olarak tanımlanabilir.

Buna göre, aşağıdakilerden hangisi bir öğrenme örneği değildir?

- A) Bir bireyin satranç oynayabilmesi
 B) Duygulanana birinin gözlerinin yaşarması
 C) Tansiyonu düşük olan kişinin tuzlu ayran içmesi gerektiğini bilmesi
 D) Bir çocuğun çeşitli tekrarlarından sonra bilgisayarın açma tuşunu bulabilmesi
 E) Hayatında ilk kez kokteyle katılan bir kişinin herkes nasıl davranıyorsa öyle davranması

4. "Bir musibet bin nasihattan daha iyidir." atasözünü, öğrenme açısından değerlendirdiğimizde aşağıdaki sonuçlardan hangisine ulaşılabilir?

- A) İnsanların bazı şeyleri anlayabilmelerinde başlarına her zaman olumsuzluklar gelmesini beklemek gerekir.
 B) İnsanlara bazı durumları öğretebilmek için onlara sürekli öğüt vermek gerekir.
 C) İnsanların öğrenmelerinde yaşantıların etkisi yadsınamayacak derecede önem taşımaktadır.
 D) İnsanların öğrenmelerinde felaketler her zaman etkili unsurlar olarak karşımıza çıkmaktadır.
 E) İnsanların davranış kazanmalarında felaketlerle birlikte öğüt verilmesinin yararı büyüktür.

körfez YAYINLARI

5. Kişinin kendinde bulunan olumsuz özellikleri başkalarında var gibi göstererek rahatlamasına "yansıtma" denir.

Buna göre, aşağıdakilerden hangisinde yansıtma mekanizması örneklendirilmiştir?

- A) Bencil ve cimri olan bir bireyin herkesi bencillikle suçlaması
B) Öğretmenine öfkelenen bir öğrencinin ödev kağıdını yırtarak rahatlaması
C) Gençler arasında çok moda olan bir ayakkabıyı parası olmadığı için alamayan bir gencin "Markalardan nefret ediyorum." demesi
D) Ekonomik sıkıntı çeken bireyin çok büyük bir mirasa konduğunu ve bununla neler yapacağını düşünmesi
E) Parasını kullanmayı bilmediği için herkese borçlanan bir kişinin "Borç yiğidin kamçısıdır." demesi

7. Bir araştırmada, zor durumda kaldığını belirterek telefonda yardım isteyen bir deneğe, ona yardım edebilecek sadece kendisinin olduğunu düşünen deneklerin %85'i yardım etmişlerdir. Kendisinin dışında başka yardım edebileceklerin de olduğunu düşünen deneklerde ise yardım etme davranışı %31'e düşmüştür.

Bu örnek, yardım etme davranışı üzerinde aşağıdakilerden hangisinin etkili olduğunu göstermektedir?

- A) Sosyal etkinin
B) Yüzyüze olmanın
C) Yetersiz uyarımın
D) Söz birliğinin
E) Özverili olmanın

6. Bir grup psikolog, televizyondaki reklam filmlerinin izleyiciler üzerinde nasıl bir etki bıraktığını araştırmak amacıyla, her bakımdan birbirine denk 10'ar aileden oluşan iki grup aile üzerinde altı ay süren bir araştırma yapmıştır. Araştırma sonunda bu ailelerin çoğunun üzerinde, televizyona en çok reklam veren firmanın diğer firmalardan daha etkili olduğu ortaya çıkmıştır.

Buna göre, bu araştırmada aşağıdaki değişkenlerden hangileri arasındaki ilişki üzerinde durulmuştur?

- A) Reklam filmlerinin sayısı - İzleyici davranışı
B) İzleyici davranışı - Ailelerin sayısı
C) Ailelerin sayısı - Reklam filmlerinin sayısı
D) Reklam filmlerinin sayısı - Araştırma süresi
E) Reklam filmlerinin yayın süresi - İzleyici davranışı

8. "Şair Baki'yi sırf Davud'u sevdiğim için sevdim. Neden mi? Sesi çok güzeldi ve bana hep Davud Peygamberi hatırlatırdı. Bu güzel sesli Elçi'yi düşünürken de Bâ-ki'nin "Avazeyi bu aleme Davud gibi sal / Bâki kalan bu kubbede bir hoş sâda imiş." beyti gelirdi aklıma.

Parçada sözü edilen durum, aşağıdaki kavramlardan hangisi ile açıklanabilir?

- A) Fiziksel illüzyon
B) Öğrenmede olgunlaşma
C) Çağrışımlı düşünme
D) Yaratıcı düşünme
E) Geriye ket vurma

9. İnsanı anlamak istiyorsak, sadece gözlenebilen davranışlarıyla yetinemeyiz. Esas olan insan davranışlarının gerisindeki yönelimleri, istekleri, bilinçaltını çözümleyebilmektir.

Bu görüşte olan bir psikolog, aşağıdaki yaklaşımlardan hangisini temsil etmektedir?

- A) Psikodinamik yaklaşım
B) İşlevselci yaklaşım
C) Bütüncü yaklaşım
D) Yapısalcı yaklaşım
E) Davranışçı yaklaşım

10. Bir deneyde, bir farenin tahta bir yol boyunca giderek yolun sonundaki yiyeceğe ulaşması öğretilmiştir. Farenin bu davranışı iyice öğrenmesi sağlandıktan sonra, ikinci aşamada yiyeceği yerken fareye elektrik şoku verilmiştir. Üçüncü aşamada fare yeniden tahta yola konulduğunda, farenin önce yiyeceğe doğru yaklaştığı, sonra durup geri döndüğü gözlenmiştir. Sonra fare tekrar yiyeceğe yönelmiş ancak bu defa da korkup geri dönmüştür. Farenin davranışı deney boyunca yolun sonuna her yaklaşmasında bir ileri, bir geri salınım göstermiştir.

Farenin bu deneyde yaşadığı çatışmanın nedeni aşağıdakilerden hangisidir?

- A) Farenin uyarıcı karşısındaki güdülenme eksikliği
B) Fareye kazandırılmış davranışın yeterince pekiştirilmemiş olması
C) Uyarıcının, fare için hem çekici hem itici öğeler içermesi
D) Farenin uyarıcıdaki değişikliği fark edememiş olması
E) Uyarıcının fare için tamamıyla olumlu özellikler taşıması

11. Ülkemizde okuma yazma oranını tespit etmek amacıyla araştırmacılar, çeşitli bölgelerden seçilmiş kişilere önceden hazırlanmış soru kağıtlarını dağıtarak cevaplamalarını sağlamışlardır. Araştırma sonucunda, halkın %10'unun kitap, %20'sinin dergi, %30'unun da gazete okuduğu saptanmıştır.

Bu araştırmada kullanılan teknikler, aşağıdakilerden hangisinde doğru olarak sıralanmıştır?

- A) Monografi - Anket - İstatistik
B) İstatistik - Görüşme - Anket
C) Örneklem alma - Anket - İstatistik
D) Gözlem - Örneklem alma - Görüşme
E) Monografi - Örneklem alma - İstatistik

12. Aşağıdakilerden hangisi toplumsal kurumların özelliklerinden biri değildir?

- A) Bireylerin psikolojik durumlarını çözümleyip, açıklama yapmaları
B) Birbirleriyle sürekli ilişki içinde olmaları
C) Toplumdaki bireylerin çeşitli alanlardaki gereksinimlerinden doğmaları
D) Toplumsal gereksinimleri karşıladıkları oranda gelişme sağladıkları
E) Değişme hızlarının birbirlerinden farklı olmaları

13. Çağımızda: "Gezmesek de görmesek de o köy bizim köyümüzdür." anlayışı geçerliliğini yitirmiştir. Çünkü ülkemizin her yerinde ilköğretimlerle eğitim ve öğretim hizmetinin verilmesiyle, bir başka deyişle o köyde ulusal eğitim bayrağını açmakla, o köy bizim köyümüz olmaktadır.

Bu açıklamada eğitimin özellikle hangi işlevi vurgulanmaktadır?

- A) Uluslararası kültürel değerlerin yayılmasında rolü olduğu
B) Bireylerin yukarı doğru dikey hareketliliğini sağladığı
C) Toplumsal bütünleşmenin en önemli aracı olduğu
D) Yaşama ilişkin temel bilgi ve becerileri kazandırdığı
E) Ekonominin gereksinim duyduğu eğitilmiş iş gücünü sağladığı

14. Sosyoloji, belli bir toplumun belli bir zamanını değil, genel anlamda toplumu anlama ve açıklama çabasıdır. Ancak, sosyolojinin A.B.D'de, Almanya'da, Türkiye'de öncelik verdiği konular ve bu konulara yaklaşımı birbirinden farklılık gösterebilir.

Bu durumun nedeni olarak aşağıdakilerden hangisi öne sürülebilir?

- A) Sosyolojinin her toplumda aynı konuları ele alması
B) Sosyolojinin, içinde bulunan toplumun kültüründen etkilenmesi
C) Sosyolojinin nesnel yöntem ve teknikler kullanması
D) Sosyolojinin daha yeni gelişen bilim dallarından biri olması
E) Sosyolojinin evrensel kabul edilen değerleri incelemesi

15. H. Spencer, sosyal değişmeyi "faydalı bir zorunluluk" olarak tanımlar.

Bu durum, toplumsal değişimin hangi özelliğini dile getirmektedir?

- A) Demokrasiye dayandığını
B) Zararlı etkilerinin olabileceğini
C) Toplumlara göre farklı hızlarda oluştuğunu
D) Toplamlar için gerekli olduğunu
E) Toplum yapısının oluşmasında rol almadığını

16. Mekanik dayanışma, toplumda verilmiş statüleri birbirine benzeyen, yani ortak duygu, düşünce ve ülküleri sahip olan insanlar arasındaki dayanışmayı ifade eder. Bu tür dayanışmanın görüldüğü toplumlarda her birey diğerinin yerine geçebilir, aynı işi yapabilir. İş bölümü ise yaşa ve cinsiyete bağlıdır.

Buna göre, aşağıdaki özelliklerden hangisi mekanik dayanışma için söylendiğinde yanlış olur?

- A) Bireyler arasındaki farklılaşma azdır.
B) Ben duygusu egemendir.
C) Dayanışma ve yardımlaşma fazladır.
D) İlişkiler sıcak ve dostçadır.
E) Sanayi öncesi toplumlarda daha yaygındır.

17. I. Bir memurun bakan olması

II. Bireylerin yaşadıkları toplumun kültürünü kazanması

III. Karşılıksız çek verenlerin toplumdan dışlanması

Yukarıda verilen örnekler sırasıyla aşağıdakilerden hangisinde doğru olarak gösterilmiştir?

- A) Yatay hareketlilik - Toplumsallaşma - Rol çatışması
B) Dikey hareketlilik - Prestij - Toplumsal kontrol
C) Yatay hareketlilik - Rol çatışması - Prestij
D) Dikey hareketlilik - Toplumsallaşma - Sosyal kontrol
E) Dikey hareketlilik - Prestij - Toplumsallaşma

18. Eskimolar buzdolabını yiyeceklerinin donmaması için kullanırken, biz yiyeceklerin dışarıda bozulmaması için kullanırız.

Bu parçaya göre, teknolojinin değişik şekillerde kullanılmasının sebebi aşağıdakilerden hangisidir?

- A) Her toplumun kendine has bir kültürünün olması
B) Kültürün fiziki çevre koşullarından etkilenmesi
C) İnsanların kültürü oluşturmaları ve kültürden etkilenmesi
D) Kültürsüz toplumun olmaması
E) Kültürün maddi ve manevi unsurlardan etkilenmesi

19. Temel işlevi, bireylerin toplumsal düzenin gereklerine uygun davranmalarını sağlamak ve toplumsal ilişkilerin belirli bir düzen içerisinde gerçekleşmesini sağlamak olan mekanizma, aşağıdakilerden hangisidir?

- A) Toplumsal kurum B) Toplumsal kontrol
C) Toplumsal kategori D) Toplumsal çözülme
E) Toplumsal statü

20. Bütün toplumlarda, özellikle teknolojinin uygulanabildiği alanlarda değişme hızı çok yüksektir. Örneğin, evimizde kullandığımız çamaşır makinesi, elektrik süpürgesi gibi araçlar son yirmi yılda büyük değişikliklere uğramış, bilgisayar ve cep telefonları son beş yılda her eve hatta her bireye, tüm dünyaya anında ulaşma olanağı sağlamıştır. Oysa aynı değişme hızını hukukta, siyasette hatta bu yenilikleri birebir kullanan ailelerde görebilmek olası değildir.

Parçada vurgulanan temel düşünce, aşağıdakilerden hangisidir?

- A) Kurumların değişme hızının her toplumda aynı süreci izlediği
B) Toplumun farklı alanlarındaki değişmelerin uyumlu olduğu
C) Toplumsal kurumların hiçbir etkiyle hiçbir zaman değişmediği
D) Ailenin en zor değişen toplumsal kurum olduğu
E) Toplumsal yapıdaki değişmelerin her kurumda farklı hıza sahip olduğu

21. Bir şey aynı zamanda hem kendisi, hem de kendisinden başka bir şey olarak kabul edilemez. "Bazı insanlar hem akıllıdır, hem de akıllı değildir." demek kabul edilemeyecek bir yargıdır.

Parçada hangi akıl ilkesinden söz edilmektedir?

- A) Özdeşlik B) Sebeplilik
C) Çelişmezlik D) Amaçlılık
E) Üçüncü halin olanaksızlığı

22. Aşağıdakilerden hangisi yüklem, özne hakkında yeni bir bilgi verdiği sentetik bir önermedir?

- A) Dünya portakal gibidir.
B) Hiçbir bekar evli değildir.
C) Hayvan, hayvandır.
D) Daire yuvaraktır.
E) Üçgen üç köşesi olan şekildir.

23. Kıyas kurallarına göre, öncüllerinden biri tümel olumlu, sonucu da tikel olumsuz olan geçerli bir kıyasın ikinci öncülü ne olmalıdır?

- A) Tümel olumlu B) Tümel olumsuz
C) Tikel olumlu D) Tikel olumsuz
E) Tekil olumlu

24. Her tutarlı önerme geçerli değildir, fakat her geçerli önerme tutarlıdır.

Önermesi, kavramalar arası ilişkilerden hangisini örneklemektedir?

- A) Eksik girişimlilik B) Karşıtlık
C) Tam girişimlilik D) Ayrıklık
E) Eşitlik

25. Karşı olma ilişkisine göre aşağıdakilerden hangisi doğru değildir?

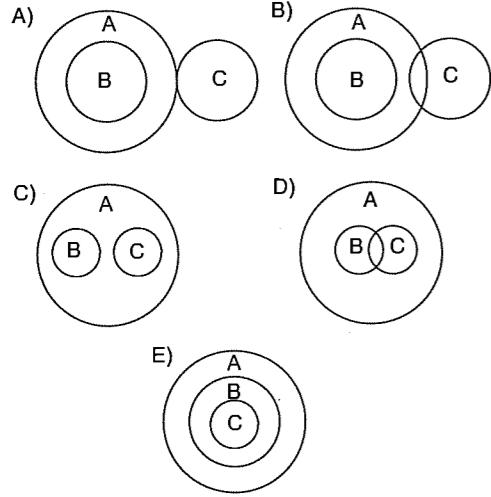
- A) Sadece nitelikleri farklı olan önermeler karşıttır.
B) Altık önermelerde tümel önerme yanlış ise tikel önerme doğru veya yanlış olabilir.
C) Alt karşıt önermelerde tikel olumlu doğru ise tikel olumsuz kesinlikle yanlış olur.
D) Sadece nicelikleri farklı olan önermeler altıktır.
E) Üst karşıt önermelerde tümel olumlu doğru ise tümel olumsuz yanlış olur.

26. I. A terimi B teriminin içlemindedir.

II. C terimi A teriminin kaplamındadır.

III. B ve C terimleri arasında "tam girişimlilik" ilişkisi vardır.

Yukarıda verilen önermeleri ifade eden diyagram aşağıdakilerden hangisinde doğru olarak verilmiştir?



27. Dünya gezegendir.

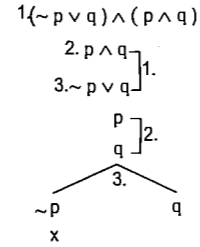
Dünya yuvaraktır.

Dünya sonludur.

Yukarıda verilenlere göre "Dünya hem gezegen, hem yuvarlak hem de sonludur." önermesinin doğru olması, aşağıdaki değerlerin hangisini almasına bağlıdır?

- A) p doğru, q yanlış, r yanlış
B) p doğru, q doğru, r doğru
C) p yanlış, q doğru, r doğru
D) p yanlış, q doğru, r yanlış
E) p yanlış, q yanlış, r yanlış

28. $(\sim p \vee q) \wedge (p \wedge q)$



Yukarıda çözümleyici çizelgeyle denetlemesi yapılan $(\sim p \vee q) \wedge (p \wedge q)$ önermesi için, aşağıdakilerden hangisi söylenebilir?

- A) Tutarsızdır.
B) Tutarlıdır.
C) Geçerlidir.
D) Hem tutarlı hem de geçerlidir.
E) Tutarsız ama geçerlidir.

körfez YAYINLARI

29. p, tutarsız bir önerme,

$\sim q$, geçerli bir önermedir.

Buna göre aşağıdakilerden hangisi yanlıştır?

- A) $\sim p$ önermesi hem tutarlı, hem de geçerlidir.
B) p ve q önermeleri eşdeğerdir.
C) q önermesinin hiçbir doğru yorumu yoktur.
D) p önermesinin hiçbir doğru yorumu yoktur.
E) p önermesi açık bir önermedir.

30. "Bütün kuşlar kanatlıdır." $(\forall xKx)$

önermesinin eşdeğeri aşağıdakilerden hangisidir?

- A) Hiçbir kuş kanatlı değildir. $(\forall x\sim Kx)$
B) Bütün kuşların kanatlı olduğu doğru değildir. $(\sim\forall xKx)$
C) Bazı kuşlar kanatlıdır. $(\exists xKx)$
D) Bazı kuşlar kanatlı değildir. $(\exists x\sim Kx)$
E) Bazı kuşların kanatlı olmadığı doğru değildir. $(\sim\exists x\sim Kx)$

LYS-4 FELSEFE GRUBU BRANŞ DENEMESİ-11

Bu Testte;

10 Adet Psikoloji, 10 Adet Sosyoloji ve 10 Adet Mantık sorularından oluşan toplam 30 adet soru bulunmaktadır.

1. "Bireyin dünyayı ve kendini anlamasını sağlayan şey, bireysel birikimleridir. Bu nedenle öncelikle incelenmesi gereken zihinsel gelişim süreçleridir. Bireyin zihinsel gelişim süreçlerini incelemek için, bu süreçler ile davranışlar arasındaki ilişki neden-sonuç bağlamında ele alınmalıdır." diyen bir psikoloğun savunduğu yaklaşım ve kullandığı yöntem sırasıyla aşağıdakilerin hangisinde doğru olarak verilmiştir?

- A) İşlevselci yaklaşım - Gözlem
B) Davranışsal yaklaşım - Empati
C) Bütüncül yaklaşım - Tümdengelim
D) Bilişsel yaklaşım - Deney
E) Yapısalcı yaklaşım - İçebakış

3. - Yağmurdan kaçarken doluya tutulmak.
- Denize düşen, yılanı sarılır.
- Aşağı tükürsem sakal, yukarı tükürsem bıyık.

Yukarıda verilen ifadeler bireyin ruh sağlığıyla ilgili aşağıdaki durumlardan hangisini anlatmak için kullanılabilir?

- A) Yaklaşma-yaklaşma çatışmasını
B) Kaçınma-kaçınma çatışmasını
C) Yaklaşma-kaçınma çatışmasını
D) Savunma mekanizmalarını
E) GÜdülenmiş davranışların engellenmesini

körfez YAYINLARI

2. "Eğer bir çocuk desteklenip yüreklendirilmişse, kendine güven duymayı, eğer kabul ve onay görmüşse kendini sevmeyi öğrenir." görüşünü öne süren bir psikolog, kişilik gelişiminde aşağıdakilerden hangisinin daha etkili olduğunu savunmaktadır?

- A) Toplumsal çevrenin
B) Kalıtımın
C) Beslenmenin
D) Zekanın
E) Ekonomik durumun

4. Bazı psikologlar, konuşurken bir kısım harfleri yanlış çıkaran çocukların bu durumuna neden olan temel etkenin harflerin yanlış kullanımından sonra bu durumdan keyif alan büyüklerin onlara gülümseyerek gösterdiği davranış olduğunu öne sürerler. Böylece yetişkinler, çocuklara olumlu tepki göstererek, farkında olmadan çocukların yanlış davranışı tekrar etme olasılığını artırmış olurlar.

Bu parçada, aşağıdaki kavram çiftlerinden hangileri örneklendirilmiştir?

- A) Pekiştirme - Koşullu tepki
B) Deneyim - Öğrenme
C) Koşulsuz tepki - Pekiştirme
D) Ödül - Koşulsuz tepki
E) Zeka - Öğrenme

5. Bir labirentte çıkışı bulmaları istenen iki kişiden birine doğru yöne gittiğinde bir melodi sesi verilmiş ve bu ses çıkışa yaklaştıkça artırılmıştır. Diğer kişiye ise böyle bir uygulama yapılmamış, kişi rastlantısal olarak çıkışı bulmuştur. Bu araştırmada doğru davranışları melodi sesiyle pekiştirilen kişinin diğerine göre çıkışı daha kısa sürede bulunduğu gözlenmiştir.

Bu araştırmada, "doğru davranışları melodi sesiyle pekiştirilen kişinin, çıkışı diğer kişiden daha kısa sürede bulması" aşağıdakilerden hangisine bağlanabilir?

- A) Kişinin geri bildirim almasına
B) Tekrara yer verilmesine
C) Zeka düzeyinin etkisine
D) Gözlemler yapılmasına
E) Aşırı güdülenmeye

6. Psikolojide uygulanan zeka testleri, geliştirildiği toplumun kültüründen bağımsız değildir. Bu nedenle bir ülkede geliştirilen zeka testlerinin başka ülkelerde kullanılması durumunda güvenilirlik ve geçerliliğinin sağlanması gerekir. Bu amaçla zeka testleri, uygulanacağı ülkenin kültürel özelliklerine uyarlanmalıdır.

Bu uyarlamayı yapmak ve benzeri durumlarla ilgilenmek psikolojinin aşağıdaki alt dallardan hangisiyle ilgilidir?

- A) Klinik psikoloji
B) Psikometrik psikoloji
C) Gelişim psikolojisi
D) Eğitim psikolojisi
E) Endüstri psikolojisi

7. Otomobillerin ilk olarak icat edildiği yıllarda sürücüler daha çok hata yapıyor ve kazalara sebep oluyorlardı. Bunun en önemli nedeni, otomobillerde arka tarafı gösteren yan aynaların ve dikiz aynasının bulunmamasıydı. Zamanla otomobillerde bu aynalar kullanılmaya başlandı ve kaza yapma oranı azaldı.

Buna göre, sürücülerin kaza yapmasını azaltan etken aşağıdakilerden hangisidir?

- A) Sürücülerin motivasyonunun sağlanması
B) Algı yanılgılarının azaltılması
C) Sürücünün algı alanının genişletilmesi
D) Trafik işaretlerinin kullanılması
E) Dikkatin belirli bir uyarıcıya yoğunlaşması

8. • Bize suçlu olduğu söylenen birinin fotoğrafı gösterildiğinde o kişiyi suçlu olarak algıladık ve "Suçlu olduğu yüzünden belli." deriz.
• Bir deneğin gözü önünde demir çubuk ateşte kızdırılmış, sonra deneğin gözü bağlanmış ve bir parça buz deneğin eline kısa bir süre değiştirilmiş, deneğin tepkisi "Ah yandım!" şeklinde olmuştur.

Bu iki örnek, algılamada aşağıdakilerden hangisinin etkisini göstermektedir?

- A) Algıya hazır olmanın
B) Geçmiş yaşantıların
C) Kültürel değerlerin
D) İlgisi ve ihtiyaçların
E) Dengelenmenin

9. "Sekiz aydır evliyim ve çok mutlu bir evliliğim var. Ancak kimlik bilgilerim sorulduğunda hâlâ önceki soyadımı vermem eşimi çok üzüyor."

Evli bayanın bu yakınması, aşağıda verilen durumlardan hangisini örneklendirmektedir?

- A) Negatif transfer
B) Duyusal uyum
C) İleriye ket vurma
D) Bilinçaltına itme
E) Geriye ket vurma

10. – Saldırganlık güdüsünün kişiyi iyi bir boksör olmaya yöneltmesi
– Günlük yaşamda gerçekleştirilemeyen isteklerin imgeleme yoluyla doyuma ulaştırılması
– Hazırladığı kopyaları korkudan kullanamayan bir öğrencinin sınıftaki herkesi kopya çekmekle suçlaması
– Korku ve suçluluk duygusu oluşturan durumların bilinç alanının dışına itilmesi

Bu örneklerde, aşağıdaki savunma mekanizmalarından hangisine yer verilmemiştir?

- A) Yüceltme
B) Yansıtma
C) Bastırma
D) Hayal kurma
E) Gerileme

11. Durkheim, intihar eden kişileri tek tek araştırır, bu olaylar üzerinde çeşitli gözlemlerde bulunur ve istatistiksel bilgiler toplar. Daha sonra bu bilgilere dayanarak "İntihar bireylerin dine, aileye, devlete olan bağlılığıyla ters orantılıdır." şeklinde genel bir yargıya varır.

Durkheim, intihar olayını ele alırken özellikle aşağıdaki yöntemlerden hangisinden yararlanmıştır?

- A) Tümevarım
B) Tümdengelim
C) Sosyometri
D) Tarihi inceleme
E) Monografi

12. Temelinde sosyal değerlerin olduğu, insanlara neleri yapabileceklerini veya yapamayacaklarını gösteren, bireyleri olaylar karşısında belirli bir biçimde davranmaya zorlayan kurallara "toplumsal norm" denir. Toplumda var olan her türlü hukuki kurallar, yaşlılara yer vermek, misafire ikramda bulunmak, çevreyi temiz tutmak vb. normlara verilebilecek birkaç örnektir.

Buna göre, aşağıdakilerden hangisi toplumsal normların özelliklerinden biri değildir?

- A) Toplumsal düzeni sağlama
B) Toplumsal değerlere dayanma
C) Sadece sözlü kuralları içerme
D) Farklı öneme sahip olma
E) Yaptırım gücüne sahip olma

13. I. Güneş ışığı, hava, su, yağın kar ve ormanlar serbest maldır.
II. Araba, gazete, süt, kitap, elektrik ise ekonomik mala örnektir.

Buna göre, aşağıdakilerden hangisi hem serbest hem de ekonomik malın ortak özelliğidir?

- A) Doğada hazır olarak bulunma
B) İhtiyaca cevap verme
C) Emek sonucu elde edilme
D) Değişim amacıyla üretilme
E) Çok miktarda olma

14. Cumhuriyetin kurulduğu ilk yıllarda, bireylerin sermaye birikimi yoktu. Bu nedenle özel sektör çok sınırlı bir yatırım kapasitesine sahipti. Ancak, kalkınma hamlesinin gerçekleştirilebilmesi için bir an önce alt yapı yatırımlarının yapılması gerekiyordu. Bu nedenle devlet; çimento, demir, cam sanayi, tekstil gibi bazı alanlarda temel gereksinimlerin karşılanması için üretim alanında öncülük yaptı.

Parçada verilen durum, aşağıdakilerden hangisinin gerekçesi niteliğindedir?

- A) Ekonomik kalkınmada özel sektör payının yükseliğinin
B) Ekonomik kalkınmada alt yapı yatırımlarının azaltılmasının
C) Ekonomik kalkınmada karma ekonomik düzenin benimsenmesinin
D) Ekonomik kalkınmada sosyalist bir yapının benimsendiğinin
E) Ekonomik kalkınmada tüketimi kısıtlayıcı tedbirlerin alınmasının

15. İnsanlar arasındaki fikir ve çıkar farklılıklarının olması, toplumda herkesin yararına olanı, genel çıkarı ve ortak iyiliği sağlamaya yönelik örgütlü bir yapılanmayı gerektirmiştir.

Bu durum, hangi toplumsal kurumun ortaya çıkmasına neden olmuştur?

- A) Aile
B) Ekonomi
C) Eğitim
D) Siyaset
E) Din

16. "1970'li yılların sonuna doğru, dedemler, amcalar ve biz Orta Anadolu'nun bir orman köyünde belleklerimizde güzel hatıralar bırakan, tadı hâlâ damaklarımızda olan bir yaşantı içindeydik. Hep beraber yer içerdik. Ne amcam bizleri, ne babam yeğenlerini, ne de dedem evdekileri birbirinden ayırırdı."

Parçada sözü edilen ailede aşağıdaki özelliklerden hangisinin görülmesi beklenmez?

- A) Birden fazla neslin birlikte yaşaması
B) Küçük ailelerin birlikteliğiyle oluşması
C) Daha çok sanayileşme öncesinde görülmesi
D) Toplumda önemli işlevlerin yerine getirilmesi
E) Organik dayanışmanın güçlü olması

17. Sosyal etkileşimin güçlü olduğu, karşılıklı saygı, sevgi, güven ve samimiyete dayanan, daha çok küçük gruplarda görülen ilişkilere "birincil ilişkiler" denir.

Buna göre, aşağıdaki grupların hangisinde birincil ilişkiler daha az görülür?

- A) Sendikalarda
B) Aile içinde
C) Akrabalar arasında
D) Komşular arasında
E) Arkadaşlık gruplarında

18. Bütün demokratik toplumlarda yasama, yürütme ve yargı organları birbirinden ayrılmıştır. Güçler ayrılığı olarak ifade edilen bu durum, yasa koyma, uygulama ve hükümde bulunma gibi işlevlerin tek elde toplanarak, bazı sakıncalı durumların doğmasını engellemek için geliştirilmiştir. Montesquieu tarafından "Güç, gücü durdurur." biçiminde ifade edilen bu ilke, demokratik toplumların temel ilkesini oluşturur.

Buna göre, aşağıdakilerden hangisi bir toplumda güçler ayrılığının olmamasının sakıncasıdır?

- A) Toplumsal düzenin ve birliğin sağlanması
B) Hukuk kurallarının yaptırımının azalması
C) Devletin toplumdaki otoritesinin azalması
D) İnsanların birbirlerine duyduğu güvenin azalması
E) Yöneticilerin kendi çıkarlarına uygun kararlar alması

19. Ortaya konulabilecek bir yeniliğin kabulünde dikkat edilmesi gereken en önemli konu, yeniliğin mevcut toplumsal yapının özellikleriyle uyumlu olabilmesidir. Çünkü yenilikler, beraberinde yeni harcamaları da getireceğinden, toplumun yoksul kesimleri bu duruma direnç gösterebilir.

Toplumda yeniliklere karşı bu tür tepkilerin ortaya çıkmasını engellemek için, aşağıdakilerden hangisi en uygun yoldur?

- A) İnsanlara diğer ülkelerdeki uygulamaları örnek göstermek
B) Yenilikten yararlanılmasını sağlayacak ekonomik koşulları oluşturmak
C) Olumsuz tepkilere karşı yasal tedbirler almak
D) Kitle iletişim araçlarıyla yapılan yeniliğin faydalarını anlatmak
E) Yeniliği benimsetecek propaganda faaliyetlerinde bulunmak

20. "Erkek adam ağlamaz." yargısı, kültürel nitelik gösterir. Bu yargının toplum içerisinde bireylere aktarılması sonucu birçok çocuk büyüdüklarini kanıtlamak istemesine acı çekmelerine rağmen ağlamazlar.

Bu durum kültürün hangi özelliğinin göstergesidir?

- A) Bireyin davranışlarından bağımsız olduğunun
B) Toplumdan topluma değişiklik gösterdiğinin
C) Toplumsallaşmayla birlikte kazanıldığının
D) Statik(durağan) bir yapı içerdiğinin
E) Bireylere güven duygusu kazandırdığının

21. Varlık yokluktan çıkmaz, yok olan bir şey de var olmaz. Şu halde bir şeye hem var, hem de yok denilemez.

Parmenides'in bu görüşü, hangi akıl ilkesi ile paralellik gösterir?

- A) Yeter - sebep ilkesi
B) Çelişmezlik ilkesi
C) Nedensellik ilkesi
D) Özdeşlik ilkesi
E) Üçüncü halin imkansızlığı

22. "Bütün güller kırmızıdır." önermesi yanlış(Y) iken "Bazı güller kırmızı değildir." önermesi doğrudur(D).

Konu ve yüklemeleri aynı, nicelik ve nitelikleri farklı olan bu iki önerme arasında aşağıdaki ilişki çeşitlerinden hangisi vardır?

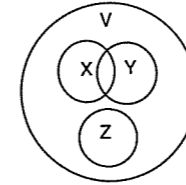
- A) Çelişiklik
B) Alt karşıtlık
C) Altıklık
D) Döndürme
E) Üst karşıtlık

23. Bir özelliğin sadece bir türe ait olmasına "özgüllük"; birden çok türe ait olmasına ise "ilinti" denir.

Buna göre, aşağıdakilerden hangisi insanın ilintisi değildir?

- A) Toplumsallaşmak
B) Uyumak
C) Beslenmek
D) Korunmak
E) Hareket etmek

24.



Yukarıdaki diyagrama göre aşağıdaki ifadelerden hangisi yanlıştır?

- A) X ile Y arasındaki eksik girişimlilik vardır.
B) X ile Z' terimleri arasında ayrıklık ilikisi vardır.
C) X'in işlemi V'nin işleminden fazladır.
D) V terimi Z teriminin işlemindedir.
E) V ile X terimleri arasında eşitlik ilişkisi vardır.

25. "Ali bir sporcudur." önermesi,

- I. Yargı sayısı,
II. Nicelik,
III. Nitelik

yönünden ne tür bir önermedir?

- | | I | II | III |
|------------|-------|---------|-----|
| A) Basit | Tikel | Olumlu | |
| B) Bileşik | Tikel | Olumlu | |
| C) Basit | Tekil | Olumlu | |
| D) Bileşik | Tekil | Olumlu | |
| E) Basit | Tikel | Olumsuz | |

26. Bazı ağaçlar meyve verir.

Bazı meyveler elmadır.

Bazı ağaçlar elma ağacıdır.

Bu hatalı kıyasta aşağıdaki kurallardan hangisine uyulmamıştır?

- A) Sonuçta orta terim bulunmaz.
B) İki olumsuz öncülden sonuç çıkmaz.
C) Her kıyasta yalnız üç terim bulunmalıdır.
D) İki tikel öncülden sonuç çıkmaz.
E) Sonuç öncüllerin zayıf olanına bağlıdır.

KÖRFEZ YAYINLARI

KÖRFEZ YAYINLARI

27. Çözümleyici çizelge kurallarına göre,

$p \rightarrow (p \vee q)$ önermesinin geçerliliği denetlendiğinde;

$$1. \sim [p \rightarrow (p \vee q)] \quad (\sim\text{ö})$$

$$2. \sim (p \vee q) \quad (1)$$

$$\sim p \quad (2)$$

$$\sim q$$

$$x$$

verilen önermenin geçerli olduğu görülür.

Buna göre, bir önermeyi geçerli yapan özellik aşağıdakilerden hangisidir?

- A) Değilleme sonucunda tüm yolların açık olması
B) Birinci önermenin doğru, ikinci önermenin yanlış olması
C) Değillenen önermenin tutarlı olması
D) Çıkarımda alt alta yazma kuralının olması
E) Değillenen önermede tüm yolların kapalı olması

28. "İstersen başarısın."

"Hem anneye, hem de babaya saygı gösterilir."

"Ancak ve ancak insanları seversen sevilirsin."

"Ya sorularını çözeceksin ya da kitap okuyacaksın."

"Sevgi ve barış insanlığın mayasıdır."

Yukarıdaki önermelerde **kullanılmayan** önerme eklemi aşağıdakilerden hangisidir?

- A) Tikel evetleme eklemi
B) Koşul eklemi
C) Değilleme eklemi
D) Karşılıklı koşul eklemi
E) Tümel evetleme eklemi

29. - En az bir doğrulayıcı yorumlaması bulunan önerme tutarlı,
- Hiçbir yanlışlayıcı yorumu olmayan önerme geçerli,
- Tüm yorumlamaları aynı olan iki önerme eşdeğerdir.

I	II	III	IV	V
D	D	D	D	Y
Y	D	Y	D	Y
D	Y	D	D	Y
D	Y	D	D	Y

Yukarıdaki açıklamalara göre, verilen tablodaki önermelerle ilgili aşağıdaki değerlendirmelerden hangisi doğrudur?

- A) I. ve IV. önermeler eşdeğerdir.
B) II. önerme geçerlidir.
C) V. önerme tutarlıdır.
D) IV. önerme hem tutarlı hem de geçerlidir.
E) I. ve III. önermeler eşdeğer değildir.

30. $(\forall xGx) \rightarrow \neg \exists xFx$ önermesinin "E:{a,b}" evrenindeki açılımı aşağıdakilerden hangisidir?

- A) $(Ga \wedge Gb) \rightarrow \neg(Fa \vee Fb)$
B) $(Ga \wedge Gb) \rightarrow (\neg Fa \vee \neg Fb)$
C) $(Ga \wedge Gb) \leftrightarrow (\neg Fa \vee \neg Fb)$
D) $(Ga \vee Gb) \rightarrow (\neg Fa \wedge \neg Fb)$
E) $(\neg Ga \vee \neg Gb) \rightarrow (Fa \wedge Fb)$

LYS-4 FELSEFE GRUBU BRANŞ DENEMESİ-12

Bu Testte;

10 Adet Psikoloji, 10 Adet Sosyoloji ve 10 Adet Mantık sorularından oluşan toplam 30 adet soru bulunmaktadır.

1. **Korku, aşırı heyecan ve yanlış eğitimden kaynaklanan davranış bozukluklarının nedenini bulmak ve tedavi etmek için çalışan psikoloji alt dalı, aşağıdakilerden hangisidir?**

- A) Eğitim psikolojisi B) Sosyal psikoloji
C) Klinik psikoloji D) Psikometrik psikoloji
E) Deneysel psikoloji

2. **İllüzyonda, uyarıcı fiziksel ya da psikolojik nedenlerle yanlış anlamlandırılır. Hallüsinasyonda ise, olmayan bir uyarıcı varmış gibi algılanır.**

Bu açıklamada, illüzyon ve hallüsinasyon olayları hangi açıdan karşılaştırılmaktadır?

- A) Uyarıcının şiddeti
B) Uyarıcının nesnel gerçekliği
C) Uyarıcının hangi yolla kişiyi etkilediği
D) Uyarıcının nasıl algılanması gerektiği
E) Uyarıcının içinde bulunduğu ortam

3. **Önceden bazı faaliyetlerin öğrenilmiş olmasının sonradan başka faaliyetlerin öğrenilmesini zorlaştırmasına "olumsuz(negatif) transfer" denir.**

Buna göre, aşağıdakilerin hangisinde olumsuz transferin olması beklenmez?

- | Önceki Öğrenme | Sonraki Öğrenme |
|---|-------------------------------------|
| A) Q klavye kullanma | F klavye kullanma |
| B) Otomatik vites araba kullanma | Normal vites araba kullanma |
| C) Bisiklet kullanma | Motosiklet kullanma |
| D) Ayaklı dikiş makinası kullanma | Motorlu dikiş makinası kullanma |
| E) Bilgisayarda iki parmakla yazı yazma | Bilgisayarda on parmakla yazı yazma |

4. **Hayatı anlamak için kesin olan çözüm yolları bulamayız. Geçici olarak rahatlama yaşadığımız anlar vardır. Örneğin, "Gülün dikenli olduğu için üzülmeysin, dikenler arasında gül yetiştiği için sevinin." sözünden de yola çıkarak hayatın olumsuzlukları arasındaki olumlu yanlarını arama gibi çeşitli uyum mekanizmalarına başvururuz.**

Parçada sözü edilen savunma mekanizması, aşağıdakilerden hangisidir?

- A) Hayal kurma B) Bastırma C) Yüceltme
D) Pollyanna E) Yadsıma

5. **Bir okulda Edebiyat dersi öğretmeni yayınlanmış bir romandan övgüyle söz etmiştir. Ancak aynı romanı okuyan öğrenci, romanın cümlelerini uzun, konusunu karışık bulduğu halde öğretmenin, "Romanı nasıl buldunuz?" sorusu üzerine, kısa bir duraklamadan sonra, öğretmeniyle aynı görüşte olduğunu söylemiştir.**

Bu örnekte öğrencinin öğretmeniyle aynı görüşte olduğunu söylemesi, aşağıdakilerden hangisiyle açıklanabilir?

- A) Sosyal etki
B) İşleve takılma
C) Davranış bozukluğu
D) Dikkat eksikliği
E) Algısal farklılık

6. **"Yaz sıcaklığında ağır şeyler yemek; kış soğukunda ince şeyler giymek kadar tehlikelidir."**

Bu cümlede belirtilen tehlikenin ortadan kaldırılması için, aşağıdakilerden hangisinin olması gerekir?

- A) Motivasyonun ortaya çıkması
B) Duyusal uyumun gerçekleşmesi
C) Aşırı uyarılmanın artırılması
D) Yetersiz uyarılmanın oluşması
E) Dengelenmenin sağlanması

7. Fizikçi, jeolog ve matematikçiden oluşan bir heyet araştırma için araziye çıktıklarında yağmur bastırır ve eve sığınır. Ev sahibi bir şey ikram etmek için yanlarından ayrıldığında hepsinin dikkati yerden bir metre yükseklikteki taşlar üzerine oturtulmuş, soba üzerinde toplanır. Sobanın niçin böyle kurulmuş olabileceğine dair tartışma başlar.

- Fizikçi, "Adam konveksiyon yoluyla odanın daha iyi ısınmasını sağlamak istemiştir." der.
- Jeolog, "Herhangi bir deprem anında sobanın taşlar üzerine yıkılmasını sağlamak istemiştir." der.
- Matematikçi, "Adam sobayı odanın geometrik merkezine kurarak daha iyi ısınmasını sağlamak istemiştir." der.

Bu sırada ev sahibi içeri girer ve ona sobanın yukarıda olmasının nedenini sorarlar. Adam cevap verir "Boru yetmedi."

Bu olay, algıda seçicilik üzerinde aşağıdakilerden hangisinin etkisini göstermektedir?

- A) Tuhaflik B) Şiddet C) Tutumlar
D) Mesleki ilgiler E) Ortam

8. "Çocukların ellerinden tutup onları adam etmekten zevk alıyorum. Genellikle fakir çocukları yazdım kitaplarımda. Çünkü kendim de yoksulluk içinde büyüdüm." diyen bir düşünürün, kitap yazma davranışını etkileyen temel faktör aşağıdakilerden hangisidir?

- A) Eksikliğini telafi etme
B) İli ve tutumları
C) Çocuk sevgisi
D) Geçmiş yaşantısı
E) Topluma faydalı olma

9. Bir çocuk sahihsiz bir köpek tarafından ısırıldıktan sonra bütün köpeklerden korkmaya başlar. Bir süre sonra aynı çocuk sahihsiz köpeklerden korkmayı sürdürürken, yanında sahibi bulunan köpeklerden de korkmamaya başlar.

Çocuğun içinde bulunduğu bu psikolojik durum sırasıyla aşağıdakilerden hangisinde doğru olarak verilmiştir?

- A) Genelleme - Ayırtetme
B) Güdülenme - Sönme
C) Aşırı uyarılma - Pekiştirme
D) Bilginin transferi - Ayırtetme
E) Genelleme - Sönme

10. Ailesinin doktor olması isteğine sosyolog olmak isteğini söyleyerek karşı çıkan lise öğrencisi, babasının "Sosyolog olmak için bana iyi bir neden gösterebilir misin?" sorusuyla karşılaşır. Öğrenci, "Sosyolog olmak istiyorum, çünkü kendimi ancak bu alanda keşfedeceğimi hissediyorum. İnsan olarak buna hakkım var." diye cevap verir.

Öğrencinin bu tavrı, hangi psikolojik yaklaşım içinde değerlendirilebilir?

- A) İşlevsel yaklaşım
B) Hümanist yaklaşım
C) Bütüncü yaklaşım
D) Psikodinamik yaklaşım
E) Yapısalcı yaklaşım

11. Afrika'daki toplumların yaşayışları, davranışları ya da danslarını iyi-kötü, güzel-çirkin, haklı-haksız, yararlı-zararlı gibi değer yargılarıyla açıklamak "olması gerekeni" incelemektir.

Bir sosyoloğun "olması gerekeni" incelemesi, bilimsel olarak hangi ilkeyi gözardı ettiğinin kanıtıdır?

- A) Nesnellik B) Sınırlılık C) Basitlik
D) Öznellik E) Doğruluk

12. Aşağıdakilerden hangisi toplumsal kontrolü sağlayan kuralların bir özelliği değildir?

- A) Birlikte yaşamaktan doğma
B) Toplumsal düzeni sağlama
C) Eşit önem ve değere sahip olma
D) Yaptırım gücüne sahip olma
E) Davranışları denetleme özelliğine sahip olma

13. Toplumsallaşma, bireyin topluma hazırlanma ve katılma sürecidir. Bu süreç, bireyin toplum normlarına uygun davranışlarda bulunmasını sağlar. Bireyin normlara uyabilmesi için sosyal değerleri ona benimsetecek küçük ve birincil grupların kişinin sosyalleşmesinde etkileri fazladır. Birincil grup olan aile, toplumsallaşmada en önemli rolü oynar.

Bu parçadan hareketle aşağıdaki yargıların hangisine ulaşamaz?

- A) Her insan kendi yetenekleri ve zekasına göre bir toplumsallaşma süreci yaşar.
B) Toplumsallaşma sürecinde bireyler çevreleriyle uyum içinde olurlar.
C) Toplumsal değerlerin kabullenilmesi toplumsallaşmayı kolaylaştırır.
D) Bireyin içinde bulunduğu grubun büyüklüğü sosyalleşmesini etkiler.
E) Etkileşimin güçlü olduğu grupların toplumsallaşmadaki etkisi büyüktür.

14. "1970'li yılların sonuna doğru, dedemler, amcamlar ve biz Orta Anadolu'nun bir orman köyünde belleklerimizde güzel hatıralar bırakan, tadı hâlâ damaklarımızda olan bir yaşantı içindeydik. Hep beraber yer içerdik. Ne amcam bizleri, ne babam yeğenlerini, ne de dedem evdekileri birbirinden ayırırdı."

Parçada belirtilen ailede, aşağıdaki özelliklerden hangisinin görülmesi beklenmez?

- A) Birden fazla neslin birlikte yaşaması
B) Küçük ailelerin birlikteliğiyle oluşması
C) Etkileşimin ve akrabalık bağlarının zayıf olması
D) Toplumda önemli işlevlerin yerine getirilmesi
E) Sanayileşme öncesinde daha çok görülmesi

15. Afrika'da bazı kabilelerde ekonomik geçim kaynakları çok kıt olduğu için erkeğin evleneceği eşine tek başına bakacak gücü yoktu. Bu yüzden kadınlar birden çok erkekle evlenirler ve böylece hayatlarını devam ettirmek imkanına sahip olurlardı.

Parçada sözü edilen evlilik türü aşağıdakilerden hangisidir?

- A) Polijini B) Ekzogami
C) Matrilokal D) Poliandri
E) Endogami

16. - Bir konu hakkında soru listeleri oluşturarak bireylerin duygu ve düşüncelerinin öğrenilmesi
- Küçük gruplarda sosyal ilişkilerdeki yaklaşma ve uzaklaşma derecelerinin belirlenmesi
- Sınırlı bir konunun derinlemesine incelenmesi

Yukarıdaki araştırma teknikleri sırasıyla aşağıdakilerden hangisinde doğru olarak verilmiştir?

- A) Sosyometri - Monografi - Görüşme
B) Görüşme - Anket - Monografi
C) Anket - Sosyometri - Monografi
D) Monografi - Anket - Sosyometri
E) Gözlem - Anket - Sosyometri

17. Bir İngiliz, bir Amerikalı ve Temel gemiyle yolculuk ederlerken, kaptan yanlarına gelip geminin batacağını ve gemiden kayık ile ayrılmaları gerektiğini söyler. Fakat kimse gemiden ayrılmaz. Kaptan daha sonra yardımcısını gönderir. İki dakika sonra önce İngiliz, sonra da Amerikalı ve en sonunda da Temel suya atlar. Kaptan bunu nasıl başardığını sorunca yardımcısı :

- "İngiliz'e 'Sizin gibi soylu biri batan gemide biçare kalmaz.' dedim, atladı.
- Amerikalı'ya tuzlu suyun faydalarını anlattım, atladı.
- Temel'e ise, 'Denize girmek yasaktır.' dedim, atladı." cevabını verir.

Temel'in bu fıkrada anlatılan davranışının toplumumuzda yaygın olmasının nedeni, aşağıdakilerden hangisidir?

- A) Bazı toplumlarda kuralların gereği gibi benimsenmemiş olması
B) Yasaklara uygulanan cezaların yetersiz olması
C) Endüstri toplumlarında duygu ve düşüncenin aynı olması
D) Sosyal normların toplumdaki değer yargılarından arınmış olması
E) Kültürler arası etkileşimin ulusal değerleri değiştirmesi

18. Bir kaymakamın emrindeki kişilere makamında göstermesi gereken ciddiyet ve resmiyeti evinde de göstermesi kendini beğenmişlik olur. Aynı şekilde bir komutan, askerlerine göstermesi gereken sevgiyi savaşta düşmanına gösterirse kendi askerine karşı merhametsizlik ve zulüm etmiş olur.

Bu parçadaki görüşü en iyi özetleyen kavram aşağıdakilerden hangisidir?

- A) Anahtar statü B) Rol pekişmesi
C) Çoğulcu statü D) Rol çatışması
E) Sosyal prestij

19. Durkheim, toplumların sınıflamasını yaparken nüfus artışının toplumsal yapıda değişmelere neden olacağını belirtmiştir. Ona göre, bir toplumda nüfusun artması her şeyden önce yaşamı yoğun bir mücadele alanına dönüştürecektir. Bu mücadelenin temel nedeni artan nüfusla ortaya çıkan işsizlik ve geçim problemidir. Bu durumun tek çıkar yolu bir işi parçalara bölerek bir çok insanın katılımını sağlamaktır. Bu durum beraberinde herkesin kendi işinde uzmanlaşmasına dayanan teknik iş bölümünü getirir. Ancak böyle bir düzende, bireyler hem çalışma olanağına, hem de diğer bireylerin yaşamlarına katkıda bulunarak yaşamlarını sürdürebilme olanağına kavuşurlar.

Bu parçada aşağıdakilerden hangisine ilişkin bir açıklama yoktur?

- A) Nüfus artışının toplumsal değişmeyi zorunlu kıldığı
B) Toplumsal yapının zaman içinde değiştiği
C) Nüfus artışıyla başlayan işsizlik sorununun çözümlenebileceği
D) İş bölümünün biçim değiştirdiği
E) Toplumsal değişmelerin coğrafi koşullardan kaynaklandığı

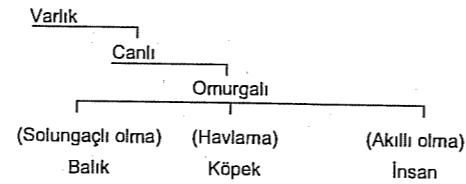
20. Bir kültür bölgesinden, başka bir kültür bölgesine katılan bireyler başlangıçta bu yeni kültür ortamına uyum sağlamakta güçlük çekerler. Bu durum, sosyolojide "kültür şoku" kavramı ile ifade edilir.

Buna göre, aşağıdaki durumlardan hangisinde bireylerin kültür şoku geçirmesi beklenmez?

- A) Türkiye'den Avrupa'ya giden işçi ailelerinin
B) Bir ülkeye seyahate giden turistlerin
C) Yabancı bir ülkeye yerleşen göçmenlerin
D) Taşradan büyük şehirdeki üniversitelere giden öğrencilerin
E) Yurt dışından ülkemize dönüş yapan işçi ailelerinin, ülkemize ilk defa gelen çocuklarının

KÖRFEZ YAYINLARI

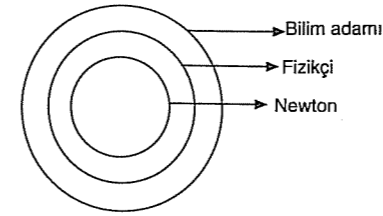
21. Bir terimin yakın cinsi ve özgülüğü ile yapılan tanıma "ilinti ile ilgili tam tanım" denir.



Verilen şemaya göre, aşağıdakilerden hangisi ilinti ile ilgili tam tanımdır?

- A) İnsan canlı bir varlıktır.
B) Köpek omurgalı bir canlıdır.
C) İnsan canlı, omurgalı ve akıllı bir varlıktır.
D) Balık omurgalıdır.
E) İnsan akıllı bir omurgalıdır.

- 22.



Yukarıdaki diyagramda terimler kaplamaları açısından ilişkilerine göre sıralanmıştır.

Buna göre;

- I. Her fizikçi bilim adamıdır.
II. Bazı bilim adamı olmayan fizikçiler vardır.
III. Fizikçi kümesi, bilim adamının alt kümesidir.
IV. Bütün bilim adamları fizikçidir.

Önermelerinden hangileri bu diyagrama ait değildir?

- A) Yalnız III B) Yalnız IV C) I ve II
D) I ve III E) III ve IV

23. İki terimden yalnızca biri diğerinin tüm bireylerini içine alıyorsa aralarında "tam girişimlilik" ilişkisi vardır.

Aşağıdaki terimlerden hangileri arasında tam girişimlilik ilişkisi yoktur?

- A) Varlık - Çiçek
B) Canlı - İnsan
C) Hamsi - Balık
D) Çiçek - Gül
E) Canlı - Solunum yapan

24. I. Burdur ile Isparta illeri Akdeniz Bölgesi'ndedir.
II. Gül bahçeleri sadece Isparta'da bulunur.
III. Aydın'da incir vardır ama Muğla'da yoktur.
IV. Adana, Mersin'den daha büyüktür.

Yukarıda verilen örneklerde, önerme türlerinden hangisine yer verilmemiştir?

- A) Çıkarmalı B) Karşılaştırmalı C) Özgülü
D) Eklî E) Bağlantılı

25. Günün birinde kral kendisine en iyi yalan söyleyen kişiye 5 çuval altın vereceğini, ancak beğenmediği yalanın sahibinin ise başını vurduracağını söylemiştir. Kralın karşısına çıkan birinci kişi, "Kralım; ben bir ok attım 6 ay sonra düştü." der. Kral ise, "Olabilir, rüzgar götürüp ağaca saplanmasına neden olmuştur, ağaç çürüyünce ok düşmüştür." der. İkinci kişi ise "Kralım, ben karşıdaki kralın bir at olduğunu gördüm." der. Kral ise "Olabilir, taç, atın başına düşmüştür. Krallıkta taç kimde ise kral da odur." der. Sıra Kayserili'ye gelince, "Kralım, sizin babama 5 çuval altın borcunuz var. Doğru ise borcunuzu verin, yalan ise ödülümü verin." der.

Bu fıkrada Kayserili'nin kullandığı akıl yürütme yolu aşağıdakilerden hangisidir?

- A) Analoji B) Zincirleme kıyas C) İkilem
D) Entimem E) Tümevarım

26. "Bazı bitkiler fotosentez yapmaz." önermesinin altlığı aşağıdakilerden hangisidir?

- A) Bütün bitkiler fotosentez yapar.
B) Hiçbir bitki fotosentez yapmaz.
C) Bazı bitkiler fotosentez yapar.
D) Bazı bitkilerin fotosentez yaptığı doğru değildir.
E) Bazı fotosentez yapanlar bitki değildir.

- 27.

p	q	(p∧q)	(p⇔q)	(p∧q) ? (p⇔q)
D	D	D	D	D
D	Y	Y	Y	D
Y	D	Y	Y	D
Y	Y	Y	D	D

Yukarıdaki tabloda soru işaretinin bulunduğu yere hangi ana eklem getirilmelidir?

- A) Tümel evetleme (∧)
B) Tikel evetleme (∨)
C) Koşul eklemi (⇒)
D) Karşılıklı koşul (⇔)
E) Değilleme (~)

28. Geçerli bir önermenin değillemesi için aşağıdaki-lerden hangisi söylenebilir?

- A) Tüm yorumlamaları doğrudur.
B) En az bir doğru yorumlaması vardır.
C) Tutarlı bir önermedir.
D) Tüm yorumlamaları yanlıştır.
E) Sadece bir yanlıştır yorumu vardır.

30. "Siyasetçiler" kümesi S, "Dürüst." yüklemi D ile gösterildiğine göre $\exists x(Sx \wedge \sim Dx)$ sembolik önermesi, aşağıdakilerden hangisine aittir?

- A) Bazı siyasetçiler dürüst değildir.
B) Bazı siyasetçiler dürüştür.
C) Her siyasetçinin dürüst olduğu söylenemez.
D) Bazı dürüst olanlar siyasetçi değildir.
E) Hiçbir siyasetçi dürüst değildir.

29. Ya üniversitede araştırma görevlisi olacak ya da bankada çalışacağım. ($p \vee q$)

Üniversitede araştırma görevlisi olursam azimli ve sabırlı olmam gerekir. $p \Rightarrow (r \wedge s)$

Yukarıdaki öncüllere sahip geçerli bir çıkarımda "azimli ve sabırlı olmam gerekir" ($r \wedge s$) sonuç önermesine ulaşmak için, aşağıdakilerden hangisi üçüncü öncül olarak alınmalıdır?

- A) Bankada çalışırsam azimli ve sabırlı olmam gerekmez. $p \Rightarrow \sim (r \wedge s)$
B) Hem üniversitede araştırma görevlisi olup hem de bankada çalışamam. ($\sim p \wedge \sim q$)
C) Bankada çalışmak için azimli ve sabırlı olmayı gerektirmez. $q \Rightarrow \sim (r \wedge s)$
D) Bankada çalışırım. (q)
E) Üniversitede araştırma görevlisi oldum. (p)

LYS-4 BRANŞ DENEMELERİ CEVAP ANAHTARI

TARİH 1. DENEME				
1. E	11. D	21. C	31. E	41. A
2. D	12. C	22. A	32. A	42. E
3. D	13. B	23. A	33. C	43. B
4. E	14. D	24. B	34. D	44. B
5. C	15. C	25. E	35. D	
6. C	16. B	26. B	36. E	
7. C	17. C	27. C	37. B	
8. A	18. A	28. A	38. E	
9. E	19. B	29. B	39. A	
10. E	20. B	30. D	40. D	

TARİH 2. DENEME				
1. D	11. A	21. C	31. C	41. B
2. C	12. E	22. D	32. D	42. A
3. D	13. A	23. A	33. B	43. D
4. A	14. E	24. E	34. D	44. E
5. D	15. D	25. E	35. A	
6. E	16. B	26. E	36. D	
7. B	17. E	27. D	37. B	
8. B	18. C	28. C	38. E	
9. E	19. A	29. C	39. A	
10. C	20. D	30. B	40. C	

TARİH 3. DENEME				
1. E	11. C	21. E	31. A	41. C
2. D	12. B	22. C	32. A	42. C
3. E	13. A	23. D	33. B	43. D
4. B	14. D	24. B	34. A	44. B
5. E	15. E	25. B	35. B	
6. A	16. E	26. D	36. E	
7. C	17. C	27. E	37. E	
8. C	18. D	28. E	38. A	
9. A	19. D	29. E	39. B	
10. E	20. A	30. A	40. A	

TARİH 4. DENEME				
1. C	11. C	21. B	31. A	41. A
2. C	12. A	22. A	32. D	42. D
3. A	13. E	23. A	33. C	43. B
4. D	14. D	24. B	34. A	44. E
5. C	15. E	25. C	35. B	
6. C	16. B	26. E	36. E	
7. A	17. E	27. C	37. B	
8. B	18. D	28. A	38. A	
9. C	19. C	29. E	39. A	
10. B	20. A	30. A	40. C	

TARİH 5. DENEME				
1. E	11. B	21. A	31. B	41. D
2. A	12. B	22. C	32. C	42. B
3. C	13. A	23. B	33. A	43. E
4. E	14. A	24. C	34. C	44. D
5. B	15. C	25. E	35. C	
6. A	16. E	26. C	36. B	
7. A	17. B	27. A	37. D	
8. B	18. C	28. D	38. C	
9. E	19. C	29. C	39. B	
10. E	20. E	30. B	40. E	

TARİH 6. DENEME				
1. C	11. B	21. C	31. B	41. E
2. D	12. E	22. C	32. A	42. E
3. D	13. E	23. D	33. A	43. D
4. C	14. D	24. D	34. A	44. D
5. E	15. E	25. C	35. B	
6. B	16. B	26. E	36. A	
7. E	17. D	27. D	37. B	
8. A	18. C	28. A	38. C	
9. A	19. B	29. B	39. B	
10. D	20. A	30. E	40. D	

TARİH 7. DENEME				
1. C	11. A	21. E	31. B	41. C
2. A	12. A	22. C	32. D	42. D
3. E	13. A	23. D	33. C	43. E
4. C	14. C	24. E	34. D	44. E
5. C	15. E	25. B	35. B	
6. A	16. A	26. C	36. C	
7. B	17. D	27. B	37. C	
8. D	18. B	28. A	38. B	
9. D	19. C	29. A	39. C	
10. C	20. E	30. A	40. A	

TARİH 8. DENEME				
1. E	11. A	21. C	31. E	41. C
2. E	12. A	22. C	32. E	42. C
3. B	13. E	23. B	33. B	43. E
4. B	14. B	24. A	34. E	44. E
5. A	15. E	25. D	35. B	
6. D	16. B	26. C	36. D	
7. A	17. C	27. A	37. E	
8. B	18. A	28. C	38. B	
9. D	19. D	29. B	39. D	
10. C	20. A	30. C	40. A	

TARİH 9. DENEME				
1. E	11. C	21. A	31. C	41. D
2. B	12. E	22. B	32. E	42. C
3. D	13. D	23. B	33. E	43. E
4. C	14. E	24. B	34. B	44. B
5. B	15. B	25. A	35. A	
6. D	16. A	26. B	36. C	
7. A	17. C	27. C	37. D	
8. C	18. C	28. D	38. D	
9. D	19. C	29. A	39. A	
10. D	20. E	30. D	40. C	

TARİH 10. DENEME				
1. A	11. B	21. A	31. E	41. B
2. B	12. E	22. D	32. E	42. D
3. E	13. B	23. D	33. B	43. A
4. E	14. A	24. A	34. B	44. E
5. D	15. C	25. E	35. A	
6. A	16. D	26. B	36. C	
7. C	17. D	27. D	37. D	
8. D	18. B	28. C	38. E	
9. A	19. D	29. D	39. E	
10. C	20. B	30. D	40. B	

TARİH 11. DENEME				
1. C	11. A	21. E	31. B	41. C
2. D	12. E	22. D	32. C	42. E
3. C	13. D	23. B	33. D	43. A
4. E	14. C	24. B	34. B	44. D
5. A	15. E	25. C	35. B	
6. D	16. E	26. D	36. E	
7. E	17. B	27. D	37. A	
8. E	18. C	28. C	38. C	
9. A	19. B	29. D	39. C	
10. A	20. E	30. E	40. C	

TARİH 12. DENEME				
1. E	11. E	21. E	31. A	41. B
2. B	12. E	22. D	32. E	42. D
3. B	13. D	23. E	33. B	43. C
4. C	14. C	24. D	34. C	44. C
5. C	15. D	25. D	35. C	
6. E	16. C	26. E	36. B	
7. B	17. D	27. C	37. E	
8. D	18. E	28. C	38. A	
9. B	19. C	29. A	39. B	
10. E	20. E	30. C	40. E	

COĞRAFYA-2 1. DENEME	
1. A	11. C
2. B	12. A
3. E	13. B
4. A	14. A
5. E	15. A
6. B	16. C
7. E	
8. B	
9. C	
10. D	

COĞRAFYA-2 2. DENEME	
1. D	11. B
2. D	12. E
3. E	13. D
4. C	14. A
5. C	15. D
6. C	16. C
7. A	
8. D	
9. B	
10. C	

COĞRAFYA-2 3. DENEME	
1. A	11. C
2. A	12. C
3. C	13. D
4. C	14. B
5. A	15. A
6. D	16. E
7. A	
8. D	
9. D	
10. C	

FELSEFE GRUBU 1. DENEME		
1. A	11. B	21. B
2. C	12. E	22. C
3. B	13. C	23. D
4. D	14. C	24. A
5. A	15. E	25. E
6. C	16. C	26. B
7. D	17. E	27. B
8. D	18. D	28. E
9. E	19. B	29. D
10. E	20. E	30. C

FELSEFE GRUBU 2. DENEME		
1. C	11. A	21. D
2. E	12. D	22. E
3. D	13. C	23. E
4. E	14. A	24. D
5. E	15. A	25. B
6. A	16. C	26. C
7. B	17. C	27. C
8. C	18. A	28. B
9. E	19. B	29. D
10. D	20. E	30. D

FELSEFE GRUBU 3. DENEME		
1. B	11. B	21. A
2. E	12. E	22. C
3. E	13. D	23. B
4. C	14. D	24. C
5. D	15. E	25. A
6. A	16. C	26. C
7. C	17. A	27. A
8. A	18. E	28. C
9. D	19. E	29. D
10. E	20. D	30. B

COĞRAFYA-2 4. DENEME	
1. A	11. A
2. D	12. C
3. A	13. B
4. E	14. B
5. D	15. D
6. C	16. E
7. D	
8. B	
9. E	
10. D	

COĞRAFYA-2 5. DENEME	
1. C	11. A
2. A	12. C
3. C	13. D
4. E	14. A
5. C	15. D
6. D	16. E
7. D	
8. D	
9. E	
10. D	

COĞRAFYA-2 6. DENEME	
1. D	11. C
2. D	12. A
3. C	13. C
4. D	14. A
5. A	15. D
6. C	16. E
7. C	
8. D	
9. D	
10. E	

FELSEFE GRUBU 4. DENEME		
1. D	11. C	21. E
2. E	12. E	22. A
3. D	13. E	23. C
4. C	14. B	24. B
5. A	15. C	25. D
6. D	16. C	26. E
7. B	17. A	27. E
8. E	18. D	28. D
9. C	19. A	29. D
10. D	20. D	30. D

FELSEFE GRUBU 5. DENEME		
1. C	11. D	21. A
2. E	12. C	22. E
3. C	13. E	23. E
4. D	14. C	24. E
5. E	15. B	25. E
6. C	16. E	26. A
7. B	17. B	27. E
8. D	18. E	28. C
9. D	19. E	29. B
10. A	20. C	30. C

FELSEFE GRUBU 6. DENEME		
1. A	11. A	21. B
2. C	12. D	22. E
3. B	13. A	23. A
4. C	14. A	24. A
5. A	15. A	25. C
6. B	16. C	26. E
7. C	17. B	27. E
8. E	18. E	28. A
9. D	19. B	29. D
10. D	20. C	30. B

COĞRAFYA-2 7. DENEME	
1. E	11. D
2. B	12. A
3. E	13. D
4. B	14. A
5. A	15. E
6. D	16. C
7. D	
8. E	
9. C	
10. A	

COĞRAFYA-2 8. DENEME	
1. D	11. C
2. D	12. C
3. E	13. D
4. E	14. B
5. A	15. D
6. E	16. D
7. E	
8. B	
9. C	
10. A	

COĞRAFYA-2 9. DENEME	
1. E	11. C
2. B	12. B
3. D	13. E
4. C	14. A
5. A	15. A
6. D	16. A
7. E	
8. A	
9. C	
10. E	

FELSEFE GRUBU 7. DENEME		
1. D	11. A	21. B
2. D	12. B	22. E
3. D	13. B	23. E
4. D	14. C	24. A
5. B	15. B	25. D
6. B	16. D	26. C
7. B	17. C	27. B
8. B	18. C	28. A
9. E	19. E	29. D
10. D	20. D	30. B

FELSEFE GRUBU 8. DENEME		
1. D	11. A	21. B
2. E	12. E	22. E
3. C	13. C	23. B
4. C	14. D	24. A
5. B	15. E	25. C
6. A	16. C	26. B
7. A	17. E	27. E
8. C	18. B	28. B
9. D	19. D	29. D
10. D	20. A	30. B

FELSEFE GRUBU 9. DENEME		
1. B	11. C	21. B
2. B	12. D	22. A
3. C	13. D	23. E
4. E	14. C	24. D
5. B	15. E	25. D
6. D	16. E	26. D
7. C	17. E	27. C
8. C	18. C	28. B
9. B	19. D	29. D
10. D	20. D	30. E

COĞRAFYA-2 10. DENEME	
1. B	11. B
2. E	12. C
3. C	13. B
4. B	14. C
5. D	15. C
6. E	16. A
7. D	
8. E	
9. C	
10. B	

COĞRAFYA-2 11. DENEME	
1. D	11. A
2. C	12. D
3. D	13. E
4. E	14. E
5. A	15. E
6. B	16. A
7. E	
8. B	
9. D	
10. C	

COĞRAFYA-2 12. DENEME	
1. C	11. D
2. E	12. B
3. C	13. B
4. B	14. A
5. B	15. E
6. D	16. C
7. B	
8. C	
9. B	
10. D	

FELSEFE GRUBU 10. DENEME		
1. D	11. C	21. C
2. B	12. A	22. A
3. A	13. A	23. D
4. C	14. B	24. C
5. A	15. D	25. C
6. A	16. B	26. E
7. A	17. D	27. B
8. C	18. B	28. B
9. A	19. B	29. E
10. C	20. E	30. E

FELSEFE GRUBU 11. DENEME		
1. D	11. A	21. B
2. A	12. C	22. A
3. B	13. B	23. A
4. A	14. C	24. E
5. A	15. D	25. C
6. B	16. E	26. D
7. C	17. A	27. E
8. A	18. E	28. C
9. C	19. B	29. D
10. E	20. C	30. A

FELSEFE GRUBU 12. DENEME		
1. C	11. A	21. E
2. B	12. C	22. B
3. C	13. A	23. E
4. D	14. C	24. A
5. A	15. D	25. C
6. E	16. C	26. B
7. D	17. A	27. C
8. D	18. D	28. D
9. A	19. E	29. E
10. B	20. B	30. A